

МОСКОВСКИЙ ФИЗИКО-ТЕХНИЧЕСКИЙ ИНСТИТУТ
ОЛИМПИАДА "ФИЗТЕХ" ПО МАТЕМАТИКЕ

11 класс

ВАРИАНТ 3

ШИФР _____

Заполняется ответственным секретарём

1. [3 балла] Углы α и β удовлетворяют равенствам

$$\sin(2\alpha + 2\beta) = -\frac{1}{\sqrt{17}}; \quad \sin(2\alpha + 4\beta) + \sin 2\alpha = -\frac{8}{17}.$$

Найдите все возможные значения $\operatorname{tg} \alpha$, если известно, что он определён и что этих значений не меньше трёх.

2. [4 балла] Решите систему уравнений

$$\begin{cases} 3y - 2x = \sqrt{3xy - 2x - 3y + 2}, \\ 3x^2 + 3y^2 - 6x - 4y = 4. \end{cases}$$

3. [5 баллов] Решите неравенство

$$3^{\log_4(x^2+6x)} + 6x \geq |x^2 + 6x|^{\log_4 5} - x^2.$$

4. [5 баллов] Окружности Ω и ω касаются в точке A внутренним образом. Отрезок AB – диаметр большей окружности Ω , а хорда BC окружности Ω касается ω в точке D . Луч AD повторно пересекает Ω в точке E . Прямая, проходящая через точку E перпендикулярно BC , повторно пересекает Ω в точке F . Найдите радиусы окружностей, угол AFE и площадь треугольника AEF , если известно, что $CD = \frac{5}{2}$, $BD = \frac{13}{2}$.
5. [5 баллов] Функция f определена на множестве положительных рациональных чисел. Известно, что для любых чисел a и b из этого множества выполнено равенство $f(ab) = f(a) + f(b)$, и при этом $f(p) = [p/4]$ для любого простого числа p ($[x]$ обозначает наибольшее целое число, не превосходящее x). Найдите количество пар натуральных чисел $(x; y)$ таких, что $3 \leq x \leq 27$, $3 \leq y \leq 27$ и $f(x/y) < 0$.

6. [5 баллов] Найдите все пары чисел $(a; b)$ такие, что неравенство

$$\frac{4x - 3}{2x - 2} \geq ax + b \geq 8x^2 - 34x + 30$$

выполнено для всех x на промежутке $(1; 3]$.

7. [6 баллов] Дана пирамида $PQRS$, вершина P которой лежит на одной сфере с серединами всех её рёбер, кроме ребра PQ . Известно, что $QR = 2$, $QS = 1$, $PS = \sqrt{2}$. Найдите длину ребра RS . Какой наименьший радиус может иметь сфера, описанная около данной пирамиды?

w 1.

$$\begin{aligned}
 & 1) \text{ По формуле I палемабы } \sin(2\alpha + 2\beta) = -\frac{1}{\sqrt{17}} \\
 & \begin{cases} \cos(2\alpha + 2\beta) = \frac{4}{\sqrt{17}} \\ \cos(2\alpha + 2\beta) = -\frac{4}{\sqrt{17}} \end{cases} \Rightarrow \begin{cases} \sin(4\alpha + 4\beta) = 2 \cdot \frac{4}{\sqrt{17}} \cdot \left(-\frac{1}{\sqrt{17}}\right) = -\frac{8}{17} \\ \sin(4\alpha + 4\beta) = 2 \cdot \left(-\frac{4}{\sqrt{17}}\right) \cdot \left(-\frac{1}{\sqrt{17}}\right) = \frac{8}{17} \end{cases} \cdot \cos(4\alpha + 4\beta) = \\
 & \begin{cases} \sin(4\beta + 4\alpha - 2\alpha) = \sin(4\beta + 4\alpha) \cos(2\alpha) - \cos(4\beta + 4\alpha) \sin(2\alpha) \\ \sin(4\beta + 4\alpha - 2\alpha) = \sin(4\beta + 4\alpha) \cos(2\alpha) - \cos(4\beta + 4\alpha) \sin(2\alpha) \end{cases} \\
 & \begin{cases} \sin(4\beta + 4\alpha) = -\frac{8}{17} \cos(2\alpha) - \frac{15}{17} \sin(2\alpha) \\ \sin(4\beta + 4\alpha) = \frac{8}{17} \cos(2\alpha) - \frac{15}{17} \sin(2\alpha) \end{cases}
 \end{aligned}$$

$$2) \text{ Тогда по II палемабы } \sin(4\beta + 2\alpha) + \sin(2\alpha) = -\frac{8}{17} :$$

$$\begin{cases} -\frac{8}{17} \cos(2\alpha) + \frac{2}{17} \sin(2\alpha) = -\frac{8}{17} \\ \frac{8}{17} \cos(2\alpha) + \frac{2}{17} \sin(2\alpha) = -\frac{8}{17} \end{cases} \Rightarrow \begin{cases} 4 \cos(2\alpha) - \sin(2\alpha) = 4 \\ 4 \cos(2\alpha) + \sin(2\alpha) = -4 \end{cases}$$

Пусть $\cos(\varphi) = \frac{4}{\sqrt{17}}$, $\sin(\varphi) = \frac{4}{\sqrt{17}}$, тогда:

$$\begin{cases} \cos(\varphi) \cos(2\alpha) - \sin(2\alpha) \sin(\varphi) = \cos(\varphi) \\ \cos(\varphi) \cos(2\alpha) + \sin(2\alpha) \sin(\varphi) = -\cos(\varphi) \end{cases}$$

$$\begin{cases} \cos(\varphi + 2\alpha) = \cos(\varphi) \\ \cos(\varphi - 2\alpha) = \cos(\pi - \varphi) \end{cases} \Rightarrow \begin{cases} \varphi + 2\alpha = \varphi + 2\pi n \\ \varphi + 2\alpha = -\varphi + 2\pi n, n \in \mathbb{Z} \\ \varphi - 2\alpha = \pi - \varphi + 2\pi m \\ \varphi - 2\alpha = \varphi - \pi + 2\pi m, m \in \mathbb{Z} \end{cases}$$

$$\begin{cases} \alpha = \pi n \\ \alpha = -\varphi + \pi n = -\arccos\left(\frac{4}{\sqrt{17}}\right) + \pi n \\ \alpha = \varphi - \frac{\pi}{2} + \pi m = \varphi + \frac{\pi}{2} - \pi(m+1) \\ \alpha = \frac{\pi}{2} m - \pi m (k), \text{ т.к. } \cos \alpha \neq 0. \end{cases} \Rightarrow \begin{cases} \operatorname{tg}(\alpha) = 0 \\ \operatorname{tg}(\alpha) = \operatorname{tg}(-\varphi) = -\frac{1}{4} = -0,25 \\ \operatorname{tg}(\alpha) = \operatorname{tg}\left(\varphi + \frac{\pi}{2}\right) = \frac{-(-1)}{4} = 0,25 \end{cases}$$

т.к. период $\operatorname{tg}(x)$ равен π .

Ответ: $-0,25; 0; 0,25$.

w 2.

1) Преобразуем уравнения и сведём их к переменной

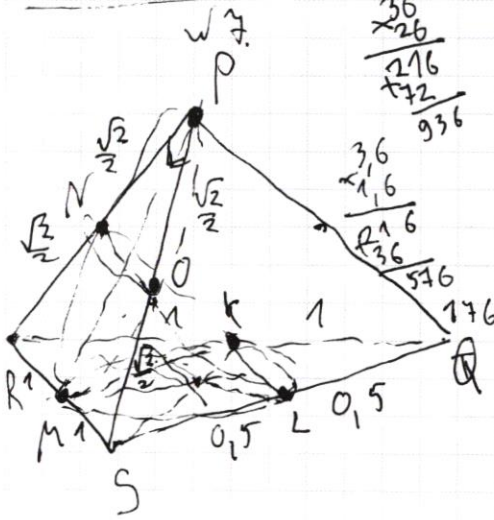
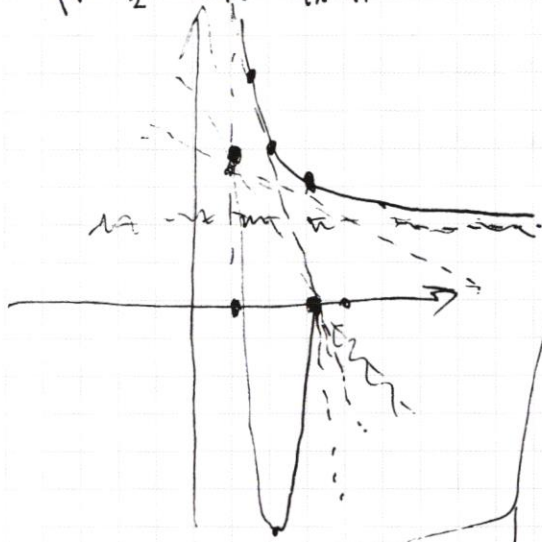
$$a = y - \frac{2}{3}; b = x - 1.$$

ПИСЬМЕННАЯ РАБОТА

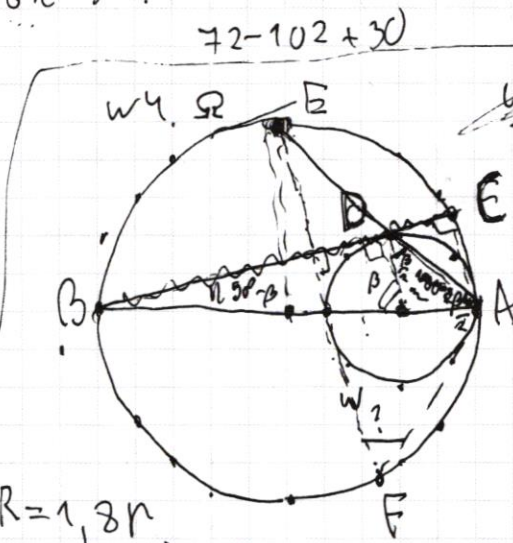
w6.
 $2 + \frac{1}{2x-2} \geq ax+b \geq 8x^2 - 34x + 30$

$2 + \frac{1}{2x-2} \geq 2(4x-5)(x-3)$

$\frac{1}{2} \cdot (-1) \cdot \frac{1-1}{x-1} \geq a \geq 16x-34$



$\frac{3 \cdot 5}{4} = \frac{17}{8} \Rightarrow \frac{17^2}{8} - \frac{17^2}{4} + 30 =$
 $= 30 - \frac{17^2}{8} = \frac{240 - 289}{8} = -\frac{49}{8}$



$R = 1,8r$
 $3R^2 - 2Rr = 4 \cdot 24 - r^2 = \frac{189}{4}$
 $4R^2 - 4Rr - 4r^2 = \frac{13^2}{2^2} \Rightarrow r = \frac{130}{2} = 65$
 $3,6^2 R^2 - 7,2Rr - 4r^2 = \frac{13^2}{2^2}$
 $(3,6 \cdot 1,6 - 4)r^2 = \frac{13^2}{2^2}$
 $r = \frac{13}{2} \sqrt{\frac{1}{1,6}} = \frac{130}{8} = 16,25$
 $R = \frac{65 \cdot 0,9}{2 \sqrt{11 \cdot 10}} = \frac{13,9}{4 \sqrt{11}}$

$\frac{13}{2} = \frac{2R-r}{2R}$
 $\frac{13}{2} = \frac{2R-r}{2R}$
 $36R - 18r = 26R$
 $10R = 18r$
 $R = \frac{18}{10}r = 1,8r$
 $R = \frac{13}{2} \cdot 0,2 \sqrt{19} = 1,3 \sqrt{19}$
 $\frac{1}{\sqrt{109,6}} = \frac{1}{65 \sqrt{109,6}}$
 $\frac{1}{\sqrt{109,6}} = \frac{1}{65 \sqrt{109,6}}$
 $\cos(\beta) = \frac{r}{2R-13} = \frac{65}{13,9-65}$

$\frac{156}{65} = \frac{12}{5}$

ПИСЬМЕННАЯ РАБОТА

$$2) \begin{cases} (3y-2)+2-2(x-1)-2 = \sqrt{x(3y-2)-(3y-2)} \\ x^2 - 2x + 1 - 1 + y^2 - \frac{2}{3}y + \left(\frac{2}{3}\right)^2 - \frac{4}{9} = \frac{4}{9} \end{cases}$$

$$\begin{cases} (3y-2) - 2(x-1) = \sqrt{(x-1)(3y-2)} \\ (x-1)^2 + (y - \frac{2}{3})^2 = \frac{12}{9} + \frac{4}{9} + \frac{4}{9} \end{cases}$$

$$\begin{cases} 3(y - \frac{2}{3}) - 2(x-1) = \sqrt{3(x-1)(y - \frac{2}{3})} \\ (x-1)^2 + (y - \frac{2}{3})^2 = \frac{25}{9} \end{cases} \Rightarrow \begin{cases} 3a - 2b = \sqrt{3ab} & (1) \\ b^2 + a^2 = \frac{25}{9} & (2) \end{cases}$$

3) Решим (1) для \sqrt{ab} и $\sqrt{|a|}$:

$$3(\sqrt{|a|})^2 - \sqrt{3|b|} \cdot \sqrt{|a|} - 2b = 0$$

$$D = 3|b| - 3 \cdot 4 \cdot (-2b) = 3|b| + 24b; \text{ при } b < 0 \text{ имеем } D = 21b < 0, \Rightarrow$$

$$b \geq 0; D = 27b; \text{ но } 3ab \geq 0, \Rightarrow a \geq 0.$$

$$\sqrt{a} = \frac{\sqrt{3b} \pm 3\sqrt{3b}}{6} \geq 0, \Rightarrow \sqrt{a} = \frac{4\sqrt{3b}}{6} = \frac{2}{3}\sqrt{b}; a = \frac{4}{9}b \geq 0.$$

4) Для (2) (учетом $a = \frac{4}{9}b$):

$$\frac{16}{9}b^2 + b^2 = \frac{25}{9}$$

$$b^2 = 1; \text{ т.к. } b \geq 0, \text{ то } b = 1; a = \frac{4}{9}.$$

$$5) y = a + \frac{2}{3} = 2; x = b + 1 = 2.$$

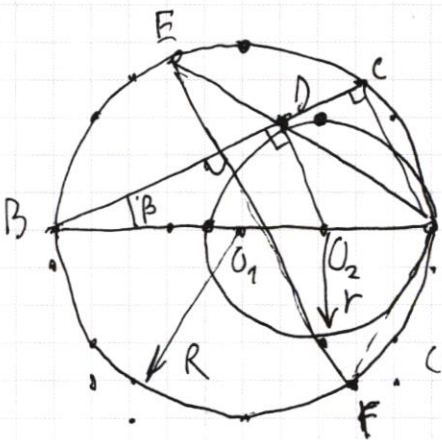
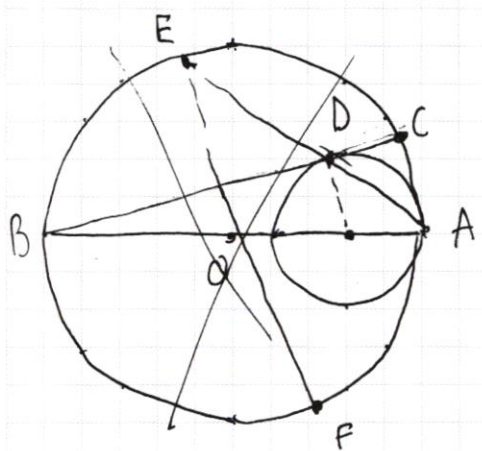
Ответ: (2; 2).

$$\begin{aligned} & \text{w 3.} \\ & {}_3 \log_4(x^2 + 6x) + 6x \geq |x^2 + 6x|^{\log_4 5} - x^2 \\ & {}_3 \log_4(x^2 + 6x) + (x^2 + 6x) \geq |x^2 + 6x|^{\log_4 5} \end{aligned}$$

1) Пусть $b = x^2 + 6x$, тогда по ОДЗ $b > 0; \Rightarrow |b| = b.$

$${}_3 \log_4 b + b \geq |b|^{\log_4 5}; \text{ логарифмируем по } b:$$

и ч.



1) По теореме Пифагора

для $\triangle BDO_2$:
 $A (2R-r)^2 = r^2 + \left(\frac{13}{2}\right)^2$

2) По определению:

$$\cos(\beta) = \frac{BR \text{ или } 13}{2(2R-r)} = \frac{9}{2R}$$

для $\triangle BDO_2$ и $\triangle B(A)$ прямоугольных

($\angle B(A)$ на диаметр опирается; $DO_2 \perp BC$, т.к. касание), \Rightarrow

$$2,6R = 3,6R - 1,8r$$

$$R = 1,8r, \Rightarrow$$

~~(2,6R)~~

$$(2,6r)^2 - r^2 = \left(\frac{13}{2}\right)^2$$

$$1,6 \cdot 3,6 r^2 = \left(\frac{13}{2}\right)^2; r = \frac{13}{2} \cdot \frac{10}{4 \cdot 6} = \frac{65}{24}; R = 1,8r = \frac{65 \cdot 1,8}{24} = \frac{13 \cdot 9}{24} = \frac{39}{8}$$

$$3) \sin(\beta) = \frac{r}{2R-r} = \frac{65}{2 \cdot 3 \cdot 39 - 65} = \frac{65}{91}, \Rightarrow$$

Итого: $r = \frac{65}{24}; R = \frac{39}{8} \dots$

ПИСЬМЕННАЯ РАБОТА

$$2) \begin{cases} b > 1 \\ \log_b 3 \cdot \log_b b + 1 \geq \log_b 5 \end{cases} \begin{cases} b > 1 \\ \log_b 3 + 1 \geq \log_b 5 \text{ (ч), н.к. } 3 \cdot 4 \geq 5 \end{cases}$$

$$\begin{cases} b < 1 \\ \log_b 3 \cdot \log_b b + 1 \leq \log_b 5 \end{cases} \begin{cases} b < 1 \\ \log_b 3 + 1 \leq \log_b 5 \text{ (ч), н.к. } 3 \cdot 4 \geq 5. \end{cases}$$

$$b=1; 3^{\log_b 1} + 6 \cdot 1 \geq 1^{\log_b 5}; 1+6 \geq 1 \text{ (ч)}$$

3) \Rightarrow имеем $b \geq 1$.

$$x^2 + 6x \geq 1$$

$$(x^2 + 6x - 1) \geq 0$$

$$D = 36 + 4 = 40$$

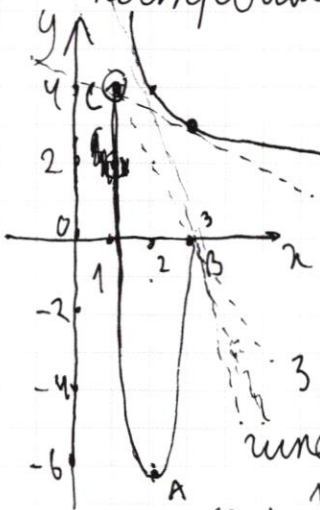
$$x_{1,2} = \frac{-6 \pm \sqrt{40}}{2} = -3 \pm \sqrt{10}, \Rightarrow x \in (-\infty; -3 - \sqrt{10}] \cup [-3 + \sqrt{10}; +\infty).$$

Ответ: $x \in (-\infty; -3 - \sqrt{10}] \cup [-3 + \sqrt{10}; +\infty)$.

и б.

$$1) 2 + \frac{1}{2x-2} \geq ax+b \geq 2(4x-5)(x-3) \text{ по Виетту; } \Rightarrow$$

построим графики этих функций для $x \in (1; 3]$:



2) $m.B \in y = 2(4x-5)(x-3)$

$$m.B (1; 3-3 \cdot 4+30) \Rightarrow B(1; 4);$$

$m.A(\frac{5+12}{4 \cdot 2}; -\frac{49}{8})$ - вершина параболы

$$m.C(3; 72-10 \cdot 3+30) \Rightarrow C(3; 0).$$

3) Рассмотрим случай касания прямой $ax+b=y$

гиперболы при прохождении прямой через $m.B$:

$$\begin{cases} 2 + \frac{1}{2x-2} = ax+b & 4x-4+1 = (ax-3a)(2x-2) \\ 0 = 3a+b & 2ax^2 - (3a+4)x + 6a+3 = 0 \end{cases}$$

$$\begin{aligned}
 D &= 4^2(2a+1)^2 - 4 \cdot 2a(6a+3) = 16(4a^2+4a+1) - 48a^2 - 24a = 16a^2 + 40a + 16 - 48a^2 - 24a = \\
 &= 16(a+1)^2 - 8a(6a+3) = 4(4a^2 + 10a + 25) - 48a^2 - 24a = 4(a+5)^2 - 48a^2 - 24a = \\
 &= (4a+5)^2 - 3^2 = (4a+2)(4a+8) ; a = -\frac{1}{2} \text{ или } a = -2 ; a = -\frac{1}{2} \text{ не подходит} \\
 &\text{левой части гиперболы, } \Rightarrow a_1 = -2 ; b_1 = \frac{2}{3}.
 \end{aligned}$$

и) Рассмотрим случай касания $y = ax + b$ с гиперболой, при прохождении прямой через т. $B(1; 4)$:

$$\begin{cases}
 2 + \frac{1}{2(a-1)} = ax + b & b = 4 - a, \Rightarrow \\
 \text{или } 4 = a + b & 1 = 2ax(x-1) + (2-a)(x-1) \cdot 2 \\
 & 2ax^2 - 2ax + 2(ax + 2x + a - 2) - 1 = 0
 \end{cases}$$

$$2ax^2 - (4a-4)x + 2a-5 = 0$$

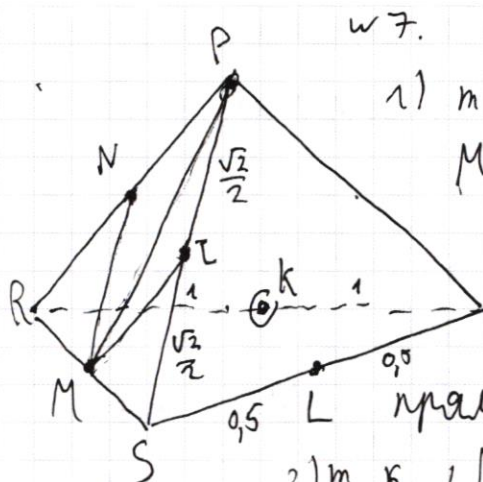
$$D = 16(a-1)^2 - 8a(2a-5) = 16a^2 - 32a + 16 - 16a^2 + 40a = 8a + 16 = 0 \text{ при}$$

$$a_2 = -2 ; b_2 = 6.$$

$$5) \Rightarrow \text{при } a = -2 ; b \in \left[\frac{2}{3}; 6\right].$$

$$\text{Ответ: } a = -2 ; b \in \left[\frac{2}{3}; 6\right].$$

ПИСЬМЕННАЯ РАБОТА



w 7.

1) т.к. ML - средняя линия RSP , то $ML \parallel PR$, тогда $ML = \frac{RP}{2} = NP$, $\Rightarrow MNPЛ$ - вписанный параллелограмм (т.к. точки принадлежат сфере и ортогональны из её сечений) \Rightarrow параллелограмм.

2) т.к. $\angle NPL = 90^\circ$, то $PM = \frac{RS}{2}$ т.к. медиана

к гипотенузе,

у5.

1) Пусть $c=ab$, тогда $f(c) = f(a) + f(\frac{c}{a})$; $f(\frac{c}{a}) = f(c) - f(a)$.

2) Рассмотрим все возможные числа:

$f(2) = f(3) = f(4) = f(6) = f(9) = f(12) = f(18) = f(24) = 0$, м.к.

$f(2) = f(3) = 0$, и обратная симметричность;

$f(5) = f(7) = f(10) = f(14) = f(15) = f(20) = f(21) = 1$, м.к. содержат в

произведении симметричные "5" или "7";

$f(11) = f(25) = f(22) = 2$; $f(13) = f(26) = 3$; $f(17) = 4 = f(19)$; $f(23) = 5$;

3) Тогда для $b=23$ имеем $27-3+1=25$ возможных a ; для

$b=17$ или $b=19$ имеем $27-3+1-3=22$ возможных a ; для $b=13$ или $b=26$

имеем $27-3+1-1-2-2=20$ значений a ; для $b=11$ или $b=22$ или

$b=25$ имеем $27-3+1-5-3=17$ значений a ; для b таких, что

$f(b)=1$ имеем 10 значений a , \Rightarrow

всего пар $24 \cdot 1 + 2 \cdot 22 + 2 \cdot 20 + 3 \cdot 17 + 7 \cdot 10 = 24 + 44 + 40 + 51 + 70 =$

$= 68 + 161 = 229$ пар (м.к. $f(\frac{c}{a}) = f(c) - f(a)$, то $f(\frac{c}{a}) < 0$

при $f(a) > f(c)$).

Ответ: 229 пар

ПИСЬМЕННАЯ РАБОТА

$$\begin{aligned} \cos(2\alpha + 2\beta) &= \pm \frac{4}{\sqrt{17}} \begin{matrix} \oplus \\ \ominus \end{matrix} \\ \sin(2\alpha + 4\beta) &= -\frac{1}{\sqrt{17}} \cos(2\beta) + \frac{4}{\sqrt{17}} \sin(2\beta) \\ \sin(2\alpha + 4\beta) &= -\frac{1}{\sqrt{17}} \cos(2\beta) - \frac{4}{\sqrt{17}} \sin(2\beta) \\ \frac{1}{\sqrt{17}} (4\sin(2\beta) - \cos(2\beta) + \sqrt{17} \sin(2\alpha)) \end{aligned}$$

$$\begin{aligned} \sin(4\alpha + 4\beta) &= -\frac{8}{17} \oplus \\ \sin(4\alpha + 4\beta) &= \frac{8}{17} \ominus \\ \cos(4\alpha + 2\beta) &= 2 \cdot \frac{16}{17} - 1 = \frac{15}{17} \end{aligned}$$

$$\begin{aligned} \sin(2\alpha + 4\beta) &= \sin(4\alpha + 4\beta - 2\alpha) = \frac{8}{17} \cos(2\alpha) - \frac{15}{17} \sin(2\alpha) \oplus \\ \sin(2\alpha + 4\beta) &= \frac{8}{17} \cos(2\alpha) - \frac{15}{17} \sin(2\alpha) \ominus \end{aligned}$$

$$\begin{aligned} \frac{8}{17} \cos(2\alpha) + \frac{2}{17} \sin(2\alpha) &= -\frac{8}{17} \oplus \\ \frac{8}{17} \cos(2\alpha) + \frac{2}{17} \sin(2\alpha) &= -\frac{8}{17} \ominus \\ 4 \cos(2\alpha) - \sin(2\alpha) &= 4 \oplus \\ 4 \cos(2\alpha) - \sin(2\alpha) &= -4 \ominus \end{aligned}$$

$$\begin{aligned} \left(\frac{4}{\sqrt{17}} \cos(2\alpha) - \frac{1}{\sqrt{17}} \sin(2\alpha) \right) &= \frac{4}{\sqrt{17}} \\ \left(\frac{4}{\sqrt{17}} \cos(2\alpha) - \frac{1}{\sqrt{17}} \sin(2\alpha) \right) &= -\frac{4}{\sqrt{17}} \end{aligned}$$

$\cos(\varphi) = \frac{4}{\sqrt{17}}; \sin(\varphi) = -\frac{1}{\sqrt{17}}, \text{ mod}$

$$\frac{\sin(\varphi - 2\alpha)}{\cos(2\alpha + \varphi)} = \pm \frac{4}{\sqrt{17}}$$

$$2\alpha + \varphi = \pm \arccos\left(\frac{4}{\sqrt{17}}\right) + \pi n, n \in \mathbb{Z}$$

$$2\alpha = \pm|\varphi| - \varphi + \pi n$$

$$\varphi > 0 \begin{cases} \text{mod} & \alpha = \frac{\pi n}{2}, \text{ tg}(\alpha) = 0 \text{ при } \alpha = \pi m (m \in \mathbb{Z}) \\ \text{mod} & \alpha = \varphi + \frac{\pi n}{2}, \text{ tg}(\alpha) = \text{tg}(\varphi) \end{cases}$$

$$\varphi < 0, \Rightarrow$$

$$2\alpha = \mp \varphi - \varphi + \pi n$$

$$\begin{aligned} \left[\alpha = -\varphi + \frac{\pi n}{2}; \right. & \left[\text{tg}(\alpha) = \text{tg}(-\varphi) = -\frac{\sin(\varphi)}{\cos(\varphi)} = 0,25. \right. \\ \left. \alpha = \frac{\pi n}{2}, \text{ mod } \alpha = \pi m (m \in \mathbb{Z}), \text{ tg}(\alpha) = 0 \right. & \left. \left[\text{tg}(\alpha) = \text{tg}\left(\frac{\pi}{2} - \varphi\right) = \frac{\sin\left(\frac{\pi}{2} - \varphi\right)}{\cos\left(\frac{\pi}{2} - \varphi\right)} = \frac{\cos(\varphi)}{-\sin(-\varphi)} = -0,25. \right. \end{aligned}$$

w2.

$$3y - 2x = \sqrt{x(3y-2) - (3y-2)}$$

$$3y - 2x = \sqrt{(3y-2)(x-1)} \quad (3y-2) + 2 - 2(x-1) - 2 = \sqrt{(3y-2)(x-1)}$$

$$3x^2 - 6x + 3y^2 - 4y = 4$$

$$x^2 - 2x + y^2 - \frac{4}{3}y = \frac{4}{3}$$

$$(x-1)^2 + (y - \frac{2}{3})^2 = \frac{4}{3}$$

$$(x-1)^2 + (y - \frac{2}{3})^2 = (\frac{5}{3})^2$$

$$(x-1)^2 + (y - \frac{2}{3})^2 = (\frac{5}{3})^2$$

$$\begin{cases} a^2 + b^2 = (\frac{5}{3})^2 \\ 3a - 2b = \sqrt{3ab} \end{cases}$$

$$\begin{cases} a^2 + b^2 = (\frac{5}{3})^2 \\ 3a - \sqrt{3ab} - 2b = 0 \end{cases}$$

$$(3y-2) - 2(x-1) = \sqrt{(3y-2)(x-1)}$$

$$3(y - \frac{2}{3}) - 2(x-1) = \sqrt{(3y-2)(x-1)}$$

$$9(y - \frac{2}{3})^2 - 12(y - \frac{2}{3})(x-1) + 4(x-1)^2 = 0$$

$$y - \frac{2}{3} = a; \quad x - 1 = b$$

$$\begin{cases} 3a - 2b = \sqrt{3ab} \\ a^2 + b^2 = \frac{25}{9} \end{cases}$$

$$\begin{aligned} a &= 3|b| + 24b = \begin{cases} 27b \\ 21b \end{cases} \Rightarrow b \geq 0, \\ &\Rightarrow a = 27b. \Rightarrow a \geq 0. \end{aligned}$$

w3.

$$x^2 + 6x \geq (x^2 + 6x)^{\log_4 b}$$

$$x^2 + 6x = b > 0$$

$$3 \log_4 b + b \geq (b)^{\log_4 5} \quad b > 1$$

$$\log_4(b) \cdot \log_b(3) + \log_4 1 \geq \log_4 5$$

$$4 \log_4(b) \cdot \log_b(3) \cdot 4 \geq 5$$

$$b \log_b 3 \cdot 4 \geq 5$$

$$3 \cdot 4 \geq 5$$

$$12 \geq 5 \quad (u, v \Rightarrow b > 0; x^2 + 6x > 0; x \in (-\infty; -6) \cup (0; +\infty).$$

$$\sqrt{|a|} = \frac{\sqrt{3b} \pm 3\sqrt{3b}}{6} \cdot a$$

$$\sqrt{|a|} = \begin{cases} -\sqrt{\frac{b}{3}} \\ 2\sqrt{\frac{b}{3}} \end{cases} \Rightarrow |a| = 4 \frac{b}{3}; \quad a \geq 0, \Rightarrow a = \frac{4}{3}b$$

$$a^2 + b^2 = \frac{16}{9}b^2 + b^2 = \frac{25}{9}b^2 \Rightarrow y - \frac{2}{3} = \frac{4}{3}x - \frac{2}{3}$$

$$b^2 = 1 \Rightarrow y = \frac{4}{3}x - \frac{2}{3}$$

$$b = 1 \Rightarrow x = 2$$

$$a = \frac{4}{3} \Rightarrow y = 2$$

w5.

$$ab = c, mo \quad f(c) = f(a) + f(\frac{c}{a}) \quad f(abc) = f(ab) + f(c) = f(a) + f(b) + f(c)$$

$$f(\frac{c}{a}) = f(c) - f(a)$$

$$x = 2 \cdot 3 \cdot 5 \cdot 7 \cdot 11 \cdot 13 \cdot 17 \cdot 19 \cdot 23, \quad mo \quad f(x) = a_1 f(2) + a_2 f(3) + a_3 f(5) + \dots + a_n f(23) =$$

$$y = 2 \cdot 3 \cdot 5 \cdot 7 \cdot 11 \cdot 13 \cdot 17 \cdot 19 \cdot 23$$

$$= c_1 + c_2 + 2c_3 + 3c_4 + 4c_5 + 5c_6$$