

МОСКОВСКИЙ ФИЗИКО-ТЕХНИЧЕСКИЙ ИНСТИТУТ
ОЛИМПИАДА "ФИЗТЕХ" ПО МАТЕМАТИКЕ

11 класс

ВАРИАНТ 3

ШИФР _____

Заполняется ответственным секретарём

1. [3 балла] Углы α и β удовлетворяют равенствам

$$\sin(2\alpha + 2\beta) = -\frac{1}{\sqrt{17}}; \quad \sin(2\alpha + 4\beta) + \sin 2\alpha = -\frac{8}{17}.$$

Найдите все возможные значения $\operatorname{tg} \alpha$, если известно, что он определён и что этих значений не меньше трёх.

2. [4 балла] Решите систему уравнений

$$\begin{cases} 3y - 2x = \sqrt{3xy - 2x - 3y + 2}, \\ 3x^2 + 3y^2 - 6x - 4y = 4. \end{cases}$$

3. [5 баллов] Решите неравенство

$$3^{\log_4(x^2+6x)} + 6x \geq |x^2 + 6x|^{\log_4 5} - x^2.$$

4. [5 баллов] Окружности Ω и ω касаются в точке A внутренним образом. Отрезок AB – диаметр большей окружности Ω , а хорда BC окружности Ω касается ω в точке D . Луч AD повторно пересекает Ω в точке E . Прямая, проходящая через точку E перпендикулярно BC , повторно пересекает Ω в точке F . Найдите радиусы окружностей, угол AFE и площадь треугольника AEF , если известно, что $CD = \frac{5}{2}$, $BD = \frac{13}{2}$.
5. [5 баллов] Функция f определена на множестве положительных рациональных чисел. Известно, что для любых чисел a и b из этого множества выполнено равенство $f(ab) = f(a) + f(b)$, и при этом $f(p) = [p/4]$ для любого простого числа p ($[x]$ обозначает наибольшее целое число, не превосходящее x). Найдите количество пар натуральных чисел $(x; y)$ таких, что $3 \leq x \leq 27$, $3 \leq y \leq 27$ и $f(x/y) < 0$.

6. [5 баллов] Найдите все пары чисел $(a; b)$ такие, что неравенство

$$\frac{4x - 3}{2x - 2} \geq ax + b \geq 8x^2 - 34x + 30$$

выполнено для всех x на промежутке $(1; 3]$.

7. [6 баллов] Дана пирамида $PQRS$, вершина P которой лежит на одной сфере с серединами всех её рёбер, кроме ребра PQ . Известно, что $QR = 2$, $QS = 1$, $PS = \sqrt{2}$. Найдите длину ребра RS . Какой наименьший радиус может иметь сфера, описанная около данной пирамиды?

ПИСЬМЕННАЯ РАБОТА

№5

Т.к. $f(ab) = f(a) + f(b)$, то $f\left(\frac{x}{y}\right) = f(x) + f\left(\frac{1}{y}\right)$.

~~$f\left(\frac{1}{y}\right)$~~ Также $f(y) = f(y^2) + f\left(\frac{1}{y}\right)$, а $f(y^2) = f(y) + f(y)$,
то есть $f(y) = f(y) + f(y) + f\left(\frac{1}{y}\right) \Rightarrow f\left(\frac{1}{y}\right) = -f(y)$, а

тогда

$f\left(\frac{x}{y}\right) = f(x) + f\left(\frac{1}{y}\right) = f(x) - f(y)$, т.к. $f\left(\frac{x}{y}\right) < 0$, то
 $f(x) - f(y) < 0 \Rightarrow f(y) > f(x)$ - нужно найти кон-во

~~такая пара чисел~~
 ~~$f(x) \neq f(y) \neq 0$~~

т.к. $f(p) = \left\lfloor \frac{p}{4} \right\rfloor$, то $f(2) = \left\lfloor \frac{2}{4} \right\rfloor = 0$, $f(3) = \left\lfloor \frac{3}{4} \right\rfloor = 0$,
 $f(5) = \left\lfloor \frac{5}{4} \right\rfloor = 1$, $f(7) = \left\lfloor \frac{7}{4} \right\rfloor = 1$, тогда найдем все $f(x)$, где
 $x \in [3; 27]$

$$f(8) = \left\lfloor \frac{8}{4} \right\rfloor = 2, \quad f(4) = f(2) + f(2) = 0$$

$$f(13) = \left\lfloor \frac{13}{4} \right\rfloor = 3, \quad f(6) = f(2) + f(3) = 0$$

$$f(17) = \left\lfloor \frac{17}{4} \right\rfloor = 4, \quad f(8) = f(2) + f(4) = 0$$

$$f(19) = \left\lfloor \frac{19}{4} \right\rfloor = 4, \quad f(9) = f(3) + f(3) = 0$$

$$f(23) = \left\lfloor \frac{23}{4} \right\rfloor = 5, \quad f(10) = f(2) + f(5) = 1$$

$$f(15) = f(3) + f(5) = 1, \quad f(12) = f(4) + f(3) = 0$$

$$f(16) = f(4) + f(4) = 0, \quad f(14) = f(2) + f(7) = 1$$

$$f(18) = f(2) + f(9) = 0, \quad f(21) = f(3) + f(7) = 1$$

$$f(20) = f(4) + f(5) = 1, \quad f(22) = f(2) + f(11) = 2$$

$$f(24) = f(2) + f(12) = 0, \quad f(25) = f(5) + f(5) = 2$$

$$f(26) = f(2) + f(13) = 3, \quad f(27) = f(3) + f(9) = 0$$

Нам надо все $f(x) \neq 0$, также надо, что

$f(y) > f(x)$. $f(x)$ может принимать значения

$\{0; 1; 2; 3; 4; 5\}$, при $x \in [3; 27]$, тогда

надо пара $(x; y)$, такие:

~~$f(x) = 1$~~ $f(y) = \{1; 2; 3; 4; 5\}$ или $f(y) = \{2; 3; 4; 5\}$
 ~~$f(x) = 0$~~ $f(x) = 1$

и т.д.

Кон-во чисел, таких, что $f(x)=0$ - 10 чисел

$$f(x)=1 - 7 \text{ чис}$$

$$f(x)=2 - 3$$

$$f(x)=3 - 2$$

$$f(x)=4 - 2$$

$$f(x)=5 - 1$$

Тогда, кон-во пар, где $\begin{cases} f(x)=0 \\ f(y)=\{1,2,3,4,5\} \end{cases} : \underbrace{10}_{f(x=0)} \cdot \underbrace{(7+3+2+2+1)}_{f(y)=\{1,2,3,4,5\}} = 10 \cdot 15 = 150$

$$\begin{cases} f(x)=1 \\ f(y)=\{2,3,4,5\} \end{cases} : 7 \cdot (3+2+2+1) = 7 \cdot 8 = 56$$

$$\begin{cases} f(x)=2 \\ f(y)=\{3,4,5\} \end{cases} : 3(2+2+1) = 3 \cdot 5 = 15$$

$$\begin{cases} f(x)=3 \\ f(y)=\{4,5\} \end{cases} : 2(2+1) = 6$$

$\begin{cases} f(x)=4 \\ f(y)=5 \end{cases} : 2 \cdot 1 = 2$. Тогда общ. кон-во пар:

$$150 + 56 + 15 + 6 + 2 = 229$$

Ответ: 229.

№6 $\frac{4x-3}{2x-2} \geq ax+6 \Rightarrow 8x^2-34x+30$. Изобр. графики данных

Ф-та: $f(x) = \frac{4x-3}{2x-2} = 2 + \frac{1}{2x-2}$; $g(x) = 8x^2-34x+30=0$

$$D = 17^2 - 8 \cdot 30 = 49 = 7^2$$

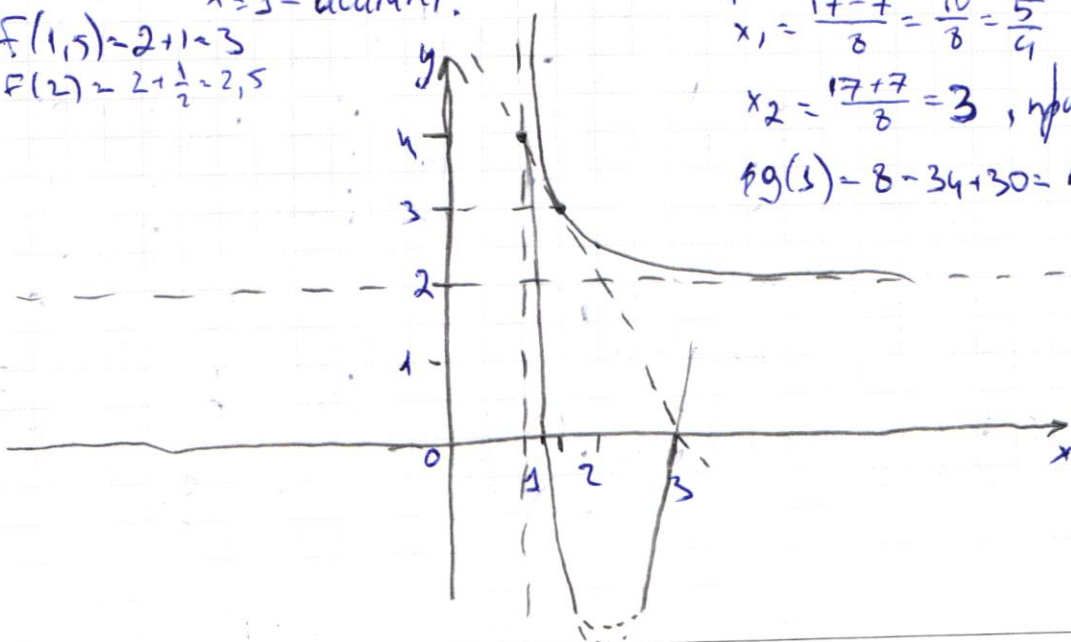
$$x_1 = \frac{17-7}{8} = \frac{10}{8} = \frac{5}{4}$$

$$x_2 = \frac{17+7}{8} = 3, \text{ притом}$$

$$g(3) = 8 - 34 + 30 = 4$$

$$f(1,5) = 2 + 1 = 3$$

$$f(2) = 2 + \frac{1}{2} = 2,5$$



ПИСЬМЕННАЯ РАБОТА

У данных f -й есть ключевые точки

$$f(1,5) = 3$$

$$g(1) = 4$$

$$g(3) = 0$$

$ax + b$ - прямая.

Заметим, что точки $(2; 4); (1,5; 3); (3; 0)$ лежат на одной прямой $y = -2x + 6$. то есть

при $a = -2$ и $b = 6$ нер-во выполняется


Приём, т.к. $F' = \left(2 + \frac{1}{2x-2}\right)' = \frac{1}{2} \left(\frac{1}{x-1}\right)' = -\frac{1}{2(x-1)^2}$, в т. 1,5

$$F'(1,5) = -\frac{1}{2(0,5)^2} = -\frac{1}{0,5} = -2, \text{ то есть график}$$

$y = -2x + 6$ касается этой гиперболы

При смещении прямой $-2x + 6$ вверх или вниз (уменьш и увелич b),

очевидно, что нерав-во перестанет быть верным:



При изменении угла наклона

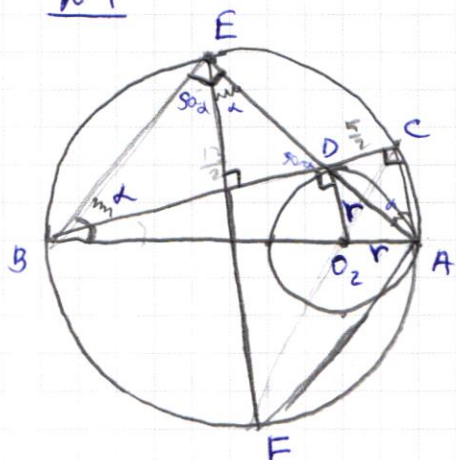
произойдет такая же ситуация

Значит такое нер-во выполняется, только

если $a = -2$ и $b = 6$

Ответ: $a = -2$
 $b = 6.$

№4



Дано: Ω и ω кас. в т. А.

AB - диам. Ω
 BC - хорда Ω
 BC - кас. ω в т. D.
 $AD \cap \Omega = E$
 $EF \perp BC$; $F \in \Omega$
 Найти: R - ?
 r - ?
 если $CD = \frac{5}{2}$
 $BD = \frac{13}{2}$

Решение:

Проведем O_2D - радиусе ω , тогда т.к. BC - касат., то $O_2D \perp BC$

т.к. AB - диам., то $\triangle ABC$ - прямоугол.; $\angle ACB = 90^\circ$

Тогда рассм. $\triangle BDO_2$ и $\triangle BCA$.

1) $\angle B$ - общ.
 2) $\angle BDO_2 = \angle BCA = 90^\circ \Rightarrow \triangle BDO_2 \sim \triangle BCA$.

Тогда $\frac{BD}{BC} = \frac{BO_2}{BA}$; $BC = BD + DC = \frac{13}{2} + \frac{5}{2} = 9$.

Пусть $BA = 2R$ - R - радиусе Ω
 $BO_2 = AB - r = 2R - r$ - радиусе ω .

Тогда $\frac{13}{9} = \frac{2R - r}{2R} \Rightarrow \frac{13}{18} \cdot 2R = 2 - \frac{r}{2R} = 1$

$\frac{r}{2R} = 1 - \frac{13}{18} = \frac{5}{18} \Rightarrow \frac{r}{R} = \frac{5}{9} \Rightarrow r = \frac{5}{9}R$

Тогда по т. Пифагора для $\triangle BDO_2$

$$BD^2 + O_2D^2 = BO_2^2$$

$$\left(\frac{13}{2}\right)^2 + r^2 = (2R - r)^2$$

$$\frac{169}{4} + r^2 = 4R^2 - 4Rr + r^2, \text{ т.к. } r = \frac{5}{9}R, \text{ то}$$

$$4R^2 - 4R \cdot \frac{5}{9}R = \frac{169}{4}$$

$$\left(4 - \frac{20}{9}\right)R^2 = \frac{169}{4} = \left(\frac{13}{2}\right)^2 \Rightarrow R^2 = \left(\frac{13}{2}\right)^2 \cdot \frac{3}{4} = \left(\frac{13 \cdot 3}{2 \cdot 2}\right)^2 \Rightarrow R = \frac{13 \cdot 3}{2 \cdot 2} = \frac{39}{4}$$

ПИСЬМЕННАЯ РАБОТА

и продолж. $R = \frac{39}{8}$

$$\text{Тогда } r = \frac{5}{3} R = \frac{5}{3} \cdot \frac{39}{8} = \frac{65}{8}$$

2) Заметим, что $\angle AFE = \angle ABE$ (оцир. на дугу EA)

$$\angle ABE = \angle ABC + \angle CBE.$$

Пусть $\angle CBE = \alpha$, тогда, т.к. $EF \perp BC$, то $\angle BEF = 90^\circ - \alpha \Rightarrow$

$\Rightarrow \angle DEF = 90^\circ - (90^\circ - \alpha) = \alpha$, т.к. $\angle AEB = 90^\circ$ (оцир. на дугу AB)

Тогда $\angle BDE = 90^\circ - \alpha = \angle CDA$ (вертик.), тогда т.к. $\angle DCA = 90^\circ$, то

$$\angle CAD = \alpha.$$

Тогда $\angle CBE = \angle CAD = \alpha$, то есть $\angle AFE = \angle ABC + \angle CAD$.

$$\operatorname{tg} \angle ABC = \frac{AC}{CB} = \frac{CD}{DB} = \frac{r}{DB} = \frac{65}{24} : 2 = \frac{65}{48} = \frac{5}{12}$$

$\operatorname{tg} \angle CAD = \frac{CD}{AC}$. Найдем AC по теор. Пиф. $\triangle ABC$

$$AC^2 = AB^2 - BC^2 = (2R)^2 - 9^2 = \left(2 \cdot \frac{39}{8}\right)^2 - 9^2 = \left(\frac{39}{4}\right)^2 - 9^2 = \left(\frac{1521}{16}\right) - 81$$

$$= 9 \left(\left(2 \cdot \frac{39}{8}\right)^2 - 9^2 \right) = \frac{39^2}{4} - 9^2 = 3^2 \left(\frac{13^2}{4} - 3^2 \right) =$$

$$= 9 \left(\frac{169 - 144}{16} \right) = 9 \left(\frac{25}{16} \right) = 9 \cdot \frac{25}{16} = \frac{3^2 \cdot 5^2}{4^2} \Rightarrow AC = \frac{3 \cdot 5}{4} = \frac{15}{4}$$

$$\text{Тогда } \operatorname{tg} \angle CAD = \frac{5}{2} : \frac{15}{4} = \frac{5}{8} \cdot \frac{4}{15} = \frac{2}{3}$$

$$\text{Тогда } \operatorname{tg} \angle AFE = \frac{\operatorname{tg}(\angle CAD) + \operatorname{tg}(\angle ABC)}{1 - \operatorname{tg}(\angle CAD)\operatorname{tg}(\angle ABC)} = \frac{\frac{5}{12} + \frac{2}{3}}{1 - \frac{5}{12} \cdot \frac{2}{3}} = \frac{\frac{13}{12}}{\frac{36-10}{36}}$$

$$= \frac{13}{12} : \frac{26}{36} = \frac{13 \cdot 36}{12 \cdot 26} = \frac{3}{2} \Rightarrow \angle AFE = \operatorname{arctg} \frac{3}{2}$$

$$\text{Ответ: } R = \frac{39}{8}, r = \frac{65}{8}, \angle AFE = \operatorname{arctg} \frac{3}{2}$$

3) Заметим, что $\triangle AFE = \triangle ABE \Rightarrow S(AFE) = S(ABE)$

$$S(\triangle ABE) = \frac{1}{2} BE \cdot AE.$$

Т.к. $\operatorname{tg} \angle ABE = \frac{3}{2}$, то $\frac{AE}{BE} = \frac{3}{2}$. Тогда пусть $BE = 2x$
 $AE = 3x$, то

по теор. Пифаг. для $\triangle AEB$

$$9x^2 + 4x^2 = AB^2 \Rightarrow 13x^2 = \frac{AB^2}{13^2}; AB = 2R = \frac{39}{4} = \frac{3}{4} \cdot 13, \text{ тогда}$$

$$x^2 = \frac{13^2 \cdot \frac{9}{16}}{13^2} = \frac{9}{16} \Rightarrow x = \frac{3}{4}, \text{ тогда } BE = \frac{3}{2}$$

$$AE = \frac{9}{4}.$$

Тогда $S(\triangle ABE) = S(\triangle AFE) = \frac{1}{2} \cdot \frac{3}{2} \cdot \frac{9}{4} = \frac{27}{16}$

Объем: $R = \frac{39}{2}, r = \frac{65}{24}; \angle AFE = \arctg \frac{3}{2}$

$$S(\triangle AFE) = \frac{27}{16}.$$

№2

$$\begin{cases} 3y - 2x = \sqrt{3xy - 2x - 3y + 2} \\ 3x^2 + 3y^2 - 6x - 4y = 4. \end{cases} \text{ Расем. 2-е ур-е.}$$

$$3x^2 + 3y^2 - 6x - 4y = 4 \quad | :3$$

$$x^2 + y^2 - 2x - \frac{4}{3}y = \frac{4}{3}$$

$$x^2 - 2x + 1 + y^2 - 2 \cdot \frac{2}{3}y + \left(\frac{2}{3}\right)^2 = \frac{4}{3} + 1 + \left(\frac{2}{3}\right)^2$$

$$(x-1)^2 + \left(y - \frac{2}{3}\right)^2 = \frac{12+4+9}{9} = \frac{25}{9} = \left(\frac{5}{3}\right)^2 \text{ - окружность с ц. в т. } O\left(1; \frac{2}{3}\right) \text{ и } R = \frac{5}{3}.$$

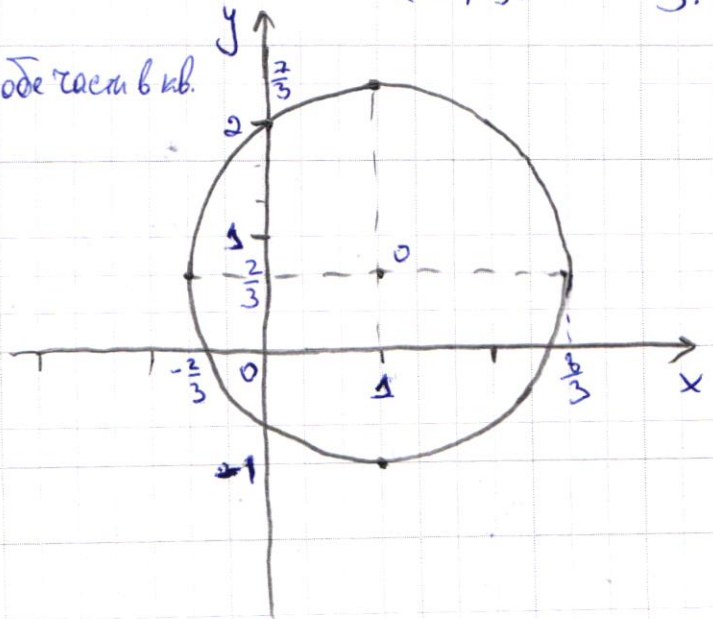
Из перв. ур-я: $3y - 2x \geq 0$

$y \leq \frac{2}{3}x$, возм. обе части в кв.

$$(3y - 2x)^2 = 3xy - 2x - 3y + 2$$

$$9y^2 - 12xy + 4x^2 = 3xy - 2x - 3y + 2$$

$$9y^2 - 15xy + 4x^2 + 2x + 3y - 2 = 0$$



ПИСЬМЕННАЯ РАБОТА

$$\frac{\sqrt{3}}{3} \log_4(x^2+6x) + 6x \geq |x^2+6x| \log_4 5 - x^2.$$

Опр.: $x^2+6x > 0$ (логарифмируем выраж. колоч.)

Тогда $|x^2+6x| = x^2+6x$

Пусть $x^2+6x = t$, тогда $t > 0$

$$3 \log_4 t + t \geq t \log_4 5; \quad \cancel{3 \log_4 t}$$

$$3 \log_4 t \geq t (\log_4 5 - 1). \quad \text{Заметим, что } \log_4 5 - 1 < 0, \text{ тогда}$$

$$t \log_4 5 < 1 \Rightarrow t \log_4 5 - 1 < 0$$

Тогда, т.к. $t > 0$, то правая часть выражения всегда отрицательна, а левая наоборот, положительна.

Тогда нерав-во всегда выполняется внутри ОДЗ, то

$$\begin{aligned} \text{есть } & x^2+6x > 0 \\ & x(x+6) > 0 \\ & x \in (-\infty; -6) \cup (0; +\infty) \end{aligned}$$

Ответ: $x \in (-\infty; -6) \cup (0; +\infty)$.

$$\underline{\text{н1}} \cdot \sin(\alpha+2\beta) = \frac{-1}{\sqrt{17}} \Rightarrow \cos(\alpha+2\beta) = \pm \sqrt{1 - \frac{1}{17}} = \pm \frac{4}{\sqrt{17}}$$

$$\sin(\alpha+4\beta) + \sin \alpha = -\frac{3}{17}$$

$$\begin{aligned} \sin(\alpha+4\beta) &= \sin(\alpha+2\beta+2\beta) = \sin(\alpha+2\beta) \cos 2\beta + \cos(\alpha+2\beta) \sin 2\beta \\ + \sin \alpha &= -\frac{3}{17}. \quad \sin(\alpha+2\beta) = \sin \alpha \cos 2\beta + \cos \alpha \sin 2\beta \\ \cos(\alpha+2\beta) &= \cos \alpha \cos 2\beta - \sin \alpha \sin 2\beta. \end{aligned}$$

Подставив, получим:

$$\begin{aligned}
& (\sin 2\alpha \cos 2\beta + \cos 2\alpha \sin 2\beta) \cos 2\beta + (\cos 2\alpha \cos 2\beta - \sin 2\alpha \sin 2\beta) \sin 2\beta + \\
& + \sin 2\alpha = \sin 2\alpha \cos^2 2\beta + \cos 2\alpha \sin 2\beta \cos 2\beta + \cos 2\alpha \cos 2\beta \sin 2\beta - \\
& - \sin 2\alpha \sin^2 2\beta + \sin 2\alpha = \sin 2\alpha \cos^2 2\beta + 2 \cos 2\alpha \sin 2\beta \cos 2\beta - \\
& - \sin 2\alpha (1 - \cos^2 2\beta) \\
& - \sin 2\alpha + \sin 2\alpha \cos^2 2\beta + \sin 2\alpha = 2(\sin 2\alpha \cos^2 2\beta) + \cos 2\alpha \sin 2\beta \cos 2\beta \\
& = 2 \cos 2\beta (\sin 2\alpha \cos 2\beta + \cos 2\alpha \sin 2\beta) = \\
& = 2 \cos 2\beta \cdot \sin(2\alpha + 2\beta) = -\frac{8}{17}
\end{aligned}$$

$$\cos 2\beta = -\frac{8}{17} : \left(-\frac{1}{17}\right) \cdot 2 = +\frac{4}{17} \cdot 17 = \frac{4}{17}$$

$$\text{Тогда } \sin 2\beta = \pm \sqrt{1 - \frac{16}{17}} = \pm \frac{1}{17}$$

$$\begin{aligned}
\sin(2\alpha + 2\beta) &= \sin 2\alpha \cdot \cos 2\beta + \cos 2\alpha \cdot \sin 2\beta = \\
&= \frac{4}{17} \sin 2\alpha \pm \frac{1}{17} \cos 2\alpha = -\frac{1}{17} \quad | \cdot 17
\end{aligned}$$

$$4 \sin 2\alpha \pm \cos 2\alpha = -1 \quad | \cdot \cos 2\alpha \rightarrow 4 \sin 2\alpha \cos 2\alpha \pm \cos^2 2\alpha$$

Согласно $\cos(2\alpha + 2\beta) = \pm \frac{4}{17}$, то есть либо $\alpha = 0$ что это не может, либо тогда $\beta = 0$ — единство. Значит

$$\boxed{\cos(2\alpha + 2\beta) = -\frac{4}{17}}$$

$$\cos 2\alpha \cdot \cos 2\beta - \sin 2\alpha \cdot \sin 2\beta = -\frac{4}{17}$$

$$\begin{aligned}
\text{Но тогда } \sin(2\alpha + 4\beta) + \sin 2\alpha &= \sin(2\alpha + 2\beta) \cos 2\beta + \\
&+ \cos(2\alpha + 2\beta) \cdot \sin 2\beta + \sin 2\alpha = -\frac{1}{17} \cdot \frac{4}{17} + \frac{4}{17} \cdot \frac{1}{17} + \sin 2\alpha =
\end{aligned}$$

$$\begin{aligned}
&= -\frac{8}{17} \quad ; \quad -\frac{8}{17} + \sin 2\alpha = -\frac{8}{17} \Rightarrow \sin 2\alpha = 0 \Rightarrow 2\alpha = \beta = 0 \\
&\quad \left[\begin{aligned} \frac{8}{17} + \sin 2\alpha &= -\frac{8}{17} \Rightarrow \sin 2\alpha = -\frac{16}{17} \\ \sin 2\alpha &= -\frac{8}{17} \Rightarrow \cos 2\alpha \end{aligned} \right.
\end{aligned}$$

Ответ: $\begin{cases} \sin 2\alpha = 0 \Rightarrow \beta = 0 \\ \sin 2\alpha = -\frac{16}{17} \\ \sin 2\alpha = -\frac{8}{17} \end{cases}$

ПИСЬМЕННАЯ РАБОТА

$$3 \log_4 t + t \geq t \log_4 5$$

$$3 \log_4 t + 3 \log_3 t \geq 3 \log_3 t \log_4 5$$

$$t(t^{\log_4 5 - 1}) \leq 3$$

$$t \frac{1}{\log_3 4} + t \geq t \log_4 5$$

$$t(t^{\frac{1}{\log_3 4} - 1} + 1) \geq t(t^{\log_4 5 - 1})$$

$$t^{\frac{1}{\log_3 4} - 1} + 1 \geq t^{\frac{\log_4 5 - 1}{\log_3 4}}$$

$$\frac{\log_3 4 - 1}{\log_3 4} < 0$$

$$t^{\log_4 5 - 1} - t^{\frac{1}{\log_3 4} - 1} \leq 1$$

$$x^2 - 6x > 0$$

$$x(x-6) > 0$$

$$x \in (-\infty; -6) \cup (0; +\infty)$$

$$3 \log_3 t = t$$

$$\log_4 t = \frac{\log_3 t}{\log_3 4}$$

$$t = t^{10}$$

$$\frac{13}{9}$$

$$\frac{117}{117}$$

$$y \leq \frac{2}{3}x$$

$$9y^2 - 15xy + 4x^2 + 13y + 2x + 2$$

$$y = \frac{2}{3}x$$

$$9 \cdot \frac{4}{9}x^2 - 15x \cdot \frac{2}{3}x + 4x^2 - 2x + 2x - 2 = 0$$

$$4x^2 - 10x + 4x^2 - 2 = 0$$


$$8x^2 - 10x - 2 = 0$$

$$\frac{D}{4} = 25 + 16 = 41$$

$$4x^2 - 5x - 1$$

$$4x^2 - 2 \cdot 2x \cdot \frac{5}{4} + \left(\frac{5}{4}\right)^2 - \left(\frac{5}{4}\right)^2 - 1 =$$

$$= \left(2x - \frac{5}{4}\right)^2 - \frac{9}{16} = 2\left(x - \frac{5}{8}\right)^2 - \frac{9}{16}$$



черновик чистовик
(Поставьте галочку в нужном поле)

Страница №
(Нумеровать только чистовики)

ПИСЬМЕННАЯ РАБОТА

$$\frac{r}{R} = \frac{5}{9}, \text{ то } r = \frac{5}{9}R$$

$$\frac{5}{9}R = \frac{4R^2 - (\frac{13}{2})^2}{4R} \quad x^2 + 6x$$

$$\frac{20}{9}R = 4R^2 - \frac{169}{4} \quad \log_4(16) = 2$$

$$4R^2 - \frac{20}{9}R - \frac{169}{4} = 0 \quad | \cdot 36$$

$$144R^2 - 80R - 1521 = 0$$

$$D = \frac{80^2 + 4 \cdot 144 \cdot 1521}{4}$$

$$\left(\frac{13}{2}\right)^2 + r^2 = (2R - r)^2$$

$$\left(\frac{13}{2}\right)^2 + r^2 = 4R^2 - 4Rr + r^2$$

$$4R^2 - 4Rr - \left(\frac{13}{2}\right)^2 = 0$$

$$\frac{2R - r}{2R} = \frac{13}{18}$$

$$1 - \frac{r}{2R} = \frac{13}{18}$$

$$\frac{r}{2R} = \frac{5}{18}$$

$$\frac{r}{R} = \frac{5}{9}$$

$$9y^2 + 3y + \frac{1}{4}$$

$$f(0) = f(0) + f(b)$$

$$f(ab) = f(a) + f(b)$$

$$f(0) = f(0) + f(b)$$

$$f(b) = 0$$

$$f(b) = f(1) + f(b)$$

$$f(1) = 0$$

$$f(p) = \left[\frac{p}{q}\right]$$

$$f(2b) = f(2) + f(b)$$

$$f(4) = 2f(2)$$

$$f(x^2) = 2f(x)$$

$$4R^2 - \frac{20}{9}R - \frac{169}{4} = 0 \quad | \cdot 36$$

$$x_1 + x_2 = \frac{20}{36} = \frac{5}{9} \Rightarrow x_2 = \frac{5}{9} - x_1$$

$$x_1 x_2 = -\frac{169}{16}$$

$$x_1 \left(\frac{5}{9} - x_1\right) = -\frac{169}{16}$$

$$f\left(\frac{x}{y}\right) = \log_4 \frac{x}{y} < 0$$

$$f\left(\frac{x}{y}\right) = f(x) + f\left(\frac{1}{y}\right)$$

$$3 \log_4 t + t \geq t \log_4 5$$

$$t = 3 \log_3 t$$

$$3 \log_4 t + 3 \log_3 t \geq 3 \log_3 t \log_4 5$$

$$\log_4 5 = \frac{\log_3 5}{\log_3 4}$$

$$\log_4 t = \frac{\log_3 t}{\log_3 4}$$

$$3 \log_3 t \left(\frac{1}{\log_3 4} + 1\right) \geq 3 \frac{\log_3 t}{\log_3 4} \log_3 5$$

$$(12R)^2 - 80R - 1521 = 0$$

$$D = \frac{80^2 + 4 \cdot 144 \cdot 1521}{4}$$

$$= 2^4 (25 \cdot 4 + \dots)$$

$$3^4 = 81$$

$$169$$

$$81$$

$$1352$$

$$13689$$

$$13728$$

$$113$$

$$12769$$

$$117$$

$$117$$

$$117$$

$$117$$

$$\sin 2\alpha \cos 2\beta + \cos 2\alpha \sin 2\beta = -\frac{1}{\sqrt{17}} \quad f\left(\frac{1}{3}\right) = f(3) - f(9)$$

$$\sin(2\alpha + 2\beta) \quad \cos(2\alpha + 2\beta) = \pm \frac{4}{\sqrt{17}} \quad f(y^2) = f(y) + f(y)$$

$$\operatorname{tg} \alpha = \frac{\sin \alpha}{\cos \alpha}$$

$$f\left(\frac{1}{y}\right) = f(y) - f(y)$$

$$\operatorname{tg} 2\alpha = \frac{\sin 2\alpha}{\cos 2\alpha} = \frac{2 \operatorname{tg} \alpha}{1 - \operatorname{tg}^2 \alpha}$$

$$f\left(\frac{1}{10}\right) = -1$$

$$f\left(\frac{10}{10}\right) = f(10) + f\left(\frac{1}{10}\right) =$$

$$\begin{aligned} 3y - 2x > 0 \\ x < 1.5y \\ y > \frac{2}{3}x \end{aligned}$$

$$f\left(\frac{1}{y}\right) = f\left(\frac{1}{2y}\right) = f\left(\frac{1}{3y}\right)$$

$$x - x \operatorname{tg}^2 \alpha - 2 \operatorname{tg} \alpha$$

$$x \operatorname{tg}^2 \alpha + 2 \operatorname{tg} \alpha - x = 0$$

$$\operatorname{tg}^2 \alpha + \frac{2}{x} \operatorname{tg} \alpha - 1 = 0$$

$$f(x) + f\left(\frac{1}{y}\right) < 0$$

$$f\left(\frac{1}{y}\right) + f(y) + f(x)$$

$$f(y) = f(y^2) + f\left(\frac{1}{y}\right) \Rightarrow D = \frac{4}{x^2} + 4 = 4 \left(\frac{1}{x^2} + 1\right) = \frac{4}{x^2} (1 + x^2)$$

$$= \frac{2}{x} \sqrt{1+x^2}$$

$$\sin(2\alpha + 2\beta) = -\frac{1}{\sqrt{17}}$$

$$\sin(2\alpha + 4\beta) + \sin 2\alpha = -\frac{8}{17}$$

$$\cos(2\alpha + 2\beta) = -\frac{4}{\sqrt{17}}$$

$$\sin 2\alpha \cos 2\beta + \sin 2\beta \cos 2\alpha = -\frac{1}{\sqrt{17}}$$

$$x \neq 0$$

$$-\frac{1}{\sqrt{17}} \cos 2\beta - \frac{4}{\sqrt{17}} \sin 2\beta + \sin 2\alpha = -\frac{8}{17}$$

$$f(2) = 0 \quad f(3) = 0$$

$$f(5) = 1 \quad f(6) = 0$$

$$f(7) = 1 \quad f(11) = 2$$

$$f\left(\frac{1}{y}\right) < 0, \text{ тогда}$$

$$f(y) < 0 \text{ if } y < 3 \text{ or } y > 11$$

$$f(36) = f(3) + f(6)$$

$$f(3) = 0 + f(6)$$

$$f(2) = 0$$

$$f(3) = 0$$

$$f(5) = 1$$

$$f(7) = 1$$

$$f(11) = 2$$

$$f(13) = 3$$

$$f(17) = 4$$

$$f(19) = 4$$

$$f(23) = 5$$

$$f\left(\frac{1}{10}\right) = f\left(\frac{1}{4}\right) + f\left(\frac{1}{5}\right) =$$

$$= f\left(\frac{1}{2}\right) + f\left(\frac{1}{2}\right) + f\left(\frac{1}{5}\right)$$

$$f(4) = f(2) + f(2) = 0$$

$$f(6) = 0$$

$$f(8) = f(4) + f(2) = 0$$

$$f(9) = f(3) + f(3) = 0$$

$$+ f(10) = 0$$

$$f(12) = 0$$

$$+ f(14) = 0$$

$$+ f(15) = 1$$

$$f(16) = 0$$

$$f(18) = 0$$

$$+ f(20) = 1$$

$$+ f(21) = 1$$

$$+ f(22) = 2$$

$$f(24) = 0$$

$$3 \cdot 1, 7 > 2 \Rightarrow$$

$$f\left(\frac{x}{y}\right) < 0 = f(x) + f\left(\frac{1}{y}\right)$$

$$f(x) > 0$$

$$f\left(\frac{x}{y}\right)$$

$$f\left(\frac{1}{y}\right) = f(2) + f\left(\frac{1}{2y}\right)$$

$$f\left(\frac{1}{y}\right) = f\left(\frac{1}{2y}\right)$$

$$14 \cdot 14 =$$

$$196$$

$$y \mid 14$$

ПИСЬМЕННАЯ РАБОТА

$$f\left(\frac{p\alpha}{4}\right) = f(p) + f\left(\frac{p}{4}\right) = \left[\frac{p}{4}\right] + f\left(\frac{p}{4}\right)$$

$$\sin(2\alpha + 2\beta) = -\frac{1}{\sqrt{17}}$$

$$\cos(2\alpha + 2\beta) = \sqrt{1 - \frac{1}{17}} =$$

$$= \frac{4}{\sqrt{17}}$$

$$\sin(2\alpha + 4\beta) + \sin 2\alpha = -\frac{8}{17}$$

$$\sin(\alpha + 2\beta)\cos 2\beta + \sin 2\beta\cos(\alpha + 2\beta) + \sin 2\alpha = -\frac{8}{17}$$

$$-\frac{1}{\sqrt{17}}\cos 2\beta - \frac{4}{\sqrt{17}}\sin 2\beta + \sin 2\alpha = -\frac{8}{17}$$

$$\begin{cases} 3y - 2x = \sqrt{3xy - 2x - 3y + 2} \\ 3x^2 + 3y^2 - 6x - 4y = 4 \end{cases} \quad | : 3$$

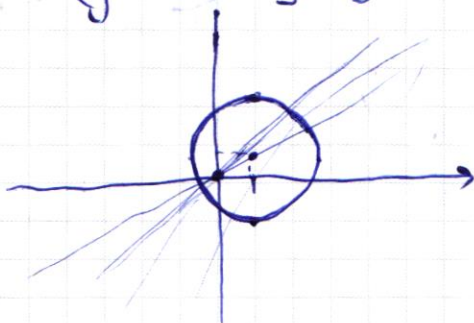
$$x^2 + y^2 - 2x - \frac{4}{3}y = \frac{4}{3}$$

$$\left(x - 1\right)^2 + \left(y - \frac{2}{3}\right)^2 = \frac{25}{9} = \left(\frac{5}{3}\right)^2$$

$$x^2 + y^2 - 2x - \frac{4}{3}y = \frac{4}{3}$$

$$x^2 - 2x + 1 - 1 + y^2 - \frac{4}{3}y + \left(\frac{2}{3}\right)^2 - \left(\frac{2}{3}\right)^2 = \frac{4}{3}$$

$$\left(x - 1\right)^2 + \left(y - \frac{2}{3}\right)^2 = \frac{4}{3} + \frac{4}{9} + 1 = \frac{25}{9} = \left(\frac{5}{3}\right)^2$$



$$9y^2 - 12xy + 4x^2 = 3xy - 2x - 3y + 2$$

$$9y^2 - 15xy + 4x^2 + 2x + 3y - 2 = 0$$

$$3y(3y + 1 - 5x) + 2x(2x + 1 + 3y) - 3xy - 2 = 0$$

$$(3y + 2x)(3y - 2x + 1) - 3xy - 2 = 0$$

$$\frac{4x-3}{2x-2} = \frac{4x-3}{2(x-1)} = 2 + \frac{1}{2x-2}$$

$$x \neq 1$$

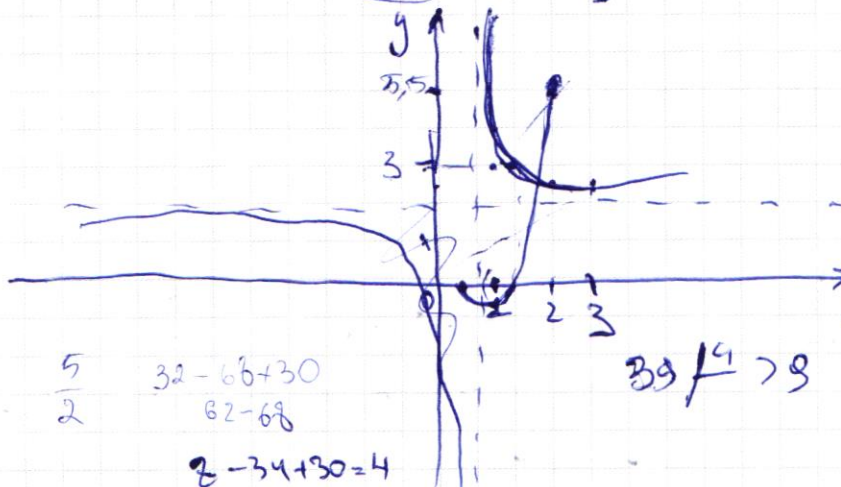
$$\frac{117}{16} \div \frac{5}{9} = \frac{117 \cdot 9}{16 \cdot 5} = \frac{1053}{80}$$

$$\frac{1}{2x-2} = 2$$

$$4x-4=4$$

$$x = \frac{5}{2}$$

$$x^{-1} = \frac{1}{x} = \frac{2}{5}$$



$$\frac{5}{2} \quad 32 - 66 + 30 = 0$$

$$82 - 68 = 14$$

$$8 - 34 + 30 = 4$$

$$x \left(\frac{1}{2x-2} + 2 \right) =$$

$$= \frac{1}{2x-2} + 2 = \frac{1}{2} \left(\frac{1}{x-1} \right) =$$

$$= -\frac{1}{2} \frac{1}{(x-1)^2} - \frac{1}{2} \cdot 4 = 2$$

$$8x^2 - 34x + 30 = 0$$

$$4x^2 - 17x + 15 = 0$$

$$D = 17^2 - 4 \cdot 8 \cdot 30 = 289 - 960 = -671$$

$$D = 289$$

$$289 - 240 = 49 = 7^2$$

$$x_1 = \frac{17-7}{8} = \frac{10}{8} = \frac{5}{4}$$

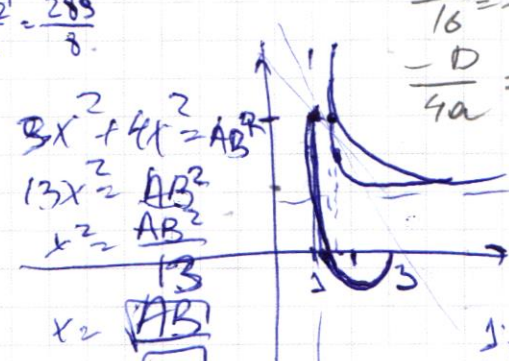
$$8x^2 - 34x + 30 = 2(2x-2) \left(\frac{17x-15}{4} + \frac{15}{4} \right) = 2(2x-2) \left(\frac{17x-15+15}{4} \right) = 2(2x-2) \left(\frac{17x}{4} \right)$$

$$y = \frac{34}{17} = \frac{17}{8} = \frac{17 \sqrt{2}}{8} = \frac{289}{8}$$

$$\frac{34}{16} = \frac{17}{8}$$

$$-\frac{D}{4a} = \frac{0}{4} = 0$$

$$8(x - \frac{5}{8})(x - \frac{3}{2})^2$$



$$x^2 + 6x = t$$

$$t = 3 \log_3 t$$

$$\frac{169}{9R} = \frac{169}{9 \cdot 2} = 9$$

$$3 \log_4(x^2+6x) + 6x \geq |x^2+6x| \log_4 5$$

$$3 \log_4 t + t \geq |t| \log_4 5$$

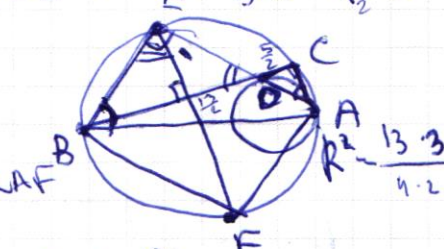
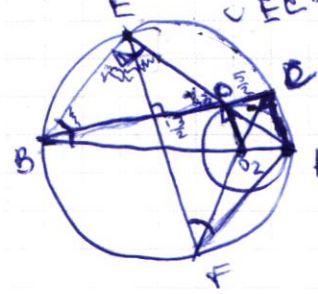
$$3 \log_3 t + 3 \log_3 t \geq |t|$$

$$\left(\frac{13}{2}\right)^2 + r^2 = (2R-r)^2$$

$$\frac{169}{4} + r^2 = 4R^2 - 4Rr + r^2$$

$$4Rr = 4R^2 - \frac{169}{4}$$

$$r = \frac{4R^2 - 169}{4}$$



$$\frac{13}{2} : 9 = \frac{13}{18}$$

$$\frac{2R-r}{2R} = \frac{13}{18} \quad \frac{r}{2R} = \frac{5}{18}$$

$$\frac{r}{R} = \frac{5}{9}$$