

МОСКОВСКИЙ ФИЗИКО-ТЕХНИЧЕСКИЙ ИНСТИТУТ
ОЛИМПИАДА "ФИЗТЕХ" ПО МАТЕМАТИКЕ

11 класс

ВАРИАНТ 1

ШИФР _____

Заполняется ответственным секретарём

1. [3 балла] Углы α и β удовлетворяют равенствам

$$\sin(2\alpha + 2\beta) = -\frac{1}{\sqrt{5}}; \quad \sin(2\alpha + 4\beta) + \sin 2\alpha = -\frac{4}{5}.$$

Найдите все возможные значения $\operatorname{tg} \alpha$, если известно, что он определён и что этих значений не меньше трёх.

2. [4 балла] Решите систему уравнений

$$\begin{cases} x - 2y = \sqrt{xy - x - 2y + 2}, \\ x^2 + 9y^2 - 4x - 18y = 12. \end{cases}$$

3. [5 баллов] Решите неравенство

$$5^{\log_{12}(x^2+18x)} + x^2 \geq |x^2 + 18x|^{\log_{12} 13} - 18x.$$

4. [5 баллов] Окружности Ω и ω касаются в точке A внутренним образом. Отрезок AB – диаметр большей окружности Ω , а хорда BC окружности Ω касается ω в точке D . Луч AD повторно пересекает Ω в точке E . Прямая, проходящая через точку E перпендикулярно BC , повторно пересекает Ω в точке F . Найдите радиусы окружностей, угол AFE и площадь треугольника AEF , если известно, что $CD = 8$, $BD = 17$.

5. [5 баллов] Функция f определена на множестве положительных рациональных чисел. Известно, что для любых чисел a и b из этого множества выполнено равенство $f(ab) = f(a) + f(b)$, и при этом $f(p) = [p/4]$ для любого простого числа p ($[x]$ обозначает наибольшее целое число, не превосходящее x). Найдите количество пар натуральных чисел $(x; y)$ таких, что $1 \leq x \leq 24$, $1 \leq y \leq 24$ и $f(x/y) < 0$.

6. [5 баллов] Найдите все пары чисел $(a; b)$ такие, что неравенство

$$\frac{12x + 11}{4x + 3} \leq ax + b \leq -8x^2 - 30x - 17$$

выполнено для всех x на промежутке $[-\frac{11}{4}; -\frac{3}{4}]$.

7. [6 баллов] Дана пирамида $ABCD$, вершина A которой лежит на одной сфере с серединами всех её рёбер, кроме ребра AD . Известно, что $AB = 1$, $BD = 2$, $CD = 3$. Найдите длину ребра BC . Какой наименьший радиус может иметь сфера, описанная около данной пирамиды?

ПИСЬМЕННАЯ РАБОТА

#1

$$\sin(2\alpha + 4\beta) + \sin 2\alpha = \sin 2\alpha \cdot \cos 4\beta + \cos 2\alpha \cdot \sin 4\beta + \sin 2\alpha \quad \cos 4\beta = 2\cos^2 2\beta - 1$$

$$\sin 4\beta = 2 \cdot \sin 2\beta \cdot \cos 2\beta \Rightarrow \sin(2\alpha + 4\beta) = \sin 2\alpha (2\cos^2 2\beta - 1) + 2\cos 2\alpha \cdot \sin 2\beta \cdot \cos 2\beta + \sin 2\alpha =$$

$$= 2\cos^2 2\beta \cdot \sin 2\alpha + 2\cos 2\alpha \cdot \sin 2\beta \cdot \cos 2\beta + \sin 2\alpha = 2\cos 2\beta \cdot \sin(2\alpha + 2\beta) = -\frac{4}{5}$$

$$\sin(2\alpha + 2\beta) = -\frac{1}{5} \Rightarrow \cos 2\beta = \frac{2}{5} \quad \sin 2\beta = \pm \frac{1}{5}$$

$$\begin{cases} \sin(2\alpha + 2\beta) = \sin 2\alpha \cdot \cos 2\beta + \sin 2\beta \cdot \cos 2\alpha = \frac{2}{5} \cdot \sin 2\alpha + \frac{1}{5} \cdot \cos 2\alpha = -\frac{1}{5} \\ \sin(2\alpha + 2\beta) = \frac{2}{5} \cdot \sin 2\alpha - \frac{1}{5} \cdot \cos 2\alpha = -\frac{1}{5} \end{cases}$$

$$\begin{cases} 2\sin 2\alpha + \cos 2\alpha = -1 \\ 2\sin 2\alpha - \cos 2\alpha = -1 \end{cases} \Leftrightarrow \begin{cases} 4\sin \alpha \cdot \cos \alpha + \cos^2 \alpha - \sin^2 \alpha + \cos^2 \alpha + \sin^2 \alpha = 0 \\ 4\sin \alpha \cdot \cos \alpha - \cos^2 \alpha + \sin^2 \alpha + \cos^2 \alpha + \sin^2 \alpha = 0 \end{cases}$$

$$\begin{cases} 2\cos^2 \alpha + 4\sin \alpha \cdot \cos \alpha = 0 \quad | \times \frac{1}{\cos^2 \alpha} \\ 2\sin^2 \alpha + 4\sin \alpha \cdot \cos \alpha = 0 \quad | \times \frac{1}{\cos^2 \alpha} \end{cases} \quad (\cos \alpha \neq 0) \quad \begin{cases} 2 + 4\operatorname{tg} \alpha = 0 \quad \operatorname{tg} \alpha = -\frac{1}{2} \\ 2\operatorname{tg}^2 \alpha + 4\operatorname{tg} \alpha = 0 \quad \operatorname{tg} \alpha = 0 \quad \operatorname{tg} \alpha = -2 \end{cases}$$

Ответ: $\operatorname{tg} \alpha = 0, \operatorname{tg} \alpha = -\frac{1}{2}, \operatorname{tg} \alpha = -2$

#2

$$\begin{cases} x-2y = \sqrt{xy-x-2y+2} & x-2y = \sqrt{(x-2)(y-1)} \\ x^2+9y^2-4x-18y-12=0 & (x-2)^2+9(y-1)^2=21 \end{cases} \quad \text{путь } x-2=a \quad y-1=b$$

$$\begin{cases} a-2b = \sqrt{ab} \\ a^2+9b^2=21 \end{cases} \quad \text{ОДЗ: } ab \geq 0 \quad a \geq 2b$$

$$\begin{cases} a^2+4b^2-4ab-ab=0 & a^2+4b^2-5ab=0 \quad | \times \frac{1}{b^2} \\ a^2+9b^2=21 \end{cases} \quad (b \neq 0, \text{ т.к. если } b=0, \text{ то } a=0, \text{ но } 0 \neq 21)$$

$$\begin{cases} \frac{a^2}{b^2} - 5\frac{a}{b} + 4 = 0 \Rightarrow \frac{a}{b} = 4 \quad \frac{a}{b} = 1 \Rightarrow a=4b \quad a=b \\ a^2+9b^2=21 \end{cases}$$

$$\circ a=4b \quad 4b \geq 2b \Rightarrow b > 0 \Rightarrow a > 0$$

$$16b^2+9b^2=21 \quad b^2 = \frac{21}{25} \quad b = \frac{\sqrt{21}}{5} \quad a = \frac{4\sqrt{21}}{5}$$

ПИСЬМЕННАЯ РАБОТА

продолжение №4

$$\sin \alpha = \frac{AC}{AD}$$

$$AC = \frac{25}{17}v = \frac{40}{3} \quad AD = \sqrt{AC^2 + CD^2} = \sqrt{\frac{2176}{9}} \Rightarrow \sin \alpha = \frac{5}{134}$$

$$\angle AOD_2 = 90^\circ - \alpha = \angle PAO_2 \quad (\triangle AOD_2 \text{ равнобедр.}) \quad \angle AEB = 90^\circ \Rightarrow \angle FEB = 90^\circ - 90^\circ - \alpha = \alpha$$

$$\angle FEB = \angle BAF = \alpha \Rightarrow \angle EAF = 90^\circ - \alpha + \alpha = 90^\circ$$

$$\text{по м. синусов} \quad \frac{AE}{\sin \alpha} = 2R \quad AE = 2R \cdot \sin \alpha = \frac{25\sqrt{34}}{6}$$

$$EF = 2R = \frac{10 \cdot 17}{6} \quad \text{по м. Пифагора} \quad AF^2 = EF^2 - AE^2 = \frac{25}{4} \cdot 34 \quad AF = \frac{5}{2} \cdot \sqrt{34}$$

$$S_{\triangle AFE} = \frac{AE \cdot AF}{2} = \frac{5 \cdot 25 \cdot 34}{24} = \frac{5 \cdot 25 \cdot 17}{12} = \frac{2225}{12}$$

Ответ: $R = \frac{85}{6}, v = \frac{136}{15}, \alpha = \arcsin\left(\frac{5}{134}\right) = \angle AFE, S_{\triangle AEP} = \frac{2225}{12}$

№3

$$5 \log_{12}(x^2 + 18x) + x^2 \geq |x^2 + 18x| \log_{12} 13 - 18x \quad \text{Пусть } x^2 + 18x = a \quad \text{ОДЗ: } a > 0$$

$$5 \log_{12} a + a \geq a \log_{12} 13$$

$$5 \log_{12} a = 5 \frac{\log_5 a}{\log_5 12} = a \cdot (5 \log_5 12)^{-1} = \frac{a}{12}$$

$$a \log_{12} 13 = a \frac{\log_a 13}{\log_a 12} = 13 \cdot \frac{1}{12} = \frac{13}{12} \quad (\text{здесь } a \neq 1, \text{ но если } a = 1, \text{ то неравенство верно})$$

$$\frac{13a}{12} \geq \frac{13}{12} \quad a \geq 1$$

$$x^2 + 18x \geq 1 \quad x^2 + 18x - 1 \geq 0 \quad D = 18^2 + 4 = 324 + 4 = 328 = 8 \cdot 41 = 4 \cdot 82$$

$$x = \frac{-18 \pm 2\sqrt{82}}{2} = -9 \pm \sqrt{82}$$

$$\begin{array}{c} + \qquad \qquad \qquad + \\ \hline -9 - \sqrt{82} \quad - \quad -9 + \sqrt{82} \end{array} \Rightarrow x \in [-\infty; -9 - \sqrt{82}] \cup [-9 + \sqrt{82}; +\infty]$$

Ответ: $x \in [-\infty; -9 - \sqrt{82}] \cup [-9 + \sqrt{82}; +\infty]$



черновик чистовик
(Поставьте галочку в нужном поле)

Страница №__
(Нумеровать только чистовики)

ПИСЬМЕННАЯ РАБОТА

#5

• если $\frac{x}{y} \in \mathbb{Z}$, то $\frac{x}{y}$ можно разложить как произведение простых чисел.

Тогда, если $\frac{x}{y} = p_1 \cdot p_2 \cdot p_3 \cdot \dots \cdot p_n$, то $f(\frac{x}{y}) = f(p_1) + f(p_2) + \dots + f(p_n)$

если простое число < 4 , то f от этого простого числа $= 0$, если простое число > 4 , то

f от этого простого числа > 0 (м.к. $[\frac{p}{4}]^{>1}$, где $p > 4$) \Rightarrow если $\frac{x}{y} \in \mathbb{Z}$, то $f(\frac{x}{y}) > 0$

• $\frac{x}{y} \notin \mathbb{Z}$

$$f(\frac{x}{y} \cdot y) = f(\frac{x}{y}) + f(y) \quad f(\frac{x}{y}) = f(x) - f(y)$$

$$f(1) = 0 \quad f(2) = 0 \quad f(3) = 0 \quad f(4) = f(2) + f(2) = 0 \quad f(5) = 1 \quad f(6) = f(2) + f(3) = 0$$

$$f(7) = 1 \quad f(8) = 0 \quad f(9) = 0 \quad f(10) = f(2) + f(5) = 1 \quad f(11) = 2 \quad f(12) = 0$$

$$f(13) = 3 \quad f(14) = 1 \quad f(15) = 1 \quad f(16) = 0 \quad f(17) = 4 \quad f(18) = 0 \quad f(19) = 4 \quad f(20) = 1$$

$$f(21) = 1 \quad f(22) = 2 \quad f(23) = 5 \quad f(24) = 0$$

• если $f(x) = 0$, то x можно выбрать 11 способами; $f(y) > 0 \Rightarrow f(x/y)$ можно выбрать 13 способами

$\Rightarrow 11 \cdot 13$ способов

• если $f(x) = 1$, то x можно выбрать 7 способами; $f(y) > 1 \Rightarrow y$ можно выбрать 6 способами

$\Rightarrow 7 \cdot 6$ способов

• если $f(x) = 2$, то x можно выбрать 2 способами; $f(y) > 2 \Rightarrow y$ можно выбрать 4 способами


$\Rightarrow 2 \cdot 4$ способа

• $f(x) = 3$, x -//- 1 способ, y -//- 3 способа $\Rightarrow 3$ способа

• $f(x) = 4$, x -//- 2 способа, y -//- 1 способ $\Rightarrow 2$ способа

$$\text{Всего: } 11 \cdot 13 + 7 \cdot 6 + 2 \cdot 4 + 3 + 2 = 143 + 42 + 8 + 5 = 148 + 50 = 198$$

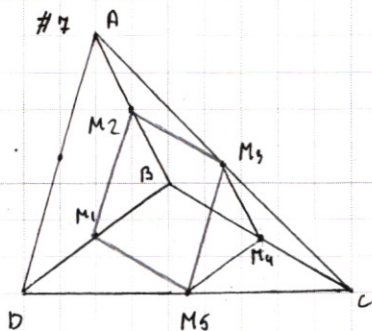
Ответ: 198



черновик чистовик
(Поставьте галочку в нужном поле)

Страница №__
(Нумеровать только чистовики)

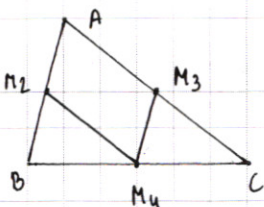
ПИСЬМЕННАЯ РАБОТА



Пусть M_1, M_2, M_3, M_4, M_5 - середины сторон BD, AB, AC, BC, DC
соответственно.

сечение сферы плоскостью ABC - окружность \Rightarrow

A, M_2, M_3, M_4 лежат на одной окружности



M_2M_4, M_3M_4 - средние линии в $\triangle ABC \Rightarrow M_3M_4 \parallel AB,$

$M_2M_4 \parallel AC \Rightarrow AM_2M_3M_4$ параллелограмм, вписанный

в окружность $\Rightarrow AM_2M_3M_4$ - прямоугольник $\Rightarrow \angle BAC = 90^\circ$

M_1, M_2, M_3, M_5 также вписанный прямоугольник (т.к. M_1, M_2, M_3, M_5 лежат на одной окр. и

$M_1M_2 \parallel M_3M_5, M_2M_3 \parallel M_1M_5$)



черновик чистовик
(Поставьте галочку в нужном поле)

Страница №__
(Нумеровать только чистовики)

ПИСЬМЕННАЯ РАБОТА

#1

$$\sin(2\alpha + 2\beta) = 2 \cdot \cos(\alpha + \beta) \cdot \sin(\alpha + \beta) = -\frac{1}{\sqrt{5}}$$

$$2 \sin(\alpha + 2\beta) \cdot \cos(\alpha + 2\beta) + \sin 2\alpha = -\frac{4}{5}$$

~~$$\sin(\alpha + 2\beta) = \sin \alpha \cdot \cos 2\beta + \sin 2\beta \cdot \cos \alpha$$~~

~~$$\cos(\alpha + 2\beta) = \cos \alpha \cdot \cos 2\beta - \sin \alpha \cdot \sin 2\beta$$~~

$$\sin(2\alpha + 4\beta) = \sin 2\alpha \cdot \cos 4\beta + \sin 4\beta \cdot \cos 2\alpha$$

$$\sin(2\alpha + 4\beta) + \sin 2\alpha = \sin 2\alpha (\cos 4\beta + 1) + \sin 4\beta \cdot \cos 2\alpha$$

$$\sin(2\alpha + 2\beta) = \sin 2\alpha \cdot \cos 2\beta + \sin 2\beta \cdot \cos 2\alpha$$

$$\sin(2\alpha + 2\beta) = \sin 2\alpha \cdot \cos 2\beta + \cos 2\alpha \cdot \sin 2\beta$$

$$\sin 2\alpha + \sin(2\alpha + 4\beta) = \sin 2\alpha \cdot \cos 4\beta + \cos 2\alpha \cdot \sin 4\beta + \sin 2\alpha$$

$$\cos 4\beta = 2 \cos^2 2\beta - 1 \quad \sin 4\beta = 2 \sin 2\beta \cdot \cos 2\beta$$

$$\sin 2\alpha (\cos^2 2\beta \cdot 2 - 1) + 2 \sin 2\beta \cdot \cos 2\beta \cdot \cos 2\alpha + \sin 2\alpha = \sin 2\alpha \cdot 2 \cdot \cos^2 2\beta + 2 \sin 2\beta \cdot \cos 2\beta \cdot \cos 2\alpha$$

$$2 \cos 2\beta (\sin 2\alpha \cdot \cos 2\beta + \sin 2\beta \cdot \cos 2\alpha) = 2 \cos 2\beta \cdot \sin(2\alpha + 2\beta) = -\frac{4}{5}$$

$$\sin(2\alpha + 2\beta) = -\frac{1}{\sqrt{5}}$$

$$2 \cdot \cos 2\beta \cdot \left(-\frac{1}{\sqrt{5}}\right) = -\frac{4}{5}$$

$$2 \cos 2\beta = \frac{\sqrt{5} \cdot 4}{5} \quad \cos 2\beta = \frac{\sqrt{5} \cdot 4}{2 \cdot 5} = \frac{2}{\sqrt{5}}$$

$$\sin^2 2\beta = 1 - \cos^2 2\beta = 1 - \frac{4}{5} = \frac{1}{5} \quad \sin 2\beta = \pm \frac{1}{\sqrt{5}}$$

$$\sin(2\alpha + 2\beta) = \sin 2\alpha \cdot \cos 2\beta + \cos 2\alpha \cdot \sin 2\beta = \frac{2}{\sqrt{5}} \cdot \sin 2\alpha + \frac{1}{\sqrt{5}} \cdot \cos 2\alpha = -\frac{1}{\sqrt{5}}$$

$$\frac{2}{\sqrt{5}} \cdot \sin 2\alpha - \frac{1}{\sqrt{5}} \cdot \cos 2\alpha = -\frac{1}{\sqrt{5}}$$

$$\begin{cases} 2 \sin 2\alpha + 1 \cos 2\alpha = -1 & 4 \sin \alpha \cdot \cos \alpha + \cos^2 \alpha - \sin^2 \alpha + \cos^2 \alpha + \sin^2 \alpha = 0 \\ 2 \sin 2\alpha - \cos 2\alpha = -1 & 4 \sin \alpha \cdot \cos \alpha - \cos^2 \alpha + \sin^2 \alpha + \cos^2 \alpha + \sin^2 \alpha = 0 \end{cases}$$

$$(3y-3)^2 = 9y^2 - 18y + 9$$

#2

$$\begin{cases} x-2y = \sqrt{xy-x-2y+2} \\ x^2+9y^2-4x-18y=12 \end{cases} \quad \text{ДДЗ: } x-2y \geq 0 \quad xy-x-2y+2 \geq 0$$

$$\begin{cases} x^2+4y^2-4xy = xy-x-2y+2 & x^2+4y^2-5xy+x+2y-2=0 \\ x^2-4x+4+9y^2-18y-12=0 & (x-2)^2+(3y-3)^2=21 \end{cases}$$

$$4y(y-x+\frac{1}{2}) - x(y-x+1) - 2 = 0$$

$$4y(y-x) - x(y-x) + x+2y-2 = 0$$

$$(y-x)(4y-x) + x+2y-2 = 0$$

$$x-2y = \sqrt{x(y-1)-2(y-1)} = \sqrt{(x-2)(y-1)}$$

$$\begin{cases} x-2y = \sqrt{(x-2)(y-1)} \\ (x-2)^2 + 9(y-1)^2 = 21 \end{cases}$$

$$x-2y=2$$

пусть $x-2=a$ $y-1=b$

$$\begin{cases} a-2b = \sqrt{ab} \\ a^2+9b^2=21 \end{cases} \quad \begin{cases} a^2+4b^2-4ab=ab \\ a^2+9b^2=21 \end{cases} \quad a^2-5ab+4b^2=0$$

$$\frac{a^2}{b^2} - \frac{5a}{b} + 4 = 0$$

$$D = 25 - 16 = 9$$

$$\frac{a}{b} = \frac{5+3}{2} = 4$$

$$\frac{a}{b} = \frac{5-3}{2} = 1$$

$$a=4b$$

$$a=b$$

$$b \neq 0$$

$$\circ a=4b \quad 16b^2+9b^2=21 \quad 25b^2=21 \quad b^2=\frac{21}{25}$$

$$\circ a=b \quad 10b^2=21 \quad b^2=\frac{21}{10}$$

$$\begin{cases} b = \pm \sqrt{\frac{21}{10}} & a = \pm \sqrt{\frac{21}{10}} \\ b = -\sqrt{\frac{21}{10}} & a = \sqrt{\frac{21}{10}} \end{cases}$$

$$\begin{cases} y-1 = \frac{\sqrt{21}}{5} & x-2 = \frac{4}{5}\sqrt{21} \\ y-1 = -\sqrt{\frac{21}{10}} & x-2 = -\sqrt{\frac{21}{10}} \end{cases}$$

$$ab \geq 0$$

$$\begin{cases} a \geq 0 \\ b \geq 0 \\ a \leq 0 \\ b \leq 0 \end{cases}$$

$$a-2b \geq 0 \quad a \geq 2b$$

ПИСЬМЕННАЯ РАБОТА

$$\angle AFE \simeq AEF$$

$$\angle AFE$$

$$\begin{array}{r} 2176 \overline{) 4} \\ 20 \\ \underline{14} \\ 3 \\ 64 \\ \underline{576} \end{array}$$

$$\begin{array}{r} 3 \\ 64 \\ \underline{576} \end{array}$$

$$\begin{array}{r} 514 \overline{) 4} \\ 4 \\ \underline{14} \\ 264 \\ \underline{12} \end{array}$$

$$\begin{array}{r} 264 \\ 3 \\ \underline{48} \\ 146 \end{array}$$

$$\begin{array}{r} 146 \\ \underline{246} \\ 184 \end{array}$$

$$\begin{array}{r} 184 \\ \underline{2176} \end{array}$$

$$\angle AFE = \angle ABE = \alpha$$

$$\sin \alpha = \frac{AC}{AD}$$

$$AC = \frac{25}{17} \cdot \frac{8 \cdot 17}{15} = \frac{5 \cdot 8}{3} = \frac{40}{3}$$

$$AD = \sqrt{\frac{1600}{9} + 64} = \sqrt{\frac{2176}{9}}$$

$$\sin \alpha = \frac{\frac{40}{3} \cdot \frac{3}{\sqrt{2176}}}{\sqrt{\frac{2176}{9}}} = \sqrt{\frac{1600}{2176}} = \sqrt{\frac{400}{544}} = \sqrt{\frac{100}{136}} = \sqrt{\frac{25}{34}} = \frac{5}{\sqrt{34}}$$

$$\frac{AE}{\sin \alpha} = 2R$$

$$AE = 2R \cdot \sin \alpha = \frac{10 \cdot 17}{6} \cdot \frac{5}{\sqrt{34}} = \frac{50 \sqrt{17}}{6 \sqrt{2}} = \frac{25 \sqrt{34}}{6}$$

$$EF = 2R = \frac{10 \cdot 17}{6}$$

$$\frac{12x+11}{4x+3} \leq ax+b \leq -8x^2-30x-17$$

$$AF^2 = EF^2 - AE^2 = \frac{(10 \cdot 17)^2}{36} - \frac{25^2 \cdot 34}{36} = \frac{100 \cdot 17^2 - 25 \cdot 25 \cdot 17 \cdot 2}{36}$$

$$= \frac{25 \cdot 17 \cdot 2 (2 \cdot 17 - 25)}{36} = \frac{25 \cdot 34 \cdot 9}{36} = \frac{25}{4} \cdot 34$$

$$AF = \frac{5}{2} \cdot \sqrt{34}$$

$$S_{\Delta} = \frac{AE \cdot AF}{2} = \frac{1}{2} \cdot \frac{5}{2} \cdot \sqrt{34} \cdot \frac{25 \cdot \sqrt{34}}{6} = \frac{5 \cdot 25 \cdot 34}{24} =$$

5

$$f(ab) = f(a) + f(b)$$

$$f(p) = \left[\frac{p}{4} \right] \quad p - \text{простое}$$

$$(x; y) \quad 1 \leq x \leq 24$$

$$1 \leq y \leq 24$$

$$f\left(\frac{x}{y}\right) < 0$$

$$f\left(\frac{x}{y}\right) = f(x) + f\left(\frac{1}{y}\right)$$

$$x=3 \quad y=1 \quad f(3) + f(1)$$

$$f(24) = f(2 \cdot 12) = f(2) + f(12) = f(2) + f(2) + f(2) + f(3)$$

$$f(21) = f(7 \cdot 3) = f(7) + f(3) = 1$$

$$\bullet y=1 \quad x=1 \quad f(1) = \left[\frac{1}{4} \right] = -1 \quad f(4) = \left[1 \right] = 1$$

$$x=2 \quad f(2) = \left[\frac{1}{2} \right] = -1 \quad f(5) = 1$$

$$f(3) = \left[\frac{3}{4} \right] = -1 \quad f(6) = f(2) + f(3) = -2$$

7	+	13	+
8	-	14	-
9	-	15	0
10	0		
11	+		
12	-		

$$f\left(\frac{1}{3}\right)$$

$$f\left(\frac{1}{8} \cdot 8\right) = f\left(\frac{1}{8}\right) + f(8)$$

$$f\left(\frac{1}{17} \cdot 17\right) = f\left(\frac{1}{17}\right) + f(17)$$

$$f\left(\frac{1}{17}\right) = f(1) - f(17)$$

$$f\left(\frac{2}{3} \cdot 3\right) = f\left(\frac{2}{3}\right) + f(3)$$

$$f\left(\frac{2}{3}\right) = f(2) - f(3)$$

① или $\frac{x}{y} = \text{неч. дроби}$

$$f\left(\frac{2}{4} \cdot 4\right) = f\left(\frac{2}{4}\right) + f(4)$$

$$f\left(\frac{2}{4}\right) = f(2) - f(4)$$

$$y=1$$

$$f\left(\frac{1}{2} \cdot 2\right)$$

$$f\left(\frac{x}{y} \cdot y\right) = f\left(\frac{x}{y}\right) + f(y)$$

$$f\left(\frac{x}{y}\right) = f(x) - f(y)$$

1	1	13	13
2	2	14	7·2
3	3	15	5·3
4	2×2	16	2×2×2·2
5	5	17	17
6	2×3	18	2·3·3
7	7	19	19
8	2×2×2	20	2·5·2
9	3×3	21	7·3
10	5·2	22	11·2
11	11	23	23
12	2·2·3	24	2·2·2·3

$$\frac{13}{13}$$

$$\frac{13}{143}$$

ПИСЬМЕННАЯ РАБОТА

$$\begin{cases} 2 \cos^2 \alpha + 4 \sin \alpha \cdot \cos \alpha = 0 & (1) \\ 2 \sin^2 \alpha + 4 \sin \alpha \cdot \cos \alpha = 0 & (2) \end{cases}$$

$$(2) \quad 2 \sin^2 \alpha + 4 \sin \alpha \cdot \cos \alpha = 0 \quad \cos \alpha \neq 0$$

$$2 \frac{\sin^2 \alpha}{\cos^2 \alpha} + 4 \frac{\sin \alpha}{\cos \alpha} = 0 \quad 2 \operatorname{tg}^2 \alpha + 4 \operatorname{tg} \alpha = 0 \quad \operatorname{tg}^2 \alpha + 2 \operatorname{tg} \alpha = 0 \Rightarrow \begin{cases} \operatorname{tg} \alpha = 0 \\ \operatorname{tg} \alpha = -2 \end{cases}$$

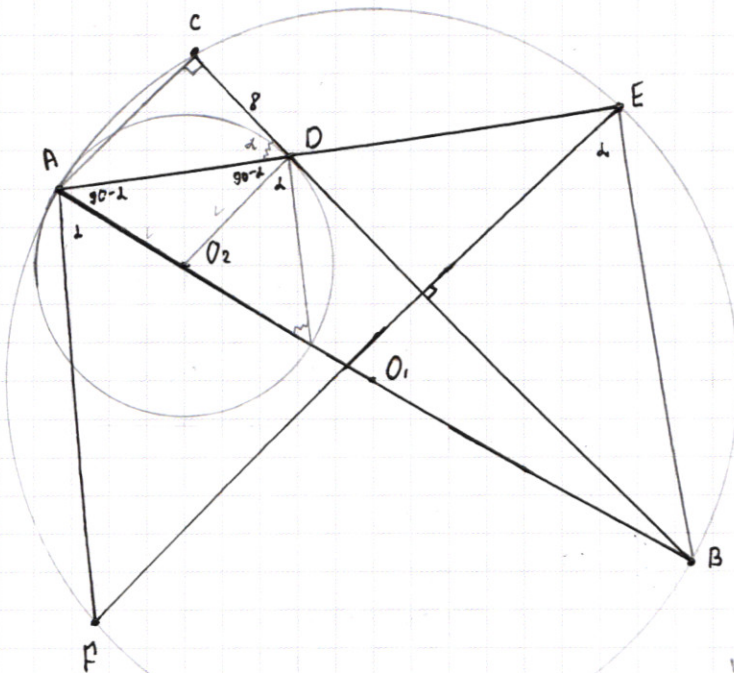
$$(1) \quad 2 + 4 \operatorname{tg} \alpha = 0 \quad 4 \operatorname{tg} \alpha = -2 \quad \operatorname{tg} \alpha = -\frac{1}{2}$$

Если $\cos \alpha = 0$, то $\cos 2\alpha \cdot \sin 2\beta = \frac{1}{\sqrt{5}} \quad (2 \cos^2 \alpha - 1) \cdot \sin 2\beta = \frac{1}{\sqrt{5}}$

$$\begin{array}{r} 3 \\ 17 \\ \hline 25 \\ 185 \\ 34 \\ \hline 425 \\ 5 \\ \hline 2225 \end{array}$$

$$\begin{array}{r} 2 \\ 15 \\ \hline 16 \\ 15 \\ \hline 225 \end{array}$$

$$\begin{array}{r} 4 \\ 17 \\ \hline 12 \\ 119 \\ \hline 17 \\ 289 \end{array}$$



$\angle AFE \quad S_{AEF}$
 $CD = 8 \quad BD = 17$

$$\frac{BD}{CD} = \frac{BO_2}{CO_2}$$

$$\frac{BD}{BC} = \frac{BO_2}{BA}$$

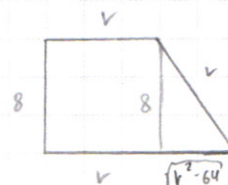
$$\frac{17}{17+8} = \frac{2R-v}{2R}$$

$$\frac{17}{25} = \frac{2R-v}{2R}$$

$$34R = 50R - 25v$$

$$25v = 16R$$

$$\begin{array}{r} 5 \\ 17 \\ 8 \\ \hline 136 \\ 3 \\ 17 \\ 5 \\ \hline 85 \end{array}$$



$$v^2 - 64$$

$$\frac{BD}{BC} = \frac{O_2D}{AC} = \frac{17}{25}$$

$$17AC = 25O_2D$$

$$AC = \frac{25}{17}v$$

$$\frac{289-64}{289} v^2 = 64$$

$$v + \sqrt{v^2 - 64} = \frac{25}{17}v$$

$$1 - \sqrt{v^2 - 64} = \frac{8}{17}v$$

$$v^2 - 64 = \frac{64}{289}v^2$$

$$\frac{225}{289}v^2 = 64$$

$$\frac{15}{17}v = 8$$

$$v = \frac{8 \cdot 17}{15}$$

$$R = \frac{25}{16}v = \frac{25 \cdot 8 \cdot 17}{15 \cdot 16} = \frac{5 \cdot 17}{6}$$

черновик чистовик
(Поставьте галочку в нужном поле)

Страница №
(Нумеровать только чистовики)

$$5^{\log_{12}(x^2+18x)} + x^2 \geq |x^2+18x|^{\log_{12}13} - 18x$$

$$OD3 \quad x^2+18x \geq 0$$

$$5^{\log_{12}(x^2+18x)} + x^2+18x \geq |x^2+18x|^{\log_{12}13}$$

$$\text{пусть } x^2+18x = a$$

$$5^{\log_{12}a} + a \geq |a|^{\log_{12}13}$$

$$5^{\log_{12}a} + a \geq a^{\log_{12}13}$$

$$\log_{12}a = \frac{\log_5 a}{\log_5 12}$$

$$5^{\log_5 a \cdot \frac{1}{\log_5 12}} + a \geq a^{\log_{12}13}$$

$$a \cdot (5^{\log_5 12})^{-1} + a \geq a^{\log_{12}13}$$

$$\frac{a}{12} + a \geq a^{\log_{12}13}$$

$$\frac{13}{12}a \geq a^{\log_{12}13}$$

$$a^{\frac{\log_{12}13}{\log_a 12}} = 13 \cdot a^{\frac{1}{\log_a 12}} = \frac{13}{12}$$

$$5^{\frac{\log_5 a}{\log_5 12}} = a^{\frac{1}{\log_5 12}}$$

$$a^{\frac{1}{\log_5 12}} + a \geq a^{\log_{12}13}$$

$$a^{\frac{1}{\log_5 12}} + a \geq a^{\frac{\log_5 13}{\log_5 12}}$$

$$a^{\frac{1}{\log_5 12}} (1 + a^{\log_5 12}) - a^{\log_5 13} \geq 0$$

$$1 + a^{\log_5 12} - a^{\log_5 13} \geq 0$$

$$1 + a^{\frac{\log_a 12}{\log_a 5}} - a^{\frac{\log_a 13}{\log_a 5}} \geq 0$$

BC=?

$$AB = 1$$

$$BD = 2$$

$$CD = 3$$

a

$$\begin{array}{r} 6 \\ 12 \\ 18 \\ \hline 144 \\ 18 \\ \hline 324 \end{array}$$

