

МОСКОВСКИЙ ФИЗИКО-ТЕХНИЧЕСКИЙ ИНСТИТУТ
ОЛИМПИАДА "ФИЗТЕХ" ПО МАТЕМАТИКЕ

11 класс

ВАРИАНТ 3

ШИФР

Заполняется ответственным секретарём

1. [3 балла] Углы α и β удовлетворяют равенствам

$$\sin(2\alpha + 2\beta) = -\frac{1}{\sqrt{17}}; \quad \sin(2\alpha + 4\beta) + \sin 2\alpha = -\frac{8}{17}.$$

Найдите все возможные значения $\operatorname{tg} \alpha$, если известно, что он определён и что этих значений не меньше трёх.

2. [4 балла] Решите систему уравнений

$$\begin{cases} 3y - 2x = \sqrt{3xy - 2x - 3y + 2}, \\ 3x^2 + 3y^2 - 6x - 4y = 4. \end{cases}$$

3. [5 баллов] Решите неравенство

$$3^{\log_4(x^2+6x)} + 6x \geq |x^2 + 6x|^{\log_4 5} - x^2.$$

4. [5 баллов] Окружности Ω и ω касаются в точке A внутренним образом. Отрезок AB – диаметр большей окружности Ω , а хорда BC окружности Ω касается ω в точке D . Луч AD повторно пересекает Ω в точке E . Прямая, проходящая через точку E перпендикулярно BC , повторно пересекает Ω в точке F . Найдите радиусы окружностей, угол AFE и площадь треугольника AEF , если известно, что $CD = \frac{5}{2}$, $BD = \frac{13}{2}$.
5. [5 баллов] Функция f определена на множестве положительных рациональных чисел. Известно, что для любых чисел a и b из этого множества выполнено равенство $f(ab) = f(a) + f(b)$, и при этом $f(p) = [p/4]$ для любого простого числа p ($[x]$ обозначает наибольшее целое число, не превосходящее x). Найдите количество пар натуральных чисел $(x; y)$ таких, что $3 \leq x \leq 27$, $3 \leq y \leq 27$ и $f(x/y) < 0$.

6. [5 баллов] Найдите все пары чисел $(a; b)$ такие, что неравенство

$$\frac{4x - 3}{2x - 2} \geq ax + b \geq 8x^2 - 34x + 30$$

выполнено для всех x на промежутке $(1; 3]$.

7. [6 баллов] Дана пирамида $PQRS$, вершина P которой лежит на одной сфере с серединами всех её рёбер, кроме ребра PQ . Известно, что $QR = 2$, $QS = 1$, $PS = \sqrt{2}$. Найдите длину ребра RS . Какой наименьший радиус может иметь сфера, описанная около данной пирамиды?

ПИСЬМЕННАЯ РАБОТА

№3. Ответ: ~~на интервале $[2, 2]$~~ $x \in (0; 2]$.

$$3^{\log_4(x^2+6x)} + 6x \geq |x^2+6x|^{\log_4 5} - x^2$$

ОДЗ: $x^2+6x > 0$. Для ОДЗ $|x^2+6x| = x^2+6x$.

$$\Rightarrow 3^{\log_4(x^2+6x)} + x^2+6x \geq (x^2+6x)^{\log_4 5} \quad \text{Пусть } x^2+6x = a.$$

$$a^{\log_4 3} + a^{\log_4 4} - a^{\log_4 5} \geq 0. \Rightarrow 3^{\log_4 a} + 4^{\log_4 a} - 5^{\log_4 a} \geq 0.$$

Пусть $\log_4 a = b$. $3^b + 4^b - 5^b \geq 0$. ~~на интервале $[2, 2]$~~ $/: 5^b$

$$\Rightarrow \left(\frac{3}{5}\right)^b + \left(\frac{4}{5}\right)^b - 1 \geq 0. \quad y(b) = \left(\frac{3}{5}\right)^b + \left(\frac{4}{5}\right)^b - 1$$

монотонно убывает, равенство нулю достигается при

$$b = 2 \Rightarrow \text{решением нер-ва будет } b \leq 2 \Rightarrow \log_4 a \leq 2$$

$$\Rightarrow a \leq 16 \Rightarrow 0 < x^2+6x \leq 16 \Rightarrow 0 < x(x+6) \leq 16.$$

При $x = 2$ $x^2+6x = 16$, 0-больший корень $x^2+6x = 0 \Rightarrow$ на

$x \in (0; 2]$ $x^2+6x \leq 16$ (и на $(2; +\infty)$ $x^2+6x > 16$) $\Rightarrow (0; 2]$ -ответ.

№5.

Ответ: ~~229~~ 229.

($x, y \neq 0$)

$$f(x) = f\left(\frac{x}{y}\right) + f(y) \Rightarrow f\left(\frac{x}{y}\right) = f(x) - f(y) \Rightarrow f\left(\frac{x}{y}\right) < 0 \Leftrightarrow f(x) < f(y)$$

Каждому $f(p)$ для всех простых чисел $p \leq 27$. Их значения представляются в таблице слева.

p	2	3	5	7	11	13	17	19	23
f(p)	0	0	1	1	2	3	4	4	5

Теперь для всех натуральных

$3 \leq n \leq 27$ трудно найти $f(n)$, разложив n на простое

множителем и многократно применив $f(ab) = f(a) + f(b)$.

	3	4	5	6	7	8	9	10	11	12	13	14	15	16	17	18	19	20	21	22	23	24	25	26	27
	0	0	1	0	1	0	0	1	2	0	3	1	1	0	4	0	4	1	1	2	5	0	2	3	0

Их значения представляются в таблице слева.

ПИСЬМЕННАЯ РАБОТА

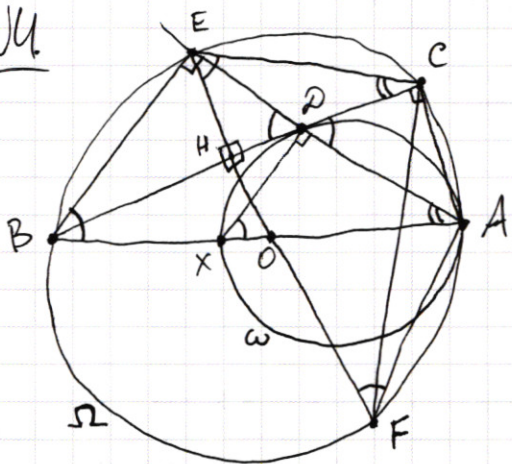
№6 (продолжение)

$$2(x-1)(ax+b) = 4x-3 \Rightarrow 2ax^2 + 2(b-a)x - 2b - 4x + 3 = 0 \Rightarrow$$

$$\Rightarrow 2ax^2 + 2(b-a-2)x - 2b + 3 = 0. \quad \frac{D_1}{4} = b^2 + a^2 + 4 + 4a - 2ab - 4b +$$
$$+ 6a - 4ab = a^2 + (10 - 6b)a + b^2 - 4b + 4 = a^2 + (10 - 6b)a + (b-2)^2.$$

$$\frac{D_2}{4} = 25 + 9b^2 - 30b - (b-2)^2 = 8b^2 - 26b + 21 = (2b-3)(4b-7)$$

НЧ



Ответ: $\angle AFE = 60^\circ$.

AB - диаметр $\Omega \Rightarrow$ центр Ω , ω лежит на AB; Пусть $AB \cap \omega = X$, тогда AX - диаметр $\omega \Rightarrow \angle APX = 90^\circ = \angle AEB = \angle ACB$. Пусть $EF \cap BC = H$.

$$BC = BP + PC = \frac{13}{2} + \frac{5}{2} = 9.$$

$$BP^2 = BX \cdot BA = \frac{169}{4}. \quad \angle ACH = \angle CHF = 90^\circ$$

$\Rightarrow AC \parallel EF$. $\angle AFE = \angle ABE$ как опр. на

одну дугу. Пусть $\angle AFE = \alpha = \angle ABE$, а $\angle BAE = 90^\circ - \alpha = \angle BCE$ как опр. на одну дугу $\Rightarrow \angle CEH = \alpha$. $\angle PXA = \angle CPA = \alpha$ как углы между касательной и хордой $\Rightarrow \angle EPB = \alpha \Rightarrow \triangle BED \sim \triangle BHE \sim \triangle EHD \sim \triangle ACH \sim \triangle ACD \sim \triangle AEB$ - прямоугольные Δ с углами α и $90^\circ - \alpha$.

$\Rightarrow \angle EBC = 90^\circ - \alpha \Rightarrow EB = EC \Rightarrow EF$ - диаметр $\Omega \Rightarrow BH = HC$,

EM - бисс. $\triangle BEC \Rightarrow \angle CEH = \angle BEH = \angle EFA \Rightarrow AF \parallel BE$. $\angle BAD =$

$$\angle EAC = 90^\circ - \alpha \Rightarrow AP - \text{бисс. } \triangle ABC \Rightarrow \frac{AB}{AC} = \frac{BP}{PC} = \frac{13}{5}.$$

$\{CD \cdot PB = EP \cdot DA.\}$ AE - бисс. $\angle BAC$ - высота в вершине E треугольника ABC и диаметр ABEC $\Rightarrow \triangle BEC$ - равнос.

углов $\Rightarrow \alpha = 2(90^\circ - \alpha) \Rightarrow \alpha = 60^\circ = \angle AFE$.

$\angle EAF = 90^\circ$, т.к. EF - диам. \checkmark

ПИСЬМЕННАЯ РАБОТА

Handwritten mathematical work on graph paper, including geometric diagrams and algebraic derivations.

Top Diagram: A circle with center O_1 and points A, B, C, D, E, F on its circumference. Lines connect these points, forming a complex polygon. A point P is marked inside the circle.

Bottom Diagram: A circle with center O_2 and points A, B, C, D, E, F on its circumference. Lines connect these points, forming a complex polygon. A point X is marked inside the circle.

Algebraic Derivations:

Left side: $862 - 260 + 22 = 120 + 48$

Center: $2.2(20 + 8)$

Right side: $EF \parallel CA$, $BC = 9$

Bottom right: $EF \parallel AC$, $OX \parallel ER$, $CH \parallel BC$

Bottom center: $EP = \frac{EF}{AF} = \frac{AB}{AF}$

Bottom left: $EF \parallel AD$, $\frac{EF}{AE} = \frac{AB}{AF}$



ФЕДЕРАЛЬНОЕ ГОСУДАРСТВЕННОЕ АВТОНОМНОЕ
ОБРАЗОВАТЕЛЬНОЕ УЧРЕЖДЕНИЕ ВЫСШЕГО
ОБРАЗОВАНИЯ

«МОСКОВСКИЙ ФИЗИКО-ТЕХНИЧЕСКИЙ ИНСТИТУТ
(НАЦИОНАЛЬНЫЙ ИССЛЕДОВАТЕЛЬСКИЙ
УНИВЕРСИТЕТ)»


ШИФР

(заполняется секретарём)

ПИСЬМЕННАЯ РАБОТА

черновик чистовик
(Поставьте галочку в нужном поле)

Страница №__
(Нумеровать только чистовики)



черновик чистовик
(Поставьте галочку в нужном поле)

Страница №__
(Нумеровать только чистовики)



ФЕДЕРАЛЬНОЕ ГОСУДАРСТВЕННОЕ АВТОНОМНОЕ
ОБРАЗОВАТЕЛЬНОЕ УЧРЕЖДЕНИЕ ВЫСШЕГО
ОБРАЗОВАНИЯ

«МОСКОВСКИЙ ФИЗИКО-ТЕХНИЧЕСКИЙ ИНСТИТУТ
(НАЦИОНАЛЬНЫЙ ИССЛЕДОВАТЕЛЬСКИЙ
УНИВЕРСИТЕТ)»

ШИФР


(заполняется секретарём)

ПИСЬМЕННАЯ РАБОТА

--

черновик чистовик
(Поставьте галочку в нужном поле)

Страница №
(Нумеровать только чистовики)



черновик чистовик
(Поставьте галочку в нужном поле)

Страница №__
(Нумеровать только чистовики)