

МОСКОВСКИЙ ФИЗИКО-ТЕХНИЧЕСКИЙ ИНСТИТУТ
ОЛИМПИАДА "ФИЗТЕХ" ПО МАТЕМАТИКЕ

11 класс

ВАРИАНТ 3

ШИФР

Заполняется ответственным секретарём

1. [3 балла] Углы α и β удовлетворяют равенствам

$$\sin(2\alpha + 2\beta) = -\frac{1}{\sqrt{17}}; \quad \sin(2\alpha + 4\beta) + \sin 2\alpha = -\frac{8}{17}.$$

Найдите все возможные значения $\operatorname{tg} \alpha$, если известно, что он определён и что этих значений не меньше трёх.

2. [4 балла] Решите систему уравнений

$$\begin{cases} 3y - 2x = \sqrt{3xy - 2x - 3y + 2}, \\ 3x^2 + 3y^2 - 6x - 4y = 4. \end{cases}$$

3. [5 баллов] Решите неравенство

$$3^{\log_4(x^2+6x)} + 6x \geq |x^2 + 6x|^{\log_4 5} - x^2.$$

4. [5 баллов] Окружности Ω и ω касаются в точке A внутренним образом. Отрезок AB – диаметр большей окружности Ω , а хорда BC окружности Ω касается ω в точке D . Луч AD повторно пересекает Ω в точке E . Прямая, проходящая через точку E перпендикулярно BC , повторно пересекает Ω в точке F . Найдите радиусы окружностей, угол AFE и площадь треугольника AEF , если известно, что $CD = \frac{5}{2}$, $BD = \frac{13}{2}$.

5. [5 баллов] Функция f определена на множестве положительных рациональных чисел. Известно, что для любых чисел a и b из этого множества выполнено равенство $f(ab) = f(a) + f(b)$, и при этом $f(p) = [p/4]$ для любого простого числа p ($[x]$ обозначает наибольшее целое число, не превосходящее x). Найдите количество пар натуральных чисел $(x; y)$ таких, что $3 \leq x \leq 27$, $3 \leq y \leq 27$ и $f(x/y) < 0$.

6. [6 баллов] Найдите все пары чисел $(a; b)$ такие, что неравенство

$$\frac{4x - 3}{2x - 2} \geq ax + b \geq 8x^2 - 34x + 30$$

выполнено для всех x на промежутке $(1; 3]$.

7. [6 баллов] Дана пирамида $PQRS$, вершина P которой лежит на одной сфере с серединами всех её рёбер, кроме ребра PQ . Известно, что $QR = 2$, $QS = 1$, $PS = \sqrt{2}$. Найдите длину ребра RS . Какой наименьший радиус может иметь сфера, описанная около данной пирамиды?

ПИСЬМЕННАЯ РАБОТА

$$\sin(2\alpha + 2\beta) = -\frac{1}{\sqrt{17}}$$

$$\sin(2\alpha + 4\beta) + \sin 2\alpha = -\frac{8}{17}$$

как известно:

$$\sin a + \sin b = 2 \sin \frac{a+b}{2} \cos \frac{a-b}{2}$$

$$2 \sin(2\alpha + 2\beta) \cdot \cos 2\beta = -\frac{8}{17}$$

Подставим $\sin(2\alpha + 2\beta) = -\frac{1}{\sqrt{17}}$

$$\cos 2\beta = \frac{4}{\sqrt{17}}, \text{ тогда } \sin 2\beta = \pm \frac{1}{\sqrt{17}}$$

$$\sin(2\alpha + 2\beta) = -\frac{1}{\sqrt{17}}$$

Как известно: $\sin(a+b) = \sin a \cos b + \sin b \cos a$

$$\sin 2\alpha \cos 2\beta + \sin 2\beta \cos 2\alpha = -\frac{1}{\sqrt{17}}$$

① Пусть $\sin 2\beta = \frac{1}{\sqrt{17}}$

$$4 \sin 2\alpha + \cos 2\alpha = -1$$

как известно:

$$\cos^2 a - \sin^2 b = 2 \cos^2 a - 1 = 1 - 2 \sin^2 a$$

$$\sin 2a = 2 \sin a \cos a$$

$$8 \sin \alpha \cos \alpha + 2 \cos^2 \alpha = 0$$

$$\operatorname{tg} \alpha = -\frac{1}{4}$$

$\cos \alpha \neq 0$, т.к. $\operatorname{tg} \alpha$ существует.

$$2) \text{ Пусть } \sin 2\beta = \frac{-1}{\sqrt{17}}$$

$$4 \sin 2\alpha - \cos 2\alpha = -1$$

$$8 \sin \alpha \cos \alpha + \sin^2 \alpha = 0$$

$$\begin{cases} \sin \alpha = 0 = \operatorname{tg} \alpha \\ \operatorname{tg} \alpha = -8 \end{cases}$$

$$\text{Ответ: } \begin{cases} \operatorname{tg} \alpha = -8 \\ \operatorname{tg} \alpha = 0 \\ \operatorname{tg} \alpha = -\frac{1}{4} \end{cases}$$

$\sqrt{2}$

$$\begin{cases} 3y - 2x = \sqrt{3xy - 2x - 3y + 2} \\ 3x^2 + 3y^2 - 6x - 9y = 9 \end{cases}$$



$$\begin{cases} 9y^2 - 12xy + 4x^2 = 3xy - 2x - 3y + 2 \\ 3y - 2x \geq 0 \\ 3xy - 2x - 3y + 2 \geq 0 \\ (x-1)^2 + (y-\frac{2}{3})^2 - \frac{4}{9} = \frac{4}{3} \end{cases}$$

$$\begin{cases} 9y^2 - (15x-3)y + x^2 - 2x - 2 = 0 \quad D = 9(x-1)^2 \\ 3xy - 2x - 3y + 2 \geq 0 \\ y \geq \frac{2}{3}x \\ 3xy - 2x - 3y + 2 \geq 0 \\ (x-1)^2 + (y-\frac{2}{3})^2 = (\frac{5}{3})^2 \end{cases}$$

$$\begin{cases} y = \frac{5x-1 \pm 3|x-1|}{5x-1-3|x-1|} \\ 3xy - 2x - 3y + 2 \geq 0 \\ y \geq \frac{2}{3}x \\ (x-1)^2 + (y-\frac{2}{3})^2 = (\frac{5}{3})^2 \end{cases}$$

$$\begin{cases} y = \frac{5x-4}{6} \\ y = \frac{2x+2}{6} \\ 3xy - 2x - 3y + 2 \geq 0 \\ y \geq \frac{2}{3}x \\ (x-1)^2 + (y-\frac{2}{3})^2 = (\frac{5}{3})^2 \end{cases}$$

$$\begin{cases} y = \frac{4}{3}x - \frac{2}{3} \\ y = \frac{1}{3}x + \frac{1}{3} \\ 3xy - 2x - 3y + 2 \geq 0 \\ y \geq \frac{2}{3}x \\ (x-1)^2 + (y-\frac{2}{3})^2 = (\frac{5}{3})^2 \end{cases}$$

Далее те решим ~~систему~~ систему без пер-тв.

ПИСЬМЕННАЯ РАБОТА

и проверить, какие из них действительно являются решениями.

$$\left\{ \begin{array}{l} y = \frac{4}{3}x - \frac{2}{3} \\ (x-1)^2 + (y - \frac{2}{3})^2 = (\frac{5}{3})^2 \end{array} \right. \quad \left\{ \begin{array}{l} y = \frac{4}{3}x - \frac{2}{3} \\ (x-1)^2 + (\frac{4}{3})^2(x-1)^2 = (\frac{5}{3})^2 \end{array} \right.$$

$$\left\{ \begin{array}{l} y = \frac{1}{3}x + \frac{1}{3} \\ (x-1)^2 + (y - \frac{2}{3})^2 = (\frac{5}{3})^2 \end{array} \right. \quad \left\{ \begin{array}{l} y = \frac{1}{3}x + \frac{1}{3} \\ (x-1)^2 + (\frac{1}{3})^2(x-1)^2 = (\frac{5}{3})^2 \end{array} \right.$$

$$\left\{ \begin{array}{l} y = \frac{4}{3}x - \frac{2}{3} \\ (x-1)^2 = 1 \end{array} \right. \quad \left\{ \begin{array}{l} x=2 \\ y=2 \\ x=0 \\ y=-\frac{2}{3} \\ x = -\sqrt{2.5} + 1 \\ y = -\frac{\sqrt{2.5}}{3} + \frac{2}{3} \\ x = \sqrt{2.5} + 1 \\ y = \frac{1}{3}\sqrt{2.5} + \frac{2}{3} \end{array} \right.$$

Теперь: $\left\{ \begin{array}{l} x=0 \\ y=-\frac{2}{3} \end{array} \right.$ не подходит ^{ит} т.к. $-\frac{2}{3} \leq 0$

$\left\{ \begin{array}{l} x = \sqrt{2.5} + 1 \\ y = \frac{1}{3}\sqrt{2.5} + \frac{2}{3} \end{array} \right.$ не подходит, т.к.:

$$\frac{1}{3}\sqrt{2.5} + \frac{2}{3} < \frac{2}{3}\sqrt{2.5} + \frac{2}{3}$$

$\left\{ \begin{array}{l} x = -\sqrt{2.5} + 1 \\ y = -\frac{\sqrt{2.5}}{3} + \frac{2}{3} \end{array} \right.$ подходит, т.к.

$$\frac{2 - \sqrt{2.5}}{3} > 1 - \sqrt{2.5}$$

$$\text{и } (2 - \sqrt{2.5}) \cdot (1 - \sqrt{2.5}) - 2(1 - \sqrt{2.5}) - (2 - \sqrt{2.5}) + 2 = 2 - 3\sqrt{2.5} + 2.5 - 4 + 3\sqrt{2.5} + 2 = 2.5 > 0$$

$$\begin{cases} x=2 \\ y=2 \end{cases}$$

покажем т.к. $2 > \frac{4}{3}$

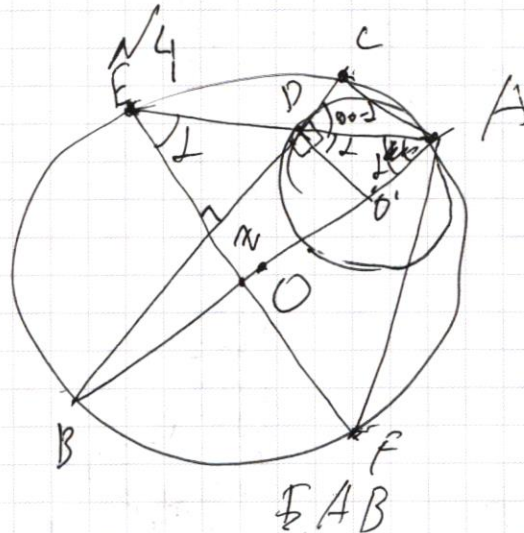
и

$$3 \cdot 2 \cdot 2 - 2 \cdot 2 - 3 \cdot 2 + 2 = 4 > 0$$

Ответ:

$$\begin{cases} x=2 \\ y=2 \\ x = \frac{-2\sqrt{35} + 1}{3} \\ y = \frac{2 - \sqrt{35}}{3} \end{cases}$$

Дано:
 $A \in \omega$
 $A \in \Sigma$
 $BA \perp DEBA$
 $D \in BC$
 $D \in \omega$
 $C \in \Sigma$
 $E \in AD$
 $E \in \Sigma$
 $EF \perp BD$
 $F \in \Sigma$

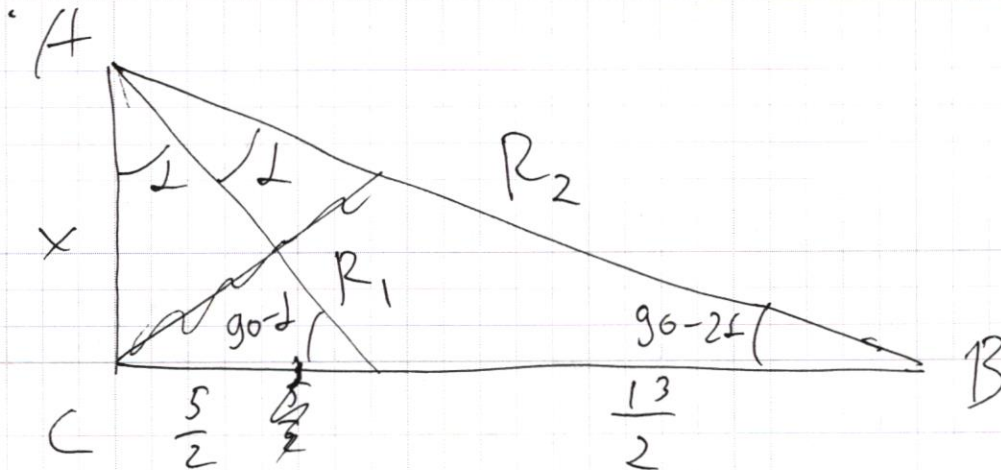


$R_1, R_2 - ?$
 $\angle AFB - ?$
 $S_{\triangle AEF} - ?$

 $CP = \frac{5}{2}$
 $BD = \frac{13}{2}$

1) Пусть $\angle EAB = \alpha$, тогда в силу того, что $O' \in AB$, то $\angle PAO' = \alpha = \angle O'DA \Rightarrow \angle PA = 90 - \alpha = \angle EPB$
 $\angle DEZ = 90 - \angle EDB = 90 - (90 - \alpha) = \alpha \Rightarrow Z = O$, т.к. EZA равно, а $O \in ZA' \Rightarrow EF$ диаметр $\Rightarrow \angle EAF = 90^\circ \Rightarrow \angle FPA = 90 - \alpha$
 2) $\angle BO'D = 2\alpha$, т.к. $\angle BO'D$ - центральный, а α - вписанный. $\Rightarrow \angle DBO' = 90 - 2\alpha$
~~и~~ Рассмотрим отрезок $\triangle BPA$
 $\angle BCA = 2\alpha$, т.к. BA диаметр

ПИСЬМЕННАЯ РАБОТА



$$X = \frac{5}{2} \cdot \operatorname{tg} 90^\circ - \alpha$$

$$X = \frac{18}{2} \cdot \operatorname{tg} 90^\circ - \alpha$$

$$\frac{5}{18} = \frac{\operatorname{tg} 90^\circ - \alpha}{\operatorname{tg} 90^\circ - \alpha}$$

$$\frac{5}{18} = \frac{\operatorname{ctg} \alpha}{\operatorname{ctg} \alpha} = \frac{\cos 2\alpha}{\cos \alpha} \cdot \frac{\sin \alpha}{\sin 2\alpha} = \frac{2\cos^2 \alpha - 1}{\cos \alpha \cdot 2\cos \alpha}$$

$$= 1 - \frac{1}{2\cos^2 \alpha} = \frac{5}{18}$$

$$18 - \frac{9}{\cos^2 \alpha} = 5$$

$$13 \cos^2 \alpha = 9$$

$$\cos \alpha = \frac{3}{\sqrt{13}} = \sin(90^\circ - \alpha)$$

$$\angle AFE = \arcsin\left(\frac{9}{13}\right)$$

$$R_1 = \frac{5}{2\sin \alpha} = \frac{5}{2 \frac{\sqrt{13^2 - 9^2}}{13}} = \frac{5}{2 \frac{\sqrt{88}}{13}} = \frac{65}{4\sqrt{22}}$$

$$X = \sqrt{\frac{65^2}{16 \cdot 22} - \left(\frac{5}{2}\right)^2}$$

$$R_2 = \sqrt{X^2 + \left(\frac{18}{2}\right)^2} = \sqrt{\frac{65^2}{16 \cdot 22} - \left(\frac{5}{2}\right)^2 + \left(\frac{18}{2}\right)^2}$$

~~8(ΔAF&E)ā~~

№ 5

Заметим, что ~~f(1) = 0~~ $f(1) = 0$, т.к.

$$f(x) + f(1) = f(x \cdot 1) = f(x)$$

Из этого: $f\left(\frac{1}{x}\right) = -f(x)$, т.к.:

$$f(x) + f\left(\frac{1}{x}\right) = f\left(\frac{x}{x}\right) = f(1) = 0$$

У любого натурального числа ~~любого~~ ^{любого} значение функции, т.к. ~~любого~~ ^{любого} число можно представить через сумму простых чисел

\Rightarrow значение $f(x)$ можно представить через сумму значений функции от простых на которое разложено число.

а т.к. $f(p) = \left[\frac{p}{p}\right] \geq 0$, то $f(n) \geq 0, n \in \mathbb{N} \Rightarrow f(n) \geq 0$

\Rightarrow Исходное количество это $C_{25}^k - k$, где k — количество ^(a, b) пар, где $a = b$, тогда

$$f\left(\frac{a}{b}\right) = 0 \quad \text{в иных случаях} \quad f\left(\frac{a}{b}\right) = f(a) - f(b)$$

и если ~~f(a) > f(b)~~ $f(a) > f(b)$, то пусть

$$f(a) > f(b), \text{ тогда } f\left(\frac{a}{b}\right) < 0.$$

$$f(3) = 0 \quad f(5) = 1 \quad f(7) = 1 \quad f(9) = 2f(3) = 0$$

$$f(4) = 2f(2) = 0 \quad f(6) = f(3) + f(2) = 0 \quad f(8) = 0 + f(2) = 0 \quad f(10) = f(5) + f(2) = 0$$

$$\text{Кругом } S(\triangle AEF) = \\ = \frac{1}{2} \cdot AF \cdot EA$$

$$AF = R_2 \sin \angle$$

$$EA = R_2 \cos \angle$$

$$S(\triangle AEF) = \frac{1}{2} R_2^2 \sin \angle \cos \angle$$

$$R_2^2 = \frac{65^2}{16 \cdot 22} + \frac{18^2 - 5^2}{4}$$

$$\sin \angle \cos \angle = \frac{9}{13}$$

$$\sin \angle = \sqrt{1 - \cos^2 \angle}$$

$$S(\triangle AEF) = \frac{1}{2} \left(\frac{65^2}{16 \cdot 22} + \frac{18^2 - 5^2}{4} \right) \cdot \frac{9}{13} \cdot \sqrt{1 - \frac{9^2}{13^2}} =$$

$$= \frac{1}{2} \left(\frac{65^2}{16 \cdot 22} + \frac{299}{4} \right) \cdot \frac{9}{13} \cdot \sqrt{\frac{88}{13^2}} =$$

$$= \frac{1}{2} \left(\frac{4225 + 299 \cdot 88}{16 \cdot 22} \right) \cdot \frac{9 \sqrt{88}}{169} = \frac{3225 \cdot 9 \sqrt{88} + 299 \cdot 9 \cdot 88 \sqrt{88}}{169}$$

$$= 25 \cdot 9 \sqrt{88} + \frac{23 \cdot 9 \cdot 88 \sqrt{88}}{13}$$

$$\boxed{S(\triangle AEF) = 25 \cdot 9 \sqrt{88} + \frac{23 \cdot 9 \cdot 88 \sqrt{88}}{13}}$$

ПИСЬМЕННАЯ РАБОТА

$$9y^2 + 4x^2 - 12xy = 3xy - 2y - 3y + 2$$

$$9y^2 - 15xy + 3y + 4x^2 + 2x - 2 = 0$$

$$9y^2 - (15x - 3) + (4x^2 + 2x - 2) = 0$$

$$D = (225x^2 - 90x + 9) - 4 \cdot 9 \cdot (4x^2 + 2x - 2) = 0$$

$$D = 225x^2 - 144x^2 - 90x - 72x + 9 + 72$$

$$D = 81x^2 - 162x + 81 = (9x - 9)^2 = 81(x - 1)^2$$

$$y = \frac{15x - 3 \pm 9|x-1|}{18} = \frac{5x - 1 \pm 3|x-1|}{6}$$

$$3^{\log_4(x^2 + 4x)} + 6x \geq |x^2 + 6x|^{\log_4 5} - x^2$$

$$\frac{4x-3}{2x-2} - ax + b \geq 8x^2 - 34x + 30$$

$$8 \cdot 9 - 34 \cdot 3 + 30$$

$$\frac{39 + a + \sqrt{D}}{16} \geq 3 \quad 8 - 34 + 30 = 4$$

$$\frac{39 + a - \sqrt{D}}{16} \leq 1 \quad -68 + 30$$

$$8x^2 - 34x + 30 - ax - b \leq 0$$

$$8x^2 - (34 + a)x + 30 - b \leq 0$$

$$f(ab) = f(a) + f(b)$$

$$f(1) = 0$$

$$f\left(\frac{x}{y}\right) = f\left(x \cdot \frac{1}{y}\right) = f(x) + f\left(\frac{1}{y}\right) =$$

$$= f(x) - f(y)$$

3 4 5 6 7 8 9 10 11 12 13
 14 15 16 17 18 19 20 21 22 23
 24 25 26 27

$$f(x) = f(y), \text{ тогда } f\left(\frac{x}{y}\right) = f\left(\frac{y}{x}\right) = 0$$

$$\text{Пусть } x:2, \text{ тогда } f\left(\frac{x}{2}\right) = -\frac{1}{4}$$

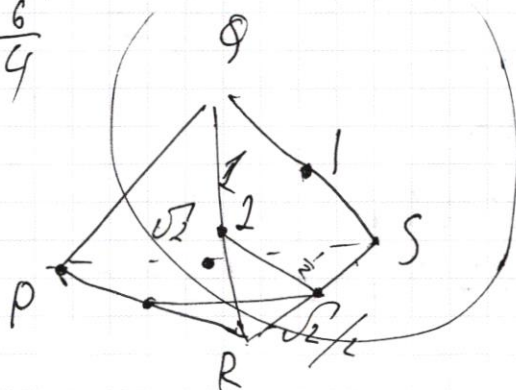
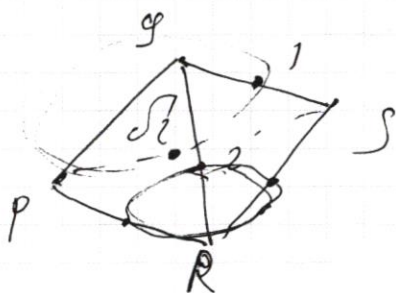
$$f(2) = \frac{1}{2}$$

$$f(3) = \frac{3}{4} \quad f(4) = 1 \quad f(6) = \frac{5}{4}$$

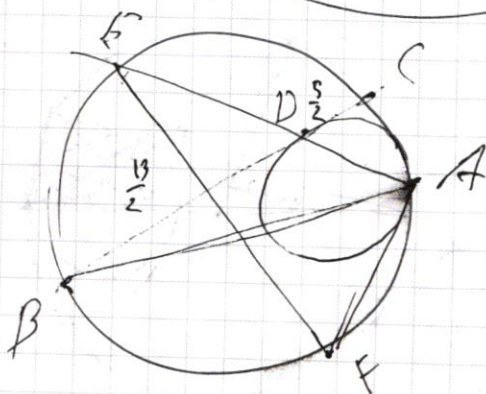

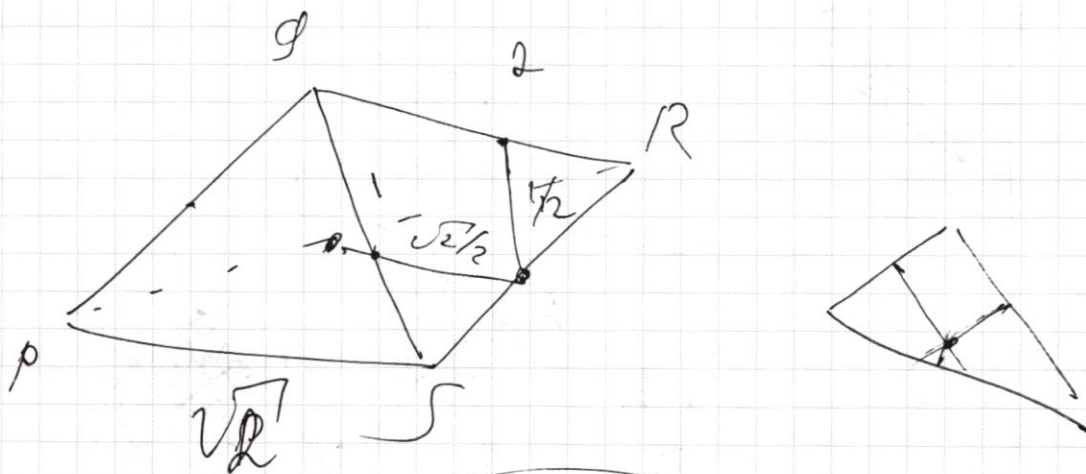
$$\cancel{f(8) = \frac{7}{4}} \quad f(5) = \frac{5}{4}$$

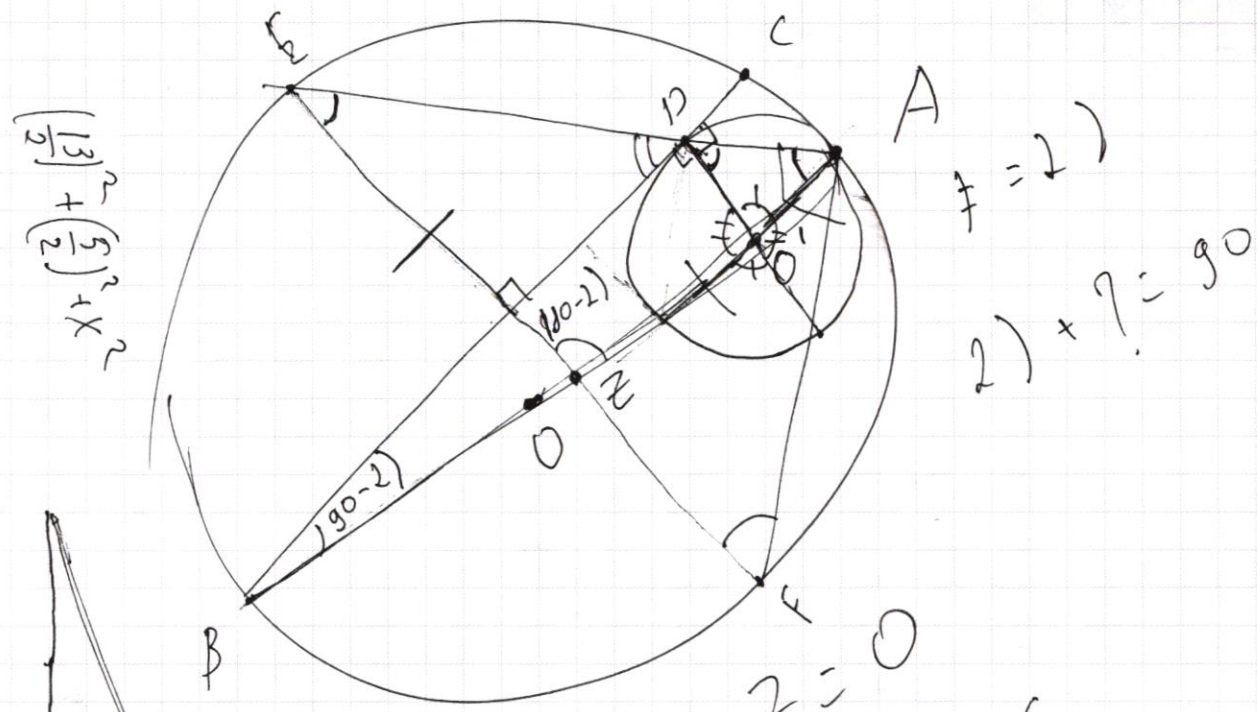
$$f(7) = \frac{7}{4} \quad f(8) = f(4) + f(2) = \frac{6}{4}$$

$$f(9) = f(3) + f(3) = \frac{6}{4}$$



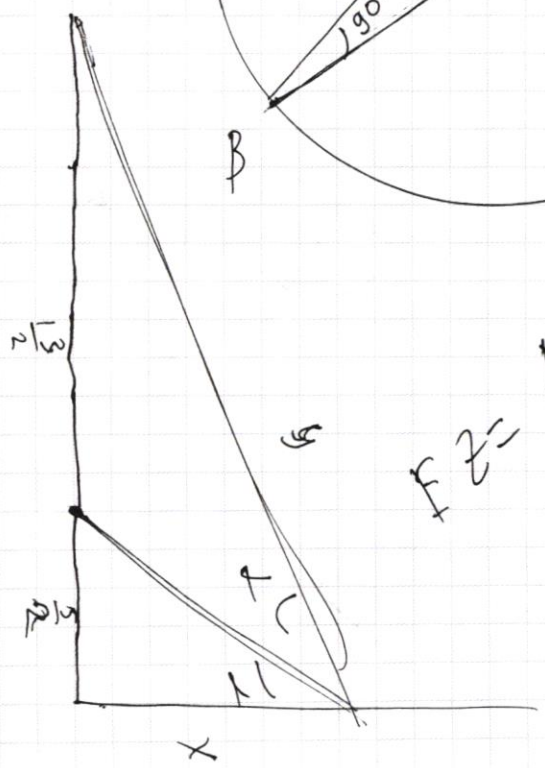
ПИСЬМЕННАЯ РАБОТА



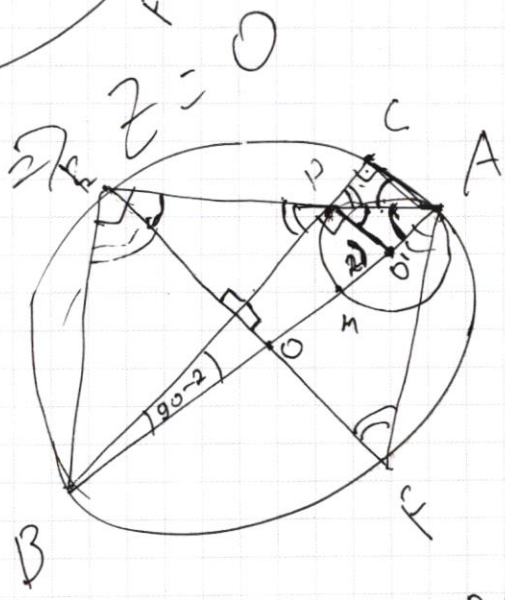


$$\left(\frac{13}{2}\right)^2 + \left(\frac{5}{2}\right)^2 = R^2$$

$$2) + ? = 90$$



$$FZ = AZ$$



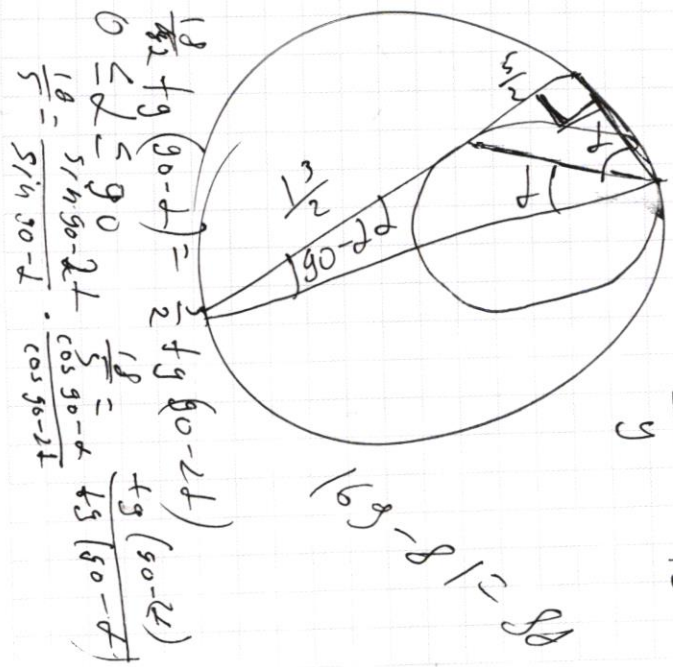
$$EP \cdot PA = BP \cdot PC$$

$$BP^2 = BM \cdot BA$$

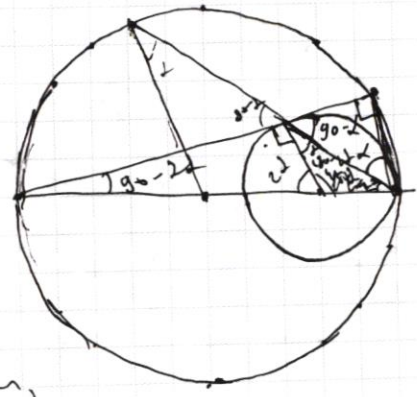
$$\cos \angle \sin 2\alpha = 2 \sin \alpha \cos \alpha$$

$$\frac{\cos 2\alpha}{2 \cos^2 \alpha} = 1 - \frac{1}{2 \cos^2 \alpha} \cos 2\alpha$$

$$\frac{\cos 2\alpha}{\sin 2\alpha}$$



$$\frac{6}{5} = \frac{13}{5}$$



ПИСЬМЕННАЯ РАБОТА

$$\sin(2a+2b) = \sin 2a \cos 2b + \sin 2b \cos 2a$$

$$\sin(2a+2b) + \sin 2a = 2 \sin(2a+2b) \cos 2b = -\frac{2}{17}$$

$$\cos 2a = \frac{\cos^2 a - \sin^2 a}{17}$$

$$\cos 2a = \cos^2 a - \sin^2 a$$

$$\cos 2b = \frac{-1}{2\sqrt{17}} = \frac{4}{\sqrt{17}}$$

$$\frac{299 \mid 13}{26 \quad 23}$$

$$\sin 2a + \sin 2b = \frac{1}{\sqrt{17}}$$

$$\frac{4 \sin 2a + \cos 2a}{\sqrt{17}} = -\frac{1}{\sqrt{17}}$$

$$4 \sin 2a + \cos 2a = -1$$

$$\sin(a+a) = 2 \sin a \cos a$$

$$4 \cdot 2 \sin a \cos a + \cos^2 a - \sin^2 a = -1$$

$$8 \sin a \cos a + \cos^2 a = 0$$

$$8 \sin a + \cos a = 0$$

$$8 \operatorname{tg} a = -1$$

$$\operatorname{tg} a = -\frac{1}{8}$$

$$169 - 81 =$$

=

$$\frac{65}{13} = 5 \quad \begin{array}{r} 32 \\ \times 65 \\ \hline 1920 \\ + 325 \\ \hline 2245 \end{array}$$

$$\begin{array}{r} 18 \\ \times 18 \\ \hline 144 \\ + 180 \\ \hline 324 \end{array}$$

$$\begin{cases} 3y - 2x^2 - 9y^2 = 12xy + 4x^2 - 3xy - 2x - 3y + 2 \\ 5x^2 + 3y^2 - 6x - 4y = 4 \end{cases}$$

$$\begin{cases} 9y^2 - 15xy + 4x^2 + 2x + 3y - 2 = 0 \\ x^2 + y^2 - 2x - \frac{4}{3}y = \frac{5}{3} \quad (x-1)^2 - 1 + (y-\frac{2}{3})^2 - \frac{4}{9} = \frac{5}{3} \end{cases}$$

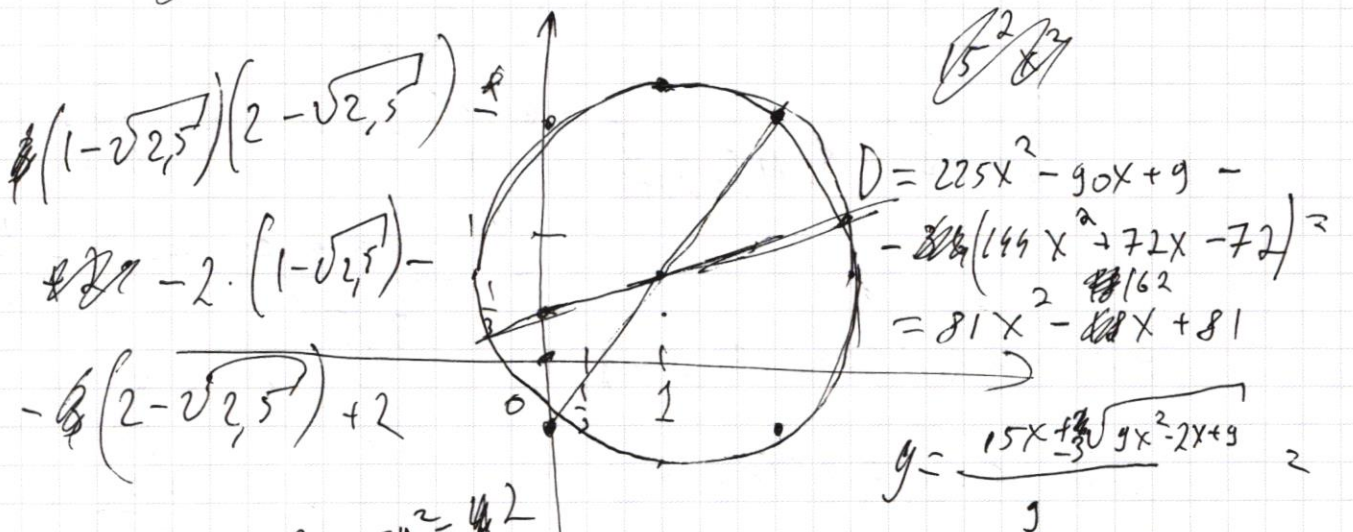
$$9y^2 - (15x-3)y + 4x^2 + 2x - 2 = 0 \quad (x-1)^2 + (y-\frac{2}{3})^2 = \frac{29}{9} = (\frac{\sqrt{29}}{3})^2$$

~~2 - 30xy + 2,5 - 4 + 30xy + 2,2~~

$$15y^2 - 30xy + 8x^2 + 4x + 6y = 4x^2 + 3y^2 - 6x - 4y$$

$$15y^2 - 30xy + 5x^2 + 10(x+y) = 0 \quad 12xy + 4 = 25$$

$$5y^2 - 6xy + x^2 + 10x + 4y = 0$$



$$1,5x^2 + 1,5y^2 - 4x - 6 - 4 = 2 \quad 12 - 4 - 6 + 2$$

$$\frac{15x - 3 \pm 9|x-1|}{6}$$

$$\frac{5x - 1 \pm 3|x-1|}{6}$$

$$\sqrt{4} = \frac{5x \pm \sqrt{9x^2 - 2x + 9}}{2}$$

$$(x-1)^2 + (1,5y-1)^2 = (1,5y-x)^2$$

$$(x-1)^2 = x^2 - 2x + 1$$

$$(1,5y-1)^2 = 2,25y^2 - 3y + 1$$