

МОСКОВСКИЙ ФИЗИКО-ТЕХНИЧЕСКИЙ ИНСТИТУТ
ОЛИМПИАДА "ФИЗТЕХ" ПО МАТЕМАТИКЕ

11 класс

ВАРИАНТ 4

ШИФР

Заполняется ответственным секретарём

1. [3 балла] Углы α и β удовлетворяют равенствам

$$\sin(2\alpha + 2\beta) = -\frac{1}{\sqrt{17}}; \quad \sin(2\alpha + 4\beta) + \sin 2\alpha = -\frac{2}{17}.$$

Найдите все возможные значения $\operatorname{tg} \alpha$, если известно, что он определён и что этих значений не меньше трёх.

2. [4 балла] Решите систему уравнений

$$\begin{cases} y - 6x = \sqrt{xy - 6x - y + 6}, \\ 9x^2 + y^2 - 18x - 12y = 45. \end{cases}$$

3. [5 баллов] Решите неравенство

$$|x^2 - 26x|^{\log_5 12} + 26x \geq x^2 + 13^{\log_5(26x - x^2)}.$$

4. [5 баллов] Окружности Ω и ω касаются в точке A внутренним образом. Отрезок AB – диаметр большей окружности Ω , а хорда BC окружности Ω касается ω в точке D . Луч AD повторно пересекает Ω в точке E . Прямая, проходящая через точку E перпендикулярно BC , повторно пересекает Ω в точке F . Найдите радиусы окружностей, угол AFE и площадь треугольника AEF , если известно, что $CD = 12$, $BD = 13$.

5. [5 баллов] Функция f определена на множестве положительных рациональных чисел. Известно, что для любых чисел a и b из этого множества выполнено равенство $f(ab) = f(a) + f(b)$, и при этом $f(p) = [p/4]$ для любого простого числа p ($[x]$ обозначает наибольшее целое число, не превосходящее x). Найдите количество пар натуральных чисел $(x; y)$ таких, что $4 \leq x \leq 28$, $4 \leq y \leq 28$ и $f(x/y) < 0$.

6. [5 баллов] Найдите все пары чисел $(a; b)$ такие, что неравенство

$$\frac{8 - 6x}{3x - 2} \geq ax + b \geq 18x^2 - 51x + 28$$

выполнено для всех x на промежутке $(\frac{2}{3}; 2]$.

7. [6 баллов] Дана пирамида $TXYZ$, вершина Y которой лежит на одной сфере с серединами всех её рёбер, кроме ребра TU . Известно, что $XY = \sqrt{3}$, $TX = \sqrt{2}$, $TZ = 2$. Найдите длину ребра XZ . Какой наименьший радиус может иметь сфера, описанная около данной пирамиды?

ПИСЬМЕННАЯ РАБОТА

N1

$$\sin(2\alpha + 4\beta) + \sin 2\alpha = 2 \sin \frac{4\alpha + 4\beta}{2} \cos \frac{4\beta}{2} = 2 \sin(2\alpha + 2\beta) \cos 2\beta = -\frac{2}{\sqrt{17}}$$

$$\sin(2\alpha + 2\beta) = -\frac{1}{\sqrt{17}} \Rightarrow 2 \cdot \left(-\frac{1}{\sqrt{17}}\right) \cdot \cos 2\beta = -\frac{2}{\sqrt{17}} \Rightarrow \cos 2\beta = \frac{1}{\sqrt{17}} \Rightarrow$$

$$2\beta = \pm \arccos \frac{1}{\sqrt{17}} + 2\pi k, k \in \mathbb{Z}$$

$$1) \sin(2\alpha + \arccos \frac{1}{\sqrt{17}}) = -\frac{1}{\sqrt{17}}$$

$$1.1. 2\alpha = -\arcsin \frac{1}{\sqrt{17}} - \arccos \frac{1}{\sqrt{17}} + 2\pi l, l \in \mathbb{Z}$$

$$\alpha = -\frac{\pi}{4} + \pi l, l \in \mathbb{Z}$$

$$\text{tg } \alpha = -\frac{\sqrt{2}}{2}$$

$$1.2. 2\alpha = \pi + \arcsin \frac{1}{\sqrt{17}} - \arccos \frac{1}{\sqrt{17}} + 2\pi n, n \in \mathbb{Z}$$

$$2\alpha = \frac{3\pi}{2} - 2\arccos \frac{1}{\sqrt{17}} + 2\pi n$$

$$\alpha = \frac{3\pi}{4} - \arccos \frac{1}{\sqrt{17}} + \pi n$$

$$\cos^2 \alpha = \left(\cos \frac{3\pi}{4} \cdot \frac{1}{\sqrt{17}} + \sin \frac{3\pi}{4} \cdot \frac{1}{\sqrt{17}} \right)^2 = \left(\frac{3}{\sqrt{34}} \right)^2 = \frac{9}{34}$$

$$\text{tg}^2 \alpha = \frac{1}{\cos^2 \alpha} - 1 = \frac{25}{9}$$

$$\alpha \in (0; \frac{\pi}{2}) \Rightarrow \text{tg } \alpha = \frac{5}{3}$$

$$\text{Ответ: } \frac{3}{5}, \frac{5}{3}, -\frac{\sqrt{2}}{2}$$

$$2) \sin(2\alpha - \arccos \frac{1}{\sqrt{17}}) = -\frac{1}{\sqrt{17}}$$

$$2.1. 2\alpha = \arccos \frac{1}{\sqrt{17}} - \arcsin \frac{1}{\sqrt{17}} + 2\pi l, l \in \mathbb{Z}$$

$$2\alpha = \frac{\pi}{2} - 2\arcsin \frac{1}{\sqrt{17}} + 2\pi l \Rightarrow$$

$$\alpha = \frac{\pi}{4} - \arcsin \frac{1}{\sqrt{17}} + \pi l$$

$$\cos^2 \alpha = \left(\cos \frac{\pi}{4} \cdot \frac{1}{\sqrt{17}} - \sin \frac{\pi}{4} \cdot \frac{1}{\sqrt{17}} \right)^2 = \left(\frac{5}{\sqrt{34}} \right)^2 = \frac{25}{34} \Rightarrow \text{tg}^2 \alpha = \frac{34}{25} - 1 = \frac{9}{25} \Rightarrow$$

$$\text{tg } \alpha = \frac{3}{5}$$

$$2.2. 2\alpha = \pi + \arcsin \frac{1}{\sqrt{17}} + \arccos \frac{1}{\sqrt{17}} + 2\pi n, n \in \mathbb{Z}$$

$$\alpha = \frac{3\pi}{4} + \pi n, n \in \mathbb{Z}$$

$$\text{tg } \alpha = -\frac{\sqrt{2}}{2}$$

N 2

$$\begin{cases} y - 6x = \sqrt{xy - 6x - y + 6} \\ 9x^2 + y^2 - 18x - 12y = 45 \end{cases} \quad \text{ODS } y - 6x \geq 0$$

$$\text{I ур-ние: } 36x^2 - 12xy + y^2 = xy - 6x - y + 6$$

$$36x^2 + (6 - 13y)x + y^2 + y - 6 = 0$$

$$D = 36 - 156y + 169y^2 - 144y^2 - 144y + 864 = 25y^2 - 300y + 900 = (5y - 30)^2 \Rightarrow x_1 = \frac{13y - 6 + 5y - 30}{72} = \frac{18y - 36}{72} = \frac{1}{4}y - \frac{1}{2}$$

$$\text{и } x_2 = \frac{13y - 6 - 5y + 30}{72} = \frac{1}{9}y + \frac{1}{3} \Rightarrow \text{возможны}$$

$$\text{2 случая: } 9x = y + 3 \text{ или } y = 9x - 3 \text{ и } 4x = y - 2 \text{ или}$$

$$y = 4x + 2$$

$$1) y = 9x - 3 \Rightarrow 9x^2 + 81x^2 - 54x + 9 - 18x - 108x + 36 = 45$$

$$90x^2 - 180x = 0 \Rightarrow x = 0 \text{ или } x = 2 \quad (0; -3) \notin \text{ODS}$$

$$~~(0; 2)~~ \text{ (пара } x=2 \text{ и } y=10 \notin \text{ODS)} \quad (2; 15) \in \text{ODS}$$

$$2) y = 4x + 2 \Rightarrow 9x^2 + 16x^2 + 16x + 4 - 18x - 48x - 24 = 45$$

$$25x^2 - 50x - 65 = 0 \Rightarrow 5x^2 - 10x - 13 = 0$$

$$D_1 = 3^2 + 5 \cdot 13 = 25 + 65 = 90 = (3\sqrt{10})^2$$

$$x_1 = \frac{5 + 3\sqrt{10}}{5} = 1 + \frac{3\sqrt{10}}{5} \quad x_2 = 1 - \frac{3\sqrt{10}}{5}$$

$$y_1 = 6 + \frac{12\sqrt{10}}{5}$$

$$y_2 = 6 - \frac{12\sqrt{10}}{5}$$

$$y_1 - 6x_1 = 6 + \frac{12\sqrt{10}}{5} - 6 -$$

$$y_2 - 6x_2 = 6 - \frac{12\sqrt{10}}{5} - 6 + \frac{18\sqrt{10}}{5} = \frac{6\sqrt{10}}{5}$$

$$- \frac{12\sqrt{10}}{5} = - \frac{6\sqrt{10}}{5} < 0$$

эта пара \in ODS

эта пара \notin ODS

$$\text{Ответ: } (2; 15) \text{ и } \left(1 - \frac{3\sqrt{10}}{5}; 6 - \frac{12\sqrt{10}}{5}\right)$$

ПИСЬМЕННАЯ РАБОТА

N 5

Для любого числа k $f(k) = f(1 \cdot k) = f(1) + f(k) \Rightarrow$
 $f(1) = 0$

$$f(1) = f\left(\frac{k}{k}\right) = f(k) + f\left(\frac{1}{k}\right) = 0 \Rightarrow f(k) = -f\left(\frac{1}{k}\right)$$

Найдём для каждого k от 4 до 28 $f(k)$ и $f\left(\frac{1}{k}\right)$,
основываясь на том что $f(p) = \left[\frac{p}{4}\right]$, где p - простое,
а также на том, что любое число $n \in \mathbb{N}$ можно
представить в виде произведения нескольких
простых чисел.

x	4	5	6	7	8	9	10	11	12	13	14	15	16	17	18	19	20	21	22	23	24	25	26	27	28
$f(x)$	0	1	0	1	0	0	1	2	0	3	1	1	0	4	0	4	1	1	2	5	0	2	3	0	1
$f\left(\frac{1}{x}\right)$	0	-1	0	-1	0	0	-1	-2	0	-3	-1	-1	0	-4	0	-4	-1	-1	-2	-5	0	-2	-3	0	-1

$f\left(\frac{x}{y}\right) = f(x) + f\left(\frac{1}{y}\right) = f(x) - f(y) \Rightarrow$ подходит все пары
 (x, y) для которых $f(x) < f(y)$

1. $f(x) = 0$ x : 9 чисел y : 16 чисел $9 \cdot 16 = 144$

2. $f(x) = 1$ x : 8 чисел y : 8 чисел $8 \cdot 8 = 64$

3. $f(x) = 2$ x : 3 числа y : 5 чисел $3 \cdot 5 = 15$

4. $f(x) = 3$ x : 2 числа y : 3 числа $2 \cdot 3 = 6$

5. $f(x) = 4$ x : 2 числа y : 1 число (23) $2 \cdot 1 = 2$

Всего вариантов $144 + 64 + 15 + 6 + 2 = 231$

Ответ: 231

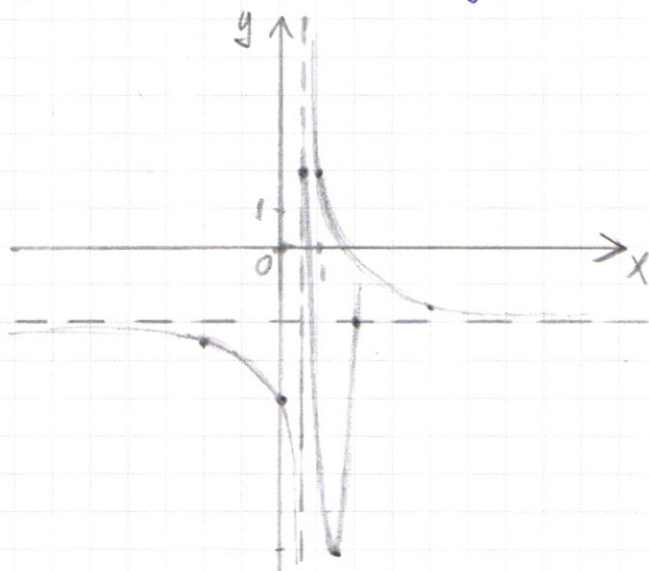
№6

Рассмотрим функцию $f(x) = \frac{8-6x}{3x-2} = \frac{4}{3x-2} - 2$
у нее есть вертикальная асимптота $x = \frac{2}{3}$
и горизонтальная $y = -2$

$$f'(x) = \frac{-12}{(3x-2)^2} < 0 \Rightarrow \text{функция убывает на } D(f)$$

Рассмотрим функцию $g(x) = 18x^2 - 51x + 28$: минимум
 $g(x)$ находится в т. $x_0 = \frac{51}{36} = \frac{17}{12} \in (\frac{2}{3}; 2]$ и $g(x_0) = \frac{18 \cdot 17^2}{12^2} -$
 $-\frac{3 \cdot 17^2}{12} + 28 = 28 - \frac{289}{8} < -8$

$$g(\frac{2}{3}) = \frac{18 \cdot 4}{9} - \frac{51 \cdot 2}{3} + 28 = 2, \quad g(2) = -2$$



Найдем прямую, проходящую через $(\frac{2}{3}; 2)$ и $(2; -2)$:

$$\begin{cases} \frac{2}{3}a + b = 2 \\ 2a + b = -2 \end{cases} \Rightarrow a = -3, \quad b = 4$$

Определим взаимное расположение $y = -3x + 4$ и
 $f(x) = \frac{8-6x}{3x-2}$: $-3x + 4 = \frac{2(4-3x)}{3x-2} \Rightarrow (4-3x)(3x-2) = 2(4-3x)$
 $\Rightarrow (4-3x)(3x-4) = 0 \Rightarrow (3x-4)^2 = 0$ и значит
функции касаются в т. $x = \frac{4}{3}$. Тогда никакое
другое расположение $y = ax + b$ не подходит, потому
что тогда она не будет одновременно ниже $f(x)$ и выше $g(x)$
на $(\frac{2}{3}; 2] \Rightarrow (-3; 4)$ - единств. ответ. Ответ: $a = -3, \quad b = 4$

ПИСЬМЕННАЯ РАБОТА

№3

$$|x^2 - 26x| \log_5 12 + 26x \geq x^2 + 13 \log_5(26x - x^2)$$

$$\text{ОДЗ: } 26x - x^2 > 0 \Rightarrow x \in (0; 26)$$

Поскольку по ОДЗ $\neq 26x - x^2 > 0$, $|x^2 - 26x| = 26x - x^2$

$$(26x - x^2) \log_5 12 + (26x - x^2) \log_5 5 \geq (26x - x^2) \log_5 13$$

$$\log_5 12 \log_5(26x - x^2) + 5 \log_5(26x - x^2) \geq 13 \log_5(26x - x^2)$$

Введем замену: $a = \log_5(26x - x^2)$

$$12^a + 5^a \geq 13^a$$

Заметим, что при $a = 2$ $12^a + 5^a = 13^a$

Функции $f(a) = 12^a + 5^a$ и $g(a) = 13^a$ монотонные

\Rightarrow решением является либо $a \in (-\infty; 2]$, либо

$a \in [2; +\infty)$. При $a = 1$ $12^a + 5^a > 13^a \Rightarrow a \in (-\infty; 2]$

Вернемся к замене: $\log_5(26x - x^2) \leq 2$

$$26x - x^2 \leq 25 \Rightarrow x^2 - 26x + 25 \geq 0 \Rightarrow x \in (-\infty; 1] \cup [25; +\infty)$$

С учетом ОДЗ $x \in (0; 1] \cup [25; 26)$

Ответ: $x \in (0; 1] \cup [25; 26)$



черновик чистовик
(Поставьте галочку в нужном поле)

Страница №__
(Нумеровать только чистовики)

$$f(5) = f(1) + f(5)$$

$$f(1) = 0 \quad f(5) = 1$$

$$f(6) = f(2) + f(3) = 0 + 0 = 0$$

$$f(28) = \cancel{f(2) + f(2) + f(7)} = 0 + 0 + f(4) + f(7) = f(2) + f(2) + f(7) = 1$$

$$f(25) = f(5) + f(5) = 2$$

1	2	3	4	5	6	7	8	9	10	11	12	13	14	15	16	17	18	19	20	21
0	0	0	0	1	0	1	0	0	1	2	0	3	1	1	0	4	0	4	1	1

$$f\left(\frac{1}{5}\right) = f(5) + f\left(\frac{1}{25}\right) = 1 + f\left(\frac{1}{25}\right)$$

$$f\left(\frac{1}{2}\right) = f(2) + f\left(\frac{1}{4}\right) = f\left(\frac{1}{4}\right)$$

$$f(3) = f(6) + f\left(\frac{1}{2}\right) \Rightarrow f\left(\frac{1}{2}\right) = 0$$

$$f(5) = f(25) + f\left(\frac{1}{5}\right) \Rightarrow f\left(\frac{1}{5}\right) = -1$$

$$f(x) = -f\left(\frac{1}{x}\right)$$

$$2f(x) = f(x^2) \quad f(x^2) = f(x) + f(x) \quad f(1) = f\left(\frac{x}{x}\right) = f(x) + f\left(\frac{1}{x}\right)$$

$$f(x) = f(x^2) + f\left(\frac{1}{x}\right)$$

$$f(x) = 2f(x) + f\left(\frac{1}{x}\right) \Rightarrow f\left(\frac{1}{x}\right) = -f(x)$$

1	2	3	4	5	6	7	8	9	10	11	12	13	14	15	16	17	18	19	20	21	22	23	24	25	26	27	28
0	0	0	0	1	0	1	0	0	1	2	0	3	1	1	0	4	0	4	1	1	2	5	0	2	3	0	1


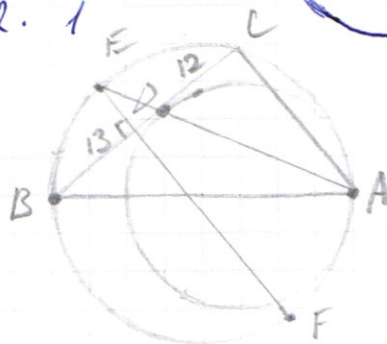
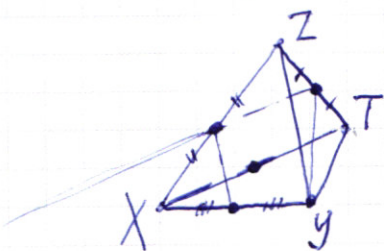
$$f(x) = 0 \quad f(y) > 0 \quad \text{8} \cdot 16$$

$$f(x) = 1 \quad f(y) > 1 \quad \text{8} \cdot 8$$

$$f(x) = 2 \quad f(y) > 2 \quad \text{3} \cdot 5$$

$$f(x) = 3 \quad f(y) > 3 \quad \text{2} \cdot 3$$

$$f(x) = 4 \quad f(y) > 4 \quad \text{2} \cdot 1$$



ПИСЬМЕННАЯ РАБОТА

$$y = \frac{8-6x}{3x-2} \quad k = \lim_{x \rightarrow \infty} \frac{8-6x}{3x^2-2x} = \lim_{x \rightarrow \infty} \frac{\frac{8}{x}-6}{3x-2} = \lim_{x \rightarrow \infty} \frac{-6}{3x-2} = \lim_{x \rightarrow \infty} \frac{-6}{3x} = \lim_{x \rightarrow \infty} \frac{-2}{x} = 0$$

$$y' = \frac{-6(3x-2) - 3(8-6x)}{(3x-2)^2} = \frac{-18x+12-24+18x}{(3x-2)^2} = \frac{-12}{(3x-2)^2} < 0$$

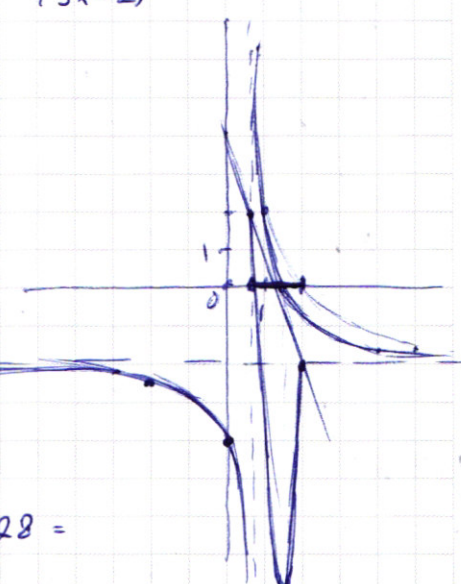


$$y' = 2 \cdot \frac{-3(3x-2) - 3(4-3x)}{(3x-2)^2}$$

$$y = 2 \cdot \frac{4-3x}{3x-2} = -2 \cdot \frac{3x-4}{3x-2} = -2 \cdot \left(1 - \frac{2}{3x-2}\right) = \frac{4}{3x-2} - 2$$

$$y' = \frac{0(3x-2) - 3 \cdot 4}{(3x-2)^2} = \frac{-12}{(3x-2)^2}$$

$$\begin{aligned} y(0) &= -4 \\ y(-1) &= \frac{4}{-5} - 2 = -\frac{14}{5} \\ y(1) &= \frac{4}{1} - 2 = 2 \\ y\left(\frac{5}{6}\right) &= \frac{4}{0,5} - 2 = 6 \\ y(-2) &= -2,5 \end{aligned}$$



$$y = 18x^2 - 51x + 28$$

$$x_0 = \frac{51}{36} \approx 1,5 \quad \frac{51}{36} = \frac{17}{12}$$

$$\begin{aligned} y(x_0) &= \frac{18 \cdot 17^2}{12^2} - \frac{3 \cdot 17^2}{12} + 28 = \frac{1,5 \cdot 17^2}{12} - \frac{3 \cdot 17^2}{12} + 28 = \\ &= -\frac{3 \cdot 17^2}{24} + 28 = 28 - \frac{17^2}{8} = 28 - \frac{289}{8} \approx 28 - 36 = -8 \end{aligned}$$

$$y(2) = 18 \cdot 4 - 51 \cdot 2 + 28 = 72 - 102 + 28 = -2$$

$$y\left(\frac{2}{3}\right) = \frac{18 \cdot 4}{9} - \frac{51 \cdot 2}{3} + 28 = 8 - 34 + 28 = 2$$

$$\begin{cases} \frac{2}{3}a + b = 2 \\ 2a + b = -2 \end{cases} \quad \frac{4}{3}a = -4 \Rightarrow a = -3 \quad b = 4$$

$$-3x + 4 = \frac{-3x + 4}{3x - 2} \cdot 2 \quad (4 - 3x)(3x - 2) = 2(4 - 3x)$$

$$x = \frac{4}{3} \quad 3x - 2 = 2 \quad x = \frac{4}{3}$$

ПИСЬМЕННАЯ РАБОТА

$$\sin(2\alpha + 2\beta) = -\frac{1}{\sqrt{17}}$$

$$\sin(2\alpha + 4\beta) + \sin 2\alpha = 2 \sin(2\alpha + 2\beta) \cos(2\beta)$$

$$\sin(\alpha + \beta) = \sin\alpha \cos\beta + \cos\alpha \sin\beta$$

$$\sin(\alpha - \beta) = \sin\alpha \cos\beta - \cos\alpha \sin\beta$$

$$\sin(\alpha - \beta) + \sin(\alpha + \beta) = 2 \sin\alpha \cos\beta \Rightarrow \sin\alpha + \sin\beta = 2 \sin \frac{\alpha + \beta}{2} \cos \frac{\alpha - \beta}{2}$$

$$\sin(2\alpha + 2\beta) = -\frac{1}{\sqrt{17}} \quad 2 \sin(2\alpha + 2\beta) \cos 2\beta = -\frac{2}{\sqrt{17}}$$

$$-\frac{2}{\sqrt{17}} \cos 2\beta = -\frac{2}{\sqrt{17}} \quad \cos 2\beta = \frac{1}{\sqrt{17}} \Rightarrow \sin 2\beta = \frac{4}{\sqrt{17}}$$

$$\sin(2\alpha + 2\beta) = \sin 2\alpha \cos 2\beta + \sin 2\beta \cos 2\alpha$$

$$\frac{1}{\sqrt{17}} \sin 2\alpha + \frac{4}{\sqrt{17}} \cos 2\alpha = -\frac{1}{\sqrt{17}}$$

$$\sin\left(2\alpha + \arcsin \frac{4}{\sqrt{17}}\right) = -\frac{1}{\sqrt{17}}$$

$$2\alpha = \arcsin\left(-\frac{1}{\sqrt{17}}\right) + \arcsin \frac{4}{\sqrt{17}} + 2\pi k, \quad k \in \mathbb{Z}$$

$$2\alpha = \pi - \arcsin\left(-\frac{1}{\sqrt{17}}\right) - \arcsin \frac{4}{\sqrt{17}} + 2\pi k, \quad l \in \mathbb{Z}$$

$$\left[\begin{array}{l} 2\alpha = -\frac{\pi}{2} + 2\pi k, \quad k \in \mathbb{Z} \\ 2\alpha = \pi + \frac{\pi}{2} - \arccos \arcsin \frac{1}{\sqrt{17}} - \arcsin \frac{4}{\sqrt{17}} + 2\pi l, \quad l \in \mathbb{Z} \end{array} \right.$$

$$\left[\begin{array}{l} \alpha = -\frac{\pi}{4} + \pi k, \quad k \in \mathbb{Z} \\ \alpha = \frac{\pi}{2} + \frac{1}{2} \left(\arccos \frac{4}{\sqrt{17}} - \arcsin \frac{4}{\sqrt{17}} \right) + \pi l = \frac{\pi}{2} + \frac{1}{2} \left(\frac{\pi}{2} + 2 \arccos \frac{4}{\sqrt{17}} \right) + \pi l = \\ = \frac{\pi}{4} + \arccos \frac{4}{\sqrt{17}} + \pi l \end{array} \right.$$

$$1. \quad \operatorname{tg} \alpha = -\frac{\sqrt{2}}{2}$$

4

$$2. \quad \cos \alpha = \cos \frac{\pi}{4} \cos\left(\arccos \frac{4}{\sqrt{17}}\right) - \sin \frac{\pi}{4} \sin\left(\arccos \frac{4}{\sqrt{17}}\right) = \\ = \frac{\sqrt{2}}{2} \cdot \frac{4}{\sqrt{17}} - \frac{\sqrt{2}}{2} \cdot \frac{1}{\sqrt{17}} = \frac{3\sqrt{2}}{2\sqrt{17}} = \frac{3}{\sqrt{34}}$$

$$\operatorname{tg}^2 \alpha + 1 = \frac{1}{\cos^2 \alpha} \quad \operatorname{tg}^2 \alpha = \frac{34}{9} - 1 = \frac{25}{9} \Rightarrow \operatorname{tg} \alpha = \pm \frac{5}{3}$$

$$\begin{cases} y - 6x = \sqrt{xy - 6x - y + 6} \\ 9x^2 + y^2 - 18x - 12y = 45 \end{cases}$$

ОДЗ: $y - 6x \geq 0$

$$\begin{array}{r} \times 144 \\ \hline 864 \end{array}$$

$$T. y^2 - 12xy + 36x^2 = xy - 6x - y + 6$$

$$36x^2 - 13xy + y^2 + 6x + y - 6 = 0$$

$$36x^2 + (6 - 13y)x + y^2 + y - 6 = 0$$

$$D = 36 - 156y + 169y^2 - 4y^2 - 144y^2 - 144y + 864 = 25y^2 - 300y + 900 = (5y - 30)^2$$

$$x_{1,2} = \frac{13y - 6 \pm 5y - 30}{72} = \frac{18y - 36}{72} = \frac{1}{4}y - \frac{1}{2}$$

$$x_2 = \frac{13y - 6 - 5y + 30}{72} = \frac{1}{9}y + \frac{1}{3}$$

$$36(x - \frac{1}{4}y + \frac{1}{2})(x - \frac{1}{9}y - \frac{1}{3}) = 0$$

$$(4x - y + 2)(9x - y + 3) = 0$$

$$y = 4x + 2 \quad y = 9x + 3$$

$$9x^2 + 16x^2 + 16x + 4 - 18x - 48x - 24 = 45$$

$$25x^2 - 50x - 65 = 0$$

$$x^a + x^b - x^c \geq 0$$

$$5x^2 - 10x - 13 = 0$$

$$D_1 = 25 + 65 = 90$$

$$|x^2 - 26x| \log_5 12 + 26x \geq x^2 + 13 \log_5 (26x - x^2)$$

ОДЗ: $26x - x^2 > 0 \quad x \in (0; 26)$

$$(26x - x^2) \log_5 12 + 26x \geq x^2 + (26x - x^2) \log_5 13$$

$$(26x - x^2) \log_5 12 + (26x - x^2) - (26x - x^2) \log_5 13 \geq 0$$

$$t = 26x - x^2, \quad t > 0$$

$$t \log_5 12 + t \geq t \log_5 13 \quad 12 \log_5 t + 5 \log_5 t \geq 13 \log_5 t$$

$$\log_t (t \log_5 12 + t) \geq \log_t (t \log_5 13) \quad \log_t (t \log_5 12 + t) \geq \log_5 13$$

$$1 + \log_t (t \log_5 12 - 1 + 1) \geq \log_5 13$$

$$12^a + 5^a \geq 13^a$$

При $a = 2 \quad 12^2 + 5^2 \geq 13^2 \quad a \leq 2 \quad 26x - x^2 \leq 25$