

МОСКОВСКИЙ ФИЗИКО-ТЕХНИЧЕСКИЙ ИНСТИТУТ
ОЛИМПИАДА "ФИЗТЕХ" ПО МАТЕМАТИКЕ

11 класс

ВАРИАНТ 2

ШИФР _____

Заполняется ответственным секретарём

1. [3 балла] Углы α и β удовлетворяют равенствам

$$\sin(2\alpha + 2\beta) = -\frac{1}{\sqrt{5}}; \quad \sin(2\alpha + 4\beta) + \sin 2\alpha = -\frac{2}{5}.$$

Найдите все возможные значения $\operatorname{tg} \alpha$, если известно, что он определён и что этих значений не меньше трёх.

2. [4 балла] Решите систему уравнений

$$\begin{cases} x - 12y = \sqrt{2xy - 12y - x + 6}, \\ x^2 + 36y^2 - 12x - 36y = 45. \end{cases}$$

3. [5 баллов] Решите неравенство

$$10x + |x^2 - 10x|^{\log_3 4} \geq x^2 + 5^{\log_3(10x - x^2)}.$$

4. [5 баллов] Окружности Ω и ω касаются в точке A внутренним образом. Отрезок AB – диаметр большей окружности Ω , а хорда BC окружности Ω касается ω в точке D . Луч AD повторно пересекает Ω в точке E . Прямая, проходящая через точку E перпендикулярно BC , повторно пересекает Ω в точке F . Найдите радиусы окружностей, угол AFE и площадь треугольника AEF , если известно, что $CD = \frac{15}{2}$, $BD = \frac{17}{2}$.

5. [5 баллов] Функция f определена на множестве положительных рациональных чисел. Известно, что для любых чисел a и b из этого множества выполнено равенство $f(ab) = f(a) + f(b)$, и при этом $f(p) = [p/4]$ для любого простого числа p ($[x]$ обозначает наибольшее целое число, не превосходящее x). Найдите количество пар натуральных чисел $(x; y)$ таких, что $2 \leq x \leq 25$, $2 \leq y \leq 25$ и $f(x/y) < 0$.

6. [5 баллов] Найдите все пары чисел $(a; b)$ такие, что неравенство

$$\frac{16x - 16}{4x - 5} \leq ax + b \leq -32x^2 + 36x - 3$$

выполнено для всех x на промежутке $[\frac{1}{4}; 1]$.

7. [6 баллов] Дана пирамида $KLMN$, вершина N которой лежит на одной сфере с серединами всех её рёбер, кроме ребра KN . Известно, что $KL = 3$, $KM = 1$, $MN = \sqrt{2}$. Найдите длину ребра LM . Какой наименьший радиус может иметь сфера, описанная около данной пирамиды?

ПИСЬМЕННАЯ РАБОТА

№ 1

По условию:

$$\sin(2\alpha + 4\beta) + \sin 2\alpha = -\frac{2}{5}$$

$$\sin(2\alpha + 4\beta) + \sin 2\alpha = 2 \sin\left(\frac{2\alpha + 4\beta + 2\alpha}{2}\right) \cos\left(\frac{2\alpha + 4\beta - 2\alpha}{2}\right) = 2 \sin(2\alpha + 2\beta) \cdot \cos 2\beta$$

$$\text{Зн., } 2 \sin(2\alpha + 2\beta) \cos 2\beta = -\frac{2}{5}$$

$$\sin(2\alpha + 2\beta) \cos 2\beta = -\frac{1}{5}$$

$$\sin(2\alpha + 2\beta) = -\frac{1}{5} \cos 2\beta \quad \left. \begin{array}{l} \text{по условию} \\ \text{по условию!} \end{array} \right\} \Rightarrow$$

$$\cos 2\beta = \frac{1}{5} \Rightarrow \sin 2\beta = \pm \sqrt{1 - \cos^2 2\beta} = \pm \frac{2}{5}$$

$$\sin(2\alpha + 2\beta) = -\frac{1}{5}$$

$$\sin 2\alpha \cos 2\beta + \sin 2\beta \cos 2\alpha = -\frac{1}{5}$$

$$\frac{1}{5} \sin 2\alpha + \frac{2}{5} \cos 2\alpha = -\frac{1}{5}$$

$$\sin 2\alpha + 2 \cos 2\alpha = -1$$

Рассмотрим 2 случая:

$$1) \sin 2\alpha + 2 \cos 2\alpha = -1$$

$$2 \sin \alpha \cos \alpha + 4 \cos^2 \alpha - 2 + 1 = 0$$

$$2 \sin \alpha \cos \alpha + 4 \cos^2 \alpha - 1 = 0$$

$$2 \sin \alpha \cos \alpha + 4 \cos^2 \alpha - \sin^2 \alpha - \cos^2 \alpha = 0$$

$$3 \cos^2 \alpha + 2 \sin \alpha \cos \alpha - \sin^2 \alpha = 0$$

$$3(\cos \alpha + \sin \alpha)(\cos \alpha - \frac{1}{3} \sin \alpha) = 0$$

$$\cos \alpha + \sin \alpha = 0 \quad \text{или} \quad \cos \alpha - \frac{1}{3} \sin \alpha = 0$$

$$\cos \alpha = -\sin \alpha$$

$$\text{tg } \alpha \text{ существует.} \quad \left. \begin{array}{l} \text{на уел.} \\ \text{на уел.} \end{array} \right\} \Rightarrow$$

$$\Rightarrow \text{tg } \alpha = \frac{\sin \alpha}{\cos \alpha} = -1$$

$$\cos \alpha = \frac{1}{3} \sin \alpha$$

$$\text{tg } \alpha \text{ существует.} \quad \left. \begin{array}{l} \text{на уел.} \\ \text{на уел.} \end{array} \right\} \Rightarrow$$

$$\Rightarrow \text{tg } \alpha = \frac{\sin \alpha}{\cos \alpha} = 3$$

$$2) \sin 2\alpha - 2 \cos 2\alpha = -1$$

$$2 \sin \alpha \cos \alpha - 4 \cos^2 \alpha + 2 = -1$$

$$4 \cos^2 \alpha - 2 \sin \alpha \cos \alpha - 3 = 0$$

$$4 \cos^2 \alpha - 2 \sin \alpha \cos \alpha - 3 \sin^2 \alpha - 3 \cos^2 \alpha = 0$$

$$\cos^2 \alpha - 2 \sin \alpha \cos \alpha - 3 \sin^2 \alpha = 0$$

$$(\cos \alpha + \sin \alpha)(\cos \alpha - 3 \sin \alpha) = 0$$

$$\cos \alpha + \sin \alpha = 0 \quad \text{или} \quad \cos \alpha - 3 \sin \alpha = 0$$

$$\text{tg } \alpha = -1$$

$$\cos \alpha = 3 \sin \alpha$$

$$\text{tg } \alpha \text{ существует.} \quad \left. \begin{array}{l} \text{на уел.} \\ \text{на уел.} \end{array} \right\} \Rightarrow$$

$$\Rightarrow \text{tg } \alpha = \frac{\sin \alpha}{\cos \alpha} = \frac{1}{3}$$

Зн., все возможные значения $\text{tg } \alpha$ - это $-1, 3, \frac{1}{3}$

Ответ: $-1; \frac{1}{3}; 3$

ПИСЬМЕННАЯ РАБОТА

$\alpha = \arccos \frac{\sqrt{17}}{17}$
 Зк., $\angle AFE = \arccos \frac{\sqrt{17}}{17}$
 7) $\sin \alpha = +\sqrt{1 - \cos^2 \alpha} = +\sqrt{1 - \frac{1}{17}} = \frac{4}{\sqrt{17}}$
 8) По т. синусов для ΔABE :
 $\frac{AE}{\sin \alpha} = 2R$, где R - радиус ω
 $R = \frac{AE}{2 \sin \alpha}$
 $AE = x + y$
 $y = \frac{17}{2} \cos \alpha$ (по гок.) $\Rightarrow y = \frac{17}{2} \cdot \frac{\sqrt{17}}{17} = \frac{\sqrt{17}}{2}$
 ΔDCA - прямоуго. с $\angle DCA = 90^\circ$ $\Rightarrow \frac{\frac{15}{2}}{x} = \cos \alpha$
 $x = \frac{15}{2 \cos \alpha} = \frac{15}{2 \cdot \frac{\sqrt{17}}{17}} = \frac{15 \sqrt{17}}{2}$
 $AE = \frac{\sqrt{17}}{2} + \frac{15 \sqrt{17}}{2} = \frac{16 \sqrt{17}}{2}$
 $R = \frac{\frac{16 \sqrt{17}}{2}}{2 \cdot \frac{4}{\sqrt{17}}} = \frac{16 \sqrt{17} \cdot \sqrt{17}}{2 \cdot 4 \cdot 2} = 17$
 9) По т. синусов для ΔADX :
 $\frac{AD}{\sin \alpha} = 2r$, где r - радиус ω
 $r = \frac{AD}{2 \sin \alpha} = \frac{x}{2 \sin \alpha} = \frac{\frac{15 \sqrt{17}}{2}}{2 \cdot \frac{4}{\sqrt{17}}} = \frac{15 \sqrt{17} \cdot \sqrt{17}}{2 \cdot 2 \cdot 4} = \frac{15 \cdot 17}{16} = 17 - \frac{17}{16} =$
 $= 17 - 1 - \frac{1}{16} = 16 - 0,0625 = 15,9375$
 10) EF проходит через O - центр ω (по гок.) $\Rightarrow EF$ - диаметр
 $\omega \Rightarrow \angle EAF = 90^\circ \Rightarrow S(\Delta AEF) = \frac{1}{2} \cdot AE \cdot AF$
 $AF^2 = EF^2 - AE^2$
 EF - диаметр $\omega \Rightarrow EF = 2R = 34$
 $AE = \frac{16 \sqrt{17}}{2}$ (по гок.)
 $AF^2 = 34^2 - \frac{16^2 \cdot 17}{4} = \frac{4 \cdot 4 \cdot 17^2 - 16^2 \cdot 17}{4} = \frac{16 \cdot 17 \cdot 17 - 16 \cdot 16 \cdot 17}{4} =$
 $= \frac{16 \cdot 17}{4} = 4 \cdot 17 =$
 $AF = 2 \sqrt{17}$
 $S(\Delta AEF) = \frac{1}{2} \cdot \frac{16 \sqrt{17}}{2} \cdot 2 \sqrt{17} = \frac{32 \cdot 17}{4} = 8 \cdot 17 = 136$
 Ответ: $r = 15,9375$; $R = 17$; $\angle AFE = \arccos \frac{\sqrt{17}}{17}$; $S(\Delta AEF) =$
 $= 136$

№5

Подставим $a = b = 1$ в условие:

$$f(1) + f(1) = f(1 \cdot 1)$$

$$2f(1) = f(1)$$

$$f(1) = 0$$

Возьмём $a = \frac{x}{y}$, $b = \frac{y}{x}$:

$$f\left(\frac{x}{y}\right) + f\left(\frac{y}{x}\right) = f\left(\frac{x}{y} \cdot \frac{y}{x}\right)$$

$$f\left(\frac{x}{y}\right) + f\left(\frac{y}{x}\right) = f(1) = 0$$

Зн., либо одно из $f\left(\frac{x}{y}\right)$ и $f\left(\frac{y}{x}\right)$ меньше 0, а второе больше 0, либо $f\left(\frac{x}{y}\right) = f\left(\frac{y}{x}\right) = 0$

Пусть $f\left(\frac{x}{y}\right) = f\left(\frac{y}{x}\right) = 0$, то:

$$f\left(\frac{x}{y}\right) + f(y) = f\left(\frac{x}{y} \cdot y\right)$$

$$f(y) = f(x)$$

Зн., $f\left(\frac{x}{y}\right) = f\left(\frac{y}{x}\right) = 0$, если $f(y) = f(x)$.

Если $f(x) = f(y)$, то $f\left(\frac{x}{y}\right) + f(y) = f(x)$

$$f\left(\frac{x}{y}\right) = f(x) - f(y) = 0$$

Зн., $f\left(\frac{x}{y}\right) = f\left(\frac{y}{x}\right) = 0$ тогда и только тогда, когда $f(x) = f(y)$

Рассмотрим все $f(n)$, $1 \leq n \leq 25$, $n \in \mathbb{N}$:

$$f(1) = 0$$

$$f(2) = \left\lfloor \frac{2}{2} \right\rfloor = 0$$

$$f(3) = \left\lfloor \frac{3}{3} \right\rfloor = 0$$

$$f(4) = f(2) + f(2) = 0$$

$$f(5) = \left\lfloor \frac{5}{5} \right\rfloor = 1$$

$$f(6) = f(2) + f(3) = 0$$

$$f(7) = \left\lfloor \frac{7}{7} \right\rfloor = 1$$

$$f(8) = f(4) + f(2) = 0$$

$$f(9) = f(3) + f(3) = 0$$

$$f(10) = f(2) + f(5) = 1$$

$$f(11) = \left\lfloor \frac{11}{11} \right\rfloor = 1$$

$$f(12) = f(2) + f(6) = 0$$

$$f(13) = \left\lfloor \frac{13}{13} \right\rfloor = 1$$

$$f(14) = f(2) + f(7) = 1$$

$$f(15) = f(3) + f(5) = 1$$

$$f(16) = f(2) + f(8) = 0$$

$$f(17) = \left\lfloor \frac{17}{17} \right\rfloor = 1$$

$$f(18) = f(2) + f(9) = 0$$

$$f(19) = \left\lfloor \frac{19}{19} \right\rfloor = 1$$

$$f(20) = f(2) + f(10) = 1$$

$$f(21) = f(3) + f(7) = 1$$

$$f(22) = f(2) + f(11) = 1$$

$$f(23) = \left\lfloor \frac{23}{23} \right\rfloor = 1$$

$$f(24) = f(2) + f(12) = 0$$

$$f(25) = f(5) + f(5) = 2$$

Всего здесь вычетов:

0: 11 раз

1: 7 раз

2: 3 раз

3: 1 раз

4: 2 раз

5: 1 раз

Пара $(x; y)$, где $f(x) = f(y)$,

тогда как $f\left(\frac{x}{y}\right) = f\left(\frac{y}{x}\right) = 0$.

Пара $(x; y)$, где $f(x) \neq f(y)$,

тогда как $f\left(\frac{x}{y}\right) < 0$ или

$f\left(\frac{y}{x}\right) > 0$ (наименее одно).

Посчитаем количество пар

$(x; y)$ таких, что $f(x) \neq f(y)$.

Это и будет искомым ответом (т.к. каждая такая

пара даёт ровно одно число

$\frac{x}{y}$ или $\frac{y}{x}$ - искомое).

Всего таких пар:

$$11 \cdot (7 + 3 + 1 + 2 + 1) + 7 \cdot (3 + 1 + 2 + 1) +$$

$$+ 3 \cdot (1 + 2 + 1) + 1 \cdot (2 + 1) + 2 \cdot 1 =$$

$$= 11 \cdot 14 + 7 \cdot 7 + 3 \cdot 4 + 3 + 2 =$$

$$= 154 + 49 + 12 + 5 =$$

$$= 154 + 49 + 17 = 154 + 66 =$$

$$= 220$$

$$\text{Ответ: } 220$$

$\sqrt{2}$

$$\begin{cases} x - 12y = \sqrt{2xy - 12y - x + 6} \\ x^2 + 36y^2 - 12x - 36y = -45 \end{cases}$$

$$\begin{cases} x^2 + 36y^2 - 12x - 36y = -45 \\ (x - 12y)^2 = 2xy - 12y - x + 6 \end{cases}$$

$$\begin{cases} x^2 + 36y^2 - 12x - 36y = -45 \\ x - 12y \geq 0 \end{cases}$$

$$\begin{cases} x^2 + 36y^2 - 12x - 36y = -45 \\ 2xy - 12y - x + 6 \geq 0 \end{cases}$$

$$\begin{cases} x^2 + 36y^2 - 12x - 36y = -45 \\ 2xy - 12y - x + 6 \geq 0 \end{cases}$$

$$\begin{cases} x^2 + 36y^2 - 12x - 36y = -45 \\ 2xy - 12y - x + 6 \geq 0 \end{cases}$$

ПИСЬМЕННАЯ РАБОТА

$$\begin{cases} x^2 - 24xy + 144y^2 - 2xy + 12y + x - 6 = 0 \\ x^2 + 36y^2 - 12x - 36y + 45 = 0 \\ x \geq 12y \\ 2xy - 12y - x + 6 \geq 0 \end{cases}$$

$$(x^2 - 24xy + 144y^2 + 12y + x - 6) - (x^2 + 36y^2 - 12x - 36y + 45) = 0$$

$$x^2 - 24xy + 144y^2 + 12y + x - 6 - x^2 - 36y^2 + 12x + 36y - 45 = 0$$

$$108y^2 + 48y - 51 + 13x - 26xy = 0$$

$$108y^2 + 48y - 51 = 13x(2y - 1)$$

$$\begin{cases} x - 12y = \sqrt{2xy - 12y - x + 6} \\ x^2 + 36y^2 - 12x - 36y = 45 \\ x^2 + 144y^2 - 24xy = 2xy - 12y - x + 6 \\ x^2 + 36y^2 - 12x - 36y - 45 = 0 \\ x - 12y \geq 0 \\ 2xy - 12y - x + 6 \geq 0 \end{cases}$$

$$(x^2 + 144y^2 - 24xy + 12y + x - 6) - (x^2 + 36y^2 - 12x - 36y - 45) = 0$$

$$108y^2 - 26xy + 48y + 13x + 39 = 0$$

$$108y^2 + 48y + 39 = 13x(2y - 1)$$

$$2y - 1 = 0 \quad \text{или} \quad x = \frac{108y^2 + 48y + 39}{13(2y - 1)}$$

$$y = \frac{1}{2}$$

$$x - 12y = \sqrt{2xy - 12y - x + 6}$$

$$x - 6 = \sqrt{2 \cdot x \cdot \frac{1}{2} - 6 - x + 6}$$

$$x - 6 = 0$$

$$x = 6$$

$$6^2 + 36 \cdot \left(\frac{1}{2}\right)^2 - 12 \cdot 6 - 36 \cdot \frac{1}{2} = 36 + 9 - 72 - 18 = -45 \neq 45 \Rightarrow 2y - 1 \neq 0$$

$$\begin{cases} x - 12y = \sqrt{2xy - 12y - x + 6} \\ x^2 + 36y^2 - 12x - 36y = 45 \end{cases}$$

$$\begin{cases} (x - 6) - 6(2y - 1) = \sqrt{(x - 6)(2y - 1)} \\ (x - 6)^2 + 36(2y - 1)^2 = 36 \end{cases}$$

Пусть $x - 6 = a$, $2y - 1 = b$, то:

$$\begin{cases} a - 6b = \sqrt{ab} \\ a^2 + 36b^2 = 36 \end{cases}$$

$$\begin{cases} a^2 + 36b^2 - 12ab = 6b \\ a^2 + 9b^2 = 90 \\ ab \geq 0 \\ a - 6b \geq 0 \end{cases}$$

$$\begin{cases} a^2 + 36b^2 - 12ab = 0 \\ a^2 + 9b^2 = 90 \\ ab \geq 0 \\ a - 6b \geq 0 \end{cases}$$

$$a^2 + 36b^2 - 12ab - a^2 - 9b^2 = 0 + 90$$

$$27b^2 - 12ab = 90$$

$$27b^2 + 90 = 12ab$$

$$b = 0 \text{ или } a = \frac{27b^2 + 90}{12b}$$

$$27b^2 - 90 = 90$$

$$-90 = 90 \text{ - неверно}$$

$$\Rightarrow b \neq 0$$

$$27b^2 + 9 = 90$$

$$90 = 90 \text{ - верно}$$

$$\Rightarrow b \neq 0$$

$$\left(\frac{27b^2 + 90}{12b}\right)^2 + 9b^2 = 90$$

$$\frac{729b^4 + 8100 + 4860b^2}{144b^2} + 9b^2 = 90$$

$$\frac{729b^4 + 8100 + 4860b^2 + 1296b^4 - 1296b^2}{144b^2} = 90$$

$$\frac{2250b^4 - 20070b^2 + 8100}{144b^2} = 90$$

$$\frac{2250b^4 - 10350b^2 + 8100}{144b^2} = 90$$

$$\frac{225b^4 - 1035b^2 + 810}{144b^2} = 90$$

$$\frac{225(b^2 - 1)(b^2 - \frac{810}{225})}{144b^2} = 90$$

$$b^2 - 1 = 0 \text{ или } b^2 - \frac{810}{225} = 0$$

$$b^2 = 1$$

$$b = \pm 1$$

$$b^2 = \frac{810}{225}$$

$$b = \pm \frac{8\sqrt{10}}{15} = \pm \frac{3\sqrt{10}}{5}$$

$$1) b = 1 \Rightarrow a = \frac{27 + 90}{12} = 8$$

$$y = 1 \quad x = 15 \text{ - подходит}$$

$$2) b = -1 \Rightarrow a = \frac{27 + 90}{-12} = -8 \text{ - не подходит, т.к.}$$

$$y = 0$$

$$x = -3$$

$$a - 6b^2 = 8 - 6 < 0$$

ПИСЬМЕННАЯ РАБОТА

$$3) b = \frac{3\sqrt{10}}{5} \quad \Rightarrow \quad a = \frac{27 \cdot \frac{810}{225} + 90}{13 - \frac{810}{225}} = \frac{3 \cdot \frac{810}{225} + 90}{13 - \frac{90}{225}}$$

$$y = \frac{\frac{3\sqrt{10}}{5} + 1}{2} = \frac{3\sqrt{10} + 5}{10}$$

$$= \frac{3 \cdot \frac{81}{225} + 1}{13 \cdot \frac{1}{225}} = \frac{243 + 225}{13}$$

$$= \frac{468}{13} = 36$$

$x = 42$ - подходит

$$4) b = -\frac{3\sqrt{10}}{5} \quad \Rightarrow \quad a = -36 \text{ - не подходит, т.к.}$$

$$a - 6b < 0$$

Значит $x = 42$, $y = \frac{3\sqrt{10} + 5}{10}$ и $x = 15$, $y = 1$ - все
решения

Ответ: $x = 42$, $y = \frac{3\sqrt{10} + 5}{10}$; $x = 15$, $y = 1$

0: 11
 1: 7
 2: 3
 3: 1
 4: 2
 5: 1

$$\frac{11 \cdot (25-11)}{7} + \frac{7 \cdot (3+1+2+1)}{3} + \frac{3(1+2+1)}{1} + \frac{1 \cdot (2+1)}{2} + 2 \cdot 1 =$$

$$= 11 \cdot 14 + 7 \cdot 7 + 3 \cdot 4 + 3 + 2 =$$

$$= 154 + 49 + 12 + 5 = 154 + 49 + 17 =$$

$$= 154 + 66 = 220$$

$$\begin{array}{r} 1 \\ \times 25 \\ \hline 25 \\ \times 27 \\ \hline 185 \\ \times 4 \\ \hline 725 \end{array}$$

$$\begin{array}{r} 14 \\ \times 31 \\ \hline 14 \\ \times 34 \\ \hline 454 \end{array}$$

$$\begin{array}{r} 521 \\ \times 228 \\ \hline 2250 \end{array}$$

$$\begin{cases} x - 12y = \sqrt{(x-6)(2y-1)} \\ (x-6)^2 + 9(2y-1)^2 = 90 \end{cases}$$

$$\begin{array}{r} 6 \\ \times 27 \\ \hline 90 \\ \hline 2430 \\ \hline 2430 \end{array}$$

$$x-6 = a, 2y-1 = b$$

$$\frac{16x-16}{4x-5} \leq a \leq -32x^2 + 36x - 3$$

$$x \in \left[\frac{1}{2}, 1 \right]$$

$$\begin{array}{r} 68 \\ \times 168 \\ \hline 9 \\ \hline 1521 \end{array}$$

$$\frac{16x-16}{4x-5} = \frac{16x-20+4}{4x-5} = 4 + \frac{4}{4x-5}$$

$$\begin{cases} a^2 + 9b^2 = 90 \\ a - 6b = \sqrt{ab} \end{cases}$$

$$4 + \frac{4}{4x-5} \leq a \leq -32x^2 + 36x - 3$$

~~max. y = 1~~

$$\begin{cases} x - 12y = \sqrt{2xy - 12y - x + 6} \\ x^2 + 36y^2 - 12x - 36y = 45 \end{cases}$$

$$x = a - 6, 2y = b - 1$$

$$x - 12y = a - 6 - 6b + 6 = a - 6b$$

$$\begin{cases} x^2 + 144y^2 - 24xy = 2xy - 12y - x + 6 \\ x^2 + 144y^2 - 26xy + 12y + x - 6 = 0 \\ x^2 + 36y^2 - 12x - 36y = 45 = 0 \end{cases}$$

$$\begin{cases} a^2 + 9b^2 = 90 \\ a^2 + 36b^2 - 12ab = ab \end{cases}$$

$$\begin{cases} a^2 + 9b^2 = 90 \\ a^2 + 36b^2 - 13ab = 0 \end{cases}$$

$$108y^2 - 26xy + 48y + 13x + 39 = 0$$

$$+27 + 24^2 = 51$$

$$x(26y - 13) = 108y^2 + 48y + 39$$

$$81 \cdot 36 - 13 \cdot 9 \cdot 1 = 117 - 117 = 0$$

$$x^2 + 144y^2 - 26xy + 12y + x - 6 = 0$$

$$(x-6)^2 + (6y-3)^2 = 90$$

$$b=1 \quad x=15$$

$$x-6=9$$

$$90 = 9^2 + 3^2$$

$$3 = 15 - 12 = \sqrt{30 - 12 - 18} = 6$$

$$x=15, 6y-3=3$$

$x=15 \quad y=1$

$$6y-3 = 3b = 3 \Rightarrow b=1$$

ПИСЬМЕННАЯ РАБОТА

$$f\left(\frac{x}{y}\right) + f\left(z \cdot \frac{y}{x}\right) \stackrel{ns}{=} f\left(2z \cdot \frac{x}{y} \cdot \frac{y}{x}\right) = f(2z)$$

$$f(1) + f(1) = f(1-1)$$

$$2f(1) = f(0)$$

$$f(1) = 0$$

$$f\left(\frac{x}{y}\right) + f\left(\frac{y}{x}\right) = f\left(\frac{x}{y} \cdot \frac{y}{x}\right) = f(1) = 0$$

Если $f\left(\frac{x}{y}\right) \neq f\left(\frac{y}{x}\right)$, то $f\left(\frac{x}{y}\right) < 0$, $f\left(\frac{y}{x}\right) > 0$ или наоборот.

Если $f\left(\frac{x}{y}\right) = f\left(\frac{y}{x}\right) = 0$, то:

$$f\left(\frac{x}{y}\right) = f(x) + f\left(\frac{1}{y}\right) = 0 = f(y) + f\left(\frac{1}{x}\right)$$

$$f(1) = 0$$

$$f(2) = 0$$

$$f(3) = 0$$

$$f(4) = f(2) + f(2) = 0$$

$$f(5) = 1$$

$$f(6) = f(2) + f(3) = 0$$

$$f(7) = 1$$

$$f(8) = 0$$

$$f(9) = 0$$

$$f(10) = 1$$

$$f(11) = 2$$

$$f(12) = 0$$

$$f(13) = 3$$

$$f(14) = 1$$

$$f(15) = 1$$

$$f(16) = 0$$

$$f(17) = 4$$

$$f(18) = 0$$

$$f(19) = 4$$

$$f(20) = 1$$

$$f(21) = 1$$

$$f(22) = 2$$

$$f(23) = 3$$

$$f(24) = 0$$

$$f(25) = 2$$

~~$$f(2) + 2f(2)$$~~

$$f\left(\frac{x}{y}\right) + f(y) = f(x)$$

$$f(y) = f(x)$$

$$f\left(\frac{x}{y}\right) + f(2y) = f(2x)$$

$$f(2y) = f(2x)$$

$$f(ny) = f(nx)$$

~~$$n \cdot x: f(xy) = 2f(x^2) = f(x) + f(x)$$~~

$$f(xy) = f(x) + f(y) = 2f(x) = f(x^2)$$

$$f(y) = f(x) \Rightarrow f\left(\frac{x}{y}\right) + f(y) = f(x)$$

$$f\left(\frac{x}{y}\right) = 0$$

Если $f(x) = f(y)$, то $f\left(\frac{x}{y}\right) = f\left(\frac{y}{x}\right) = 0$

Если $f(x) \neq f(y)$, то $f\left(\frac{x}{y}\right) < 0$

или
 $f\left(\frac{y}{x}\right) < 0$
(одно из)

$$(10x - x^2)^{\log_3 3} + (10x - x^2)^{\log_3 4} \geq (10x - x^2)^{\log_3 5}$$

$$(10x - x^2)^{\log_3 3} + (10x - x^2)^{\log_3 4} - (10x - x^2)^{\log_3 5} \geq 0$$

$$f(x) = (10x - x^2)^{\log_3 3} + (10x - x^2)^{\log_3 4} - (10x - x^2)^{\log_3 5}$$

$$f'(x) = 0$$

$$(10x - x^2)^{\log_3 3} + (10x - x^2)^{\log_3 4} = (10x - x^2)^{\log_3 5}$$

$$10x - x^2 + (10x - x^2)^{\log_3 4} \geq 5 \log_3 (10x - x^2)$$

$$(10x - x^2)^{\log_3 3} + (10x - x^2)^{\log_3 4} \geq (10x - x^2)^{\log_3 5}$$

$$a^{\log_3 3} + a^{\log_3 4} \geq a^{\log_3 5}$$

~~$$a^m + a^n \geq a^k$$~~

~~$$2 + 2 = 2$$~~

~~$$a^{\log_3 3} + a^{\log_3 4} - a^{\log_3 5} \geq 0$$~~

$$y_1 = a^{\log_3 3} + a^{\log_3 4}$$

$$y_1' = 1 + \log_3 4 \cdot a^{\log_3 4}$$

$$y_2 = a^{\log_3 5}$$

$$y_2' = \log_3 5 \cdot a^{\log_3 5}$$

~~$$1 + \log_3 4 \cdot a^{\log_3 4} \geq \log_3 5 \cdot a^{\log_3 5}$$~~

$$1 + (10x - x^2)^{\log_3 \frac{4}{3}} \geq (10x - x^2)^{\log_3 \frac{5}{3}}$$

$$1 \geq (10x - x^2)^{\log_3 \frac{5}{3}} - (10x - x^2)^{\log_3 \frac{4}{3}}$$

$$y_2 = (10x - x^2)^{\log_3 \frac{5}{3}} - (10x - x^2)^{\log_3 \frac{4}{3}}$$

$$y_2' = \log_3 \frac{5}{3} \cdot a^{\log_3 \frac{5}{3}} - \log_3 \frac{4}{3} \cdot a^{\log_3 \frac{4}{3}}$$

$$y_2' = \log_3 \frac{5}{3} \cdot a^{\log_3 \frac{5}{3}} - \log_3 \frac{4}{3} \cdot a^{\log_3 \frac{4}{3}}$$

$$\log_3 \frac{5}{3} < 0$$

$$0 > \log_3 \frac{5}{3} > \log_3 \frac{4}{3}$$

~~$$\log_3 \frac{5}{3} > \log_3 \frac{4}{3}$$~~

Если $a \geq 1$, то

$$a > a^{\log_3 \frac{5}{3}} \gg a^{\log_3 \frac{4}{3}}$$

$$\begin{array}{r} 15230 \\ - 4860 \\ \hline 10350 \end{array}$$

$$27 = 1$$

$$\begin{array}{r} 468 \overline{) 13} \\ 38 \\ \hline 78 \end{array}$$

ПИСЬМЕННАЯ РАБОТА

n_2
 $\begin{cases} x^2 + 144y^2 - 24xy = 2xy - 12y - x + 6 \\ x^2 + 36y^2 - 12x - 36y = 45 \end{cases}$
 $\begin{cases} x^2 + 144y^2 - 26xy + 12y + x - 6 = 0 \\ x^2 + 36y^2 - 12x - 36y - 45 = 0 \end{cases}$

$AB = 4 = FE \quad AE = \frac{16}{\sqrt{17}} \quad AE^2 = \frac{16^2}{17}$
 $\sin \alpha = \frac{4}{\sqrt{17}} \quad AF^2 = 46 - \frac{16^2}{17} = \frac{16}{17}$
 $y = \frac{17}{2} \cdot \frac{\sqrt{17}}{17} = \frac{\sqrt{17}}{2} \quad AF = \frac{4}{\sqrt{17}}$
 $\frac{\sqrt{17}}{2} \cdot x = \frac{17-15}{2} \quad S_{AFB} = \frac{1}{2} \cdot AF \cdot AB$
 $x = \frac{15}{2\sqrt{17}} \quad AB^2 = x^2 + y^2 = \frac{32}{2\sqrt{17}} = \frac{16}{\sqrt{17}}$
 $r = \frac{x}{2\sin \alpha} = \frac{15}{2\sqrt{17} \cdot 2 \cdot \frac{4}{\sqrt{17}}} = \frac{15}{16}$

$x^2 + 36y^2 - 12x - 36y = 45$
 $(x^2 - 12x + 36) + ((6y)^2 - 2 \cdot 6y \cdot 3 + 9) = 45 + 9 + 36$
 $(x-6)^2 + (6y-3)^2 = 90$
 $t = 6y$
 $(x-6)^2 + (t-3)^2 = 90$

$AE = 2R \sin \alpha$
 $R = \frac{AE}{2 \sin \alpha} = \frac{16 \cdot \sqrt{17}}{\sqrt{17} \cdot 2 \cdot \frac{4}{\sqrt{17}}} = 2$

n_3
 $10x + |x^2 - 10x| \geq x^2 + 5 \log_3(10x - x^2)$
 $10x - x^2 > 0 \Rightarrow x < 10$
 $10x - x^2 > 3 \log_3(10x - x^2) - |x^2 - 10x| \log_3 4$
 $10x - x^2 > 3 \log_3(10x - x^2) \log_3 5 - (10x - x^2) \log_3 4$
 $(10x - x^2)^{\frac{1}{3}} \geq (10x - x^2)^{\log_3 5} - (10x - x^2)^{\log_3 4}$
 $1 \geq (10x - x^2)^{\log_3 \frac{5}{3}} - (10x - x^2)^{\log_3 \frac{4}{3}}$

$\frac{1}{2} = \frac{17 \cos^2 \alpha}{2}$
 $1 = 17 \cos^2 \alpha$
 $\cos^2 \alpha = \frac{1}{17}$
 $\cos \alpha = \frac{\sqrt{17}}{17}$
 $\alpha = \arccos \frac{\sqrt{17}}{17}$

$0,125 \mid 2$
 $\frac{12}{0,0625}$
 $\frac{0,5}{10}$
 $0,1 \quad 0,5 \quad 0,125$
 $0,0625$

ПИСЬМЕННАЯ РАБОТА

нн

$$\begin{cases} x - 12y = \sqrt{2xy - 12y - x + 6} \\ x^2 + 36y^2 - 12x - 36y = 45 \end{cases}$$

$$\begin{cases} x^2 + 144y^2 - 24xy = 2xy - 12y - x + 6 \\ x^2 + 36y^2 - 12x - 36y = 45 \end{cases}$$

$$\begin{cases} x^2 + 144y^2 - 26xy + 12y + x - 6 = 0 \\ x^2 + 36y^2 - 12x - 36y - 45 = 0 \end{cases}$$

$$108y^2 - 26xy + 48y + 13x + 39 = 0$$

$$108y^2 + 48y + 39 = 13x(2y - 1)$$

$$\begin{array}{r} 3 \\ \times 26 \\ \hline 6 \\ \hline 156 \end{array}$$

$$x = \frac{108y^2 + 48y + 39}{13(2y - 1)} = \frac{108y^2 + 48y + 39}{26y - 13}$$

~~нн~~ ~~нн~~ $(x - 6)^2 + (6y - 3)^2 = 80$

$$\left(\frac{108y^2 + 48y + 39 - 156y + 78}{26y - 13} \right)^2 + (6y - 3)^2 = 80$$

$$\left(\frac{108y^2 - 108y + 117}{26y - 13} \right)^2 + (6y - 3)^2 = 80$$

№2

$$\begin{cases} x - 12y = \sqrt{2xy - 12y - x + 6} \\ x^2 + 36y^2 - 12x - 36y = 45 \end{cases}$$

$$\begin{cases} x^2 + 144y^2 - 24xy = 2xy - 12y - x + 6 \\ x^2 + 36y^2 - 12x - 36y = 45 \end{cases}$$

$$\begin{cases} x^2 + 144y^2 - 26xy + 12y + x - 6 = 0 \\ x^2 + 36y^2 - 12x - 36y - 45 = 0 \end{cases}$$

$$\begin{cases} x^2 + 144y^2 - 26xy + 12y + x - 6 = 0 \\ 4x^2 + 144y^2 - 48x - 144y - 180 = 0 \end{cases}$$

$$-3x^2 - 26xy + 156y + 45x + 174 = 0$$

$$y(156 - 26x) = 3x^2 - 45x + 174$$

$$26y(6 - x) = 3x^2 - 45x + 174$$

$$y = \frac{3x^2 - 45x + 174}{26(6 - x)}$$

$$(x - 6)^2 + (6y - 3)^2 = 80$$

$$(6 - x)^2 + (\quad)$$

$$\begin{array}{r} 5 \\ \times 45 \\ 6 \\ \hline 225 \end{array}$$

$$\begin{array}{r} 144 \\ + 108 \\ \hline 252 \end{array}$$

$$x = 6$$

$$\begin{aligned} 6 - 12y &= \sqrt{12y - 12y - 6 + 6} \\ y &= \frac{1}{2} \end{aligned}$$

~~$$20x^2 - 25x - 16 = 0$$~~

~~$$30x^2 - 25x - 16 = 0$$~~

ПИСЬМЕННАЯ РАБОТА

N1

$$\sin(2\alpha + 2\beta) = -\frac{1}{\sqrt{5}}$$

$$\sin(2\alpha + 4\beta) + \sin 2\alpha = -\frac{2}{5}$$

$$\sin x + \sin y = 2 \sin \frac{x+y}{2} \cos \frac{x-y}{2}$$

$$\sin(2\alpha + 4\beta) + \sin 2\alpha = 2 \sin(2\alpha + 2\beta) \cos 2\beta = -\frac{2}{5}$$

$$2 \sin(2\alpha + 2\beta) \cos 2\beta = -\frac{1}{\sqrt{5}} \quad \left. \begin{array}{l} \\ \end{array} \right\} \Rightarrow$$

$$\sin(2\alpha + 2\beta) = -\frac{1}{\sqrt{5}}$$

$$\Rightarrow \cos 2\beta = \frac{1}{\sqrt{5}} \quad \Rightarrow \quad \sin 2\beta = \pm \frac{2}{\sqrt{5}}$$

$$\sin(2\alpha + 2\beta) = -\frac{1}{\sqrt{5}} = \sin 2\alpha \cos 2\beta + \sin 2\beta \cos 2\alpha$$

$$-\frac{1}{\sqrt{5}} = \frac{1}{\sqrt{5}} \sin 2\alpha + \frac{2}{\sqrt{5}} \cos 2\alpha$$

$$-1 = \sin 2\alpha + 2 \cos 2\alpha$$

$$1) -1 = \sin 2\alpha + 2 \cos 2\alpha$$

$$2) -1 = \sin 2\alpha - 2 \cos 2\alpha$$

~~-1~~

$$2 \sin \alpha \cos \alpha + 4 \cos^2 \alpha - 2 = -1$$

$$2 \sin \alpha \cos \alpha + 4 \cos^2 \alpha - \sin^2 \alpha - \cos^2 \alpha = 0$$

$$2 \sin \alpha \cos \alpha + 3 \cos^2 \alpha - \sin^2 \alpha = 0$$

$$3(\cos \alpha + \sin \alpha)(\cos \alpha - \frac{1}{3} \sin \alpha) = 0$$

$$\cos \alpha = -\sin \alpha \quad \text{или} \quad \cos \alpha = \frac{1}{3} \sin \alpha$$

$$\operatorname{tg} \alpha = -1$$

$$\operatorname{tg} \alpha = 3$$

N2

$$\begin{cases} x - 12y = \sqrt{2xy - 12y - x + 6} \\ x^2 + 36y^2 - 12x - 36y = 45 \end{cases}$$

$$\begin{cases} x - 12y = \sqrt{2xy - 12y - x + 6} \\ x^2 + 36y^2 - 12x - 36y = 45 \end{cases}$$

$$x - 12y = \sqrt{2xy - 12y - x + 6}$$

$$\begin{cases} x^2 + 144y^2 - 24xy = 2xy - 12y - x + 6 \\ 2xy - 12y - x + 6 \geq 0 \\ x - 12y \geq 0 \end{cases}$$

$$\begin{cases} x^2 + 144y^2 - 24xy = 2xy - 12y - x + 6 \\ 2xy - 12y - x + 6 \geq 0 \\ x - 12y \geq 0 \end{cases}$$

$$-1 = 2 \sin \alpha \cos \alpha - 4 \cos^2 \alpha + 2$$

$$4 \cos^2 \alpha - 2 \sin \alpha \cos \alpha - 3 = 0$$

$$\cos^2 \alpha - 2 \sin \alpha \cos \alpha - 3 \sin^2 \alpha = 0$$

$$(\cos \alpha + \sin \alpha)(\cos \alpha - 3 \sin \alpha) = 0$$

$$\cos \alpha = -\sin \alpha \quad \text{или} \quad \cos \alpha = 3 \sin \alpha$$

$$\operatorname{tg} \alpha = -1$$

$$\operatorname{tg} \alpha = \frac{1}{3}$$

$$-1, 3, \frac{1}{3}$$

$$\begin{cases} x^2 + 144y^2 - 24xy = 2xy - 12y - x + 6 \\ x^2 + 36y^2 - 12x - 36y = 45 \\ x - 12y \geq 0 \\ 2xy - 12y - x + 6 \geq 0 \end{cases}$$

$$\begin{cases} x^2 + 144y^2 - 26xy + 12y + x = 6 \\ x^2 + 36y^2 - 12x - 36y = 45 \\ x - 12y \geq 0 \\ 2xy - 12y - x + 6 \geq 0 \end{cases}$$

$$\cancel{36y^2 - 12x - 36y} + x^2 - \cancel{x^2 - 144y^2 + 26xy - 12y - x + 45 - 6}$$

$$\cancel{36} - 88y^2$$

$$108y^2 - 26xy + 12y + x + 12x + 36y = 6 - 45$$

$$108y^2 - 26xy + 48y + 13x = -39$$

$$108y^2 + 48y + 39 = x(26y - 13)$$

$$\cancel{(26y - 13)x}$$

$$x^2 + 36y^2 - 12x - 36y = 45$$

$$x^2 - 12x + 36 + 36y^2 - 36y + 9 = 90$$

$$(x - 6)^2 + 9(2y - 1)^2 = 90$$

$$x^2 + 144y^2 - 24xy = 2xy - 12y - x + 6$$

$$\begin{cases} x^2 + 144y^2 - 26xy + 12y + x - 6 = 0 \\ x^2 + 36y^2 - 12x - 36y - 45 = 0 \end{cases}$$

$$108y^2 - 26xy + 12y + x - 6 + 12x + 36y + 45 = 0$$

$$108y^2 - 26xy + 48y + 13x + 39 = 0$$

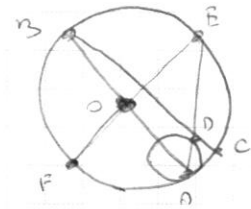
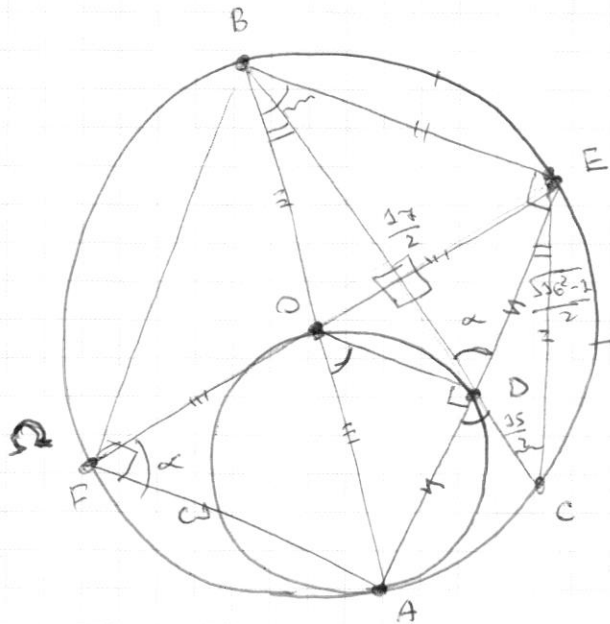
$$x^2 - 12x + (36y^2 - 36y - 45) = 0$$

$$D = 144 - 4(36y^2 - 36y - 45) = 144 - 144y^2 + 144y + 180 =$$

$$= -144y^2 + 144y + 324 = 4(-36y^2 + 36y + 81)$$

ПИСЬМЕННАЯ РАБОТА

~ 4



$$CD = \frac{15}{2}$$

$$BD = \frac{17}{2}$$

$n, R, \angle AFE, S_{ABEF} \sim ?$

$$OD \parallel BE$$

$$AD = DE$$

$$AD \cdot DE = BD \cdot CD$$

$$AD^2 = DE^2 = \frac{17 \cdot 15}{4} = \frac{16^2 - 1}{4}$$

$$AD = DE = \frac{\sqrt{16^2 - 1}}{2}$$

$$AB = \sqrt{16^2 - 1}$$

$$FE = 2R = \frac{AE}{\sin \alpha}$$

$$2 \cdot \frac{\sqrt{16^2 - 1}}{\sqrt{16^2 - 2}} = \frac{16^2 - 1}{\sqrt{16^2 - 2}}$$

$$\frac{\sqrt{16^2 - 1}}{4} + \frac{16^2 - 1}{4} - 2 \cdot \frac{17}{2} \cdot \frac{\sqrt{16^2 - 1}}{2} \cos \alpha =$$

$$= \frac{15^2}{4} + \frac{16^2 - 1}{4} - 2 \cdot \frac{15}{2} \cdot \frac{\sqrt{16^2 - 1}}{2} \cos(\pi - \alpha)$$

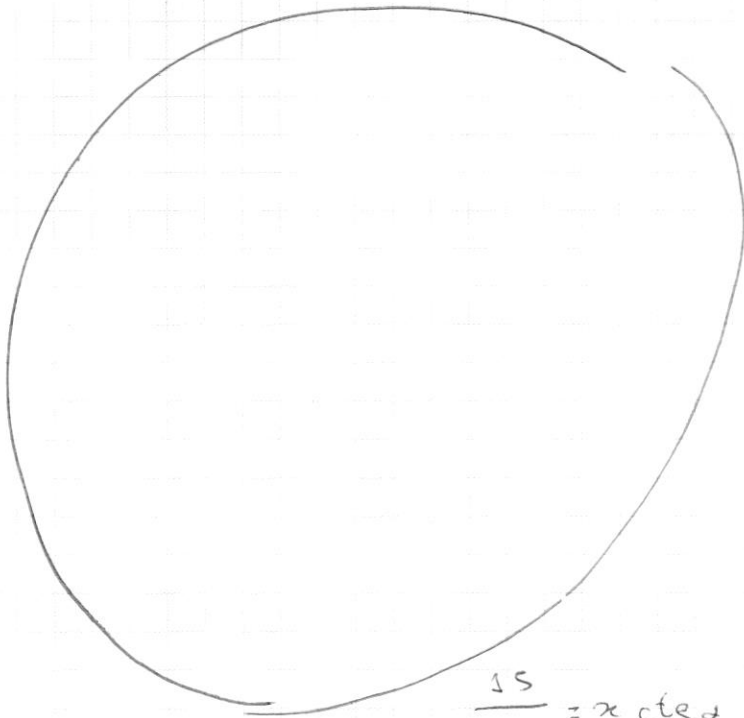
$$\frac{16^2 + 15^2 - 1}{4} - 15 \cos \alpha \cdot \frac{\sqrt{16^2 - 1}}{2} =$$

$$= \frac{16^2 + 15^2 - 1}{4} + 15 \cdot \frac{\sqrt{16^2 - 1}}{2} \cdot \cos \alpha$$

$$\cos \alpha \left(\frac{(15 + 17) \sqrt{16^2 - 1}}{2} \right) = \frac{17^2 - 15^2}{4} \quad \sin \alpha = \frac{\sqrt{16^2 - 2}}{\sqrt{16^2 - 1}}$$

$$\cos \alpha = \frac{(17 + 15)(17 - 15) \cdot 2}{4(17 + 15) \sqrt{16^2 - 1}} = \frac{1}{\sqrt{16^2 - 1}}$$

$$\alpha = \arccos \frac{1}{\sqrt{16^2 - 1}} = \arccos \frac{\sqrt{16^2 - 1}}{16^2 - 1} = \arccos \frac{\sqrt{16^2 - 1}}{255}$$



$$y = (2R - 2r) \sin \alpha$$

$$= \frac{17}{2} \cos \alpha = \frac{17 \cos \alpha}{2}$$

~~$$y = \frac{2r \sin \alpha}{2R \sin \alpha}$$~~

$$y = 2R \sin \alpha$$

$$\frac{x}{\sin \alpha} = 2R$$

$$x = 2R \sin \alpha = \frac{15}{2 \cos \alpha}$$

$$\frac{15}{2 \sin \alpha} = x \operatorname{ctg} \alpha$$

$$\frac{15}{2 \sin \alpha} = \frac{x \cos \alpha}{\sin \alpha}$$

$$r = \frac{15}{4 \sin \alpha \cos \alpha}$$

$$x \cos \alpha = \frac{15}{2}$$

$$x y = \frac{15 \cdot 17}{4}$$

~~$$x = \frac{r}{R}$$~~

~~$$x = r \sin \alpha$$~~

~~$$y = \frac{15}{2} \cos \alpha$$~~

~~$$AE = 2R \sin \alpha = 2xy$$~~

~~$$xy = 2y$$~~

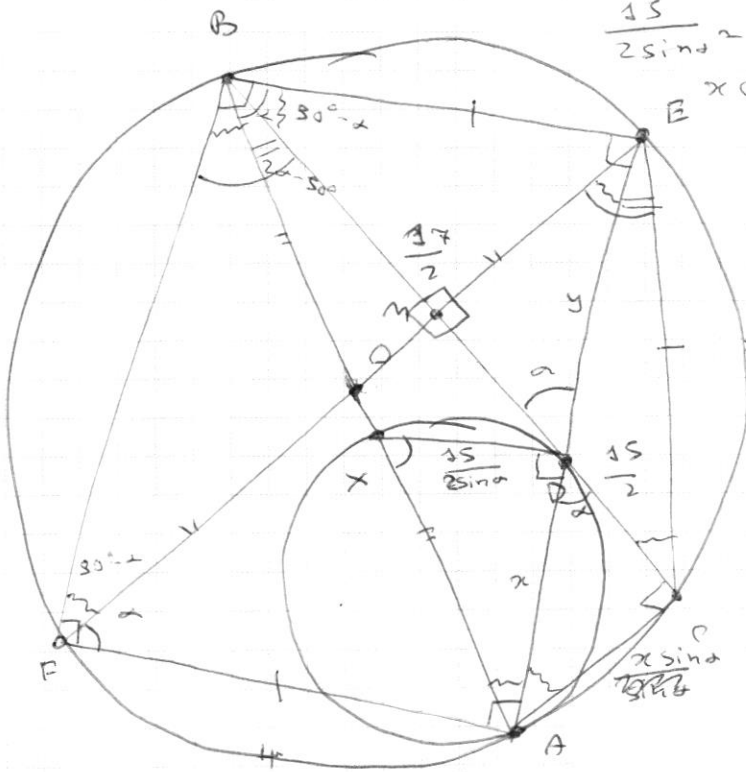
~~$$2R \sin \alpha = \frac{15}{2}$$~~

$$y = \frac{17}{2} \cos \alpha = \frac{17 \cos \alpha}{2}$$

$$\frac{15}{2} = x \cos \alpha$$

$$x = \frac{15}{2 \cos \alpha} = 2R \sin \alpha$$

$$r = \frac{15}{4 \sin \alpha \cos \alpha}$$



$$\frac{x}{\frac{15}{2}} = \frac{r}{2R \sin \alpha}$$

$$x = \frac{15}{2 \sin \alpha}$$

$$x + y = AE = 2R \sin \alpha$$

~~$$x^2 = \frac{15^2}{4 \sin^2 \alpha} = \frac{15^2}{4R^2 \sin^2 (1 - \sin^2 \alpha)}$$~~