

МОСКОВСКИЙ ФИЗИКО-ТЕХНИЧЕСКИЙ ИНСТИТУТ
ОЛИМПИАДА "ФИЗТЕХ" ПО МАТЕМАТИКЕ

11 класс

ВАРИАНТ 2

ШИФР

Заполняется ответственным секретарём

1. [3 балла] Углы α и β удовлетворяют равенствам

$$\sin(2\alpha + 2\beta) = -\frac{1}{\sqrt{5}}; \quad \sin(2\alpha + 4\beta) + \sin 2\alpha = -\frac{2}{5}.$$

Найдите все возможные значения $\operatorname{tg} \alpha$, если известно, что он определён и что этих значений не меньше трёх.

2. [4 балла] Решите систему уравнений

$$\begin{cases} x - 12y = \sqrt{2xy - 12y - x + 6}, \\ x^2 + 36y^2 - 12x - 36y = 45. \end{cases}$$

3. [5 баллов] Решите неравенство

$$10x + |x^2 - 10x|^{\log_3 4} \geq x^2 + 5^{\log_3(10x - x^2)}.$$

4. [5 баллов] Окружности Ω и ω касаются в точке A внутренним образом. Отрезок AB – диаметр большей окружности Ω , а хорда BC окружности Ω касается ω в точке D . Луч AD повторно пересекает Ω в точке E . Прямая, проходящая через точку E перпендикулярно BC , повторно пересекает Ω в точке F . Найдите радиусы окружностей, угол AFE и площадь треугольника AEF , если известно, что $CD = \frac{15}{2}$, $BD = \frac{17}{2}$.
5. [5 баллов] Функция f определена на множестве положительных рациональных чисел. Известно, что для любых чисел a и b из этого множества выполнено равенство $f(ab) = f(a) + f(b)$, и при этом $f(p) = [p/4]$ для любого простого числа p ($[x]$ обозначает наибольшее целое число, не превосходящее x). Найдите количество пар натуральных чисел $(x; y)$ таких, что $2 \leq x \leq 25$, $2 \leq y \leq 25$ и $f(x/y) < 0$.

6. [5 баллов] Найдите все пары чисел $(a; b)$ такие, что неравенство

$$\frac{16x - 16}{4x - 5} \leq ax + b \leq -32x^2 + 36x - 3$$

выполнено для всех x на промежутке $[\frac{1}{4}; 1]$.

7. [6 баллов] Дана пирамида $KLMN$, вершина N которой лежит на одной сфере с серединами всех её рёбер, кроме ребра KN . Известно, что $KL = 3$, $KM = 1$, $MN = \sqrt{2}$. Найдите длину ребра LM . Какой наименьший радиус может иметь сфера, описанная около данной пирамиды?

ПИСЬМЕННАЯ РАБОТА

$f(ab) = f(a) + f(b)$ $f(p) = \left\lfloor \frac{p}{4} \right\rfloor$ $p \in \mathbb{P}$
 $(x; y)$ $2 \leq x \leq 25$ $2 \leq y \leq 25$ $f\left(\frac{x}{y}\right) < 0$

$f(x \cdot y^{-1}) =$
 $= f(x) + f(y^{-1})$
 $= f(x) + f\left(\frac{1}{y}\right) < 0$

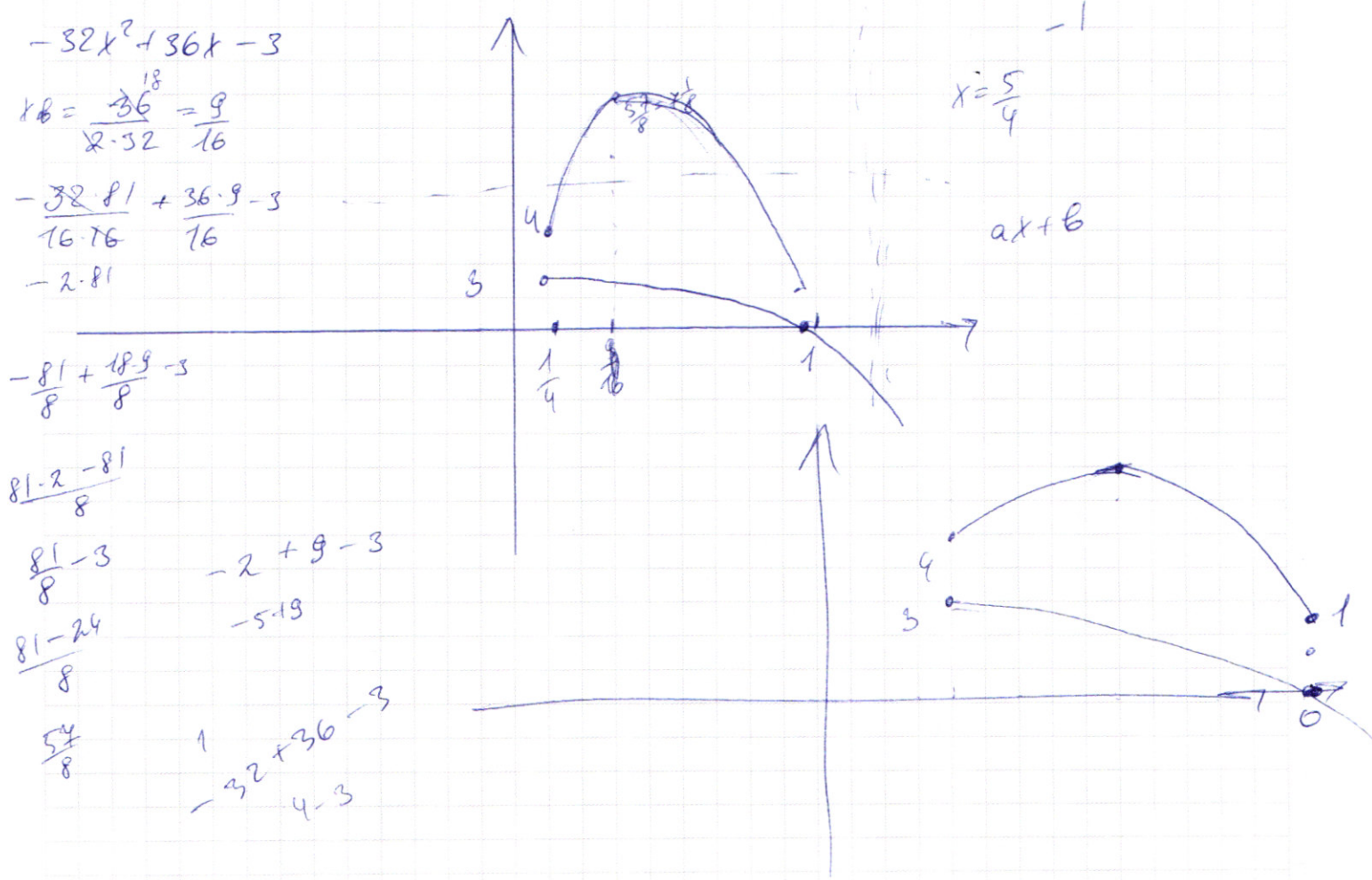
$x = \frac{k \cdot m}{k \cdot n}$
 $n \in \mathbb{P}$

2,	0
3,	0
5,	1
7,	1
11,	2
13,	3
17,	4
19,	4
23,	5

$4 \neq 2 \cdot \frac{x}{y} \cdot \frac{3}{4}$
 $\frac{16x-16}{4x-5} \leq ax+b \leq -32x^2+36x-3$

$x \in \left[\frac{1}{4}; 1\right]$ $4(4x-5) + \frac{4}{4x-5}$ $f(x) = 4 + \frac{4}{4x-5}$

$ax+b \leq -32x^2+36x-3$



$$x-12y = \sqrt{2xy-12y-x+6} \quad x-12y-2x+2xy+6 \quad 2y(x-6) \pm (x-6)$$

$$x^2+36y^2-12x-36y=45 \quad (x-6)^2-36+(6y-3)^2-9=45 \quad \sqrt{(x-6)(2y-1)}$$

$$(x-6)^2+(6y-3)^2=90 \quad x-6=a \quad 6y-3=b$$

$$(x-6)^2+9(2y-1)^2=90 \quad 2y-1=b \quad a-6b$$

$$\begin{cases} a-6b=\sqrt{ab} \\ a^2+9b^2=90 \end{cases}$$

$$a^2=90-b^2$$

$$\sqrt{90-b^2}-6b=\sqrt{90-b^2}b$$

$$\begin{array}{r} x-12y \\ \quad \quad \quad 36 \\ \quad \quad \quad \quad 4 \\ \hline \quad \quad \quad \quad \quad 144 \end{array}$$

$$\begin{cases} a^2-12ab+36b^2=ab \\ a^2+9b^2=90 \end{cases} \quad \begin{cases} a^2-13ab+36b^2=0 \\ a^2+9b^2=90 \end{cases}$$

$$90b^2=90 \quad a^2=13b \pm \sqrt{169b^2-4 \cdot 36b^2} = \frac{13b \pm 5b}{2}$$

$$81b^2+9b^2=90$$

$$a=9b$$

$$b^2=1$$

$$b=\pm 1$$

$$16b^2+9b^2=90$$

$$a=4b$$

$$b^2 = \frac{90}{25}$$

$$b = \pm \frac{3\sqrt{10}}{5}$$

$$25b^2=90$$

$$b=1 \quad a=9$$

$$\begin{cases} x-6=9 \\ 2y-1=1 \end{cases} \quad \begin{cases} x=15 \\ y=1 \end{cases}$$

$$-\frac{12\sqrt{10}}{5} + \frac{18\sqrt{10}}{5} = \frac{6\sqrt{10}}{5}$$

$$x-b=-1 \quad a=-9$$

$$x-b = \frac{3\sqrt{10}}{5} \quad a = \frac{12\sqrt{10}}{5}$$

$$-\frac{3\sqrt{10}}{5} = 2y-1$$


$$\begin{cases} y = \frac{5-3\sqrt{10}}{10} \\ x = \frac{30-12\sqrt{10}}{5} \end{cases} \quad \begin{cases} x=15 \\ y=1 \end{cases}$$

$$\frac{1-3\sqrt{10}}{2} = y$$

$$1 - \frac{4}{17}$$

$$-\frac{12\sqrt{10}}{5} = x-6$$

$$\frac{30}{15\sqrt{17}} \cdot \frac{1}{2\sqrt{17}} \quad x = 6 - \frac{12\sqrt{10}}{5}$$



$$10x + |x^2-10x| \log_3 4 \geq x^2 + 5 \log_3 (10x-x^2)$$

$$(x^2-10x) \log_3 4 \geq x^2-10x+5 - \log_3 (x^2-10x)$$

$$|t| \log_3 4 \geq t + 5 - \log_3 t \quad t < 0$$

$$|t| \log_3 4 \geq t + (-t) \log_3 5 \quad t \log_3 2 + t - t \log_3 5 \geq 0$$

$$t + |t| \log_3 4 \geq 5 \log_3 t$$

$$t + t^2 \log_3 2 \geq 5 \log_3 t \quad 10x-x^2 > 0$$

$$t - t \log_3 5 \quad 64+4 = (\log_3 5)^5 \quad x(10-x) > 0$$

$$t(1-t \log_3 5 - 1) + t \log_3 2 \geq 0 \quad \cos(a+b) = \cos a \cos b - \sin a \sin b$$

$$t - t \log_3 5 + t \log_3 2 \geq 0$$

$$\frac{2\sqrt{17}}{\sqrt{221}} = \frac{2}{\sqrt{13}} \quad x = \sqrt{13}$$

$$3 \log_3 t - 3 \log_3 t \log_3 5 + 3 \log_3 t \log_3 2 = 0$$

$$3 \log_3 t - 3 \log_3 5 \cdot \log_3 t + 3 \log_3 2 \log_3 t \geq 0$$

$$y - y \log_3 5 + y \log_3 2$$

$$\frac{30}{34} \cdot \frac{1}{15\sqrt{17}}$$

$$\frac{60}{34\sqrt{17}} + \frac{8}{34\sqrt{17}} = \frac{2}{\sqrt{17}}$$

$$\frac{2\sqrt{17}}{17} = \frac{AE}{34} \quad \boxed{4\sqrt{17} = AE}$$

ПИСЬМЕННАЯ РАБОТА

$$\sin(2\alpha + 2\beta) = \frac{-1}{\sqrt{5}}$$

$$\sin(2\alpha + 4\beta) + \sin 2\alpha = \frac{-2}{5}$$

$$\text{tg } \alpha \quad \sin 2\alpha \cdot \cos 2\beta + \sin 2\beta \cdot \cos 2\alpha = \frac{-1}{\sqrt{5}}$$

$$2\alpha + 2\beta = \arcsin \frac{-1}{\sqrt{5}} + 2\pi k$$

$$2\alpha + 2\beta \pm \arcsin \frac{-1}{\sqrt{5}} + 2\pi k$$

$$\sin(2\alpha + 2(-2\alpha + \arcsin \frac{-1}{\sqrt{5}} + 2\pi k)) + \sin 2\alpha = \frac{-2}{5}$$

$$\sin(-2\alpha + 2\arcsin \frac{-1}{\sqrt{5}}) + \sin 2\alpha = \frac{-2}{5}$$

$$-\sin 2\alpha \cdot \cos 2\arcsin \frac{-1}{\sqrt{5}} + \sin 2\arcsin \frac{-1}{\sqrt{5}} \cdot \cos 2\alpha + \sin 2\alpha = \frac{-2}{5}$$

$$-\sin 2\alpha (1 - 2\sin^2 \frac{-1}{\sqrt{5}})$$

$$-\sin 2\alpha (1 - 2 \cdot \frac{1}{5}) + 2 \cdot \frac{-1}{\sqrt{5}} \cdot \sqrt{1 - \frac{1}{5}} \cdot \cos 2\alpha + \sin 2\alpha = \frac{-2}{5}$$

$$-\sin 2\alpha \frac{3}{5} - \frac{2}{\sqrt{5}} \frac{2}{\sqrt{5}} \cos 2\alpha + \sin 2\alpha = \frac{-2}{5}$$

$$\frac{2}{5} \sin 2\alpha - \frac{4}{5} \cos 2\alpha = \frac{-2}{5}$$

$$2\sin 2\alpha - 4\cos 2\alpha = -2$$

$$\sin 2\alpha - 2\cos 2\alpha = -1$$

$$2\sin 2\alpha \cdot \cos 2\alpha - 2(1 - 2\sin^2 2\alpha) = -1$$

$$2\sin 2\alpha \cdot \cos 2\alpha + 2\sin^2 2\alpha = \frac{1}{2} \quad /: \sin 2\alpha$$

$$\cancel{\sin 2\alpha} (\cos 2\alpha + 2\sin 2\alpha)$$

$$2\sin 2\alpha \cdot \cos 2\alpha + 2\sin^2 2\alpha = \cos^2 2\alpha + \sin^2 2\alpha \quad /: \cos^2 2\alpha$$

$$2\text{tg } 2\alpha + 4\text{tg}^2 2\alpha = 1 + \text{tg}^2 2\alpha$$

$$3\text{tg}^2 2\alpha + 2\text{tg } 2\alpha - 1 = 0$$

$$\text{tg } 2\alpha = -1$$

$$\text{tg } 2\alpha = \frac{1}{3}$$

$$t + 14 \log_3 4 - t \log_3 5 \geq 0 \quad t(1 + 14 \log_3 \frac{4}{5} - \log_3 \frac{5}{3}) \geq 0$$

$$-t \log_3 5 \geq 0 \quad 1 + 14 \log_3 \frac{4}{5} - \log_3 \frac{5}{3} \geq 0$$

$$0 \geq 1 + t \log_3 \frac{4}{5} - t \log_3 \frac{5}{3}$$

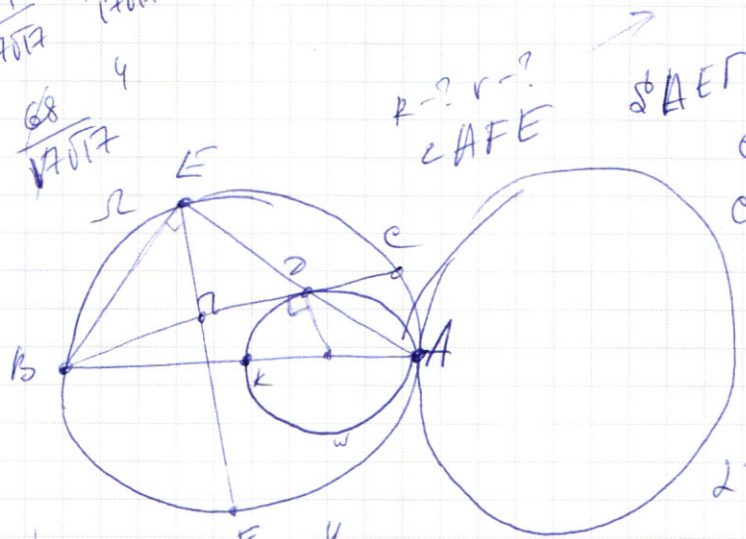
$$\frac{30 \cdot 4}{34} + \frac{16 \cdot 1}{34 \sqrt{17}}$$

$$\log_3 \frac{4}{3} \cdot t \log_3 \frac{4}{3} - \log_3 \frac{5}{3} \cdot t \log_3 \frac{5}{3} \geq 0$$

$$\log_3 \frac{4}{3} \cdot t \log_3 \frac{4}{3} = \log_3 \frac{5}{3} \cdot t \log_3 \frac{5}{3}$$

$$\frac{15 \cdot 4}{17 \sqrt{17}} + \frac{8}{17 \sqrt{17}}$$

$$\frac{68}{17 \sqrt{17}}$$



$$ED = \frac{15}{2} \quad h_D = \frac{17}{2}$$

$$CD = \frac{15+17}{2} = 16$$

$$BC = 16 \quad \frac{DO}{CA} = \frac{17}{32}$$

$$DO = \frac{15 \cdot 17}{16}$$

$$R = 16x \quad CA = \frac{15 \cdot 17 \cdot 32}{16 \cdot 17}$$

$$\frac{17}{8} \cdot \frac{8}{136}$$

$$\sin \alpha = \frac{1}{2\sqrt{17}}$$

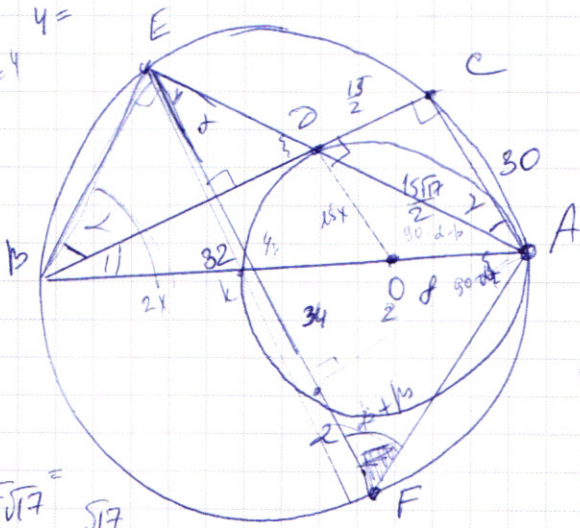
$$\text{by } \triangle CAFE = \frac{4}{1} \cdot \frac{4}{\sqrt{17}}$$

$$\frac{ED}{CD} = \frac{h_D}{DA}$$

$$\frac{h_D}{BA} = \frac{17}{2 \cdot 16} = \frac{17}{32} \quad h_C = 16$$

$$h = 2 \quad x = 4$$

$$\cos \alpha = \frac{2}{\sqrt{17}} = \frac{x}{2\sqrt{17}}$$



$$h_A = 32x \quad r = 15x$$

$$h_D = 17x \Rightarrow r = 15x$$

$$\frac{15x}{CA} = \frac{17}{32}$$

$$CA = \frac{15 \cdot 32x}{17}$$

$$\frac{256}{800}$$

$$\frac{1156}{1156}$$

$$\frac{136}{136}$$

$$\frac{102}{1156}$$

$$\sin \beta = \frac{30}{34}$$

$$h_D^2 = h_C \cdot h_A$$

$$\frac{289}{4} = 2x \cdot 32x$$

$$\frac{289}{4} = 64x^2$$

$$2 \cdot \frac{17}{2 \cdot 8} = x$$

$$x = \frac{17}{16}$$

$$\sin(\beta + \alpha) = \angle AFE = \angle ABE$$

$$\frac{225}{4} + 900$$

$$AB = 32 \cdot \frac{17}{16} = 34$$

$$\frac{15 \cdot 17}{16}$$

$$\sin \alpha = \frac{15}{2} \cdot \frac{1}{30} = \frac{1}{4}$$

$$225 + 3600 = \sqrt{3825}$$

$$\frac{15\sqrt{17}}{2}$$

$$\frac{5\sqrt{35}}{15\sqrt{17}}$$

$$6 \cdot \frac{12\sqrt{10}}{5}$$

$$h_C = 16$$

$$\frac{17}{32} = \frac{h_D}{BA}$$

$$h_D = 17 \Rightarrow CA = 15x$$

$$h_A = 32x$$

ПИСЬМЕННАЯ РАБОТА

$$2\beta = -2\alpha + \pi - \arcsin \frac{1}{\sqrt{5}}$$

$$\sin(2\alpha + 2(-2\alpha + \pi - \arcsin \frac{1}{\sqrt{5}})) + \sin 2\alpha = -\frac{2}{5}$$

$$\sin(2\alpha - 4\alpha + 2\pi - 2\arcsin \frac{1}{\sqrt{5}}) + \sin 2\alpha = -\frac{2}{5}$$

$$-\sin(2\alpha + 2\arcsin \frac{1}{\sqrt{5}}) + \sin 2\alpha = -\frac{2}{5}$$

$$-\sin 2\alpha \cdot \cos 2\arcsin \frac{1}{\sqrt{5}} - \sin 2\arcsin \frac{1}{\sqrt{5}} \cdot \cos 2\alpha + \sin 2\alpha = -\frac{2}{5}$$

$$-\sin 2\alpha \cdot (1 - \frac{2}{5}) - \cos 2\alpha \cdot 2 \cdot \frac{1}{\sqrt{5}} + \sin 2\alpha = -\frac{2}{5}$$

$$-3\sin 2\alpha + 4\cos 2\alpha + \sin 2\alpha = -2$$

$$-2\sin 2\alpha + 4\cos 2\alpha = -2$$

$$-\sin 2\alpha + 2\cos 2\alpha = -1$$

$$-2\sin \alpha \cdot \cos \alpha + 2(1 - 2\sin^2 \alpha) = -1 - 3\sin^2 \alpha - 2\cos^2 \alpha / \cos^2 \alpha$$

$$-2\sin \alpha \cos \alpha - 4\sin^2 \alpha = -3 - 3\sin^2 \alpha$$

$$\sin^2 \alpha + 2\sin \alpha \cos \alpha - 3 = 0$$

$$\sin \alpha = 1, \cos \alpha = -3$$

$$2\log_3 4 (10x - x^2)^{2\log_3 4 - 1} \cdot (10 - 2x)$$

$$(10x - x^2)^{2\log_3 4}$$

$$2\log_3 4 - \log_3 3 = \log_3 \frac{16}{3}$$

$$f(x) = 10x - x^2 + (10x - x^2)^{\log_3 4} - (10x - x^2)^{\log_3 5}$$

$$f'(x) = 10 - 2x + 4(\log_3 4)(10x - x^2)^{2\log_3 4 - 1} (5 - x) - \log_3 5 (10 - 2x) \cdot (10x - x^2)^{\log_3 5 - 1}$$

$$10 - 2x + 8\log_3 2 (10x - x^2)^{\log_3 \frac{16}{3}} (5 - x) - \log_3 5 \cdot 2(5 - x) (10x - x^2)^{\log_3 \frac{5}{3}}$$

$$(5 - x) (2 + 8\log_3 2 (10x - x^2)^{\log_3 \frac{16}{3}} - \log_3 5 (10x - x^2)^{\log_3 \frac{5}{3}})$$

$$f(t) = t + t^{2\log_3 2} - t^{\log_3 5}$$

$$1 + 2\log_3 2 \cdot t^{\log_3 \frac{16}{3}} - \log_3 5 \cdot t^{\log_3 \frac{5}{3}} = 0$$

$$-2\sin 2\alpha + 4\cos 2\alpha = -2$$

$$4\cos 2\alpha = 4(2\cos^2 \alpha - 1 - 2\sin^2 \alpha) =$$

ПИСЬМЕННАЯ РАБОТА

Задача 4

1) $BC = BD + DC = 16$. Пусть O - центр меньшей окр. ω
т.к. BD - касательная (по усл.) $\Rightarrow OD \perp BD$
 $\angle BCA = 90$ т.к. описана на диаметр AB

$\triangle BCA \sim \triangle BDO$ ($\angle CBA$ - общ., $\angle BDO = \angle BCA = 90$)

$\Rightarrow \frac{BD}{BC} = \frac{BO}{BA} = \frac{17}{32}$. Пусть $BA = 32x$, тогда $BO = 17x$,

$OA = 15x$ - радиусе меньшей окр-ти.

Пусть $BO \cap \omega = K$ (K лежит на отрезке BA),

тогда $BK = AB - 2 \cdot OA = 2x$

По св-ву кас-ой:

$$BD^2 = BK \cdot BA \Rightarrow \frac{17^2}{4} = 64x^2, \Rightarrow x = \frac{17}{16}$$

$$\Rightarrow OA = 15 \cdot \frac{17}{16} = \frac{255}{16}$$

$$\frac{AB}{2} = 16 \cdot \frac{17}{16} = 17 - \text{радиусе } \Omega$$

2) $\angle AFE = \angle ABE$ (опис-сел на окруж-ти ω)

$$\angle ABE = \angle CBA + \angle CBE$$

$$\angle CBE = \angle CAE \text{ (впис, опис-сел на окруж-ти } \omega)$$

из т.к. $\triangle ABC \sim \triangle OBD$ (из п. 1) $\Rightarrow \frac{OD}{AC} = \frac{17}{32}$

$$AC = \frac{32}{17} OD = \frac{32}{17} \cdot \frac{255}{16} = 30$$

из прямоуг. $\triangle DCA$: по т. Пифагора:

$$AD = \sqrt{DC^2 + CA^2} = \frac{15\sqrt{17}}{2}$$

$$\sin \angle CAD = \frac{DC}{AD} = \frac{1}{\sqrt{17}}; \cos \angle CAD = \frac{AC}{AD} = \frac{4}{\sqrt{17}}$$

из прямоуг. $\triangle BCA$: $\sin \angle CBA = \frac{30}{34} = \frac{AC}{AB}$; $\cos \angle CBA = \frac{CB}{AB} =$

$$= \frac{16}{34}$$

$$\begin{aligned} \sin \angle ABE &= \sin(\angle ABC + \angle CBE) = \sin(\angle ABC + \angle CAD) = \\ &= \sin \angle ABC \cdot \cos \angle CAD + \sin \angle CAD \cdot \cos \angle ABC = \frac{30}{34} \cdot \frac{4}{17} + \frac{16}{34} \cdot \frac{1}{17} \\ &= \frac{68 \cdot 2}{34 \cdot 17} = \frac{4\sqrt{17}}{17} \end{aligned}$$

$$\Rightarrow \angle AFE = \arcsin \frac{4\sqrt{17}}{17}$$

3) Т.к. $EF \perp BC$ и $AC \perp BC$, $\Rightarrow EF \parallel AC$, $\Rightarrow \angle CAD = \angle AEF$
как как прилет вертикали

в $\triangle BEA$ ($\angle BEA = 90^\circ$ т.к. диаметр-се на диаметре)

$$\sin \angle ABE = \frac{AE}{AB} = \frac{4\sqrt{17}}{17}, \Rightarrow AE = AB \cdot \frac{4\sqrt{17}}{17} = 8\sqrt{17}$$

В $\triangle AFE$ проверим высоту AH

$$\sin \angle AEF = \frac{AH}{AE} = \frac{1}{2\sqrt{17}}, \Rightarrow AH = \frac{AE}{2\sqrt{17}} = 8$$

$$\cos \angle AEF = \frac{4}{\sqrt{17}} = \frac{EH}{AE}, \Rightarrow EH = AE \cdot \frac{4}{\sqrt{17}} = 32$$

$$\sin \angle AFE = \frac{4}{\sqrt{17}}, \Rightarrow \cos \angle AFE = \sqrt{1 - \frac{16}{17}} = \frac{1}{\sqrt{17}}$$

$$\tan \angle AFE = 4 = \frac{AH}{HF}, \Rightarrow HF = \frac{AH}{4} = 2$$

$$\Rightarrow EF = EH + HF = 2 + 32 = 34$$

$$S_{\triangle AEF} = \frac{1}{2} \cdot AH \cdot FE = \frac{1}{2} \cdot 34 \cdot 8 = 136$$

Ответ: $\frac{225}{16}$; 17; $\arcsin \frac{4\sqrt{17}}{17}$; 136

Задача 6

$$\frac{16x-16}{4x-5} \leq ax+b \leq -32x^2+36x-3$$

$f(x) = ax+b$ задан прямию на плоскости.

Обозначим эту прямую за l .

Заметим, что если l касается

$f(x) = -32x^2 + 36x - 3$ - кв. функ. график параболы,

назовем часть параболы, находящуюся

между касательной $x = \frac{1}{4}$ и $x = 1$ и

ПИСЬМЕННАЯ РАБОТА

Аналогично, графиком $t(x) = \frac{16x-16}{4x-5} = 4 + \frac{4}{4x-5}$
явл-ся гиперболой. А фигуру, ограниченную
 $x=1$ и $x=\frac{1}{4}$ назовем Ω .

Заметим, что если t пересекает ω в
точке x_0 , $x_0 \neq \frac{1}{4}$, $x_0 \neq 1$, то

~~или $g(\frac{1}{4}) > f(\frac{1}{4})$ или $g(1) >$~~

или $g(\frac{1}{4}) < f(\frac{1}{4})$ или $g(1) < f(1)$ - не подходит

Прямая k , проходящая через
концы ω (в т. $x=\frac{1}{4}$ и $x=1$) задается

$$g(x) = -4x + 5$$

ДОК-ВО: $g(x) = Ax + B$

$$\begin{cases} \frac{1}{4}A + B = 4 \\ A + B = 1 \end{cases} \Rightarrow A = -4, B = 5$$

Заметим, что k касается Ω в т. $x_0 = \frac{3}{4}$

$$t(\frac{3}{4}) = g(\frac{3}{4}) = 2$$

Тогда если $f(\frac{3}{4}) > 2$, то t пересечет

ω , а если $f(\frac{3}{4}) < 2$, то t пересечет

Ω , т.е. $f(\frac{3}{4}) < t(\frac{3}{4})$ - не подходит.

Значит $f(\frac{3}{4}) = 2$

Если $f(\frac{1}{4}) > g(\frac{1}{4})$ - не подх.

если $f(\frac{1}{4}) < g(\frac{1}{4})$, то $f(1) > g(1)$ - не подходит

(т.к. $f(\frac{3}{4}) = 2$, то t пересечет k , $\Rightarrow f(1) > g(1)$)

$$\Rightarrow f(\frac{1}{4}) = g(\frac{1}{4}) = 4, \Rightarrow \text{подходит только}$$

t - наклонная прямая, совпадает с k

$$\Rightarrow a = -4, b = 5$$

Омлет: $(-4; 5)$

Задача 1

$$\sin(2\alpha + 2\beta) = -\frac{1}{\sqrt{5}}; \quad \sin(2\alpha + 4\beta) + \sin 2\alpha = -\frac{2}{5}$$

$$\left[\begin{array}{l} 2\alpha + 2\beta = \arcsin\left(-\frac{1}{\sqrt{5}}\right) + 2\pi k, k \in \mathbb{Z} \\ 2\alpha + 2\beta = \pi - \arcsin\left(-\frac{1}{\sqrt{5}}\right) + 2\pi n, n \in \mathbb{Z} \end{array} \right.$$

$$\left[\begin{array}{l} 2\beta = -2\alpha + \arcsin\left(-\frac{1}{\sqrt{5}}\right) + 2\pi k \\ 2\beta = -2\alpha + \pi - \arcsin\left(-\frac{1}{\sqrt{5}}\right) + 2\pi n \end{array} \right.$$

Перемещаем во \mathbb{D} гр-е:

$$\sin(2\alpha + 4\beta) + \sin 2\alpha = -$$

$$\left[\begin{array}{l} \sin(2\alpha + 2 \cdot 2\beta) = \sin\left(-2\alpha + 2\arcsin\left(-\frac{1}{\sqrt{5}}\right) + 4\pi k\right) = \\ = \sin\left(-2\alpha + 2\arcsin\left(-\frac{1}{\sqrt{5}}\right)\right) \\ \sin(2\alpha + 2 \cdot 2\beta) = \sin\left(-2\alpha + 2\pi - 2\arcsin\left(-\frac{1}{\sqrt{5}}\right) + 4\pi n\right) = \\ = \sin\left(-2\alpha - 2\arcsin\left(-\frac{1}{\sqrt{5}}\right)\right) \end{array} \right.$$

$$\begin{aligned} 1) \sin\left(-2\alpha + 2\arcsin\left(-\frac{1}{\sqrt{5}}\right)\right) &= \sin(-2\alpha) \cdot \cos\left(2\arcsin\left(-\frac{1}{\sqrt{5}}\right)\right) + \\ &+ \sin\left(2\arcsin\left(-\frac{1}{\sqrt{5}}\right)\right) \cdot \cos(-2\alpha) = -\sin 2\alpha \left(1 - 2\sin^2\arcsin\left(-\frac{1}{\sqrt{5}}\right)\right) + \\ &+ 2\sin\left(\arcsin\left(-\frac{1}{\sqrt{5}}\right)\right) \cdot \cos\left(\arcsin\left(-\frac{1}{\sqrt{5}}\right)\right) \cdot \cos 2\alpha = \\ &= -\sin 2\alpha \left(1 - \frac{2}{5}\right) + 2\sin\left(-\frac{1}{\sqrt{5}}\right) \sqrt{1 - \sin^2\arcsin\left(-\frac{1}{\sqrt{5}}\right)} \cdot \cos 2\alpha = \\ &= -\sin 2\alpha \cdot \frac{3}{5} - \frac{4}{5} \cos 2\alpha \end{aligned}$$

$$\begin{aligned} 2) \sin\left(-2\alpha - 2\arcsin\left(-\frac{1}{\sqrt{5}}\right)\right) &= -\sin 2\alpha \left(\cos\left(-2\arcsin\left(-\frac{1}{\sqrt{5}}\right)\right)\right) + \\ &+ \left(-\cos(-2\alpha)\right) \cdot \sin\left(2\arcsin\left(-\frac{1}{\sqrt{5}}\right)\right) = -\sin 2\alpha \left(1 - \frac{2}{5}\right) - \\ &- \cos 2\alpha \cdot \sqrt{1 - \sin^2\left(\arcsin\left(-\frac{1}{\sqrt{5}}\right)\right)} \cdot \sin\left(\arcsin\left(-\frac{1}{\sqrt{5}}\right)\right) \cdot 2 = \\ &= -\sin 2\alpha \cdot \frac{3}{5} + \frac{4}{5} \cos 2\alpha \end{aligned}$$

$$\left[\begin{array}{l} \sin(2\alpha + 4\beta) + \sin 2\alpha = -\frac{3}{5} \sin 2\alpha - \frac{4}{5} \cos 2\alpha + \sin 2\alpha \\ \sin(2\alpha + 4\beta) + \sin 2\alpha = -\frac{3}{5} \sin 2\alpha + \frac{4}{5} \cos 2\alpha + \sin 2\alpha \end{array} \right.$$

ПИСЬМЕННАЯ РАБОТА

$$\begin{cases} \frac{2}{5} \sin 2\alpha - \frac{4}{5} \cos 2\alpha = -\frac{2}{5} \\ \frac{2}{5} \sin 2\alpha + \frac{4}{5} \cos 2\alpha = -\frac{2}{5} \end{cases} \Rightarrow \begin{cases} 2\sin 2\alpha - 4\cos 2\alpha = -2 \\ 2\sin 2\alpha + 4\cos 2\alpha = -2 \end{cases}$$

$$\begin{cases} 4\sin\alpha \cdot \cos\alpha - 4 + 8\sin^2\alpha = -2\sin^2\alpha - 2\cos^2\alpha \\ 4\sin\alpha \cdot \cos\alpha + 4 - 8\sin^2\alpha = -2\sin^2\alpha - 2\cos^2\alpha \end{cases}$$

$$\begin{cases} 4\sin\alpha \cdot \cos\alpha - 4 + 8\sin^2\alpha = -2\sin^2\alpha - 2\cos^2\alpha \\ 4\sin\alpha \cdot \cos\alpha + 4 - 8\sin^2\alpha = -2\sin^2\alpha - 2\cos^2\alpha \end{cases}$$

$$\begin{cases} 4\sin\alpha \cdot \cos\alpha + 6\sin^2\alpha - 2\cos^2\alpha = 0 \quad | : \cos^2\alpha \\ 4\sin\alpha \cdot \cos\alpha - 2\sin^2\alpha + 6\cos^2\alpha = 0 \quad | : \cos^2\alpha \end{cases}$$

$$\begin{cases} 4\sin\alpha \cdot \cos\alpha + 6\sin^2\alpha - 2\cos^2\alpha = 0 \quad | : \cos^2\alpha \\ 4\sin\alpha \cdot \cos\alpha - 2\sin^2\alpha + 6\cos^2\alpha = 0 \quad | : \cos^2\alpha \end{cases}$$

Т.к. $\alpha \in \mathbb{R}$ определены, $\cos \alpha \neq 0$

$$\begin{cases} 4\tan\alpha + 6\tan^2\alpha - 2 = 0 \\ 4\tan\alpha - 2\tan^2\alpha + 6 = 0 \end{cases}$$

$$\begin{cases} 4\tan\alpha + 6\tan^2\alpha - 2 = 0 \\ 4\tan\alpha - 2\tan^2\alpha + 6 = 0 \end{cases}$$

Решаем кв. ур-е относительно $\tan\alpha$:

$$\begin{cases} \tan\alpha = 1 \\ \tan\alpha = -\frac{1}{3} \\ \tan\alpha = -1 \\ \tan\alpha = \frac{1}{3} \end{cases}$$

$$* \cos \arcsin x = \sqrt{1 - \sin^2 \arcsin x}$$

$$\text{Т.к. } -\frac{\pi}{2} \leq \arcsin x \leq \frac{\pi}{2}, \Rightarrow \cos \arcsin x \geq 0$$

Задача 2

$$\begin{cases} x - 12y = \sqrt{2xy - 12y - x + 6} \\ x^2 + 36y^2 - 12x - 36y = 45 \end{cases}$$

Сделаем замену: $x - 6 = a$ и $2y - 1 = b$

тогда:

$$\begin{cases} a - 6b = \sqrt{ab} \quad (1) \\ a^2 + 9b^2 = 90 \end{cases}$$

Возвращаем первое ур-е в квадрат

(Так мы не потеряем корни, но можем получить новые, поэтому потом проверим)

$$\begin{cases} a^2 - 12ab + 36b^2 = ab \\ a^2 + 9b^2 = 90 \end{cases}$$

$$\Rightarrow \begin{cases} a^2 - 13ab + 36b^2 = 0 \\ a^2 + 9b^2 = 90 \end{cases}$$

Решим первое уравнение как квадратное относительно a :

$$\begin{cases} a = 9b \\ a = 4b \end{cases}$$

Подставим во второе:

$$\begin{cases} a = 9b \\ 90b^2 = 90 \\ a = 4b \\ 25b^2 = 90 \end{cases} \Rightarrow \begin{cases} b = 1 \\ a = 9 \\ b = -1 \\ a = -9 \\ b = \frac{3\sqrt{10}}{5} \\ a = \frac{12\sqrt{10}}{5} \\ b = -\frac{3\sqrt{10}}{5} \\ a = -\frac{12\sqrt{10}}{5} \end{cases}$$

Подставим в уравнение (1) получаем, что $\begin{cases} a = -9 \\ b = -1 \end{cases}$ и $\begin{cases} a = \frac{12\sqrt{10}}{5} \\ b = \frac{3\sqrt{10}}{5} \end{cases}$ — не подходит,

$$\Rightarrow \begin{cases} x - 6 = +9 \\ 2y - 1 = +1 \\ x - 6 = \frac{12\sqrt{10}}{5} \\ 2y - 1 = -\frac{3\sqrt{10}}{5} \end{cases} \Rightarrow \begin{cases} x = 15 \\ y = 1 \\ x = \frac{30 - 12\sqrt{10}}{5} \\ y = \frac{5 - 3\sqrt{10}}{10} \end{cases}$$

Ответ: $(15; 1)$, $(\frac{30 - 12\sqrt{10}}{5}; \frac{5 - 3\sqrt{10}}{10})$

Задача 3

$$10x + |x^2 - 10x| \log_3 4 \geq x^2 + 5 \log_3 (10x - x^2)$$

$$O.D.P.: 10x - x^2 > 0$$

$$\text{Пусть } x^2 - 10x = t$$

$$x \in (0; 10)$$

$$t + |t| \log_3 2 \geq t \log_3 5$$

$$t + |t| \log_3 4 \geq t \log_3 5$$

$$\text{На O.D.P.: } t + t \log_3 4 \geq t \log_3 5$$

Функция слева возрастает быстрее чем функция справа при $t = 0$ выполняется равенство, т.е. $t \in (0; 10)$ но $t > 0$

черновик чистовик

(Поставьте галочку в нужном поле)

Страница № 6

(Нумеровать только чистовики)