

МОСКОВСКИЙ ФИЗИКО-ТЕХНИЧЕСКИЙ ИНСТИТУТ
ОЛИМПИАДА "ФИЗТЕХ" ПО МАТЕМАТИКЕ

11 класс

ВАРИАНТ 4

ШИФР

Заполняется ответственным секретарём

1. [3 балла] Углы α и β удовлетворяют равенствам

$$\sin(2\alpha + 2\beta) = -\frac{1}{\sqrt{17}}; \quad \sin(2\alpha + 4\beta) + \sin 2\alpha = -\frac{2}{17}.$$

Найдите все возможные значения $\operatorname{tg} \alpha$, если известно, что он определён и что этих значений не меньше трёх.

2. [4 балла] Решите систему уравнений

$$\begin{cases} y - 6x = \sqrt{xy - 6x - y + 6}, \\ 9x^2 + y^2 - 18x - 12y = 45. \end{cases}$$

3. [5 баллов] Решите неравенство

$$|x^2 - 26x|^{\log_5 12} + 26x \geq x^2 + 13^{\log_5(26x - x^2)}.$$

4. [5 баллов] Окружности Ω и ω касаются в точке A внутренним образом. Отрезок AB – диаметр большей окружности Ω , а хорда BC окружности Ω касается ω в точке D . Луч AD повторно пересекает Ω в точке E . Прямая, проходящая через точку E перпендикулярно BC , повторно пересекает Ω в точке F . Найдите радиусы окружностей, угол AFE и площадь треугольника AEF , если известно, что $CD = 12$, $BD = 13$.
5. [5 баллов] Функция f определена на множестве положительных рациональных чисел. Известно, что для любых чисел a и b из этого множества выполнено равенство $f(ab) = f(a) + f(b)$, и при этом $f(p) = [p/4]$ для любого простого числа p ($[x]$ обозначает наибольшее целое число, не превосходящее x). Найдите количество пар натуральных чисел $(x; y)$ таких, что $4 \leq x \leq 28$, $4 \leq y \leq 28$ и $f(x/y) < 0$.

6. [5 баллов] Найдите все пары чисел $(a; b)$ такие, что неравенство

$$\frac{8 - 6x}{3x - 2} \geq ax + b \geq 18x^2 - 51x + 28$$

выполнено для всех x на промежутке $(\frac{2}{3}; 2]$.

7. [6 баллов] Дана пирамида $TXYZ$, вершина Y которой лежит на одной сфере с серединами всех её рёбер, кроме ребра TU . Известно, что $XY = \sqrt{3}$, $TX = \sqrt{2}$, $TZ = 2$. Найдите длину ребра XZ . Какой наименьший радиус может иметь сфера, описанная около данной пирамиды?

ПИСЬМЕННАЯ РАБОТА

$$1) \sin(2\alpha + 2\beta) = -\frac{1}{\sqrt{17}}$$

$$\sin(2\alpha + 4\beta) + \sin 2\alpha = -\frac{2}{\sqrt{17}}$$

$$\sin(2\alpha + 4\beta) + \sin 2\alpha = 2\sin(2\alpha + 2\beta) \cdot \cos 2\beta =$$

$$\Rightarrow \cos 2\beta = \frac{1}{\sqrt{17}}, \quad \sin 2\beta = \pm \frac{4}{\sqrt{17}}$$

$$\begin{aligned} \sin(2\alpha + 2\beta) &= \underbrace{\sin 2\alpha}_x \cos 2\beta + \sin 2\beta \underbrace{\cos 2\alpha}_{\pm \sqrt{1-x^2}} = \\ &= x \cdot \frac{1}{\sqrt{17}} \pm \frac{4}{\sqrt{17}} \cdot \sqrt{1-x^2} = -\frac{1}{\sqrt{17}} \end{aligned}$$

Произведение $\sin 2\beta \cdot \cos 2\alpha$ имеет
знак "+" ($\sin 2\beta \geq 0, \cos 2\alpha \geq 0; \sin 2\beta \leq 0, \cos 2\alpha \leq 0$) или

знак "-" ($\sin 2\beta \geq 0, \cos 2\alpha < 0; \sin 2\beta < 0, \cos 2\alpha \geq 0$) или

знак "-" ($\sin 2\beta \geq 0, \cos 2\alpha < 0; \sin 2\beta < 0, \cos 2\alpha \geq 0$)

нужно найти β при
любых α . Разберем случаи "+"

$$x + 4\sqrt{1-x^2} = -1$$

$$x + 1 = -4\sqrt{1-x^2}$$

$$x^2 + 2x + 1 = 16 - 16x^2, \quad x + 1 \leq 0$$

$$17x^2 + 2x - 15 = 0$$

$$\begin{cases} x = -1 \Rightarrow \sin 2\alpha = -\frac{\pi}{2} + 2\pi k, k \in \mathbb{Z} \Rightarrow \alpha = \arcsin\left(-\frac{1}{4}\right) + \pi k, k \in \mathbb{Z} \\ x = \frac{15}{17} - \text{н.к. } x + 1 \leq 0 \end{cases}$$

случаев $4-4$:

$$x+1 = 4\sqrt{1-x^2}$$

$$x^2 + 2x + 1 = 16 - 16x^2, \quad x \geq 0$$

$$17x^2 + 2x - 15 = 0$$

$$\begin{cases} x = -1 - \text{рассмотрен} \\ x = \frac{15}{17} \end{cases}$$

$$\text{но } \sin 2\alpha = \frac{15}{17} \Rightarrow \cos 2\alpha = \pm \frac{8}{17}$$

$$\operatorname{tg} 2\alpha = \frac{2 \operatorname{tg} \alpha}{1 - \operatorname{tg}^2 \alpha} = y = \pm \frac{15}{8}$$

$$\begin{cases} \frac{15}{8} = \frac{2y}{1-y^2} \\ -\frac{15}{8} = \frac{2y}{1-y^2} \end{cases} \Rightarrow \begin{cases} y = \pm \frac{5}{3} \\ y = \pm \frac{3}{5} \end{cases}$$

Ответ: $\pm \frac{5}{3}; \pm \frac{3}{5}; -1$

$$3) |x^2 - 26x| \log_5 12 + 26x \geq x^2 + 13 \log_5 (26x - x^2)$$

т.к. $\log_5 (26x - x^2)$ сущ., то $|x^2 - 26x| = -x^2 + 26x = 2$

$$x \log_5 12 + x \geq 13 \log_5 x$$

$$12 \log_5 x + 5 \log_5 x \geq 13 \log_5 x$$

$$12^q + 5^q \geq 13^q \quad /: 13^q > 0$$

$$\left(\frac{12}{13}\right)^q + \left(\frac{5}{13}\right)^q \geq 1 \quad \text{при } q > 2 \quad \left(\frac{12}{13}\right)^q < \left(\frac{12}{13}\right)^2, \text{ т.к. } \frac{12}{13} < 1$$

$$\left(\frac{12 \cdot 5}{13}\right)^q < \left(\frac{12 \cdot 5}{13}\right)^2$$

т.к. $\frac{5}{13} < 1$

при $q \leq 2$:

$$\left(\frac{12}{13}\right)^q \geq \left(\frac{12}{13}\right)^2, \left(\frac{5}{13}\right)^q \geq \left(\frac{5}{13}\right)^2 \Rightarrow$$

$$\Rightarrow \left(\frac{12}{13}\right)^q + \left(\frac{5}{13}\right)^q \geq 1$$

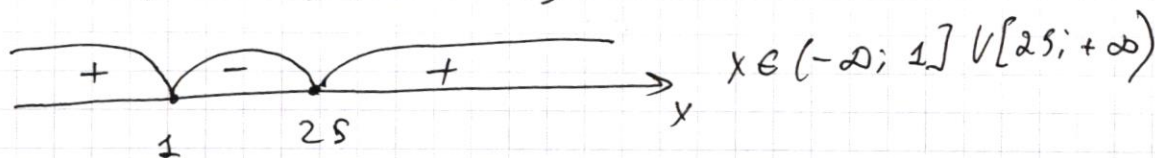
м.е. $\log_5 2 \leq 2$

$$\log_5 (26x - x^2) \leq 2$$

$$26x - x^2 \leq 25 - \text{м.к. } 5 > 1$$

$$x^2 - 26x + 25 \geq 0$$

$$(x - 1)(x - 25) \geq 0$$



$$\text{но } 26x - x^2 > 0 \Rightarrow x \in (0; 26)$$

м.к. $\log_5 (26 - x^2) \text{ сущ.}$

$$\text{м.е. } x \in ((-\infty; 1] \cup [25; +\infty)) \cap (0; 26) \Rightarrow$$

$$\Rightarrow x \in (0; 1] \cup [25; 26)$$

Ответ: $x \in (0; 1] \cup [25; 26)$

ПИСЬМЕННАЯ РАБОТА

$$2. \begin{cases} y - 6x = \sqrt{xy - 6x - y + 6} \\ 9x^2 + y^2 - 18x - 12y = 45 \end{cases}$$

$$y^2 + 36x^2 - 12xy = xy - 6x - y + 6, \quad y \geq 6x$$

$$y^2 + y(1 - 13x) + 36x^2 + 6x - 6 = 0$$

$$D = 25x^2 - 50x + 25 = 25(x - 1)^2$$

$$y = \frac{13x - 1 \pm 5(x - 1)}{2}$$

$$\begin{cases} y = 9x - 3 \\ y = 4x + 2 \end{cases}$$

подставим $y = 9x - 3$:

$$9x^2 - 18x + 81x^2 - 54x + 9 - 12 \cdot 9x + 12 \cdot 3 = 45$$

$$\begin{cases} x = 0 \Rightarrow y = -3 \text{ - н.к. } y \geq 6x \\ x = \frac{7}{5} \Rightarrow y = \frac{48}{5} \end{cases}$$

подставим $y = 4x + 2$:

$$9x^2 - 18x + 16x^2 + 16x + 4 - 12 \cdot 4x - 12 \cdot 2 = 45$$

$$25x^2 - 250x - 65 = 0$$

$$x = \frac{10 \pm 6\sqrt{10}}{10} = 1 \pm 0,6\sqrt{10}$$

$$\begin{cases} y = 6 + 2,4\sqrt{10} \leq 6 + 3,6\sqrt{10} \text{ - н.к.} \\ y = 6 - 2,4\sqrt{10} \neq 6 - 3,6\sqrt{10} \end{cases} \quad \text{Ответ: } \left(\frac{7}{5}; \frac{48}{5}\right), (1 - 0,6\sqrt{10}; 6 - 2,4\sqrt{10})$$



черновик чистовик
(Поставьте галочку в нужном поле)

Страница №
(Нумеровать только чистовики)

$$y = \frac{18x - 6}{2} = 9x - 3$$

$$\begin{array}{r} \times 12 \\ 9 \\ \hline 108 \end{array}$$

$$\begin{array}{r} 96 \\ + 25 \\ \hline 480 \end{array}$$

$$y = \frac{8x + 4}{2} = 4x + 2$$

$$\begin{array}{r} 192 \\ 6400 \end{array}$$

$$9x^2 - 18x + 81x^2 - 54x + 9 - 12 \cdot 9x + 12 \cdot 3 = 45$$

$$9x^2 - 14x = 0$$

$$2400$$

$$10x^2 - 14x = 0$$

$$1252 =$$

$$x = 0$$

$$x = \frac{14}{10} = \frac{7}{5}$$

$$1252$$

$$|x^2 - 26x|^{\log_5 12} + 26x \geq x^2 + 13^{\log_5 (26 - x^2)}$$

$$f(2) = 1$$

$$\frac{4}{25}$$

$$(26 - x^2)^{\log_5 13}$$

$$f(2) = f(1) + f(2)$$

$$\frac{4}{25}$$

$$\begin{array}{l} 626 \cdot 2 = \\ = 313 \cdot 2 \end{array}$$

$$f(1) = 0$$

$$f(p) = f(1) + f(p)$$

$$\frac{1152 + 96 \cdot 25}{625}$$

$$f(3) = 1$$

$$f(1)$$

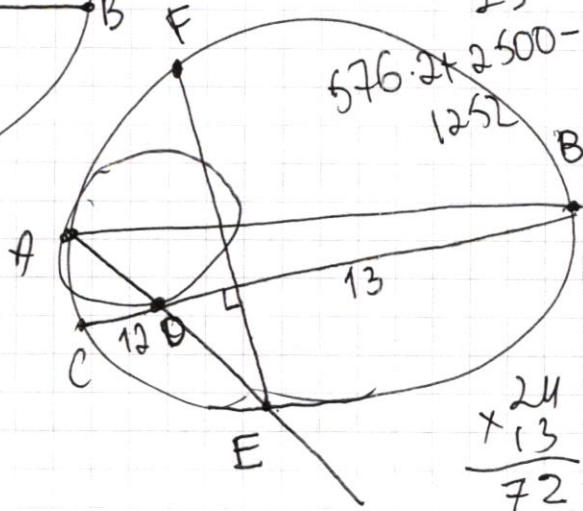

$$576 \cdot 2 + 100$$

$$\frac{576}{625} \cdot 2 + 4 - \frac{96}{25}$$

$$f(4) = 2$$

$$f(8) = 3$$

$$526 \cdot 2$$



$$\frac{2500 + 1152 - 96 \cdot 25}{625} = 169$$

$$\begin{array}{r} 24 \\ \times 13 \\ \hline 72 \end{array}$$

ПИСЬМЕННАЯ РАБОТА

$$(y - 6x)^2 = (y - 6)(x - 1) \quad y \geq 6x$$

$$(3x + 3)^2 + (y - 6)^2 = 90 \quad xy = y^2 - 1$$

$$(3x + 3)^2 + \frac{(y - 6x)^4}{(x - 1)^2} = 90$$

$$(3x + 3)^2 + (6x - 6)^2 =$$

$$9(x + 1)^2 + 36(x - 1)^2 = 90$$

$$3 \quad 9x(x - 2) + y(y - 12) = 45$$

$$\begin{cases} y - 6x = \sqrt{xy - 6x - y + 6}, \quad y \geq 6x \\ 9x^2 + y^2 - 18x - 12y = 45 \end{cases}$$

$$9x^2 + y^2 - 18x - 12y = 45$$

$$(y - 6x)^2 = xy - 6x - y + 6 = (y - 6)(x - 1)$$

$$9x^2 \quad y^2 - 12y + 9x^2 - 18x - 45 = 0$$

$$D = 144 - 4 \cdot 9x^2 + 4 \cdot 18x + 180 =$$

$$= 324 + 72x + 36x^2 = ~~(18x + 18)^2~~$$

$$- 40x^2$$

$$\begin{cases} y^2 - 12xy + 36x^2 = (y - 6)(x - 1) \\ 9x^2 + y^2 - 18x - 12y = 45 \end{cases}$$

$$9x^2 + y^2 - 18x - 12y = 45$$

$$y^2 - 13xy + 36x^2 - 6 + 6x + y = 0$$

$$y - 6x = \sqrt{xy - 6x - y + 6}$$

$$(y - 6x) = \sqrt{y(x-1) + 6(x-1)}$$

$$(y - 6x) = \sqrt{(y-6)(x-1)}$$

$$9x^2 + y^2 - 18x - 12y = 45$$

$$(y-6)^2 + 9(x-1)^2 = 90$$

$$(y-6)(x-1) = (y-6x)^2$$

$$(y-6) = \frac{(y-6x)^2}{(x-1)}$$

$$(y-6x)^2 = (y-6)(x-1)$$

$$y^2 - 12xy + 36x^2 = xy - 6x - y - 6$$

~~$$y^2 - 13xy + 6x - y - 6 - 36x^2$$~~

$$|a| \log_5 12 \geq a + 13 \log_5 (-a) \quad a < 0$$

$$(-a) \log_5 12 \geq a + 13 \log_5 (-a)$$

$$12 \log_5 a = (-a) \log_5 12$$

$$12 \log_5 a \geq a + 13 \log_5 a$$

~~$$\ln(-a)$$~~

$$\log_5(-a) \cdot \ln 12 = \ln(-a) \cdot \log_5 12$$

$$\frac{\ln(-a)}{\ln 5} \cdot \ln 12 = \frac{\ln(-a) \ln 12}{\ln 5}$$

$$y^2 + y(1 - 13x) + 36x^2 + 6x - 6 = 0 \quad \frac{63-3}{5} = \frac{48}{5}$$

~~$$0 = y^2 - 26x + 169x^2 - 144x^2 - 24x + 24 =$$~~

$$= 25x^2 - 50x + 25 = 0 \quad y = \frac{13x - 1 \pm (5x - 5)}{2} \quad \text{и}$$

ПИСЬМЕННАЯ РАБОТА

$$\sin 2\alpha = \frac{15}{17}$$

$$\cos 2\alpha = \pm \frac{8}{17}$$

$$\operatorname{tg} 2\alpha = \frac{15}{8} = \frac{2q}{1-q^2}$$

$$15 - 15q^2 = 16q$$

$$15q^2 + 16q - 15 = 0$$

$$D = 256 + 15 \cdot 15 \cdot 4 = (34)^2$$

$$256 + 60 \cdot 15 = 900$$

$$346 = 1156$$

$$q = \frac{-16 \pm 34}{30}$$

$$4 \cdot (64 + 225) = 4 \cdot 17^2$$

" 289

$$q = -\frac{50}{30} = -\frac{5}{3}$$

$$q = \frac{18}{30} = \frac{3}{5}$$

$$\begin{array}{r} 34 \\ \times 34 \\ \hline 136 \\ 102 \\ \hline 1156 \end{array}$$

$$\frac{6}{5} = \frac{6}{5} \quad \frac{10}{3}$$

$$\frac{16}{5} = \frac{6}{5} = \frac{6}{5} \quad 1 -$$

$$0,8 = \frac{4}{5} = \frac{4}{5}$$

$$\frac{28 \cdot 6}{5 \cdot 16} = \frac{30}{15} = \frac{2}{25}$$

$$15 \cdot \frac{9}{28} + 16 \cdot \frac{3}{5} - 15 =$$

$$\frac{27}{5} + \frac{48}{5} = (15)$$

$$\begin{cases} y - 6x = \sqrt{xy - 6x - y + 6} \Leftrightarrow (y-6)(x-1) = (y-6x)^2 \\ 9x^2 + y^2 - 18x - 12y = 45 \end{cases}$$

$$\begin{aligned} 5x^2 - 10x - 13 &= 0 \\ \mathcal{D} &= 100 + 4 \cdot 13 \cdot 5 = \end{aligned}$$

$$y^2 - 12xy + 36x^2 = yx - 6x + 6 - y$$

$$360 = 6\sqrt{10}$$

$$9x^2 + 12xy - 36x^2 - 6x + 6 - y + 12y - 18x - 45 = 0$$

$$-27x^2 + 12x(13y - 24) + 11y - 39 = 0$$

$$\mathcal{D} = (13y - 24)^2 + 4 \cdot 27 \cdot (11y - 39)$$

$$q^{\log_5 12} + q \geq q^{\log_5 12 + \log_5 \frac{13}{12}} \quad \frac{10 \pm 6\sqrt{10}}{10}$$

$$\frac{\log_5 12 - \log_5 1}{q^{\log_5 12}} \geq \frac{\log_5 13 - \log_5 12}{q^{\log_5 12}} \Rightarrow \left(q^{\log_5 12} \right)^{\log_{12} 13} \geq 1 \pm 0,8\sqrt{10}$$

$$1 - \log_{12} 5 \geq \log_{12} 13$$

$$q^{\log_5 12} + q \geq q^{\log_5 13} \quad \frac{1}{q} \wedge \log_{12} 13 + \log_{12} 5 = \log_{12} 13$$

$$1 \wedge q^{\log_5 13} \leq q^{\log_5 13}$$

$$13 \log_5 (26 - x^2) \leq 13 \log_5 13$$

$$\log q^{\log_5 12} + q \geq q^{\log_5 13}$$

$$4 - 24$$

$$-(8x + 16x - 48x) - 2$$

$$-20 - 45 = -65$$

ПИСЬМЕННАЯ РАБОТА

$$-9x^2 - 18x - 36 - y^2 - 12y -$$

$$-9(x^2 + 2x + 4)$$

$$-9(x^2 + 2x + 1) - (y^2 + 12y + 36) + 18x^2 + 2y^2 = 0$$

⇒

$$-(3x+3)^2 - (y+6)^2 + 18x^2 + 2y^2 = 0$$

$$\sqrt{8x^2} (\sqrt{18^2 x - 3x + 3}) (-$$

$$12 \log_5 q + q \geq 13 \log_5 q$$

$$q = -a, q > 0$$

$$q \geq 13 \log_5 q - 12 \log_5 q$$

$$\Rightarrow 1 \quad (a^x)' = a^x \ln a$$

$$a \cdot 13 \log_5 q \ln \log_5 q$$

$$13 \log_5 q \cdot \ln \log_5 q \cdot \frac{1}{q \ln 5} - 12 \log_5 q$$

$$\frac{\ln \log_5 q}{q \ln 5}$$

$$q \geq q^{\log_5 13} - q^{\log_5 12}$$

$$q \geq q(1^{\log_5 13} - 1^{\log_5 12})$$

$$q \geq q^{\log_5 12} \quad (\Rightarrow q \geq q^{\log_5 12})$$

$$\sin(2\alpha + \sin 2\beta) = \sin 2\alpha \cos 2\beta + \sin 2\beta \cos 2\alpha =$$

$$= \sin 2\alpha \cdot \frac{1}{\sqrt{17}} \pm \sqrt{1 - \sin^2 2\alpha} \cdot \frac{4}{\sqrt{17}} = -\frac{1}{\sqrt{17}}$$

⊖ ⊕
⊕ ⊖
⊕ ⊕
⊖ ⊖

$$x + \sqrt{1-x^2} \cdot 4 = -1$$

$$x + 1 = -4\sqrt{1-x^2}$$

$$x^2 + 2x + 1 = 16 - 16x^2, x + 1 \leq 0$$

$$17x^2 + 2x - 15 = 0$$

$$D = 4 + 4 \cdot 15 \cdot 17 = 4 \cdot (15 \cdot 17 + 1) = (4 \cdot 16)^2 =$$

$$\Rightarrow x = \frac{-2 \pm 32}{34}$$

$$\begin{array}{r} 15 \\ \times 17 \\ \hline \end{array}$$

$$105$$

$$15$$

$$255$$

$$256 = 2^8 = 16^2$$

$$x = -\sqrt{\frac{34}{17}} \cdot -1$$

$$x = \sqrt{\frac{30}{17}} \quad x = \frac{30}{34} = \frac{15}{17}$$

$$x = \frac{30}{17}$$

$$17^2 - 15^2 = 289 -$$

$$\sin 2\alpha = -1$$

$$2\alpha = -\frac{\pi}{2} + 2\pi k, k \in \mathbb{Z}$$

$$\alpha = -\frac{\pi}{4} + \pi k, k \in \mathbb{Z}$$

$$\operatorname{tg} \alpha = -1$$

$$x = -1$$

$$x = \frac{2}{17}$$

$$\frac{15}{17} \cdot \frac{8}{17} = \frac{120}{289}$$

$$-225 = -64$$

$$\sin \alpha \cdot \cos \alpha = \frac{1}{17}$$

$$y \cdot \sqrt{1-y^2} = \pm \frac{1}{17}, y > 0$$

$$y^2 \cdot (1-y^2) = \frac{1}{17}$$

$$y^2 - y^4 = \frac{1}{17}$$

ПИСЬМЕННАЯ РАБОТА

$$\sin(x+y) = -\frac{1}{\sqrt{17}}; \quad \sin(x+2y) + \sin x = -\frac{2}{\sqrt{17}}$$

~~$$2\sin(x+y) = \sin(x+2y) + \sin x$$~~

~~$$2(\sin x \cos y + \sin y \cos x) = \sin x \cos 2y + \sin 2y \cos x + \sin x$$~~

~~$$\begin{aligned} \text{tg}(x+y) &= \frac{\sin(x+y)}{\cos(x+y)} = \frac{\sin x \cos y + \sin y \cos x}{\cos x \cos y - \sin x \sin y} = \\ &= \frac{\text{tg } x + \text{tg } y}{1 - \text{tg } x \text{tg } y} \end{aligned}$$~~

$$\sin \alpha + \sin \beta = 2 \cdot \sin \frac{\alpha+\beta}{2} \cdot \cos \frac{\alpha-\beta}{2}$$

$$\sin(2\alpha + 4\beta) + \sin 2\alpha = 2 \cdot \sin(2\alpha + 2\beta) \cdot \cos 2\beta = \frac{2}{\sqrt{17}}$$

$$\cos 2\beta = \frac{1}{\sqrt{17}}$$

$$\sin 2\beta = \pm \frac{4}{\sqrt{17}}$$

$$\sin 2\alpha \cdot \cos 2\beta + \sin 2\beta \cdot \cos 2\alpha = \sin 2\alpha \cdot \frac{1}{\sqrt{17}}$$

$$a) \sin x \cdot \frac{1}{\sqrt{17}} + \sqrt{1-x^2} \cdot \frac{4}{\sqrt{17}} = -\frac{1}{\sqrt{17}}$$

$$\begin{aligned} x + \sqrt{1-x^2} \cdot 4 &= -1 \\ -(x+1) &= \sqrt{1-x^2} \quad \begin{cases} x=0 \\ x=-1 \end{cases} \\ x^2 + 2x + 1 &= 1 - x^2 \end{aligned}$$

ПИСЬМЕННАЯ РАБОТА

$$\begin{cases} \sin 2\alpha = 0 \\ \sin 2\alpha = -1 \end{cases}$$

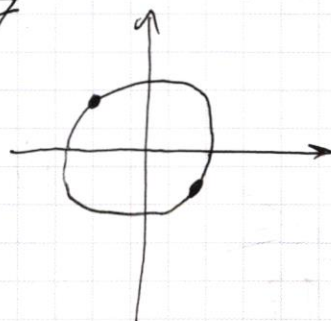
$$\begin{cases} \alpha = \frac{2\pi k}{2} = \pi k, k \in \mathbb{Z} & \operatorname{tg} \alpha = 0 \\ \alpha = \frac{3\pi + 2\pi k}{2}, k \in \mathbb{Z} \end{cases}$$

$$x \frac{1}{\sqrt{17}} - \sqrt{1-x^2} \cdot \frac{4}{\sqrt{17}} = -\frac{1}{\sqrt{17}}$$

$$\alpha = \frac{3\pi}{2} + \pi k, k \in \mathbb{Z}$$

$$\operatorname{tg} \alpha = \pi$$

$$\operatorname{tg} \alpha = -1$$



$$-\sqrt{1-x^2} = -1 - x$$

$$-1 + x^2 = x^2 + 2x + 1$$

$$\boxed{x = -1}$$

$$\sin 30 + \sin 60 = 2 \cdot \sin 45^\circ \cdot \cos 30^\circ = 2 \cdot \frac{\sqrt{2}}{2} \cdot \frac{\sqrt{3}}{2} = \frac{\sqrt{6}}{2}$$

$$\frac{\sqrt{3}}{2} + \frac{\sqrt{2}}{2} = \frac{2\sqrt{3} + 2\sqrt{2}}{2} = \frac{\sqrt{6} \cdot \sqrt{2} + \sqrt{3} \cdot \sqrt{6}}{2}$$

$$\sin(\alpha + \beta) = \sin \alpha \cos \beta + \sin \beta \cos \alpha$$

$$\sin(\alpha - \beta) = \sin \alpha \cos \beta - \sin \beta \cos \alpha$$

$$\sin(\alpha + \beta) + \sin(\alpha - \beta) = 2 \sin \alpha \cos \beta$$

x

y

$$\frac{x+y}{2} \quad \frac{x-y}{2}$$

$$\boxed{\cos 2\beta = \frac{1}{\sqrt{17}}}$$

\Leftrightarrow

$$\boxed{\sin 2\beta = \pm \frac{4}{\sqrt{17}}}$$

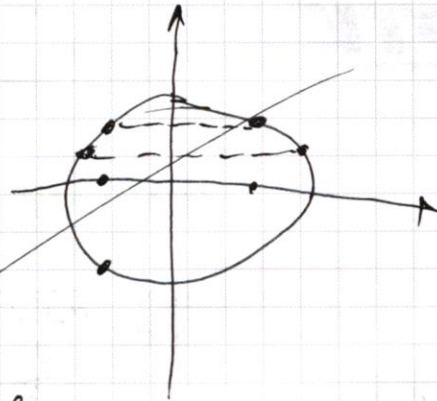
~~17~~ 17

$$y^4 - y^2 + \frac{1}{17} = 0$$

$$17y^4 - 17y^2 + 1 = 0$$

$$D = 17^2 - 4 \cdot 17 = 17 \cdot 13$$

$$y = \frac{17 \pm \sqrt{17 \cdot 13}}{34} = a \text{ u } b$$



~~$$y^2 = \pm \frac{\sqrt{17}}{2}$$~~

$$y = \frac{1}{2} \pm \frac{\sqrt{17 \cdot 13}}{34}$$

~~$$\sin \alpha \cdot \cos \alpha = \frac{1}{17}$$~~

$$\sin \alpha \cdot \cos \alpha = \frac{1}{17}$$

$$17 \cdot \frac{4}{17^2} + \frac{4}{17} - 15 = 0$$

~~$$17 \cdot \frac{4}{17} + \frac{4}{17} = 15$$~~

$$y \cdot \sqrt{1-y^2} = \frac{1}{17}$$

$$\frac{228 + 30}{17} = 15$$

$$289y^2 - 289y^4 - 1 = 0$$

$$289y^4 - 289y^2 + 1 = 0$$

$$D = \frac{289^2 - 4 \cdot 289}{4} = 289 \cdot 285$$

$$2 \cdot \sin \alpha \cdot \cos \alpha = \frac{15}{34}$$

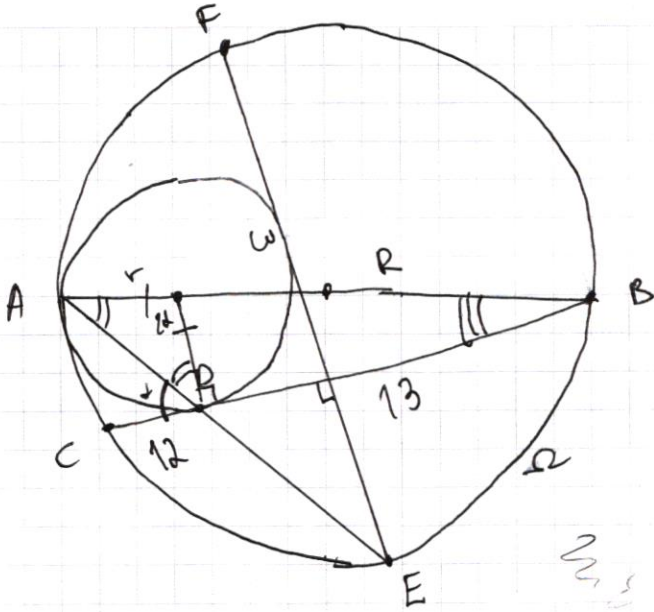
$$y \cdot \sqrt{1-y^2} = \frac{15}{34}$$

$$y^2 - y^4 = \left(\frac{15}{34}\right)^2$$

~~$$34^2 y^4 - 34^2 y^2 + 15^2 = 0$$~~

$$D = 34^2 - 15^2 \cdot 34^2$$

ПИСЬМЕННАЯ РАБОТА



$$\alpha \log_5 12 + \alpha \geq 13 \quad \alpha \log_5 \alpha$$

$$12 \log_5 \alpha + 5 \log_5 \alpha \geq 13 \log_5 \alpha$$

$$12^x + 5^x \geq 13^x$$

~~$12^x + 5^x$~~

$$12^x + 5^x = 13^x$$

~~$2 \cdot 12^{2x} + 5^{2x}$~~

$$\textcircled{B} \frac{8-6x}{3x-2} = -2 - \frac{6x-8}{3x-2} = -\left(2 + \frac{-4}{3x-2}\right) = \frac{4}{3x-2} \quad \text{or} \quad -2$$

