

1. [3 балла] Углы α и β удовлетворяют равенствам

$$\sin(2\alpha + 2\beta) = -\frac{1}{\sqrt{17}}; \quad \sin(2\alpha + 4\beta) + \sin 2\alpha = -\frac{8}{17}.$$

Найдите все возможные значения $\operatorname{tg} \alpha$, если известно, что он определён и что этих значений не меньше трёх.

2. [4 балла] Решите систему уравнений

$$\begin{cases} 3y - 2x = \sqrt{3xy - 2x - 3y + 2}, \\ 3x^2 + 3y^2 - 6x - 4y = 4. \end{cases}$$

3. [5 баллов] Решите неравенство

$$3^{\log_4(x^2+6x)} + 6x \geq |x^2 + 6x|^{\log_4 5} - x^2.$$

4. [5 баллов] Окружности Ω и ω касаются в точке A внутренним образом. Отрезок AB – диаметр большей окружности Ω , а хорда BC окружности Ω касается ω в точке D . Луч AD повторно пересекает Ω в точке E . Прямая, проходящая через точку E перпендикулярно BC , повторно пересекает Ω в точке F . Найдите радиусы окружностей, угол AFE и площадь треугольника AEF , если известно, что $CD = \frac{5}{2}$, $BD = \frac{13}{2}$.

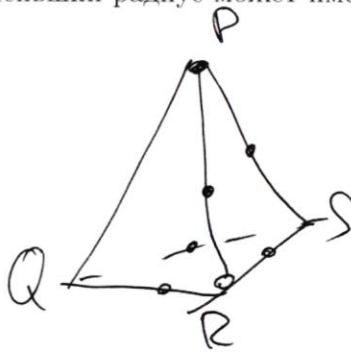
5. [5 баллов] Функция f определена на множестве положительных рациональных чисел. Известно, что для любых чисел a и b из этого множества выполнено равенство $f(ab) = f(a) + f(b)$, и при этом $f(p) = [p/4]$ для любого простого числа p ($[x]$ обозначает наибольшее целое число, не превосходящее x). Найдите количество пар натуральных чисел $(x; y)$ таких, что $3 \leq x \leq 27$, $3 \leq y \leq 27$ и $f(x/y) < 0$.

6. [5 баллов] Найдите все пары чисел $(a; b)$ такие, что неравенство

$$\frac{4x - 3}{2x - 2} \geq ax + b \geq 8x^2 - 34x + 30$$

выполнено для всех x на промежутке $(1; 3]$.

7. [6 баллов] Дана пирамида $PQRS$, вершина P которой лежит на одной сфере с серединами всех её рёбер, кроме ребра PQ . Известно, что $QR = 2$, $QS = 1$, $PS = \sqrt{2}$. Найдите длину ребра RS . Какой наименьший радиус может иметь сфера, описанная около данной пирамиды?



Задача №4 (продолжение):

$$\left(\frac{9^2 \cdot 2^2}{5^2} - \frac{9^2 \cdot 2^2}{13^2} \right) r^2 = 9^2 \quad | \times \frac{1}{9^2}$$

$$\left(\left(\frac{2}{5} \right)^2 - \left(\frac{2}{13} \right)^2 \right) r^2 = 1$$

$$\left(\frac{2}{5} - \frac{2}{13} \right) \left(\frac{2}{5} + \frac{2}{13} \right) r^2 = 1 \quad | \times (5 \cdot 13)^2$$

$$(2 \cdot 13 - 2 \cdot 5)(2 \cdot 13 + 2 \cdot 5) r^2 = (5 \cdot 13)^2$$

$$(26 - 10)(26 + 10) r^2 = (5 \cdot 13)^2$$

$$13 \cdot 36 r^2 = 5^2 \cdot 13^2$$

$$r^2 = \frac{5^2 \cdot 13}{6^2} \Rightarrow \boxed{r = \frac{5\sqrt{13}}{6}}$$

4. $AB = \frac{18}{5} r$ (из п.2), AB - диаметр \Rightarrow
 $2R = \frac{18}{5} \cdot r \Rightarrow AB = 2R$

$$R = \frac{9}{5} r, \quad R = \frac{9}{5} \cdot \frac{5\sqrt{13}}{6} = \frac{3\sqrt{13}}{2} \quad \boxed{R = \frac{3\sqrt{13}}{2}}$$

5. $\triangle ADC$ ($\angle C = 90^\circ$) П. Пифагора:

$$AD^2 = DC^2 + AC^2, \quad \text{где } AC = \frac{18}{13} r = \frac{18 \cdot 5\sqrt{13}}{13 \cdot 6} = \frac{15\sqrt{13}}{13}$$

$$AD^2 = \left(\frac{5}{2} \right)^2 + \frac{15^2}{13} = \frac{5^2 \cdot 13 + 15^2 \cdot 4}{4 \cdot 13} = \frac{5^2 (13 + 36)}{2^2 \cdot 13} =$$

$$= \left(\frac{5}{2} \right)^2 \cdot \frac{49}{13} \Rightarrow AD = \frac{5 \cdot 7}{2\sqrt{13}} = \frac{35\sqrt{13}}{26}$$

$$\cos \angle CDA = \frac{DC}{AD} = \frac{5}{2} \cdot \frac{26}{35\sqrt{13}} = \frac{13}{7\sqrt{13}} = \frac{\sqrt{13}}{7}$$

6. $\angle EDK = \angle CDA$ (вертикальные) $\Rightarrow \cos \angle EDK = \frac{\sqrt{13}}{7}$

7. $\angle AEB = 90^\circ$ (AB - диаметр), проведем EK по построению
 высота в $\triangle DEB$, $\Rightarrow EK^2 = BK \cdot ED = (BD - DK) \cdot ED$

$$EK^2 = \left(\frac{13}{2} - DK \right) ED = \frac{13}{2} ED - DK^2$$

8. $\triangle EKD$ ($\angle K = 90^\circ$) П. Пифагора: $ED^2 = EK^2 + KD^2$

$$ED^2 = \frac{13}{2} ED - DK^2 + DK^2$$

ПИСЬМЕННАЯ РАБОТА

Задача № 4 (кратчайшее)

$$E\Phi^2 = \frac{13}{2} H\Phi \Rightarrow H\Phi = \frac{2E\Phi^2}{13}$$

из кб:

$$\cos \angle E\Phi H = \frac{H\Phi}{E\Phi} = \frac{2E\Phi^2}{13E\Phi} = \frac{2E\Phi}{13} = \frac{\sqrt{13}}{7} \Rightarrow$$

$$E\Phi = \frac{13\sqrt{13}}{14}$$

$$\begin{aligned} EA &= E\Phi + \Phi A = \frac{13\sqrt{13}}{14} + \frac{35\sqrt{13}}{26} = \frac{\sqrt{13}}{2} \cdot \left(\frac{13}{7} + \frac{35}{13} \right) = \\ &= \frac{\sqrt{13}}{2} \cdot \frac{169 + 49 \cdot 5}{7 \cdot 13} = \frac{\sqrt{13}}{2} \cdot \frac{169 + 245}{7 \cdot 13} = \frac{\sqrt{13}}{2} \cdot \frac{414}{7 \cdot 13} = \frac{207\sqrt{13}}{7 \cdot 13} \end{aligned}$$

9. ΔAEB ($\angle E = 90^\circ$): $AB = 2R \Rightarrow AB = 3\sqrt{13}$

$$\begin{aligned} \sin \angle EBA = \frac{EA}{AB} ; \sin \angle EBA = \frac{207\sqrt{13}}{7 \cdot 13} \cdot \frac{1}{3\sqrt{13}} = \\ = \frac{207}{7 \cdot 13 \cdot 3} = \frac{69}{91} \end{aligned}$$

10. $\angle EBA = \angle EFA$ (опираются на $\sphericalangle EA$)

$$\boxed{\sin \angle EFA = \frac{69}{91}} \quad \boxed{\angle EFA = \arcsin \frac{69}{91}}$$

11. $\Delta EYA \leftrightarrow \Delta DO_1A$:

1) $DO_1, HF \perp BC \Rightarrow DO_1 \parallel HF \Rightarrow \angle ADO_1 = \angle AEY$

2) $\angle A$ - общий.

$$\frac{A\Phi}{AE} = \frac{AO_1}{AY} \quad (3)$$

$$\frac{A\Phi}{AE} = \frac{DO_1}{EY} \quad (4)$$

$$(3): \frac{\cancel{7} \cdot \cancel{35} \sqrt{13}}{\cancel{26}} \cdot \frac{\cancel{7} \cdot \cancel{13}}{207\sqrt{13}} = \frac{\cancel{5} \sqrt{13}}{\cancel{3} \cdot AY} \Rightarrow 7 \cdot \frac{7}{207} = \frac{\sqrt{13}}{3AY}$$

Задача №4 (круговые):

$$\frac{49}{69} = \frac{\sqrt{13}}{AJ} \Rightarrow AJ = \frac{69\sqrt{13}}{49}$$

$$\begin{aligned} \text{Заметим, } AB = AJ + BJ &\Rightarrow BJ = 3\sqrt{13} - \frac{69}{49}\sqrt{13} = \\ &= 3\sqrt{13} \left(1 - \frac{23}{49}\right) = 3\sqrt{13} \cdot \frac{49-23}{49} = \frac{3\sqrt{13} \cdot 26}{49} \end{aligned}$$

$$(4): \frac{35\sqrt{13}}{26} \cdot \frac{7 \cdot 13}{207\sqrt{13}} = \frac{5\sqrt{13}}{6 \cdot EJ}$$

$$\text{Получим: } (3) \equiv (4) \Rightarrow EJ = AJ = \frac{69\sqrt{13}}{49}$$

12. $\triangle BJF \sim \triangle EJA$:

1) $\angle BJF = \angle EJA$ (вертикальные);

2) $\angle BFJ = \angle JAE$ (опираются на $\sphericalangle BE$).

$$\frac{AJ}{EJ} = \frac{FJ}{BJ}, \text{ где } AJ = EJ \Rightarrow FJ = BJ = \frac{3\sqrt{13} \cdot 26}{49}$$

$$\begin{aligned} \text{Тогда } EF = EJ + JF; \quad EF &= \frac{69\sqrt{13}}{49} + 3 \cdot \frac{26\sqrt{13}}{49} = \\ &= \frac{3\sqrt{13}}{49} (23 + 26) = \frac{3\sqrt{13} \cdot 49}{49} = 3\sqrt{13} \end{aligned}$$

13. $\triangle ABE$ ($\angle E = 90^\circ$): т. Пифагора: $BE^2 = AB^2 - EA^2$

$$BE^2 = 3^2 \cdot 13 - \frac{3^2 \cdot 69^2}{7^2 \cdot 13} = 9 \cdot \left(\frac{7^2 \cdot 13^2 - 69^2}{7^2 \cdot 13} \right) =$$

$$= \frac{3^2}{7^2} \cdot \frac{91^2 - 69^2}{13} = \frac{3^2}{7^2} \cdot \frac{(91-69)(91+69)}{13} = \frac{3^2}{7^2} \cdot \frac{22 \cdot 160}{13} =$$

$$= \frac{3^2}{7^2} \cdot \frac{2 \cdot 11 \cdot 2 \cdot 5 \cdot 16}{13} = \frac{3^2 \cdot 8^2}{7^2} \cdot \frac{55}{13} \Rightarrow$$

$$= BE = \frac{3 \cdot 8}{7} \cdot \sqrt{\frac{55}{13}} = \frac{3 \cdot 8}{7 \cdot 13} \cdot \sqrt{55 \cdot 13}$$

14. $\triangle BEJ \sim \triangle FAJ$ (по вертикальным и опирающимся на одну дугу углам)

$$\frac{AF}{BE} = \frac{AJ}{BJ}$$

ПИСЬМЕННАЯ РАБОТА

Задача №4 (продолжение):

$$\frac{AF \cdot 7 \cdot 13}{3 \cdot 8 \cdot \sqrt{55} \cdot 13} = \frac{69 \sqrt{13}}{49} \cdot \frac{49}{3 \sqrt{13} \cdot 26}$$

$$\frac{AF \cdot 7 \sqrt{13}}{4 \sqrt{55}} = \frac{3 \cdot 23}{13} \Rightarrow AF = \frac{3 \cdot 23 \cdot 4 \sqrt{55}}{13 \cdot 7 \sqrt{13}}$$

15. $\triangle AEF$:

$$S = \frac{1}{2} AF \cdot EF \cdot \sin \angle AFE = \frac{1}{2} \cdot \frac{3 \cdot 23 \cdot 4 \sqrt{55}}{13 \cdot 7 \sqrt{13}} \cdot 3 \sqrt{13} \cdot \frac{69}{91} =$$

$$= \frac{2 \cdot 69^2 \cdot 3 \sqrt{55}}{91^2} = \frac{69^2 \cdot 6 \sqrt{55}}{91^2} = \boxed{\frac{28566 \sqrt{55}}{8281}}$$

Ответ: $r_{\omega} = \frac{5 \sqrt{13}}{6}$; $R_{\Omega} = \frac{3 \sqrt{13}}{2}$; $S = \frac{28566 \sqrt{55}}{8281}$;

$\sin \angle AFE = \frac{69}{91}$, или $\angle AFE = \arcsin \frac{69}{91}$.

Задача №5.

Заметим, что $f(1-1) = f(1) + f(1) \Rightarrow f(1) = 0$

$f(2) = [2/4] = 0$; $f(3) = [3/4] = 0$; $f(4) = f(2) + f(2) = 0 + 0 = 0$

$f(5) = [5/4] = 1$; $f(6) = f(2) + f(3) = 0$; $f(7) = [7/4] = 1$; $f(8) =$

$= f(4) + f(2) = 0 + 0$; $f(9) = f(3) + f(3) = 0$; $f(10) = f(2) + f(8) = 1$;

$f(11) = [11/4] = 2$; $f(12) = f(4) + f(3) = 0$; $f(13) = [13/4] = 3$; $f(14) =$

$= f(7) + f(2) = 1$; $f(15) = f(3) + f(5) = 1$; $f(16) = f(8) + f(2) = 0$;

$f(17) = [17/4] = 4$; $f(18) = f(9) + f(9) = 0$; $f(19) = [19/4] = 4$; $f(20) =$

$= f(5) + f(4) = 1$; $f(21) = f(7) + f(3) = 1$; $f(22) = f(11) + f(2) = 2$;

Задача №5: (Прогнозируем):

$$f(23) = f(2 \cdot 11) = 5; \quad f(24) = f(4) + f(6) = 0; \quad f(25) = f(5) + f(5) = 2;$$

$$f(26) = f(13) + f(2) = 3; \quad f(27) = f(9) + f(3) = 0.$$

1) Рассмотрим $f(n)$, где $n \in \mathbb{N}$, $n = p_1 \cdot p_2 \cdot \dots \cdot p_k$

$$f(n) = f(p_1 \cdot p_2 \cdot p_3 \cdot \dots \cdot p_k) = f(p_1) + f(p_2 \cdot p_3 \cdot \dots \cdot p_k) =$$

$$= f(p_1) + f(p_2) + f(p_3 \cdot \dots \cdot p_k) = \dots = f(p_1) + f(p_2) + \dots + f(p_k) =$$

$$= \left[\frac{p_1}{4} \right] + \left[\frac{p_2}{4} \right] + \dots + \left[\frac{p_k}{4} \right].$$

2) Рассмотрим $f\left(\frac{1}{m}\right)$, где $m \in \mathbb{N}$

$$f\left(\frac{1}{m}\right) = f\left(\frac{m}{m^2}\right) = f(m) + f\left(\frac{1}{m}\right) + f\left(\frac{1}{m}\right) = 2f\left(\frac{1}{m}\right) + f(m) \Rightarrow$$

$$\Rightarrow f\left(\frac{1}{m}\right) = -f(m)$$

Тогда $f\left(\frac{n}{m}\right) = f(n) + f\left(\frac{1}{m}\right) = \underline{f(n) - f(m)} \quad (1)$

Тем же образом, для $n, m \in \mathbb{N}$ верно (1).

$$f\left(\frac{x}{y}\right) = f(x) - f(y), \text{ так как } x, y \in \mathbb{N}$$

$$f\left(\frac{x}{y}\right) < 0$$

$$f(x) - f(y) < 0$$

$$f(x) < f(y)$$

На промежутке $[3; 27] \cap \mathbb{N}$:

$f(n)$	n	кол-во n
0	3, 4, 6, 8, 9, 12, 16, 18, 24, 27	10
1	5, 7, 10, 14, 15, 20, 21,	7
2	11, 22, 25	3
3	13, 26	2
4	17, 19	2
5	23	1

ПИСЬМЕННАЯ РАБОТА

Задача № 5 (продолжение):

$$f(x) < f(y)$$

1) Если: $0 < 1$, $0 < 2$, $0 < 3$, $0 < 4$, $0 < 5$

2) Если: $1 < 2$, $1 < 3$, $1 < 4$, $1 < 5$

3) Если: $2 < 3$, $2 < 4$, $2 < 5$

4) Если: $3 < 4$, $3 < 5$

5) Если: $4 < 5$

Для 1): число пар $(x; y)$: $0 < 1 - 7 \cdot 0 = 10 \cdot 7$

$$0 < 2 - 7 \cdot 0 = 10 \cdot 3$$

$$0 < 3 - 7 \cdot 0 = 10 \cdot 2$$

$$0 < 4 - 7 \cdot 0 = 10 \cdot 2$$

$$0 < 5 - 7 \cdot 0 = 10 \cdot 1$$

$$\text{Итого 1)} 10 \cdot (7 + 3 + 2 + 2 + 1) = 10 \cdot 15 = 150$$

Для 2): $1 < 2: 7 \cdot 3$

$$1 < 3: 7 \cdot 2$$

$$1 < 4: 7 \cdot 2$$

$$1 < 5: 7 \cdot 1$$

$$\text{Итого 2)} 7 \cdot (3 + 2 + 2 + 1) = 7 \cdot 8 = 56$$

Для 3): $2 < 3: 3 \cdot 2$

$$2 < 4: 3 \cdot 2$$

$$2 < 5: 3 \cdot 1$$

$$\text{Итого 3)} 3 \cdot (2 + 2 + 1) = 3 \cdot 5 = 15$$

Для 4): $3 < 4: 2 \cdot 2$

$$3 < 5: 2 \cdot 1$$

$$\text{Итого 4)} 2 \cdot (2 + 1) = 6$$

Для 5): $4 < 5: 2 \cdot 1$

$$\text{Итого 5)} 2$$

Задача № 5 (продолжение):

Найти образы, общие числа пар $(x; y)$:

$$150 + 56 + 15 + 6 + 2 = 206 + 23 = 229$$

Ответ: 229.

Задача № 2:

$$\begin{cases} 3y - 2x = \sqrt{3xy - 2x - 3y + 2} \\ 3x^2 + 3y^2 - 6x - 4y = 4 \end{cases}$$

$$\begin{cases} 3y - 2x \geq 0 & (1) \end{cases}$$

$$\begin{cases} (3y - 2x)^2 = 3xy - 2x - 3y + 2 & (2) \end{cases}$$

$$\begin{cases} 3x^2 + 3y^2 - 6x - 4y = 4 & (3) \end{cases}$$

$$(2): 9y^2 - 12xy + 4x^2 = 3xy - 2x - 3y + 2$$

$$9y^2 + 4x^2 = 15xy - 2x - 3y + 2$$

$$4x^2 + 9y^2 + 2x + 3y - 15xy = 2$$

$$(3): 3x^2 - 6x + \underline{3} + 3y^2 - 4y + \underline{\frac{4}{3}} - \underline{3} - \underline{\frac{4}{3}} = 4$$

$$3(x-1)^2 + 3\left(y - \frac{2}{3}\right)^2 = \frac{25}{3}$$

$$(x-1)^2 + \left(y - \frac{2}{3}\right)^2 = \left(\frac{5}{3}\right)^2$$

$$(2): 4x^2 + 2x + \frac{1}{4} + 9y^2 + 3y + \frac{1}{4} - \frac{1}{4} - \frac{1}{4} = 2 + 15xy$$

$$4\left(x + \frac{1}{4}\right)^2 + 9\left(y + \frac{1}{6}\right)^2 = 2,5 + 15xy$$

Задача № 6

$$\frac{4x-3}{2x-2} \geq ax+b \geq 8x^2 - 34x + 30$$

$$\begin{cases} \frac{4x-3}{2x-2} \geq ax+b \end{cases}$$

$$\begin{cases} ax+b \geq 8x^2 - 34x + 30 \end{cases}$$

ПИСЬМЕННАЯ РАБОТА

Задача №6 (продолжение):

$$\begin{cases} 2 + \frac{1/2}{x-1} \geq ax+b & (1) \end{cases}, \text{ Пусть } 2 + \frac{1/2}{x-1} = f(x)$$

$$\begin{cases} ax+b \geq 8x^2-34x+30 & (2) \end{cases}$$

(2): Рассмотрим $g(x) = 8x^2 - 34x + 30$

$$x_0 = -\frac{b}{2a} = \frac{34}{16} = \frac{17}{8}$$

$$y_0 = 8 \cdot \frac{17^2}{8^2} - 34 \cdot \frac{17}{8} + 30 = \frac{17^2}{8} - 2 \cdot \frac{17^2}{8} + 30 = -\frac{17^2}{8} + 30$$

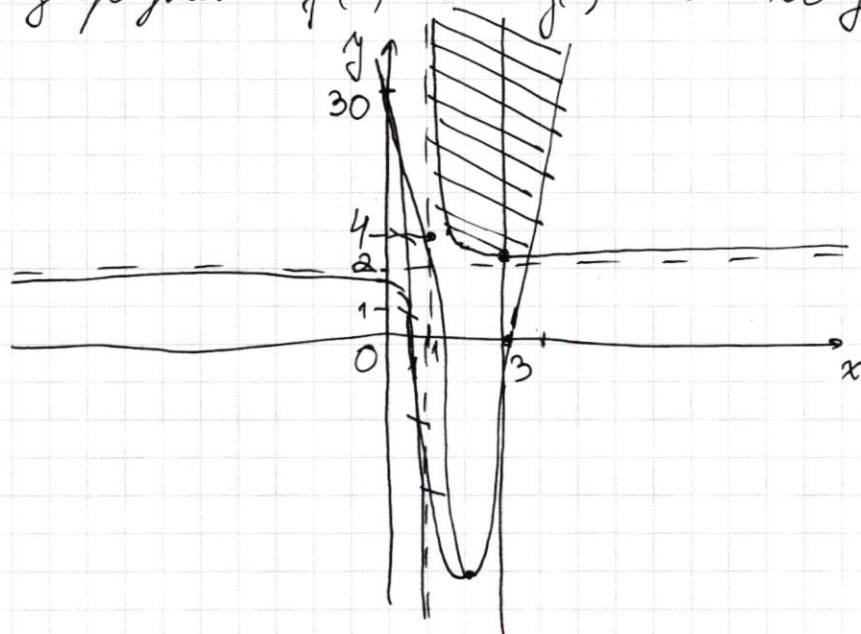
$$g(x) = 8\left(x - \frac{17}{8}\right)^2 - \frac{17^2}{8} + 30$$

$$-\frac{17^2}{8} + 30 = -\frac{17}{8} \cdot 17 + 30 = -17 \cdot \left(2 + \frac{1}{8}\right) + 30 = -4 + \frac{-17}{8} =$$

$$= -6\frac{1}{8}$$

$$g(x) = 8\left(x - 2\frac{1}{8}\right)^2 - 6\frac{1}{8}$$

Изобразим $f(x)$ и $g(x)$ в коу:



Задача №6 (продолжение)

$$g(3) = 8 \cdot \left(3 - 2\frac{1}{8}\right)^2 - 6\frac{1}{8} = 8 \cdot \frac{7^2}{8^2} - 6\frac{1}{8} = 7 \cdot \frac{7}{8} - 6\frac{1}{8} =$$

$$= 6\frac{1}{8} - 6\frac{1}{8} = 0$$

$$g(6) = 8 \cdot \left(0 - 2\frac{1}{8}\right)^2 - 6\frac{1}{8} = \frac{17^2}{8} - 6\frac{1}{8} = 17 \cdot \left(2 + \frac{1}{8}\right) - 6\frac{1}{8} =$$

$$= 34 + \frac{17}{8} - 6\frac{1}{8} = 34 - 6 + \frac{16}{8} = 30 - 6 = 30$$

$$g(1) = 8 \cdot \left(1 - 2\frac{1}{8}\right)^2 - 6\frac{1}{8} = 8 \cdot \left(\frac{-9}{8}\right)^2 - 6\frac{1}{8} = \frac{81}{8} - 6\frac{1}{8} =$$

$$= 10\frac{1}{8} - 6\frac{1}{8} = 4$$

$f(x)$ — шировия, $x=1$ и $y=2$ — асимптоты,

Тогда так как $g(1) = 4 > 2$, то пересечение с нижней ветвью шировия нет.

Тогда заштрихованная область — множество точек удовлетворяющих условию:

$$\begin{cases} y \leq f(x) \\ y \geq g(x) \end{cases}$$

$$, \text{ где } y = ax + b$$

$$f(3) = 2 + \frac{1/2}{3-1} = 2 + \frac{1}{4} = 2\frac{1}{4}$$

$y = ax + b$ должна на области $(1; 3]$ касаться линии в заштрихованной области.

Однако очевидно, что $y = ax + b$ всегда пересекает ось oy в точке $(0; b)$, но при этом $y = ax + b$ должно быть выше точки пересечения гиперболы и $x=3$, то есть $(3; 2\frac{1}{4})$. То есть

$$2\frac{1}{4} \leq 3a + b \Rightarrow a \geq \frac{3}{4} - \frac{b}{3}.$$

ПИСЬМЕННАЯ РАБОТА

Задача № 6 (продолжение):

Потом если точку $(0; b)$ разместить бесконечно
высоко, а точку с $x = 3$ выше, чем $2\frac{1}{4}$, то
колесо $y = ax + b$ будет летать в нужной
области.

$$b \rightarrow +\infty$$

$$a \geq \frac{3}{4} - \frac{b}{3}$$

Это есть $b = t$, $a \geq \frac{3}{4} - \frac{t}{3}$, при $t \rightarrow \infty$

Ответ: $a \geq \frac{3}{4} - \frac{t}{3}$, где $t \rightarrow +\infty$
 $b = t$

№ 3.

$$3^{\log_4(x^2+6x)} + 6x \geq |x^2+6x|^{\log_4 5} - x^2$$

Пусть $x^2+6x = t$

$$3^{\log_4 t} + t \geq |t|^{\log_4 5}$$

$$t^{\log_4 3} + t \geq t^{\log_4 5}$$

$$t^{\log_4 3} - t^{\log_4 5} \geq -t$$

$$3^{\log_4 t} - 5^{\log_4 t} \geq -4^{\log_4 t}, \text{ Пусть } \log_4 t = k$$

$$3^k - 5^k \geq -4^k$$

$$3^k + 4^k \geq 5^k$$

⊙ ⊙ 3: $x^2+6x > 0$
или $t > 0$

Предметные задачи 3.

По теореме Пифагора не трудно заметить, что равенство выполняется при $k=2$, а при $k \geq 2$ имеет $k \geq 2$ значение. Кроме того, так как $3^k + 4^k$ возрастает быстрее 5^k .

$$\log_4 t \geq 2$$


$$t \geq 4^2$$

$$t \geq 16, \text{ на } \mathbb{O} \mathbb{D} \mathbb{Z} \text{ } t \geq 0 \text{ - верно.}$$

$$x^2 + 6x \geq 16$$

$$x^2 + 6x - 16 \geq 0$$

$$(x + 8)(x - 2) \geq 0$$



Ответ: $(-\infty; -8] \cup [2; +\infty)$.

ПИСЬМЕННАЯ РАБОТА

Задача № 1.

$$\sin(2\alpha + 2\beta) = -\frac{1}{\sqrt{17}}$$

$$\sin(2\alpha + 4\beta) + \sin 2\alpha = -\frac{8}{17}$$

$$\sin(2\alpha + 2\beta + 2\beta) + \sin 2\alpha = -\frac{8}{17}$$

$$\sin(2\alpha + 2\beta) \cdot \cos 2\beta + \sin 2\beta \cdot \cos(2\alpha + 2\beta) + \sin 2\alpha = -\frac{8}{17}$$

$$-\frac{1}{\sqrt{17}} \cdot \cos 2\beta + \sin 2\beta \cdot \pm \sqrt{1 - \frac{1}{17}} + \sin 2\alpha = -\frac{8}{17}$$

$$-\cos 2\beta \pm 4 \sin 2\beta + \sin 2\alpha = -\frac{8\sqrt{17}}{17}$$

$$70 + 21 = 91$$

$$\begin{array}{r} 207 \overline{) 17} \\ -18 \quad \overline{) 169} \\ \hline 22 \end{array}$$

1) $BC = 9$

2) $\triangle DO_1B \sim \triangle CAB$: уг-

$$\frac{CA}{DO_1} = \frac{9}{13/2} = \frac{18}{13} \quad \begin{array}{r} -23 \\ \hline 26 \end{array}$$

$$CA = \frac{18}{13} r$$

$$\frac{18}{13} = \frac{AB}{BO_1} \Rightarrow AE$$

$$\frac{18}{13} = \frac{AB}{AB - r} \Rightarrow rAB = 18AD - 18r$$

$$rAB = 18r$$

$$13 = \frac{18}{5} r$$

$$9^2 + \left(\frac{18}{13} r\right)^2 = \frac{16}{5} r$$


$$\frac{EK}{BK} = \frac{KH}{EK}$$

$$EK^2 = KH \cdot BK = KH \cdot \left(\frac{13}{2} - KH\right)$$

$$EK^2 = EK^2 + KH^2 = KH \cdot \left(\frac{13}{2} - KH\right) + KH^2$$

$$(70-1)^2 = 70^2 - 140 + 1 = 4900 - 140 + 1 = 4761$$

$$(90+1)^2 = 8100 + 180 + 1 = 8281$$



$$f(ab) = f(a) + f(b)$$

$$1 = y + 1 \Rightarrow x=0$$

$$f(5) = f(1) + f(5) =$$

$$f(0) = f(0) + f(0)$$

$$f(0) = 2f(0)$$

$$f(0) = 0$$

$$f\left(\frac{x}{y}\right) = f(x) + f\left(\frac{1}{y}\right)$$

$$f(7) = 0$$

$$f(5) = 1$$

$$f(7) = 1$$

$$f(11) = 2$$

$$f(12) = 3$$

$$f(17) = 4$$

$$f(19) = 4$$

$$f(23) = 5$$

~~f~~

$$f\left(\frac{1}{m}\right) = f\left(\frac{m^2}{m^2}\right) = f(m) + f\left(\frac{1}{m^2}\right)$$

$$= f(m) + 2f\left(\frac{1}{m}\right)$$

$$f\left(\frac{1}{m}\right) = -f(m)$$

$$f(15) = f(3) + f(5) = 1$$

$$f(21) = 1$$

$$f(1) = 0$$

$$f(2) = 0$$

$b \rightarrow +\infty$

$$8 \left(x - \frac{17}{8}\right)^2 - 6\frac{1}{8} =$$

$$= 2 + \frac{1}{2^{x-2}}$$

$$a^3 + b \geq 2\frac{1}{4}$$

$$3a \geq 2\frac{1}{4} - b$$

$$a \geq \frac{3}{4} - \frac{b}{3}$$

$$3 < y \leq 22$$

$$\frac{1}{22} \leq \frac{1}{y} \leq \frac{1}{3}$$

~~$$\frac{1}{22} \leq \frac{1}{y} \leq \frac{1}{3}$$~~

$$f\left(\frac{1}{20}\right) = f\left(\frac{1}{5}\right) + f\left(\frac{1}{4}\right)$$

$$f\left(\frac{1}{20}\right) = 2f\left(\frac{1}{5}\right)$$

$$f\left(\frac{1}{5}\right) = f\left(\frac{1}{25}\right) + f\left(\frac{1}{25}\right)$$

~~$$\frac{2}{2} f\left(\frac{1}{25}\right) = f + \frac{1}{(25)}$$~~

$$f\left(\frac{1}{25}\right) = -2$$

$$y = ax + b$$

$$y > ax + b \Rightarrow$$

$$\cos 2\alpha = \cos^2 \alpha - \sin^2 \alpha$$

~~$$f\left(\frac{3}{4} - \frac{1}{5}i\right) \rightarrow \rightarrow$$~~

ПИСЬМЕННАЯ РАБОТА

$$\sin(\alpha + 2\beta) = \sin 2\alpha \cdot \cos 2\beta + \cos 2\alpha \sin 2\beta = -\frac{1}{\sqrt{17}}$$

$$\sin(2\alpha + 4\beta) = \sin 2\alpha \cos 4\beta + \cos 2\alpha \sin 4\beta + \sin 2\alpha =$$

$$= \sin 2\alpha (\cos^2 2\beta - \sin^2 2\beta) + \cos 2\alpha \cdot 2 \sin 2\beta \cdot \cos 2\beta + \sin 2\alpha$$

$$\sin 2\alpha = t \Rightarrow \cos^2 2\alpha + \sin^2 2\alpha = 1 \Rightarrow \cos 2\alpha = \pm \sqrt{1-t^2}$$

$$\sin 2\beta = p \Rightarrow \cos 2\beta = \pm \sqrt{1-p^2}$$

$$t \cdot \sqrt{1-p^2} + \sqrt{1-t^2} \cdot p = -\frac{1}{\sqrt{17}}$$

$$t(1-p^2 - p^2) \pm 2t \cdot p \sqrt{1-p^2} + t = -\frac{8}{17}$$

$$\sqrt{t^2 - (tp)^2} + \sqrt{p^2 - (tp)^2} = -\frac{1}{\sqrt{17}}$$

$$t - 2tp^2 \pm 2tp \sqrt{1-p^2} + t = -\frac{8}{17} \quad | : t$$


$$t - tp^2 \pm tp \sqrt{1-p^2} = -\frac{4}{17} \quad | : t$$

$$1-p^2 \pm p \sqrt{1-p^2} = -\frac{4}{17t}$$

$$3x^2 - 6x + 3 + 3y^2 - 4y + \frac{4}{3} - 3 - \frac{4}{3} = 4$$

$$3(x^2 - 2x + 1) + 3(y^2 - 2 \cdot y \cdot \frac{2}{3} + \frac{4}{9}) = 7 + \frac{4}{3} = \frac{25}{3}$$

$$(x-1)^2 + (y - \frac{2}{3})^2 = (\frac{5}{3})^2$$



$$4x^2 + 9y^2 + 2x + 3y - 15xy = 2$$

$$4x^2 + 2x + \frac{1}{4} + 9y^2 + 3y + \frac{1}{9} = 2 + 15xy$$

$$4\left(x^2 + 2 \cdot x \cdot \frac{1}{4} + \frac{1}{16}\right) + 9\left(y^2 + 2 \cdot y \cdot \frac{1}{6} + \frac{1}{36}\right) = 2,5 + 15xy$$

$$4\left(x + \frac{1}{4}\right)^2 + 9\left(y + \frac{1}{6}\right)^2 = 2,5 + 15xy$$

$$4\left(x + \frac{1}{4}\right)^2 + 9\left(y + \frac{1}{6}\right)^2 = 2,5 + 15xy$$

$$\frac{4x-3}{2x-2} \geq ax+b$$

$$4x-3 \geq (2x-2)(ax+b)$$

$$\begin{array}{r} 4x-3 \quad | \quad 2x-2 \\ \underline{2x-2} \quad | \quad 2 \\ \hline 1 \end{array}$$

$$2 + \frac{1}{x-1}$$

$$\log_4 b = k$$

$$b = 4^k$$

$$\frac{17}{8} = 2 + \frac{1}{8} \cdot 17 =$$

$$= 31 - 20$$

$$8x^2 - 34x + 20 = 8x^2 - 34x + 30 =$$

$$= 8\left(x^2 - \frac{17}{4}x + \frac{15}{4}\right) = 8\left(x^2 - \frac{17}{4}x + \frac{15}{4}\right)$$

$$-\frac{b}{2a} = \frac{34}{16} = \frac{17}{8} = 2 + \frac{1}{8}$$

$$y_0 = 17^2 \cdot 8 = 34 \cdot \frac{17}{8} + 20 = 17^2 \left(8 - \frac{1}{4}\right) + 20 =$$

$$= 17^2 \cdot \frac{31}{4} + 20$$