

МОСКОВСКИЙ ФИЗИКО-ТЕХНИЧЕСКИЙ ИНСТИТУТ
ОЛИМПИАДА "ФИЗТЕХ" ПО МАТЕМАТИКЕ

11 класс

ВАРИАНТ 2

ШИФР _____

Заполняется ответственным секретарём

1. [3 балла] Углы α и β удовлетворяют равенствам

$$\sin(2\alpha + 2\beta) = -\frac{1}{\sqrt{5}}; \quad \sin(2\alpha + 4\beta) + \sin 2\alpha = -\frac{2}{5}.$$

Найдите все возможные значения $\operatorname{tg} \alpha$, если известно, что он определён и что этих значений не меньше трёх.

2. [4 балла] Решите систему уравнений

$$\begin{cases} x - 12y = \sqrt{2xy - 12y - x + 6}, \\ x^2 + 36y^2 - 12x - 36y = 45. \end{cases}$$

3. [5 баллов] Решите неравенство

$$10x + |x^2 - 10x|^{\log_3 4} \geq x^2 + 5^{\log_3(10x - x^2)}.$$

4. [5 баллов] Окружности Ω и ω касаются в точке A внутренним образом. Отрезок AB – диаметр большей окружности Ω , а хорда BC окружности Ω касается ω в точке D . Луч AD повторно пересекает Ω в точке E . Прямая, проходящая через точку E перпендикулярно BC , повторно пересекает Ω в точке F . Найдите радиусы окружностей, угол AFE и площадь треугольника AEF , если известно, что $CD = \frac{15}{2}$, $BD = \frac{17}{2}$.
5. [5 баллов] Функция f определена на множестве положительных рациональных чисел. Известно, что для любых чисел a и b из этого множества выполнено равенство $f(ab) = f(a) + f(b)$, и при этом $f(p) = [p/4]$ для любого простого числа p ($[x]$ обозначает наибольшее целое число, не превосходящее x). Найдите количество пар натуральных чисел $(x; y)$ таких, что $2 \leq x \leq 25$, $2 \leq y \leq 25$ и $f(x/y) < 0$.

6. [5 баллов] Найдите все пары чисел $(a; b)$ такие, что неравенство

$$\frac{16x - 16}{4x - 5} \leq ax + b \leq -32x^2 + 36x - 3$$

выполнено для всех x на промежутке $[\frac{1}{4}; 1]$.

7. [6 баллов] Дана пирамида $KLMN$, вершина N которой лежит на одной сфере с серединами всех её рёбер, кроме ребра KN . Известно, что $KL = 3$, $KM = 1$, $MN = \sqrt{2}$. Найдите длину ребра LM . Какой наименьший радиус может иметь сфера, описанная около данной пирамиды?

ПИСЬМЕННАЯ РАБОТА

$$\sim 1. \textcircled{1} \begin{cases} \sin(2\alpha + 2\beta) = -\frac{1}{\sqrt{5}} \\ \sin(2\alpha + 4\beta) + \sin 2\alpha = -\frac{2}{5} \end{cases}$$

$$1) \sin(2\alpha + 2\beta) = -\frac{1}{\sqrt{5}} \Rightarrow \begin{cases} 2\alpha + 2\beta = -\arcsin \frac{1}{\sqrt{5}} + 2\pi k, & k, n \in \mathbb{Z} \\ 2\alpha + 2\beta = \pi + \arcsin \frac{1}{\sqrt{5}} + 2\pi n. \end{cases}$$

2.1) Если $2\alpha + 2\beta = -\arcsin \frac{1}{\sqrt{5}} + 2\pi k, k \in \mathbb{Z}$, то

$$2\beta = -2\alpha - \arcsin \frac{1}{\sqrt{5}} + 2\pi k \quad | : 2$$

$$4\beta = -4\alpha - 2\arcsin \frac{1}{\sqrt{5}} + 4\pi k, \text{ и тогда 2-е уравнение}$$

системы $\textcircled{1}$ имеет вид:

$$\sin(2\alpha - 4\alpha - 2\arcsin \frac{1}{\sqrt{5}} + 4\pi k) + \sin 2\alpha = -\frac{2}{5}$$

$$\sin(-2\alpha - 2\arcsin \frac{1}{\sqrt{5}} + 4\pi k) + \sin 2\alpha = -\frac{2}{5}$$

Т.к. период $f(x) = \sin x$ $T = 2\pi$, то $4\pi k$ на знаменителе не повышает:

$$-\sin(2\alpha + 2\arcsin \frac{1}{\sqrt{5}}) + \sin 2\alpha = -\frac{2}{5}$$

$$-(\sin 2\alpha \cdot \frac{3}{5} + \cos 2\alpha \cdot \frac{4}{5}) + \sin 2\alpha = -\frac{2}{5} \quad (\text{формула синуса})$$

$$-3\sin 2\alpha - 4\cos 2\alpha + 5\sin 2\alpha = -2$$

$$2\sin 2\alpha - 4\cos 2\alpha = -2$$

$$\sin 2\alpha = 2\cos 2\alpha - 1$$

$$2\sin \alpha \cos \alpha = 2\cos^2 \alpha - 2\sin^2 \alpha - \cos^2 \alpha - \sin^2 \alpha \quad (\text{основ. триг. тожд.})$$

$$3\sin^2 \alpha + 2\sin \alpha \cos \alpha - \cos^2 \alpha = 0$$

Т.к. $\operatorname{tg} \alpha$ определен, то $\cos \alpha \neq 0$. Поделит на $\cos^2 \alpha$ обе части:

$$3\left(\frac{\sin \alpha}{\cos \alpha}\right)^2 + 2\frac{\sin \alpha}{\cos \alpha} - 1 = 0$$

$$3\operatorname{tg}^2 \alpha + 2\operatorname{tg} \alpha - 1 = 0 \quad \text{Пусть } \operatorname{tg} \alpha = t. \text{ Тогда } 3t^2 + 2t - 1 = 0$$

$$(t+1)(3t-1) = 0 \Rightarrow \begin{cases} t = -1 \\ t = \frac{1}{3} \end{cases} \Rightarrow \begin{cases} \operatorname{tg} \alpha = -1 \\ \operatorname{tg} \alpha = \frac{1}{3} \end{cases}$$

$$\begin{aligned} \sin(2\arcsin \frac{1}{\sqrt{5}}) &= \\ &= 2\sin(\arcsin \frac{1}{\sqrt{5}})\cos(\arcsin \frac{1}{\sqrt{5}}) \\ &= 2 \cdot \frac{1}{\sqrt{5}} \cdot \cos(\arccos \frac{2}{5}) = \\ &= \frac{4}{5} \\ \cos(2\arcsin \frac{1}{\sqrt{5}}) &= \\ &= 1 - 2\sin^2(\arcsin \frac{1}{\sqrt{5}}) = \frac{3}{5} \end{aligned}$$

2.2) Если $2\alpha + 2\beta = \pi + \arcsin \frac{1}{\sqrt{5}} + 2\pi n, n \in \mathbb{Z}$, то

$$2\beta = -2\alpha + \pi + \arcsin \frac{1}{\sqrt{5}} + 2\pi n \quad | \cdot 2$$

$4\beta = -4\alpha + 2\pi + 2\arcsin \frac{1}{\sqrt{5}} + 4\pi n$, и 2-е уравнение системы имеет вид:

$$\sin(2\alpha - 4\alpha + 2\pi + 2\arcsin \frac{1}{\sqrt{5}} + 4\pi n) + \sin 2\alpha = -\frac{2}{5}$$

Аналогично п. 2.1, можем избавиться от $2\pi + 4\pi n$.

$$\sin(2\arcsin \frac{1}{\sqrt{5}} - 2\alpha) + \sin 2\alpha = -\frac{2}{5}$$

$$\frac{4}{5} \cos 2\alpha - \frac{3}{5} \sin 2\alpha + \sin 2\alpha = -\frac{2}{5} \quad | \cdot 5 \quad (\text{формула синуса разн.})$$

$$4 \cos 2\alpha + 2 \sin 2\alpha = -2$$

$$2 \cos 2\alpha + \sin 2\alpha + 1 = 0$$

$$2 \cos^2 \alpha - 2 \sin^2 \alpha + 2 \sin \alpha \cos \alpha + \sin^2 \alpha + \cos^2 \alpha = 0$$

$$-\sin^2 \alpha + 2 \sin \alpha \cos \alpha + 3 \cos^2 \alpha = 0$$

Аналогично п. 2.1, разделим на $\cos^2 \alpha \neq 0$

$$-\left(\frac{\sin \alpha}{\cos \alpha}\right)^2 + 2 \frac{\sin \alpha}{\cos \alpha} + 3 = 0$$

Пусть $\operatorname{tg} \alpha = t$, тогда $-t^2 + 2t + 3 = 0$

$$t^2 - 2t - 3 = 0$$

$$(t+1)(t-3) = 0 \Rightarrow \begin{cases} \operatorname{tg} \alpha = -1 \\ \operatorname{tg} \alpha = 3 \end{cases}$$

Ответ: $-1; \frac{1}{3}; 3$.

$$n2. \begin{cases} x - 12y = \sqrt{(x-6)(2y-1)} \\ x^2 - 12x + 36y^2 - 36y = 45 \end{cases}$$

$$x^2 - 12x + 36y^2 - 36y = 45$$

$$x^2 - 12x + 36 + 36y^2 - 36y + 9 = 45 + 36 + 9$$

$$(x-6)^2 + 9(2y-1)^2 = 90$$

Пусть $\sqrt{x-6} = a; \sqrt{2y-1} = b, a, b \geq 0$. Тогда система имеет вид:

$$\begin{cases} a^2 - 6b^2 = ab \\ a^4 + 9b^4 = 90 \end{cases}$$

$$a^2 - 6b^2 - ab = 0$$

Пусть $b = 0$. Тогда система имеет вид $\begin{cases} a^2 = 0 \\ a^4 = 90 \end{cases}$.

Такая система не имеет корней ($0 \neq 90$) $\Rightarrow b \neq 0$.
Значит можно делить на $b^2 \neq 0$.

$$\left(\frac{a}{b}\right)^2 - \frac{a}{b} - 6 = 0$$

ПИСЬМЕННАЯ РАБОТА

Пусть $\frac{a}{b} = t$. Тогда $t^2 - t - 6 = 0$
 $(t-3)(t+2) = 0 \Rightarrow \begin{cases} t=3 \\ t=-2 \end{cases}$

1) Если $\frac{a}{b} = 3$, то $a = 3b$. Подставив во 2-е ур-е системы ~~получаем:~~

$$\begin{cases} 81b^4 + 9b^4 = 90 \\ b^4 = 1 \Rightarrow b = \pm 1 \end{cases} \Rightarrow \begin{cases} a = 3 \\ b = 1 \\ a = -3 \\ b = -1 \end{cases} \text{ — не год., т.к. } a, b \geq 0.$$

$$\begin{cases} a = 3 \\ b = 1 \end{cases} \Rightarrow \begin{cases} \sqrt{x-b} = 3 \\ \sqrt{y-1} = 1 \end{cases} \Rightarrow \begin{cases} x-b = 9 \\ y-1 = 1 \end{cases} \Rightarrow \begin{cases} x = 15 \\ y = 1 \end{cases}$$

2) Если $\frac{a}{b} = -2$, то $a = -2b$, значит, a и b разных знаков, но по условию a и $b \geq 0$, т.е. ситуация $a = -2b$ невозможна (стоит отметить, что $\begin{cases} a=0 \\ b=0 \end{cases}$ быть не может, т.к. $b \neq 0$).

Если все мы будем рассуждать записку $\begin{cases} \sqrt{b-x} = a \\ \sqrt{y-1} = b \end{cases}$, то первое ур-е

Пусть $x-b = a$, $y-1 = b$. Тогда система будет иметь вид:

$$\begin{cases} a - b = \sqrt{ab} \\ a^2 + 9b^2 = 90 \end{cases}$$

Рассм. первое ур-е получившейся системы:
 $a - \sqrt{ab} - b = 0$

Если $b = 0$, то даются выполняться условия $\begin{cases} a = 0 \\ a^2 = 90 \end{cases}$, что невозможно ($0 \neq 90$), т.е. $b \neq 0$.

$$a - \sqrt{ab} - b = 0 \quad | : b$$

$$\frac{a}{b} - \sqrt{\frac{ab}{b}} - 1 = 0$$

Заметим, что $ab \geq 0$, т.е. a и b одинак. знаков.

1) Пусть $b > 0 \Rightarrow a \geq 0$: $\frac{a}{b} - \frac{\sqrt{a}}{\sqrt{b}} - b = 0$

Если $t = \sqrt{\frac{a}{b}}$, то $t^2 - t - b = 0$
 $t \geq 0$

$t = 3 \Rightarrow \frac{a}{b} = 9, a = 9b$

$(t-3)(t+b) = 0 \Rightarrow \begin{cases} t=3 \\ t=-2 \text{ — не ур. } t \geq 0 \end{cases}$

Подставим это значение a во второе ур-е:

$8b^2 + 9b^2 = 90$

$b^2 = 1 \Rightarrow \begin{cases} b=1 \\ b=-1 \text{ — не ур. ур. } b > 0 \end{cases}$

$b=1 \Rightarrow a=9 \Rightarrow \begin{cases} x-b=9 \\ 2y-1=1 \end{cases} \Rightarrow \begin{cases} x=15 \\ y=1 \end{cases}$

2) Пусть $b < 0 \Rightarrow a \leq 0$: $\frac{a}{b} + \frac{\sqrt{a(-b)}}{(-b)} - b = 0$

$\frac{a}{b} + \sqrt{\frac{-a}{-b}} - b = 0$

Если $t = \sqrt{\frac{-a}{-b}}$, то $-t^2 + t - b = 0$
 $t \geq 0$

$t^2 - t + b = 0$
 $(t+3)(t-3)(t-2) = 0 \Rightarrow \begin{cases} t=3 \\ t=-2 \end{cases}$

$D = 1 - 4 \cdot b < 0 \Rightarrow$ решений нет.

Ответ: (15; 1)

3. $10x + |x^2 - 10x| \log_3 4 \geq x^2 + 5 \log_3(10x - x^2)$

1) Поскольку $(10x - x^2) > 0$ (из-за логарифма), то $|x^2 - 10x| = 10x - x^2$

$10x + (10x - x^2) \log_3 4 \geq x^2 + 5 \log_3(10x - x^2)$

2) $(10x - x^2) \log_3 4 = 4 \log_3(10x - x^2)$

$10x - x^2 = (10x - x^2) \log_3 3 = 3 \log_3(10x - x^2)$

Пусть $\log_3(10x - x^2) = t$. Тогда $3^t + 4^t \geq 5^t$

$3^t + 4^t \geq 5^t \mid : 5^t > 0$ (показ. ф-е)

$\left(\frac{3}{5}\right)^t + \left(\frac{4}{5}\right)^t \geq 1$

Заметим, что $f(t) = \left(\frac{3}{5}\right)^t$ и $g(t) = \left(\frac{4}{5}\right)^t$ — убывающие ф-ии, т.к.

$\frac{3}{5} < 1$ и $\frac{4}{5} < 1$, ф-ии показательные. Значит $h(t) = f(t) + g(t)$

тоже убывает как сумма убывающих ф-ий.

Значит, $h(t) \geq 1$ верно до тех пор, пока в нечетраб точке ур-е ф-ии $h(t)$ находятя выше константы $y = 1$.

ПИСЬМЕННАЯ РАБОТА

Заметим, что при $t_0 = 2$ $h(t_0) = 1$, т.е. неравенство верно при $t \leq 2$ (или меньшие t , или большие $h(t)$)

Изначальное неравенство равносильно неравенству $t \leq 2$.

$$\log_3(10x - x^2) \leq 2 = \log_3 9$$

$$\textcircled{1} 10x - x^2 > 0$$

$$\textcircled{2} (3-x)(10x - x^2 - 9) \leq 0$$


$$\textcircled{1}: x^2 - 10x < 0$$

Рассм. $f_1(x) = x^2 - 10x$:

$$D(f_1) = \mathbb{R}$$

$$f_1(x) = 0 \text{ при } x = 0; x = 10$$

$f_1(x)$ непрерывна на $D(f_1)$:



$$x \in (0; 10)$$

$$\textcircled{2} x^2 - 10x + 9 \geq 0$$

$$(x-9)(x-1) \geq 0$$

Рассм. $f_2(x) = (x-9)(x-1)$:


$$D(f_2) = \mathbb{R}$$

$$f_2(x) = 0 \text{ при } x = 1; x = 9$$

$f_2(x)$ непрерывна на $D(f_2)$:

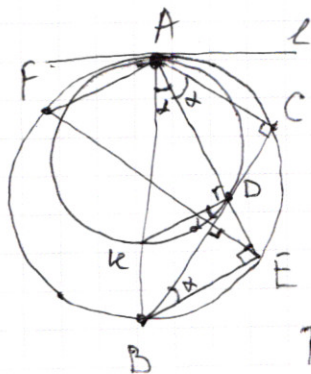


$$x \in (-\infty; 1] \cup [9; +\infty)$$



Ответ: $x \in (0; 1] \cup [9; 10)$.

~ 4.



Дано: $BD = \frac{17}{2}$; $CD = \frac{15}{2}$

Найти: r — радиус ω

R — радиус Ω

$\angle AFE$

S_{AEF}

Решение:

1) Пусть $AB \cap \omega$ в т. А и К и

пусть $\angle KAD = \alpha$

Тогда $\angle KDB = \angle KAD = \alpha$ по теор. об углах между касат. и хордой

Поскольку AB — диаметр Ω , то AB содержит центр O , а также радиус OA , перпенд. — от любой касательной к A — осн. перп. Но вместе с тем радиус OA — центра ω перп. l и проходит в т. $A \Rightarrow$

$$\begin{array}{l} OA \perp l \\ OA \perp l \\ OA \cap OA = A \end{array} \Rightarrow A, O, O_2 \in AB$$

(прямая — одна из прямых)

Тогда $AK \cap O_2 \Rightarrow AK$ — диаметр.

Т.к. $KD \perp AD$ ($\angle ADK$ опирается на диаметр AK), а также $BE \perp AE$ (аналогично для $\angle AEB$), то

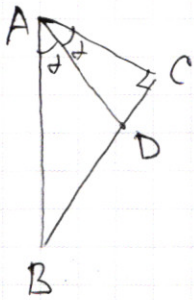
$$\begin{array}{l} KD \perp AD \\ BE \perp AE \end{array} \Rightarrow KD \parallel BE \text{ (перп. к одной прямой)} \Rightarrow$$

$\Rightarrow \angle KDB = \angle DBE = \alpha$ (накр. лежащие углы при паралл. пр.)

Однако $\angle CBE$ опирается на дугу CE окруж. Ω , на которую опирается $\angle CAE \Rightarrow \angle CAE = \angle CBE = \alpha$ (по теор. впис. угла)

$\Rightarrow \angle CBE = \angle CAE = \angle EAB \Rightarrow AE$ — биссектриса.

2) Рассмотрим $\triangle ABC$: $BC = BD + DC = 16$, $\angle C = 90^\circ$ ($\angle ACB$ опир. на диаметр AB)



По св-ву биссектрисы: $\frac{BD}{DC} = \frac{AB}{AC}$

$$\frac{AB}{AC} = \frac{17}{15}$$

Пусть $AB = 17x$, тогда $AC = 15x$.

По т. Пиф.: $AB^2 = AC^2 + BC^2$

$$289x^2 = 225x^2 + 256$$

$$64x^2 = 256$$

$$x^2 = 4 \Rightarrow x = 2 \quad (x > 0)$$

$$AB = 34$$

$$AC = 30$$

Поскольку AB — диаметр, то $R = \frac{AB}{2} = 17$.

3) По теореме о кас. и секущей дуги ω : $BD^2 = BK \cdot BA$

$$BK = AB - AK = 34 - 2r$$

$$\frac{289}{4} = (34 - 2r) \cdot 34 \quad | : 34$$

$$\frac{17}{8} = 34 - 2r \quad | \cdot 8$$

$$17 = 272 - 16r$$

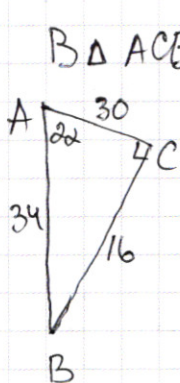
$$16r = 255$$

$$r = \frac{255}{16}$$

ПИСЬМЕННАЯ РАБОТА

4) $\angle AFE$ опирается на дугу AE окруж. Ω , на которую опирается $\angle ABE \Rightarrow \angle AFE = \angle ABE$ (по т. о впис. углов)

Т.к. $\triangle ABE$ прямоугол. с прямым углом E (дан-но в н. 1), то $\angle ABE + \angle BAE = 90^\circ \Rightarrow \angle ABE = \frac{\pi}{2} - \alpha$



$\triangle ABC$: $\sin A = \frac{16}{34} = \frac{8}{17} = \sin 2\alpha$

$\cos A = \frac{30}{34} = \frac{15}{17} = \cos 2\alpha$

$\sin 2\alpha = 2 \sin \alpha \cos \alpha = \frac{8}{17}$

$\sin \alpha \cos \alpha = \frac{4}{17}$

$\cos 2\alpha = 2 \cos^2 \alpha - 1 = \frac{15}{17}$

$\cos^2 \alpha = \frac{16}{17} \Rightarrow$

$\Rightarrow \cos \alpha = \pm \frac{4}{\sqrt{17}}$, но 2α — это

остр. угол впрямоугл. $\triangle \Rightarrow$

$\Rightarrow 2\alpha < \frac{\pi}{2} \Rightarrow \alpha < \frac{\pi}{4} \Rightarrow$

$\Rightarrow \alpha$ — остр. угол $\Rightarrow \cos \alpha = \frac{4}{\sqrt{17}}$

Покажем $\angle ABE$ и α — острые углы впрямоугл. $\triangle \Rightarrow$

$\Rightarrow \sin(\angle ABE) = \frac{AE}{AB} = \cos \alpha = \frac{4}{\sqrt{17}} \Rightarrow \angle ABE = \angle AFE = \arccos \frac{4}{\sqrt{17}}$

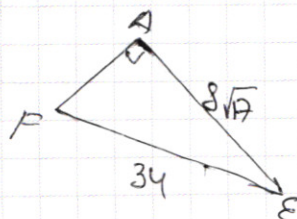
5) $\angle BAE = \angle CAE \Rightarrow BE = CE$ (середот, стягивающие равные углы)
 $\Rightarrow \triangle CBE$ — равнобедр. \triangle $\triangle CBE$: $EF \cap BC = M$, проведем $EM \perp BC$

$\Rightarrow EM \perp BC$, EM — бисс., мед., высота (в равноб. \triangle , впрямоугл. \triangle и основ.).

Однако если мы опустим радиус OM на хорду BC , то он будет ей перп-тен и продолжит перпендикуляр (по т. о радиуса, перп-но к хорде), т.е. $OM \perp BC \Rightarrow O, M, E$ — одной прямой

но этой же прямой принадлежит точка $F \Rightarrow EF \cap O \Rightarrow EF$ — диаметр, $EF = AB = 34$.

Из н. 4 $\cos \alpha = \frac{4}{\sqrt{17}} = \frac{AE}{AB} \Rightarrow AE = \frac{34 \cdot 4}{\sqrt{17}} = 8\sqrt{17}$.



по т. синусов для $\triangle AFE$:

$\angle FAE$ опр. на диаметр $FE \Rightarrow \angle FAE = 90^\circ$

В $\triangle FAE$: $\angle A = 90^\circ$, $\sin E = \cos E = \frac{4\sqrt{17}}{34\sqrt{17}} = \frac{4}{\sqrt{17}} \Rightarrow$
 $\Rightarrow \sin E = \sqrt{1 - \frac{16}{17}} = \frac{1}{\sqrt{17}}$ (осн. триг. тожд.)

$S_{FAE} = \frac{1}{2} \cdot \sin E \cdot AE \cdot FE = \frac{4\sqrt{17} \cdot 34}{2\sqrt{17}} = 136$

Ответ: $R = 34$, $r = \frac{285}{16}$, $\angle AFE = \arcsin \frac{4}{\sqrt{17}}$, $S_{FAE} = 136$.

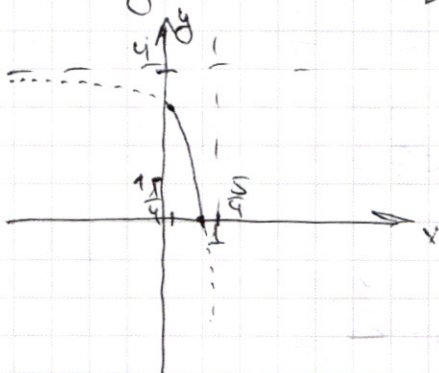
нб. $4 + \frac{1}{x - \frac{5}{4}} \leq ax + b \leq -32x^2 + 36x - 3$ $a, b - ?$ верно при всех $x \in [\frac{1}{4}; 1]$.

Рассмотрим части неравенства:

1) $y_1 = 4 + \frac{1}{x - \frac{5}{4}}$ — гипербола, смещенная на $\frac{5}{4}$ вправо по оси Ox и на 4 вправо по оси Oy .

На промежутке $x \in (-\infty; \frac{5}{4})$ содержится одна ветвь гиперболы, убывающая и стремящаяся к $-\infty$ при $x \rightarrow \frac{5}{4}$.

Значит на $[\frac{1}{4}; 1]$ гр-к гиперболы имеет вид:



$y(\frac{1}{4}) = 3$ На $[\frac{1}{4}; 1]$ $y = 4 + \frac{1}{x - \frac{5}{4}}$
 $y(1) = 0$ монотонна и непрерывна.

2) $y_2 = ax + b$ — прямая с угл. коэф $k = a$ и ~~точкой~~ ^{свобод. член = b} ~~через~~ $(0; b)$.

$y(\frac{1}{4}) = \frac{a}{4} + b$, $y(1) = a + b$.

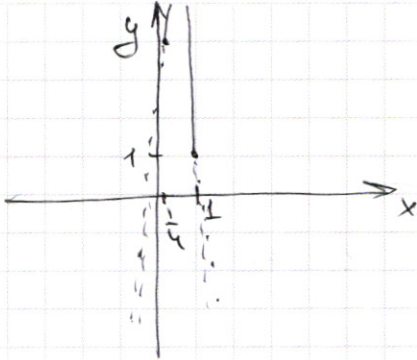
3) $y = -32x^2 + 36x - 3$ — парабола, ветви вниз ($-32 < 0$).

Вершина $x_0 = \frac{36}{2 \cdot 32} = \frac{9}{16}$, $\frac{1}{4} < x_0 < 1$.

$y(x_0) = \frac{-81 \cdot 32^2}{16 \cdot 16} + \frac{36 \cdot 9}{16} - 3 = \frac{-162 + 324 - 48}{16} = \frac{114}{16} = \frac{57}{8}$

На $[\frac{1}{4}; 1]$ график имеет вид:

ПИСЬМЕННАЯ РАБОТА

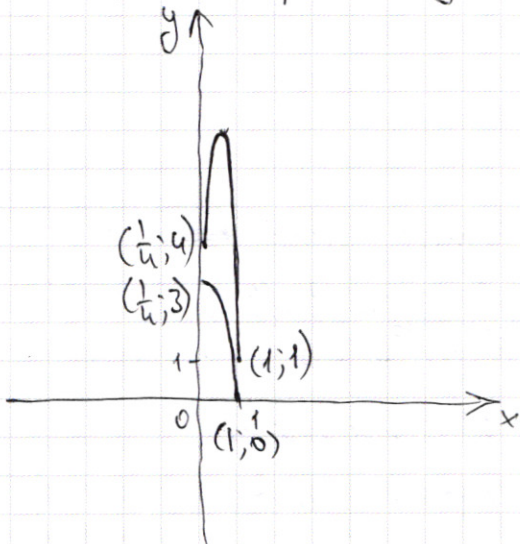


$$y\left(\frac{1}{4}\right) = \frac{-32}{16} + \frac{36}{4} - 3 = 4$$

$$y(1) = 1$$

Объединю гр-ки y_1 и y_2 :

тогда условие задачи будет таковы: найти такие a и b , при которых прямая y_2 проходит между y_1 и y_3 , либо касается их.



Чтобы y_2 была ниже y_3 достаточно, чтобы y_2 проходила или была ниже точек $(\frac{1}{4}; 4)$ и $(1; 1)$, иначе начав пересечение с параболой в области, где $y_2 > y_3$.

$$\begin{cases} y_2\left(\frac{1}{4}\right) \leq 4 \\ y_2(1) \leq 1 \end{cases} \Leftrightarrow \begin{cases} \frac{a}{4} + b \leq 4 \\ a + b \leq 1 \end{cases}$$

Рассм. прямую $y_2 = -4x + 5$, т.е. проход. через $(\frac{1}{4}; 4)$ и $(1; 1)$.

Проверим, будут ли у нее "пересечения" с y_1 :

$$\begin{cases} y_2 = -4x + 5 \\ y_1 = 4 + \frac{1}{x - \frac{5}{4}} \end{cases}$$

$$y_2 = y_1 \Rightarrow 4 + \frac{1}{x - \frac{5}{4}} = -4\left(x - \frac{5}{4}\right)$$

Пусть $x - \frac{5}{4} = t$. Тогда: $4 + \frac{1}{t} = -4t$

$$\frac{4t^2 + 4t + 1}{t} = 0$$

$$\frac{(2t+1)^2}{t} = 0 \Rightarrow t = -\frac{1}{2}, x = \frac{3}{4}, y = 2$$

Научаемся, что при $a = -4$ и $b = 5$ прямая касательная к ветви параболы y_2 и имеет общую точку с y_1 . Эта точка является либо касанием, либо пересечением.

Проверю её на касание. Там же как при $x = \frac{1}{4}$ $y_2 = 4$, а $y_1 = 3$,
 при $x = 1$ $y_2 = 1$, а $y_1 = 0$, то

y_2 - касательная имеет вид:

$$y - y_0 = f'(x_0)(x - x_0), \text{ где } (x_0; y_0) \text{ — т. касания.}$$

Подставив вместо $(x_0; y_0)$ точку $(\frac{3}{4}; 2)$ получим:

$$y - 2 = f'(\frac{3}{4})(x - \frac{3}{4})$$

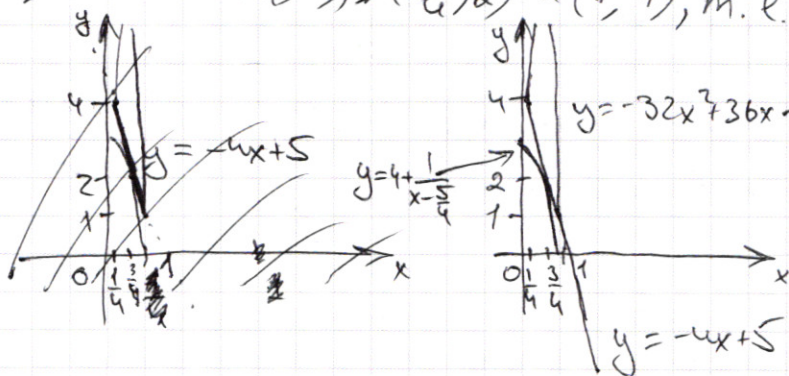
$$f'(x) = (4 + \frac{1}{x - \frac{5}{4}})' = \frac{-1}{(x - \frac{5}{4})^2}, \quad f'(\frac{3}{4}) = \frac{-1}{(\frac{1}{2})^2} = -4$$

$$y - 2 = -4(x - \frac{3}{4})$$

$$y = -4x - 4x + 5$$

Окажется, что y_2 касается y_1 . Научаемся, что ~~при~~ "поднять" прямую y_2 мы не можем, т.е. y_2 пересечёт y_1 и появятся решения, при которых $y_2 < y_1$, а "опустить" прямую тоже невозможно — пересечёт параболу. Иначе говоря,

~~проходит через точку~~ наша прямая фиксирована в точках $(\frac{1}{4}; 4)$, $(\frac{3}{4}; 2)$ и $(1; 1)$, т.е. других значений a и b нет.



Ответ: $a = -4$; $b = 5$.

$$f\left(\frac{x}{y}\right) = f\left(x \cdot \frac{1}{y}\right) = f(x) + f\left(\frac{1}{y}\right) < 0$$

$$f(p) = \left[\frac{p}{4} \right] \Rightarrow p$$

$$f(2) = 0$$

$$f(3) = 0$$

$$f(5) = 1$$

$$f(7) = 1$$

$$f(11) = 2$$

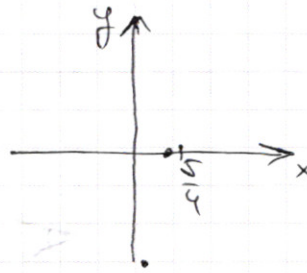
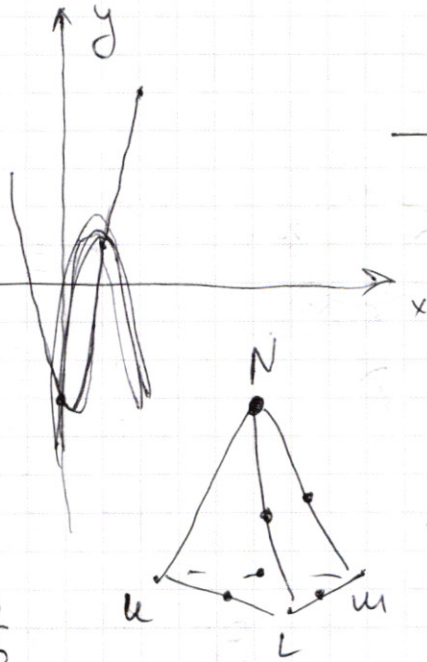
$$f(13) = 3$$

$$f(17) = 4$$

$$f(19) = 4$$

$$f(23) = 5$$

$$x_B = \frac{3 \cdot 9}{2 \cdot 32} = \frac{9}{16}$$

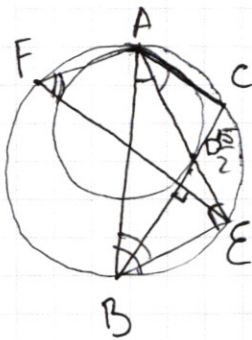


$$4 + \frac{1}{x} - \frac{32x}{5} - 3$$

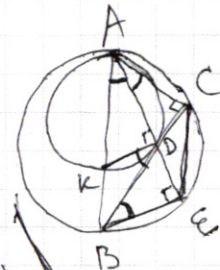
$$-64 + 72 - 32 \cdot 4 + 36 \cdot 2 - 3$$

$$-\frac{32}{16} + \frac{36}{4} - 3 = -5 + 9 = 4$$


если $ax + b \leq -32x^2 + 36x - 3$ на $\left[\frac{1}{4}; 1\right]$.



AE - диаметр?
BD



$$BD = \frac{17}{2} \cdot \frac{16}{16} > \frac{9}{16} > \frac{4}{16}$$



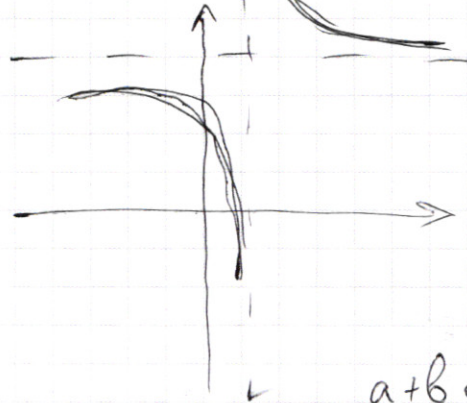
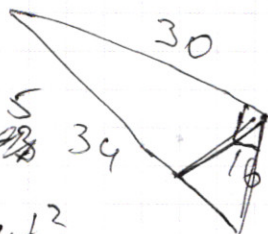
$$\frac{9}{4} + b = 4$$

$$a + b \leq 1$$

$$\frac{3}{4}a = 3$$

$$a = 4; b = \frac{5}{4}$$

$$4t^2$$



$a + b \in [0; 1]$

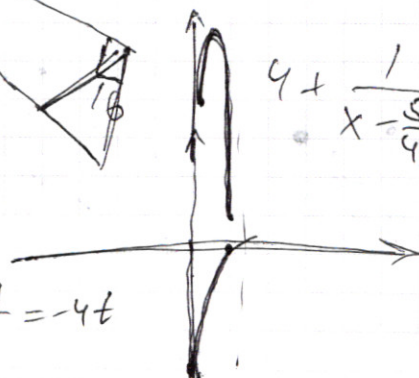
$$4 + \frac{1}{x} - \frac{64}{289} - \frac{32x}{5} - 3$$

$$\frac{5}{4} - \frac{2}{4} = \frac{3}{4}$$

$$y = -4x + 5$$

$$y = 4 + \frac{1}{x - \frac{5}{4}}$$

$$4 + \frac{1}{x - \frac{5}{4}} = -4 \left(\frac{x - \frac{5}{4}}{t} \right) \quad 4 + \frac{1}{t} = -4t$$



$$\frac{2}{4} \cdot 4 = 2$$

$$4 + \frac{-3}{3} = \frac{8}{3}$$

ПИСЬМЕННАЯ РАБОТА

$$\begin{cases} \sin(\alpha + 2\beta) = -\frac{1}{\sqrt{5}} \\ \sin(2\alpha + 4\beta) + \sin 2\alpha = -\frac{2}{5} \end{cases}$$

$$\begin{cases} \operatorname{tg} \alpha = ? \\ \operatorname{tg} \alpha = \frac{\sin \alpha}{\cos \alpha} \end{cases}$$

$$\sin \alpha \cos 2\beta + \sin 2\beta$$

$$\sin(\alpha + 2\beta) + \sin 2\beta = \underbrace{\sin(\alpha + 2\beta)}_{-\frac{1}{\sqrt{5}}} \cos 2\beta + \sin 2\beta \cos(\alpha + 2\beta)$$

$$\begin{cases} x - 12y = \sqrt{2xy - 12y - x + 6} \\ x^2 + 36y^2 - 12x - 36y = 45 \\ (x-6)^2 + (6y - \frac{1}{2})^2 - 36 - \frac{1}{4} = 45 \end{cases}$$

$$\begin{cases} 2y(x-6) - (x-6) \\ (2y-1)(x-6) \end{cases}$$

$$x^2 - 24xy + 144y^2 = 2xy - 12y - x + 6$$

$$10x + |x^2 - 10x| \log_3 4 \geq x^2 + (10x - x^2) \log_3 5$$

$$10x - x^2 = t; \quad t + t \log_3 4 - t \log_3 5 \geq 0$$

$$\log_3 t = a \quad 3^{\log_3 t} + 4^{\log_3 t} - 5^{\log_3 t} \geq 0$$

$$3^a + 4^a \geq 5^a \quad | :5^a > 0$$

$$\left(\frac{3}{5}\right)^a + \left(\frac{4}{5}\right)^a \geq 1$$

$$\downarrow \downarrow \quad a$$

23

$$\begin{cases} \sin = \frac{4}{5} \\ \cos = \frac{3}{5} \end{cases}$$

$$2\sin \alpha \cos \alpha = 2\cos^2 \alpha - 2\sin^2 \alpha - \sin^2 \alpha + \cos^2 \alpha$$

$$\begin{cases} x-6=a \\ 2y-1=b \end{cases}$$

$$\begin{cases} \sqrt{6-x} = a \\ \sqrt{1-2y} = b \\ 6b^2 - a^2 = ab \\ a^4 + 9b^4 = 90 \\ 6b^2 - ab - a^2 = 0 \end{cases} \quad \begin{cases} a - 6b = \sqrt{ab} \quad | :b \\ \frac{a}{b} - \sqrt{\frac{a}{b}} = b = 0 \\ t^2 - t - 6 = 0 \\ (t-3)(t+2) = 0 \end{cases}$$

$$\begin{array}{r} 17 \\ 47 \\ \hline 119 \\ 17 \\ \hline 259 \end{array} \quad \begin{array}{r} 34 \\ 78 \\ \hline 272 \end{array}$$

$$\sin(2(\alpha+\beta)) = -\frac{1}{\sqrt{5}}$$

$$\frac{\sin(2(\alpha+\beta) + 2\beta)}{2(\alpha+\beta) + \beta}$$

$$\sin 2\alpha \cos 4\beta + \sin 4\beta \cos 2\alpha + \sin 2\alpha = -\frac{2}{\sqrt{5}}$$

$$\sin 2\alpha (\cos 4\beta + 1)$$

$$+ \sin(2\alpha + 2\beta) \cos 2\beta + \cos(2\alpha + 2\beta) \sin 2\beta + \sin 2\alpha = -\frac{2}{\sqrt{5}}$$


$$-\frac{1}{\sqrt{5}} \cos 4\beta + \cos(2\alpha + 2\beta) \sin 2\beta + \sin 2\alpha = -\frac{2}{\sqrt{5}}$$

$$\cos(2\alpha + 2\beta) = \frac{2}{\sqrt{5}}$$

$$\cos(2\alpha + 2\beta) = -\frac{2}{\sqrt{5}}$$

$$-\sqrt{5} \cos 4\beta + 2\sqrt{5} \sin 2\beta + \sqrt{5} \sin 2\alpha = -2$$

$$\sin(2\alpha + 2\beta) = -\frac{1}{\sqrt{5}} \Rightarrow \begin{cases} 2\alpha + 2\beta = -\arcsin \frac{1}{\sqrt{5}} + 2\pi k \\ 2\alpha + 2\beta = \pi + \arcsin \frac{1}{\sqrt{5}} + 2\pi k \end{cases}$$



$$\begin{cases} 2\beta = -2\alpha - \arctg \frac{1}{2} + 2\pi k \\ 2\beta = -2\alpha + \pi + \arctg \frac{1}{2} + 2\pi k \end{cases}$$

$$1) \sin(2\alpha - 4\alpha - 2\arctg \frac{1}{2} + 4\pi k) + \sin 2\alpha = -\frac{2}{\sqrt{5}}$$

$$-\sin(2\alpha + 2\arctg \frac{1}{2}) + \sin 2\alpha$$

$$-\sin 2\alpha \cos(2\arctg \frac{1}{2}) + \cos 2\alpha \sin(2\arctg \frac{1}{2}) + \sin 2\alpha = -\frac{2}{\sqrt{5}}$$

$$\sin 2\alpha$$

$$\begin{cases} x - 12y = \sqrt{2xy - 12y - x + 6} = \sqrt{(2y-1)(x-6)} \\ x^2 + 36y^2 - 12x - 36y = 45 \end{cases}$$

$$(x^2 - 12x) + 36y^2 - 36y = 45$$

$$(x-6)^2 + 36y^2 - 36y = 81$$

$$(x-6)^2 + 9(y^2 - 4y - 9)$$

$$(x-6)^2 + (6y-3)^2 = 45 + 36 + 9 = 90$$

$$\begin{cases} a - 6b = \sqrt{ab} \\ a^2 + 9b^2 = 90 \end{cases}$$

$$\begin{cases} a^2 - 6b^2 = ab \\ a^4 + 9b^4 = 90 \end{cases}$$

$$\sqrt{ab} = a^2 - 12ba + 36b^2$$

$$a^2 - ab - 6b^2$$