

МОСКОВСКИЙ ФИЗИКО-ТЕХНИЧЕСКИЙ ИНСТИТУТ
ОЛИМПИАДА "ФИЗТЕХ" ПО МАТЕМАТИКЕ

11 класс

ВАРИАНТ 4

ШИФР

Заполняется ответственным секретарём

1. [3 балла] Углы α и β удовлетворяют равенствам

$$\sin(2\alpha + 2\beta) = -\frac{1}{\sqrt{17}}; \quad \sin(2\alpha + 4\beta) + \sin 2\alpha = -\frac{2}{17}.$$

Найдите все возможные значения $\operatorname{tg} \alpha$, если известно, что он определён и что этих значений не меньше трёх.

2. [4 балла] Решите систему уравнений

$$\begin{cases} y - 6x = \sqrt{xy - 6x - y + 6}, \\ 9x^2 + y^2 - 18x - 12y = 45. \end{cases}$$

3. [5 баллов] Решите неравенство

$$|x^2 - 26x|^{\log_5 12} + 26x \geq x^2 + 13^{\log_5(26x - x^2)}.$$

4. [5 баллов] Окружности Ω и ω касаются в точке A внутренним образом. Отрезок AB – диаметр большей окружности Ω , а хорда BC окружности Ω касается ω в точке D . Луч AD повторно пересекает Ω в точке E . Прямая, проходящая через точку E перпендикулярно BC , повторно пересекает Ω в точке F . Найдите радиусы окружностей, угол AFE и площадь треугольника AEF , если известно, что $CD = 12$, $BD = 13$.

5. [5 баллов] Функция f определена на множестве положительных рациональных чисел. Известно, что для любых чисел a и b из этого множества выполнено равенство $f(ab) = f(a) + f(b)$, и при этом $f(p) = [p/4]$ для любого простого числа p ($[x]$ обозначает наибольшее целое число, не превосходящее x). Найдите количество пар натуральных чисел $(x; y)$ таких, что $4 \leq x \leq 28$, $4 \leq y \leq 28$ и $f(x/y) < 0$.

6. [5 баллов] Найдите все пары чисел $(a; b)$ такие, что неравенство

$$\frac{8 - 6x}{3x - 2} \geq ax + b \geq 18x^2 - 51x + 28$$

выполнено для всех x на промежутке $(\frac{2}{3}; 2]$.

7. [6 баллов] Дана пирамида $TXYZ$, вершина Y которой лежит на одной сфере с серединами всех её рёбер, кроме ребра TU . Известно, что $XY = \sqrt{3}$, $TX = \sqrt{2}$, $TZ = 2$. Найдите длину ребра XZ . Какой наименьший радиус может иметь сфера, описанная около данной пирамиды?

ПИСЬМЕННАЯ РАБОТА

№2

$$\begin{cases} y - 6x = \sqrt{xy - 6x - y + 6} \\ 9x^2 + y^2 - 18x - 12y = 45 \end{cases}$$

$$\begin{cases} y - 6 - 6(x - 1) = \sqrt{x(y - 6) - (y - 6)} = \sqrt{(x - 1)(y - 6)} \\ 9(x - 1)^2 + (y - 6)^2 = 90 \end{cases}$$

Сделаем замену $y - 6 = u$; $x - 1 = v$

$$\begin{cases} u - 6v = \sqrt{uv} \\ 9v^2 + u^2 = 90 \end{cases}$$

$$\begin{cases} u^2 - 13uv + 36v^2 = 0 \\ 9v^2 + u^2 = 90 \\ u - 6v \geq 0 \end{cases}$$

$$\Delta = 169v^2 - 144v^2 = 25v^2 \Rightarrow \begin{cases} u = \frac{13v + 5v}{2} = 9v \\ u = \frac{13v - 5v}{2} = 4v \end{cases}$$

1. $u = 4v$

$$9v^2 + 16v^2 = 90 \Rightarrow v = \pm \frac{3}{8}\sqrt{10}$$

$$4v - 6v \geq 0 \Rightarrow v \leq 0 \Rightarrow v = -\frac{3}{8}\sqrt{10}; u = -\frac{12}{8}\sqrt{10} \Rightarrow \begin{cases} x = 1 - \frac{3}{8}\sqrt{10} \\ y = 6 - \frac{12}{8}\sqrt{10} \end{cases}$$

2. $u = 9v$

$$9v^2 + 81v^2 = 90 \Rightarrow v = \pm 1$$

$$9v - 6v \geq 0 \Rightarrow v \geq 0 \Rightarrow v = 1; u = 9 \Rightarrow \begin{cases} x = 2 \\ y = 15 \end{cases}$$

Ответ: $(1 - \frac{3}{8}\sqrt{10}, 6 - \frac{12}{8}\sqrt{10}); (2, 15)$

№ 1

$$\begin{cases} \sin(2\alpha + 2\beta) = -\frac{1}{\sqrt{17}} \\ \sin(2\alpha + 4\beta) + \sin 2\alpha = -\frac{2}{17} \end{cases}$$

$$2 \sin \frac{2\alpha + 2\alpha + 4\beta}{2} \cdot \cos \frac{2\alpha + 4\beta - 2\alpha}{2} = -\frac{2}{17}$$

$$\sin(2\alpha + 2\beta) \cos 2\beta = -\frac{1}{17} \Rightarrow \cos 2\beta = \frac{1}{\sqrt{17}} \Rightarrow \sin 2\beta = \pm \frac{4}{\sqrt{17}}$$

$$\sin 2\alpha \cos 2\beta + \sin 2\beta \cos 2\alpha = -\frac{1}{\sqrt{17}}$$

1. $\sin 2\beta = \frac{4}{\sqrt{17}}$

$$\frac{1}{\sqrt{17}} \cdot 2 \cos \alpha \sin \alpha + \frac{4}{\sqrt{17}} (\cos^2 \alpha - \sin^2 \alpha) = -\frac{1}{\sqrt{17}} (\cos^2 \alpha + \sin^2 \alpha)$$

$$5 \cos^2 \alpha + 2 \cos \alpha \sin \alpha - 3 \sin^2 \alpha = 0 \quad | : \cos^2 \alpha \neq 0$$

$$3 \operatorname{tg}^2 \alpha + 2 \operatorname{tg} \alpha - 5 = 0 \Rightarrow \begin{cases} \operatorname{tg} \alpha = -1 \\ \operatorname{tg} \alpha = \frac{5}{3} \end{cases}$$

2. $\sin 2\beta = -\frac{4}{\sqrt{17}}$

$$\frac{1}{\sqrt{17}} \cdot 2 \cos \alpha \sin \alpha - \frac{4}{\sqrt{17}} (\cos^2 \alpha - \sin^2 \alpha) = -\frac{1}{\sqrt{17}} (\cos^2 \alpha + \sin^2 \alpha)$$

$$5 \sin^2 \alpha + 2 \cos \alpha \sin \alpha - 3 \cos^2 \alpha = 0 \quad | : \cos^2 \alpha \neq 0$$

$$5 \operatorname{tg}^2 \alpha + 2 \operatorname{tg} \alpha - 3 = 0 \Rightarrow \begin{cases} \operatorname{tg} \alpha = -1 \\ \operatorname{tg} \alpha = \frac{3}{5} \end{cases}$$

~~Максимум~~ Максимальное 3 значения $\operatorname{tg} \alpha$ максимума $\Rightarrow \operatorname{tg} \alpha \in \left\{ -1, \frac{3}{5}, \frac{5}{3} \right\}$

Ответ: $\left\{ -1, \frac{3}{5}, \frac{5}{3} \right\}$

№ 3

$$|x^2 - 26x| \log_5 12 + 26x \geq x^2 + 13 \log_5 (26x - x^2)$$

$$\begin{cases} 26x - x^2 > 0 \\ (26x - x^2) \log_5 12 + 26x - x^2 > (26x - x^2) \log_5 13 \end{cases}$$

$$(26x - x^2) \log_5 12 + 26x - x^2 > (26x - x^2) \log_5 13$$

ПИСЬМЕННАЯ РАБОТА

№3 (продолжение)

$$26x - x^2 = t$$

$$t > 0$$

$$t^{\log_5 12} + t \geq t^{\log_5 13} \quad | : t^{\log_5 12} > 0$$

$$1 + t^{1 - \log_5 12} \geq t^{\log_5 \frac{13}{12}}$$

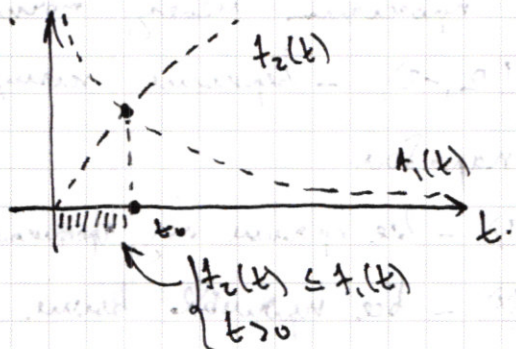
$$f_1(t) = t^{\log_5 \frac{5}{12}} \geq t^{\log_5 \frac{13}{12}} = f_2(t)$$

монотонно
убывает

монотонно
возрастает

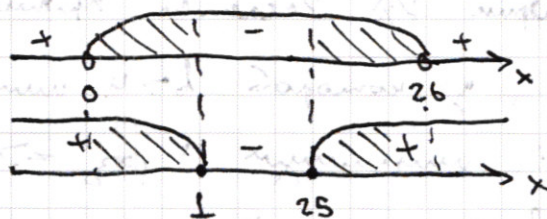
⇒ максимум 1 пересечение, и

$$\text{это } t_0 = 5^2 = 25 \Rightarrow t \in (0, 25]$$



$$\begin{cases} 0 \leq 26x - x^2 \\ 26x - x^2 \leq 25 \end{cases}$$

$$\begin{cases} x(x-26) < 0 \\ x^2 - 26x + 25 = (x-1)(x-25) \geq 0 \end{cases}$$



$$\Rightarrow x \in (0, 1] \cup [25, 26)$$

Ответ: $x \in (0, 1] \cup [25, 26)$

№6

$$\begin{cases} \frac{8-6x}{3x-2} \geq ax+b \end{cases}$$

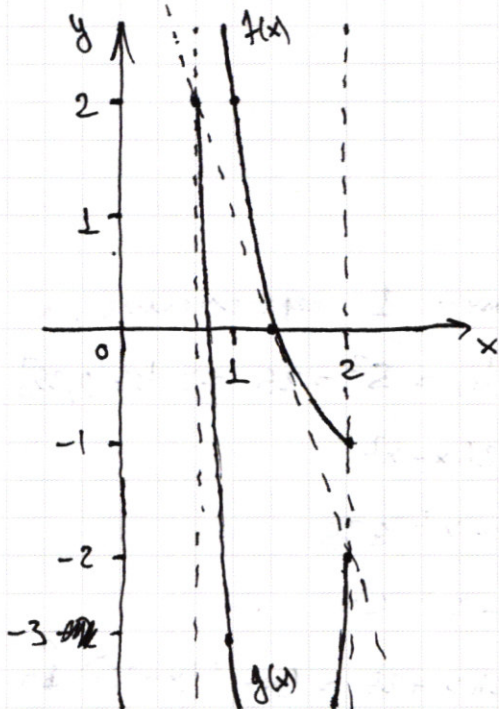
$$\begin{cases} ax+b \geq 18x^2 - 51x + 28 \end{cases}$$

$$\begin{cases} ax+b \leq \frac{2(2-3x)+4}{3x-2} = \frac{4}{3x-2} - 2 = f(x) \\ ax+b \geq 18x^2 - 51x + 28 = g(x) \end{cases}$$

$$\lim_{x \rightarrow \frac{2}{3}^+} f(x) = +\infty; f(2) = -1; f(1) = 2; f\left(\frac{4}{3}\right) = 0$$

$$\lim_{x \rightarrow \frac{2}{3}^+} g(x) = 2; g(2) = -2; x_{\text{вер}} = -\frac{-51}{36} = \frac{17}{12} \in \left(\frac{2}{3}, 2\right], \text{ вершина}$$

во направлении вверх.



Найдем уравнение касательной к $f(x)$ в точке $x = \frac{4}{3}$:

$$y = f'\left(\frac{4}{3}\right)\left(x - \frac{4}{3}\right) + f\left(\frac{4}{3}\right) = -\frac{12}{\left(3 \cdot \frac{4}{3} - 2\right)^2} \left(x - \frac{4}{3}\right) =$$

$$= -3\left(x - \frac{4}{3}\right) = 4 - 3x - \text{прямая,}$$

которая проходит через точки $\left(\frac{2}{3}, 2\right)$ и $(2, -2)$ — вершине касательная к параболу

- (1) $ax+b \leq f(x)$ — все прямые под графиком $f(x)$
- (2) $ax+b \geq g(x)$ — все прямые выше

прямой $y = 4 - 3x$. Т.к. график $f(x)$ касается прямой

$y = 4 - 3x$, то любая прямая, у которой $b > 4$ или $a > -3$ будет пересекать $f(x)$ минимум 1 раз \Rightarrow не выполняется (1). Если $b \leq 4$ или $a \leq -3$ то не выполняется (2) $\Rightarrow b = 4$ и $a \geq -3$.

Ответ: $(-3, 4)$

ПИСЬМЕННАЯ РАБОТА

№ 5

Заметим, что:

$$f(a_1 a_2 \dots a_n) = f(a_1) + f(a_2 \dots a_n) = f(a_1) + f(a_2) + \dots + f(a_n)$$

Если натуральное число n представимо в виде $n = p_1^{d_1} p_2^{d_2} \dots p_k^{d_k}$, где p_1, p_2, \dots, p_k — простые, то:

$$f(n) = \sum_{i=1}^k f(p_i^{d_i}) = \sum_{i=1}^k d_i \cdot [p_i/4]$$

$$f(ab) = f(a) + f(b) \text{ — подставим } a=1:$$

$$f(b) = f(1) + f(b) \Rightarrow f(1) = 0. \text{ Теперь подставим } b = \frac{1}{a}:$$

$$f(a \cdot \frac{1}{a}) = f(1) = 0 = f(a) + f(\frac{1}{a}) \Rightarrow f(\frac{1}{a}) = -f(a). \text{ В итоге получаем:}$$

$$f\left(\frac{x}{y}\right) = f\left(x \cdot \frac{1}{y}\right) = f(x) - f(y) = \sum_{p \in P} \alpha_p [p/4] - \sum_{p \in P} \beta_p [p/4] = \sum_{p \in P} (\alpha_p - \beta_p) [p/4],$$

P — множество простых чисел,

$$\alpha_p, \beta_p \in \mathbb{N} \cup \{0\}.$$

П.к. $\forall x \in [4, 28]$, то степень всех простых чисел в разложении больше 23 будет равна 0. Получаем:

$$f(x) = d_{p_2} [2/4] + d_{p_3} [3/4] + \dots + d_{p_{23}} [23/4] = d_5 + d_7 + 2d_{11} +$$

$$+ 3d_{13} + 4d_{17} + 4d_{19} + 5d_{23}. \text{ Если } x \in \{4, 6, 8, 9, 12, 16, 18,$$

$$24\}^A, \text{ то } f(x) = 0 \text{ (только степени 2 и 3)}. \text{ Если } x \in \{5,$$

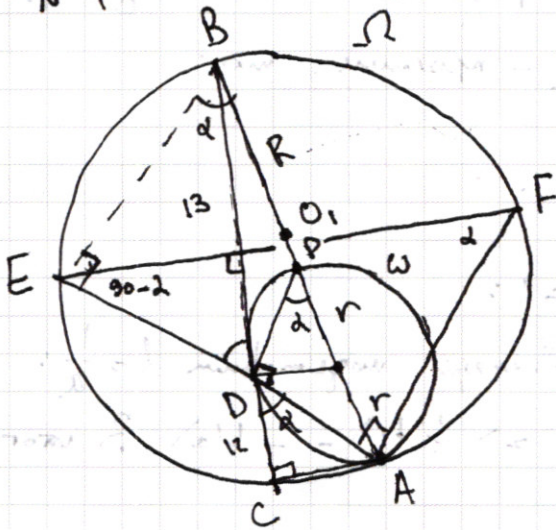
$$10, 15, 20, 7, 14, 21, 28\}^B, \text{ то } f(x) = 1. \text{ Если } x \in \{11, 22, 25\}^C,$$

$$\text{то } f(x) = 2. \text{ Для остальных чисел: } f(13) = f(26) = 3; f(17) =$$

$f(19) = 4$; $f(23) = 5$. Нам нужно, чтобы $f(x) < f(y)$. Если $x \in A \Rightarrow$ где y 16 вариантов. Если $x \in B$, то где y 8 вариантов. Если $x \in C$, то где y 5 вариантов. Если $x \in \{13, 26\}$, то где y 3 варианта. Если $x \in \{17, 19\}$, то где y 1. Вариант. Итого вариантов ~~9~~ $9 \cdot 16 + 8 \cdot 8 + 3 \cdot 5 + 2 \cdot 3 + 2 \cdot 1 = 13 \cdot 16 + 21 + 2 = 208 + 21 + 2 = 231$

Ответ: ~~231~~ 231 пара

№ 4



Пусть радиус ω равен r , а Ω - R . Тогда Π к. BA - диаметр, но $\angle BCA = 90^\circ$. Аналогично, $\angle PDA = 90^\circ$ ($P = BA \cap \omega$). Пусть $\angle ADC = 2\alpha$. Тогда $DA = \frac{12}{\cos 2\alpha}$; $\angle DPA = 2\alpha$.
 $\sin 2\alpha = \frac{DA}{2r} = \frac{12}{2r \cos 2\alpha} \Rightarrow \sin 2\alpha = \frac{12}{r}$

$$\angle PBD = \alpha - \angle BDP = \alpha - (180^\circ - 90^\circ - \alpha) = 2\alpha - 90^\circ. \cos(2\alpha - 90^\circ) = \sin 2\alpha = \frac{25}{2R} = \frac{12}{r} \Rightarrow R = \frac{25}{24}r. \text{ По св-ву секущей:}$$

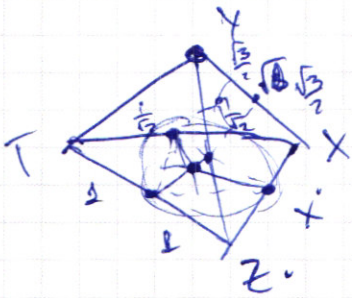
$$BD^2 = BP \cdot BA = (2R - 2r) \cdot 2R = 13^2$$

$$(2R - \frac{48}{25}R) \cdot 2R = R^2 \cdot \frac{4}{25} = 13^2 \Rightarrow R = \frac{5 \cdot 13}{2} = \frac{65}{2}; r = \frac{13 \cdot 12}{5} = \frac{156}{5}$$

$$\angle BDE = \alpha \Rightarrow \angle FEA = 90 - \alpha; \angle BEA = 90^\circ \Rightarrow \angle EBA = 90^\circ - \alpha \Rightarrow \angle PAE = 90^\circ - (90 - \alpha) = \alpha \Rightarrow \angle PAE = 90^\circ \Rightarrow S_{\triangle APE} = 2 \cdot \frac{1}{2} \cdot R \cdot r \cdot \sin 90^\circ = 2R^2 \sin \alpha \sin(90 - \alpha) \cdot \sin 90^\circ = R^2 \sin 2\alpha = \frac{12}{r} \cdot R^2 = \frac{25}{2}R^2 = \frac{25 \cdot 65}{4} = \frac{1625}{4}$$

$$\angle AFE = \alpha = \frac{1}{2} \arcsin \frac{12}{r} = \frac{1}{2} \arcsin \left(\frac{5}{13} \right)$$

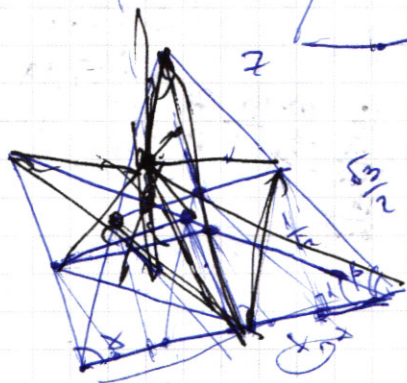
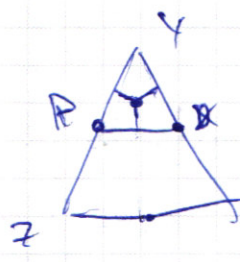
$$\text{Ответ: } R = \frac{65}{2}; r = \frac{156}{5}; \angle APE = \frac{1}{2} \arcsin \left(\frac{5}{13} \right); S_{\triangle APE} = \frac{1625}{4}$$



$$-\frac{12}{5}\sqrt{10} + 6 \cdot \frac{3}{5}\sqrt{10} = \frac{6}{5}\sqrt{10}$$

$$= \sqrt{\frac{3 \cdot 12 \cdot 10}{25}} = \frac{6}{5}\sqrt{10}$$

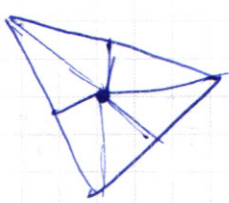
$$\frac{1}{\sqrt{17}} 2 \sin \alpha \cos \alpha \pm \frac{4}{\sqrt{17}} (\cos^2 \alpha - \sin^2 \alpha) = \frac{1}{\sqrt{17}}$$



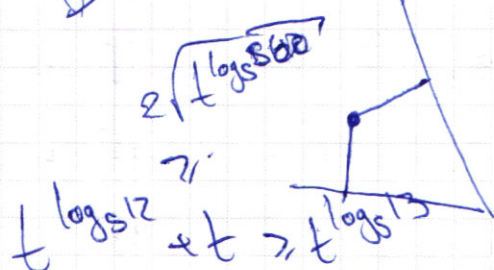
$$\frac{\sqrt{3}}{2} \cos \beta = \frac{1}{\sqrt{2}} \cos \alpha$$

$$\frac{\cos \alpha}{\cos \beta} = \sqrt{\frac{3}{2}}$$

$$4x - 2x - \frac{\sqrt{3}}{2} \cos \beta = \sqrt{2} \times 2 \sqrt{2} \times \cos \alpha$$



$$2 \sqrt{\log_5 10}$$



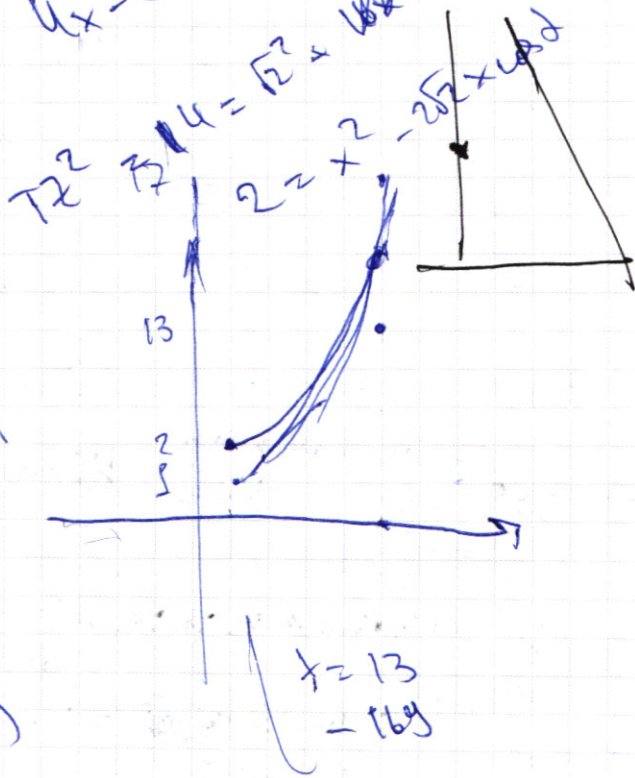
$$t \log_5 12 + t \geq t \log_5 13$$

$$t > 0$$

$$26x - x^2 > 0$$

$$x(x - 26) < 0$$

$$\Rightarrow x \in (0, 26)$$



$$t \log_5 12 + t = t \log_5 13 \quad | : t \log_5 13$$

$$14x + 25 \quad | \times t - \log_5 12 = t \log_5 13 - \log_5 12$$

монотонно убывает

$$5^2$$

$$12^2 + 5^2 = 13^2$$

$$t \in \left(\frac{12}{13}, 13 \right)$$

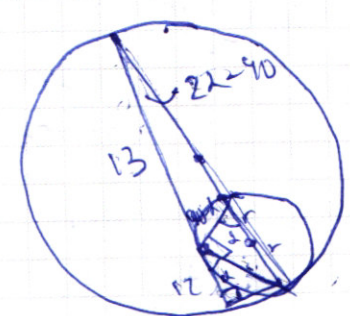
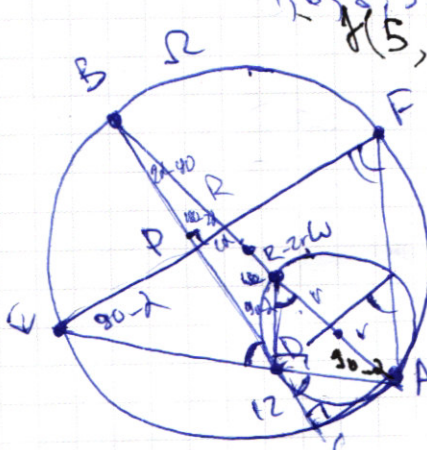
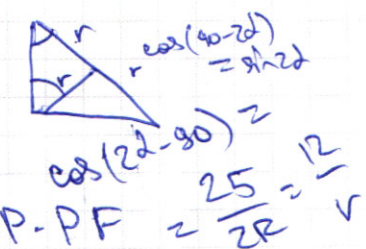
ПИСЬМЕННАЯ РАБОТА

$f(ab) = f(a) \times f(b)$ $9 \cdot 8 \times 3 = 27 \cdot 2 \cdot 1$
 $f(p) = [P/4]$ $f(a_1, a_2, \dots, a_n) = \sum_{i=1}^n a_i$ $2 \cdot \{4, 25, 22, 13, 21, 17, 19, 5, 12\}$
 $f(\frac{a}{b}) = f(a) + f(\frac{1}{b})$ $f(A) = f(p_1^{a_1} p_2^{a_2} \dots p_k^{a_k}) = a_1 f(p_1) + a_2 f(p_2) + \dots + a_k f(p_k) = \sum_{i=1}^k a_i [P_i/4]$
 $f(a/b) = f(a) - f(b)$
 $f(x/y) = f(x) - f(y)$ $f(b) = f(1) + f(b) \Rightarrow f(1) = 0$
 $f(a - \frac{1}{a}) = f(a) + f(\frac{1}{a}) = 0$

$4 \leq x \leq 28$
 $f(\frac{1}{a}) = -f(a)$ $\frac{23}{4} = \frac{20+3}{4} = 5 + \frac{3}{4}$

$(\alpha_1 - \beta_1) [\frac{2}{4}] + (\alpha_2 - \beta_2) [\frac{3}{4}] + (\alpha_3 - \beta_3) [\frac{5}{4}] + \dots$
 $= \alpha_3 - \beta_3 + \alpha_4 - \beta_4 + 2(\alpha_5 - \beta_5) + 3(\alpha_6 - \beta_6) + 4(\alpha_7 - \beta_7) + \dots$

$f(5, 10, 15, 20, 25) = 0$
 $f(7, 14, 21, 28) = 0$
 $f(13, 26) = 0$



$\frac{12}{\cos 2d} = 2r$
 $\frac{12}{\cos 2d} = 2r$
 $\frac{12}{\cos 2d} = 2r$
 $\frac{12}{\cos 2d} = 2r$

ПИСЬМЕННАЯ РАБОТА

$$\sin(2\alpha + 2\beta) = -\frac{1}{\sqrt{17}}$$

$$\sin(2\alpha + 4\beta) + \sin 2\alpha = -\frac{2}{17}$$

$$2\alpha = x \quad 2\beta = y$$

$$\sin(x+y) = -\frac{1}{\sqrt{17}}$$

$$\sin(x+y+y) + \sin x = -\frac{2}{17}$$

$$\sin(x+y)\cos y + \cos(x+y)\sin y + \sin x = -\frac{2}{17}$$


$$\sin x \cos 2y + \cos x \sin 2y + \sin x = -\frac{2}{17}$$

$$\sin x$$

$$2\alpha + 2\beta$$

$$\sin 2 \cos \beta = \frac{1}{2}(\sin(\alpha+\beta) + \sin(\alpha-\beta))$$

$$\sin 2x = \frac{2 \operatorname{tg} x}{1 + \operatorname{tg}^2 x}$$



$$\sin x \sin y = 2 \sin \frac{x+y}{2} \cos \frac{x-y}{2}$$

$$\frac{2 \operatorname{tg}(\alpha+\beta)}{1 + \operatorname{tg}^2(\alpha+\beta)} = -\frac{1}{\sqrt{17}}$$

$$\frac{2 \operatorname{tg}(\alpha+2\beta)}{1 + \operatorname{tg}^2(\alpha+2\beta)} + \frac{2 \operatorname{tg} \alpha}{1 + \operatorname{tg}^2 \alpha} = -\frac{2}{17}$$

$$2 \sin(2\alpha + 2\beta) \cos(2\beta) = -\frac{2}{17}$$

$$2 \left(-\frac{1}{\sqrt{17}}\right) \cos 2\beta = -\frac{2}{17}$$

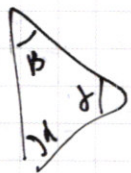
$$\cos 2\beta = \frac{1}{\sqrt{17}}$$

$$\sin 2\beta = \pm \frac{4}{\sqrt{17}}$$

$$\sin 2\alpha = -\frac{1}{17} \pm \frac{16}{17} \pm \frac{15}{\sqrt{17}} - 1$$

$$-\frac{1}{\sqrt{17}} \cdot \frac{1}{\sqrt{17}} \pm \frac{16}{17} + \sin 2\alpha = -\frac{2}{17}$$

$$-\frac{1}{17} \pm \frac{16}{17} =$$



$$\frac{AB \cdot CD \cdot \sin \alpha}{2} = z$$

$$\begin{cases} y - 6x = \sqrt{xy - 6x - y + 6} \\ 9x^2 + y^2 - 18x - 12y = 45 \end{cases}$$

$$|x^2 - 26x| \log_5 12 + 26x > x^2 + 13 \log_5 (26x - x^2)$$

$$y - 6x \geq 0$$

$$26x - x^2 > 0.$$

$$x^2 - 26x < 0$$

$$y^2 - 12xy + (6x)^2 - xy + 6x + y - 6 = 0$$

$$(26x - x^2) \log_5 12 + 26x - x^2 + (26x - x^2) \log_5 13 \geq 0$$

$$9(x-1)^2 + (y-6)^2 = 90$$

$$t^{\log_5 12} + t^{\log_5 13} + t \geq 0$$

$$(y-6x)^2 - x(y-6) + y-6 = 0.$$

$$t^{\log_5 12} + t^{\log_5 5} > t^{\log_5 13}$$

$$(y-6x)^2 - (y-6)(x-1) = 0$$

"u" "v"

$$t^{\log_5 13} - t^{\log_5 12}.$$

$$120 \neq 24.$$

$$(u+6-6(v+1))^2 = uv = (u-6v)^2 \Leftrightarrow u^2 - 12uv + 36v^2 = 0$$

$$9v^2 + u^2 = 90$$

$$u^2 - 13uv + 36v^2 = 0$$

$$u - 6v \geq 0$$

$$D = 169v^2 - 144v^2 = 25v^2$$

$$9v^2 + 36v^2 = 90$$

$$u = \frac{13v \pm 5v}{2} = \begin{matrix} u \\ 9v \end{matrix}$$

$$25v^2 = 90 \Rightarrow v = \pm \frac{3}{5} \sqrt{10}$$

$$-\frac{6x-4-4}{3x-2} v \leq 0 \Rightarrow \frac{4}{3x-2} - 2.$$

$$\frac{8-6x}{3x-2} \geq ax+b$$

$$\frac{8-6x}{3x-2} \geq 18x^2 - 51x + 28$$

$$18x^2 - 51x + 28$$

$$30x - 16$$

$$18 \cdot 4 - 51 \cdot 2 + 28$$

$$2(36 - 51 + 14)$$

