

МОСКОВСКИЙ ФИЗИКО-ТЕХНИЧЕСКИЙ ИНСТИТУТ
ОЛИМПИАДА "ФИЗТЕХ" ПО МАТЕМАТИКЕ

11 класс

ВАРИАНТ 1

ШИФР _____

Заполняется ответственным секретарём

1. [3 балла] Углы α и β удовлетворяют равенствам

$$\sin(2\alpha + 2\beta) = -\frac{1}{\sqrt{5}}; \quad \sin(2\alpha + 4\beta) + \sin 2\alpha = -\frac{4}{5}.$$

Найдите все возможные значения $\operatorname{tg} \alpha$, если известно, что он определён и что этих значений не меньше трёх.

2. [4 балла] Решите систему уравнений

$$\begin{cases} x - 2y = \sqrt{xy - x - 2y + 2}, \\ x^2 + 9y^2 - 4x - 18y = 12. \end{cases}$$

3. [5 баллов] Решите неравенство

$$5^{\log_{12}(x^2+18x)} + x^2 \geq |x^2 + 18x|^{\log_{12} 13} - 18x.$$

4. [5 баллов] Окружности Ω и ω касаются в точке A внутренним образом. Отрезок AB – диаметр большей окружности Ω , а хорда BC окружности Ω касается ω в точке D . Луч AD повторно пересекает Ω в точке E . Прямая, проходящая через точку E перпендикулярно BC , повторно пересекает Ω в точке F . Найдите радиусы окружностей, угол AFE и площадь треугольника AEF , если известно, что $CD = 8$, $BD = 17$.

5. [5 баллов] Функция f определена на множестве положительных рациональных чисел. Известно, что для любых чисел a и b из этого множества выполнено равенство $f(ab) = f(a) + f(b)$, и при этом $f(p) = [p/4]$ для любого простого числа p ($[x]$ обозначает наибольшее целое число, не превосходящее x). Найдите количество пар натуральных чисел $(x; y)$ таких, что $1 \leq x \leq 24$, $1 \leq y \leq 24$ и $f(x/y) < 0$.

6. [5 баллов] Найдите все пары чисел $(a; b)$ такие, что неравенство

$$\frac{12x + 11}{4x + 3} \leq ax + b \leq -8x^2 - 30x - 17$$

выполнено для всех x на промежутке $[-\frac{11}{4}; -\frac{3}{4}]$.

7. [6 баллов] Дана пирамида $ABCD$, вершина A которой лежит на одной сфере с серединами всех её рёбер, кроме ребра AD . Известно, что $AB = 1$, $BD = 2$, $CD = 3$. Найдите длину ребра BC . Какой наименьший радиус может иметь сфера, описанная около данной пирамиды?

ПИСЬМЕННАЯ РАБОТА

№ 2.

$$\begin{cases} x - 2y = \sqrt{xy - x - 2y + 2} \\ x^2 + 9y^2 - 4x - 18y = 12 \end{cases} \begin{cases} \text{Приведём координаты,} \\ \text{Введём пер. к.в.} \end{cases}$$

$$\begin{cases} x - 2y = \sqrt{(y-1)(x-2)} \\ (x-2)^2 + 9(y-1)^2 = 25 \end{cases}$$

$$\begin{cases} x - 2 = a \\ y - 1 = b \end{cases} \Rightarrow a - 2b = x - 2y$$

$$\begin{cases} a - 2b = \sqrt{ab} \\ (x-2)^2 + 9(y-1)^2 = 25 \end{cases} \Leftrightarrow \begin{cases} a - 2b = \sqrt{ab} \cdot 10^2 \\ a^2 + 9b^2 = 25 \end{cases}$$

$$\begin{cases} a^2 - 4ab + 4b^2 - ab = 0 \\ a^2 + 9b^2 = 25 \\ a - 2b \geq 0 \end{cases}$$

$$\begin{cases} (a - 4b)(a - b) = 0 \\ a^2 + 9b^2 = 25 \\ a - 2b \geq 0 \end{cases}$$

1° $a = b$

$\Rightarrow b \leq 0$

$10b^2 = 25 \Rightarrow b = -\sqrt{\frac{5}{2}} \wedge a = -\sqrt{\frac{5}{2}}$

$\Rightarrow \begin{cases} x = 2 - \sqrt{\frac{5}{2}} \\ y = 1 - \sqrt{\frac{5}{2}} \end{cases}$

$$2^0. \quad a = 4b.$$

$$\Rightarrow b \geq 0.$$

$$25b^2 = 25 \Rightarrow b = 1 \wedge a = 4.$$

$$\Rightarrow x = 6; y = 2$$

$$\text{Ответ: } (6; 2); (2 - \sqrt{5}; 1 - \sqrt{5})$$

№3.

$$5^{\log_{12}(x^2+8x)} + x^2 \geq |x^2+8x|^{\log_{12} 13} - 18x.$$

$$\text{I } x^2 + 8x = t \geq 0$$

Т.к. $x^2 + 8x > 0 \Rightarrow$ выполняются оба условия

$$5^{\log_{12} t} + t \geq t^{\log_{12} 13}$$

$$t^{\log_{12} 13} - 5^{\log_{12} t} \leq t.$$

$$t^{\log_{12} 13} - t^{\log_{12} 5} \leq t \quad | : t, \text{ Т.к. } t \geq 0.$$

$$t^{\log_{12} \frac{13}{5}} - t^{\log_{12} \frac{5}{12}} \leq 1.$$

$$\frac{13}{12}^{\log_{12} t} - \frac{5}{12}^{\log_{12} t} \leq 1.$$

$$\text{I } \log_{12} t = a.$$

$$\left(\frac{13}{12}\right)^a - \left(\frac{5}{12}\right)^a \leq 1 \quad | \cdot 12^a$$

$$13^a - 5^a \leq 12^a \quad | :$$

$$13^a \leq 12^a + 5^a \quad | : 12^a.$$

$$\Rightarrow \left(\frac{13}{12}\right)^a - \left(\frac{5}{12}\right)^a \leq 1; \text{ Заметим, что}$$

$$f(x) = \left(\frac{13}{12}\right)^x - \left(\frac{5}{12}\right)^x - \text{монотонно убыв.} \Rightarrow$$

ПИСЬМЕННАЯ РАБОТА

Возможен подбор.

Заметим, что $\alpha = 2$ - показатель.

$$\Rightarrow \alpha \in (-\infty; 2).$$

$$\Rightarrow (\cos_{12}^t \leq 2.$$

$$\Rightarrow t \in (0; 144)$$

$$\Rightarrow \begin{cases} x^2 + 18x \geq 0 \\ x^2 + 18x - 144 < 0 \end{cases}$$

$$\Leftrightarrow \begin{cases} x \in (-\infty; -18) \\ x \in (0; +\infty) \\ x \in [-24; 6] \end{cases}$$

Ответ: $x \in [-24; -18) \cup (0; 6]$.

№ 1

$$\sin(2\alpha + 2\beta) = -\frac{1}{\sqrt{5}} \rightarrow (1)$$

$$\sin 2\alpha + \sin(2\alpha + 4\beta) = -\frac{4}{5} \rightarrow (2)$$

$$\text{х (2)} : \sin(2\alpha + 4\beta) + \sin 2\alpha = -\frac{4}{5}$$

$$2 \sin(2\alpha + 2\beta) \cdot \cos 2\beta = -\frac{4}{5}$$

$$\sin(2\alpha + 2\beta) = -\frac{1}{\sqrt{5}}$$

$$\Rightarrow \cos 2\beta = \frac{2}{\sqrt{5}} \Rightarrow \tan 2\beta = \pm \frac{1}{2}$$

$$1^0 \tan 2\beta = \frac{1}{2}$$

$$\Rightarrow \sin 2\beta = \frac{1}{\sqrt{5}}$$

$$\sin 2\alpha \cdot \cos 2\beta - \sin 2\beta \cdot \cos 2\alpha = -\frac{1}{\sqrt{5}} \mid \cdot \sqrt{5}$$

$$2 \sin 2\alpha \cdot \cos 2\alpha = 1$$

$$\sin 2\alpha = \frac{2 \operatorname{tg} \alpha}{1 - \operatorname{tg}^2 \alpha}; \quad \cos 2\alpha = \frac{1 - \operatorname{tg}^2 \alpha}{1 + \operatorname{tg}^2 \alpha}$$

$$\frac{4 \operatorname{tg} \alpha}{1 - \operatorname{tg}^2 \alpha} - \frac{1 - \operatorname{tg}^2 \alpha}{1 + \operatorname{tg}^2 \alpha} = 1$$

$$3 \operatorname{tg} \alpha = t \neq \frac{\pi}{2} + \pi k$$

$$\frac{4t}{1-t^2} - \frac{1-t^2}{1+t^2} = 1$$

$$4t + 4t^3 - 1 + 2t^2 - 1 + t^2 = 2t^4 = 2t^4 - t^4 = t^4$$

$$33 - 4t^3 + 2t^2 + 4t + 2 = 0$$

$$2t^3 + t^2 + 2t + 1 = 0$$

$$= 4k \quad t^2(2t+1) + (2t+1) = 0$$

$$-12k - 11 \neq 0 \quad \Rightarrow k = -12 \quad t = -\frac{1}{2}; \quad t = \pm 1 \Rightarrow t = -\frac{1}{2}$$

$$2^0 \tan 2\beta = -\frac{1}{2}$$

$$\Rightarrow \sin 2\beta = -\frac{1}{\sqrt{5}}$$

$$\frac{2}{\sqrt{5}} \sin 2\alpha + \frac{1}{\sqrt{5}} \cdot \cos 2\alpha = -\frac{1}{\sqrt{5}} \mid \cdot \sqrt{5}$$

$$-6 + 12 + 36 - 12 \quad 6 + 12 = 0 \quad 2 \sin 2\alpha + \cos 2\alpha = -1 \quad \text{Анализировать}$$

ПИСЬМЕННАЯ РАБОТА

$$\frac{4t}{1-t^2} + \frac{1-t^2}{1+t^2} = -1.$$

$$4t + 4t^3 + 1 - 2t^2 + t^4 = t^4 - 1$$

$$\Rightarrow 4t + 4t^3 - 2t^2 = 0.$$

$$\Rightarrow \underline{t = 0; -2}$$

Ответ: $0; -2; -\frac{1}{2}$

№ 6

$$\frac{12x+11}{4x+3} \leq ax+b \leq -8x^2-30x-14$$

$$\begin{cases} ax+b \geq (12x+11)/(4x+3) \\ ax+b \leq -8x^2-30x-14. \end{cases}$$

$$\begin{cases} \frac{4ax^2+4bx+3ax+3b-12x-11}{4x+3} \geq 0. (1) \\ 8x^2+ax+30x+b+14 \leq 0. (2) \end{cases}$$

✗ (1) Заметим, что знамен $4x+3 \leq 0 \Rightarrow x \leq -\frac{3}{4}$.

\Rightarrow числитель дроби ≤ 0 .

$$4ax^2 + 4bx + 3ax - 12x + 3b - 11 \geq 0$$

$$4a \geq 0 \Rightarrow 4bx - 12x + 3b - 11 \geq 0$$

$$4x(b-3) + 3b - 11 \geq 0$$

Заметим, что $4x < 0$. $x = -\frac{11}{4}$

$$\left(\begin{array}{l} \Rightarrow 1^\circ. b < 3: \\ \Rightarrow 3b - 11 \geq 0 \end{array} \right)$$

$$-11b + 33 + 3b - 11 \geq 0$$

$$\Rightarrow 8b + 22 \geq 0$$

$$\Rightarrow b \leq \frac{11}{4}$$

$$\Delta x = -\frac{3}{4}$$

$$\Rightarrow -3b + 9 + 3b - 11 \geq 0$$

$$\begin{array}{l} -2 \geq 0 \\ \emptyset \end{array}$$

$$\Rightarrow \text{Для } a \geq 0: b \leq \frac{11}{4}$$

2.1. $a \neq 0$.

$$\begin{array}{l} \text{---} \bullet \text{---} \rightarrow (1) \end{array} \left. \begin{array}{l} \{ \emptyset \geq 0 \\ \emptyset \geq 0 \end{array} \right\}$$

$$\begin{array}{l} \text{---} \cup \text{---} \rightarrow (2) \end{array} \left. \begin{array}{l} \{ \emptyset \geq 0 \\ \emptyset \geq 0 \end{array} \right\}$$

2.2.

$$\begin{array}{l} \text{---} \rightarrow - (1) \\ \text{---} \cup \text{---} \rightarrow - (2) \end{array} \Rightarrow \left. \begin{array}{l} \{ a, b \in \mathbb{R} \\ \emptyset \geq 0 \end{array} \right\}$$

Ответ: из 2.1. $\Rightarrow a = -2; b = -\frac{1}{2}$

ПИСЬМЕННАЯ РАБОТА

№ 5.

$$F\left(\frac{x}{y}\right) = F(x) + F\left(\frac{1}{y}\right) = F(x) - F(y) < 0$$

$$\Rightarrow F(x) < F(y)$$

$$F(1-x) = F(1) + F(x) \Rightarrow F(1) = 0$$

$$F\left(y - \frac{1}{y}\right) = F(y) + F\left(\frac{1}{y}\right) = 0$$


$$\Rightarrow F(y) = -F\left(\frac{1}{y}\right)$$

x	10	11	12	13	14	15	16	17	18	19	20	21
F(x)	0	0	1	0	1	0	0	2	0	3	0	0
x	22	23	24									
F(x)												

x	2	3	4	5	6	7	8	9	10	11	12	13	14	15
F(x)	0	0	0	1	0	1	0	0	0	2	0	3	0	0

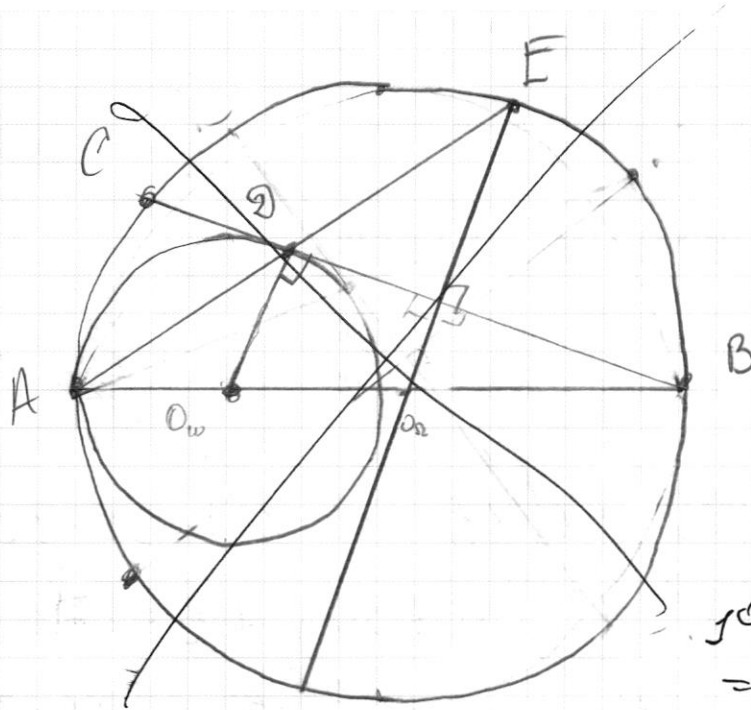
x	16	17	18	19	20	21	22	23	24
F(x)	0	4	0	4	0	0	0	5	0

$$\Rightarrow n = 16 \cdot 4 + 2 \cdot 5 + 4 + 3 + 2 \cdot 1 + 0 = 131$$



черновик чистовик
(Поставьте галочку в нужном поле)

Страница №__
(Нумеровать только чистовики)



$$\sin(2\alpha + 2\beta) = \frac{1}{\sqrt{5}}$$

$$-2 \sin(2\alpha + 2\beta) \cdot \cos 2\beta = \frac{4}{5}$$

$$\Rightarrow \cos 2\beta = \frac{2}{\sqrt{5}}$$

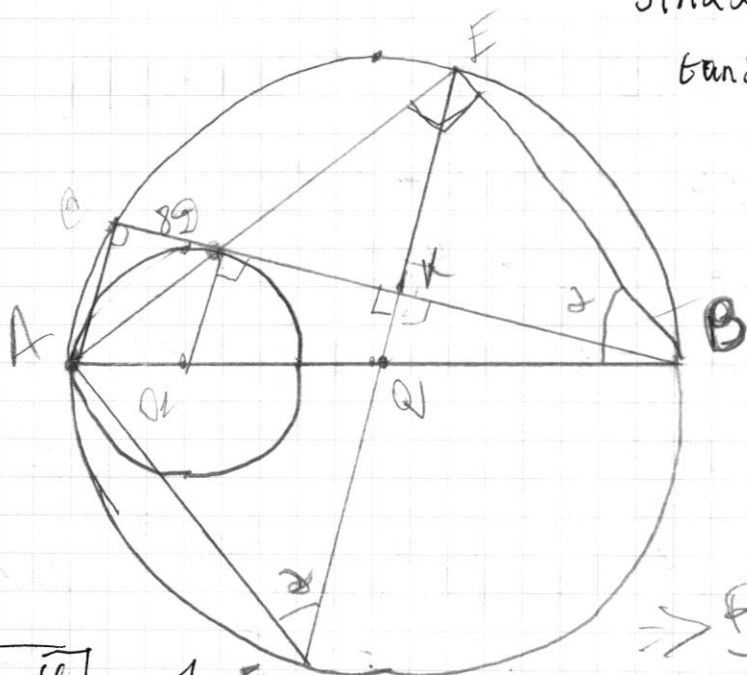
$$\Rightarrow \begin{cases} \operatorname{tg} 2\beta = \frac{1}{2} \\ \operatorname{tg} 2\beta = -\frac{1}{2} \end{cases}$$

$$\sin 2\alpha \cdot \cos 2\beta + \cos 2\alpha \cdot \sin 2\beta = -\frac{1}{\sqrt{5}}$$

$$\text{so } \operatorname{tg} 2\beta = \frac{1}{2}$$

$$\Rightarrow \sin 2\beta = \frac{1}{\sqrt{5}}$$

$$\sin 2\alpha + \frac{1}{2} \cos 2\alpha = -\frac{1}{2}$$



$$\tan \alpha = t$$

$$\Rightarrow \sin 2\alpha = \frac{2t}{1+t^2}$$

$$\cos 2\alpha = \frac{1-t^2}{1+t^2}$$

reager.

$$\tan 2 = 0; -2; -\frac{1}{2}$$

$$\sin^2 \beta = 1 - \frac{4}{5}$$

$$\Rightarrow \frac{R+U}{4} = \frac{14}{8}$$

$$\frac{\sin 2\beta}{\cos 2\beta} = \frac{1}{2} \rightarrow \sin 2\beta = \frac{\cos 2\beta}{2}$$

$$\sin^2 2\beta + \cos^2 2\beta = 1 \quad \text{or } \cos^2 2\beta$$

$$\operatorname{tg}^2 2\beta = \frac{1 - 1}{\cos^2 2\beta}$$

$$\frac{5}{2} - 1$$

$$\sqrt{1 - \frac{4}{5}} = \frac{1}{\sqrt{5}} \sin 2\alpha$$

$$8R - 9U = 0$$

$$R = \frac{9}{8}U \Rightarrow AB = \frac{9}{4}U$$

$$\sin^2 x + \cos^2 x = 1 \quad | : \cos^2 x$$

$$\tan^2 x = \frac{1}{\cos^2 x} - 1$$

ПИСЬМЕННАЯ РАБОТА

$$a_1 = 0 \wedge b \leq \frac{11}{3}$$

$$\frac{16}{\frac{16}{196}}$$

$$\frac{16}{\frac{12}{32} + \frac{16}{102}}$$

~~$$4ax^2 + x(4b+3a-12) + 3b-11 \leq 0$$~~

$$\begin{cases} 4ax^2 + x(4b+3a-12) + 3b-11 \leq 0 \\ 8x^2 + x(a+30) + b+14 \leq 0 \end{cases}$$

$$\Rightarrow \begin{cases} D_1 \leq 0 \\ D_2 \leq 0 \end{cases}$$

$$D_1 = (4b+3a-12)^2 + 44a(11-3b)$$

$$D_2 = (a+30)^2 - 32(b+14)$$

$$D_1 = 16b^2 + 9a^2 + 144 + 24ab - 42a - 122b + 16a(11-3b) + 146a - 42b = 16b^2 + 24ab - 104a - 120b + 144 + 9a^2 \leq 0$$

~~$$4(4b+30a-12)$$~~

$$\log_{12}(x^2 + 18x) + x^2 \geq (x^2 + 18x)^{\log_{12} 23} - 20x$$

$$x^2 + 18x \geq 0$$

$$t \geq 0; t \in (0; 144)$$

$$\log_{12} t + t \geq t^{\log_{12} 13}$$

$$x^2 + 18x \geq 0$$

$$x^2 + 18x < 144$$

$$x \in [-24; -18] \cup [0; 6]$$

~~$$\log_{12} t + t \geq t^{\log_{12} 13}$$~~

$$\log_{12} t + t \geq t^{\log_{12} 13}$$

$$\begin{cases} a^2 - 5ab + 4b^2 = 0 & \Rightarrow a^2 - 4ab - ab + 4b^2 \\ a^2 + 9b^2 = 25. & \Downarrow a(a-4b) - b(a-4b). \end{cases}$$

~~$$3b^2 + 5ab - 25 = 0$$~~
~~$$3b^2 - 5ab + 25 = 0$$~~

$$b^2 + 5ab = 25$$

$$b^2 + ab = 5.$$

~~$$b_1 + b_2 = -a.$$~~

~~$$b_1 \cdot b_2 = -5.$$~~

$$\begin{cases} (a-4b)(a-b) = 0 \\ a^2 + 9b^2 = 25. \end{cases}$$

$$a \geq 2b.$$

$$1^{\circ} a = b$$

$$\Rightarrow 10b^2 = 25 \Rightarrow b^2 = \frac{5}{2} \Rightarrow b = \pm \sqrt{\frac{5}{2}}$$

$$2^{\circ} a = 4b$$

$$\Rightarrow 25b^2 = 25$$

$$\Rightarrow b = \pm 1$$

$$\Rightarrow a = 4; -4.$$

$$\begin{cases} b = 1 \\ \Rightarrow a = 4. \end{cases}$$

~~$$\begin{cases} b = -1 \\ a = -4. \end{cases}$$~~

$$a \geq 2b.$$

$$b = a. \quad -a \geq 0.$$

$$b = -\sqrt{\frac{5}{2}}$$

$$\Rightarrow a = -\sqrt{\frac{5}{2}}$$

~~$$-\sqrt{\frac{5}{2}} - 2\sqrt{\frac{5}{2}} < 0$$~~

~~$$a = \sqrt{\frac{5}{2}}; b = \sqrt{\frac{5}{2}}$$~~

~~$$\sqrt{\frac{5}{2}} - 2\sqrt{\frac{5}{2}} < 0$$~~

ПИСЬМЕННАЯ РАБОТА

№ 2.

$$x - 2y = \sqrt{xy - x^2 - 2y + 2}$$

$$x - 2y = \sqrt{x(y-1) - 2(y-1)}$$

$$x - 2y = \sqrt{(x-2)(y-1)}$$

$$(x-2)^2 + 9(y-1)^2 = 25.$$

$$a \geq 2b$$

$$x-2=a.$$

$$a-2b=x-2y$$

$$y-1=b.$$

$$\begin{cases} a-2b = \sqrt{ab} \\ a^2 + 9b^2 = 25. \end{cases}$$

$$(b; 2)(2 - \sqrt{5}; 1 - \sqrt{5})$$

$$\begin{cases} a^2 - 4ab + 4b^2 = ab, a \geq 2b \\ a^2 + 9b^2 = 25. \end{cases}$$

$$5b^2 - 5ab = 25$$

$$b^2 + ab - 5 = 0$$

~~$$b = a^2 + 20$$~~

$$b^2 + ab - 5 = 0.$$

$$b^2 + 5ab - ab - 5 = 0.$$

$$b^2 + ab - 5 = 0.$$

$$b = a^2 + 20. \geq 0$$

~~$$b(b-a) + 5(ab-1) = 0.$$~~

$$\begin{cases} a^2 - 5ab + 4b^2 = 0 \\ a^2 + 9b^2 = 25. \end{cases}$$

ПИСЬМЕННАЯ РАБОТА

$$4t^3 + 2t^2 + 4t - 2 = 0$$

$$2t^3 + t^2 + 2t - 2 = 0.$$

-1.

$$t^2(2t+1) + 2(t-1).$$

Дальше из

$$N - \frac{11}{4} = \frac{11}{4}.$$

Итого прямая линия прев. крит. точки. (11), и тогда
век. и - 0.

$$-\frac{3}{4}a + b = 1$$

$$a = -2.$$

$$b = -\frac{3}{2}$$

$$-\frac{11}{4}a + b =$$

Итогоём. n цел. а прямой.

$$a = -2; b = -\frac{3}{2}$$

№ 5

$$f\left(\frac{x}{y}\right) = f(x) + f\left(\frac{1}{y}\right) = f(x) - f(y) < 0.$$

$$\Rightarrow f(x) < f(y)$$

$$f(1 \cdot x) = f(1) + f(x) \Rightarrow f(1) = 0.$$

$$f\left(y \cdot \frac{1}{y}\right) = f(y) + f\left(\frac{1}{y}\right) = 0.$$

$$\Rightarrow f(y) = -f\left(\frac{1}{y}\right)$$

X	2	3	4	5	6	7	8	9	10	11	12	13	14	15
f(x)	0	0	0	1	0	1	0	0	0	2	0	3	0	0

X	16	17	18	19	20	21	22	23	24
f(x)	0	4	0	4	0	0	0	5	0

$$\Rightarrow n = 16 \cdot 4 + 2 \cdot 5 + 4 + 3 + 2 \cdot 1 + 0 = \underline{131}$$

$$2\sin 2\alpha + \frac{2\cos 2\beta}{\sqrt{5}} = \frac{-4}{5}$$

~~$$2\sin 2\alpha + \frac{4}{5}\sin 2\alpha$$~~

$$\cos 2\beta = 1 - 2\sin^2 \beta$$

$$\frac{2+4}{1-\sin^2 \alpha} +$$

НОЗ.

$$\begin{cases} x - 2y = \sqrt{(y-1)(x-2)} \\ x^2 + 2y^2 - 4x - 12y = 12 \end{cases}$$

$$\begin{aligned} x &\geq 2y \\ \Rightarrow y &\leq \frac{x}{2} \end{aligned}$$

$$x^2 - 4x + 4 + 2y^2 - 12y + 6 = 12 + 4 + 2$$

$$(x-2)^2 + (2y-3)^2 = 25$$

$$(x-2)^2 + 2(y-1)^2 = 25$$

$$x^2 - 4xy + 4y^2 = xy - 2y - x + 2$$

$$\begin{cases} x-2=a \\ y-1=b \end{cases}$$

$$\Rightarrow \begin{cases} x-2=a \\ 2y-2=2b \end{cases} \Rightarrow x-2y=a-2b$$

$$\begin{cases} a-2b = \sqrt{ab} \\ a^2 - 2b^2 = 25 \end{cases}$$

~~$$y \leq \frac{x}{2}$$~~

$$\Rightarrow a^2 - 4ab + 4b^2 = ab$$

$$a^2 - 5ab + 4b^2 = 0$$

ПИСЬМЕННАЯ РАБОТА

$$\sin(2\alpha + 2\beta) = -\frac{1}{\sqrt{5}}$$

$$\begin{aligned} \cos(2 + \beta) &= \\ &= \cos\alpha \cdot \cos\beta - \sin\alpha \cdot \sin\beta \end{aligned}$$

$$\sin(2\alpha + 4\beta) + \sin 2\alpha = -\frac{4}{5}$$

$\angle \alpha = ?$; определены; $\alpha \neq \pm \frac{\pi}{2} + \pi k$.
... $\approx 33^\circ$.

$$\begin{cases} \sin 2\alpha \cdot \cos 2\beta + \sin 2\beta \cos 2\alpha = -\frac{1}{\sqrt{5}} \\ \sin 2\alpha \cdot \cos 4\beta + \cos 2\alpha \cdot \sin 4\beta + \sin 2\alpha = -\frac{4}{5} \end{cases}$$

$\stackrel{1}{=} 1 - 2\sin^2 2\beta$
 $\stackrel{2}{=} 2\sin 2\beta \cdot \cos 2\beta$

$$\sin 2\alpha \cdot \cos 2\beta + \sin 2\beta \cdot \cos 2\alpha = -\frac{1}{\sqrt{5}}$$

$$\sin 2\alpha - 2\sin^2 2\beta \cdot \sin 2\alpha + 2 \sin 2\beta \cdot \cos 2\beta \cdot \cos 2\alpha + \sin 2\alpha = -\frac{4}{5}$$

$\stackrel{2/\sqrt{5}}{=}$

$$2\sin 2\alpha - 2\sin 2\beta (\sin 2\beta \cdot \sin 2\alpha - \cos 2\beta \cdot \cos 2\alpha) = -\frac{4}{5}$$

$$\begin{cases} 2\sin 2\alpha + 2\sin 2\beta \cdot \cos(2\alpha + 2\beta) = -\frac{4}{5} \\ \sin(2\alpha + 2\beta) = -\frac{1}{\sqrt{5}} \end{cases}$$

$$\sin x = -\frac{1}{\sqrt{5}} \Rightarrow \cos x = \sqrt{1 - \frac{1}{5}} = \frac{2}{\sqrt{5}}$$

ПИСЬМЕННАЯ РАБОТА

№1.

$$\sin(2\alpha + 2\beta) = -\frac{1}{\sqrt{5}}$$

$$\begin{aligned} a^2 - 9ab + 4b^2 &= 0 \\ D &= 9b^2 \\ a_{1,2} &= 5b \end{aligned}$$

$$\sin(2\alpha + 2\beta) + \sin 2\alpha = -\frac{4}{5}$$

$$a = 9b$$

$$\Rightarrow 2 \sin(2\alpha + 2\beta) \cdot \cos 2\beta = -\frac{4}{5\sqrt{5}} = -\frac{\sqrt{5}}{2}$$

$$\Rightarrow \cos 2\beta = \pm \frac{2}{\sqrt{5}} \Rightarrow \sin 2\beta = \pm \frac{1}{\sqrt{5}}$$

$$\rightarrow \tan 2\beta = \pm \frac{1}{2}$$

$$1^{\circ} \tan 2\beta = \frac{1}{2}$$

$$\begin{aligned} y &= 1 - 5\sqrt{10} \\ x &= 2 - 5\sqrt{10} \quad b = -\frac{5}{\sqrt{10}} \\ a &= -\frac{5}{\sqrt{10}} \end{aligned}$$

$$\Rightarrow \sin 2\beta = \frac{1 \cos 2\beta}{2 \cos 2\beta} = \frac{1}{\sqrt{5}}$$

$$\sin 2\alpha \cdot \cos 2\beta - \sin 2\beta \cdot \cos 2\alpha = -\frac{1}{\sqrt{5}}$$

$$\frac{2 \sin 2\alpha}{\sqrt{5}} - \frac{1}{\sqrt{5}} \cos 2\alpha = -\frac{1}{\sqrt{5}} \quad | \cdot \sqrt{5}$$

$$2 \sin 2\alpha - \cos 2\alpha = -1$$

$$3 \cos 2\alpha = 1$$

$$\Rightarrow \sin 2\alpha = \frac{2t}{1-t^2} \Rightarrow \frac{4t}{1-t^2} - \frac{1-t^2}{1+t^2} = -1$$

~~$$\frac{4t + 4t^3 - 1 + t^2}{(1-t^2)(1+t^2)} = -1$$~~

$$t \neq \pm 1$$

$$4t + 4t^3 - 1 + t^2 = 1 - t^2$$

$$5 \log_{12} t - \log_{12} 13 \leq 6$$

$$\begin{aligned} & \left(\log_{12} 13 \right) - 5 \dots \leq t \\ & + \log_{12} 13 - \dots - \log_{12} 5 \leq \log_{12} t \end{aligned}$$

$$t \geq 0$$

$$t \log_{12} \frac{13}{12} - t \log_{12} \frac{5}{12} \leq 1$$

$$\frac{13}{12} \log_{12} t - \frac{5}{12} \log_{12} t \leq 1$$

$$\log_{12} t = a$$

$$\frac{13}{12} a - \frac{5}{12} a \leq 1 \quad | \cdot 12 a$$

$$13 a - 5 a \leq 12 a$$

$$13 a \leq 12 a + 5 a \quad | : 12 a$$

$$(1) \rightarrow \left(\frac{13}{12} \right)^a - \left(\frac{5}{12} \right)^a \leq 1$$

(1) - мон. $\downarrow \Rightarrow \text{IP} \Rightarrow \text{Правдив}$.

$\Rightarrow a \geq 2$ - не выполняется.

$$\Rightarrow a \in (-\infty; 2)$$

$$\log_{12} t \leq 2$$

$$\Rightarrow t \leq 144; \quad t > 0$$

ПИСЬМЕННАЯ РАБОТА

$$5^{\log_{12}(x^2 + 18x)} + x^2 \geq |x^2 + 18x|^{\log_{12} 13} - 18x$$

Обл: $x^2 + 18x \geq 0$. $\frac{+ \quad - \quad +}{-18 \quad 0}$

$x \in (-\infty; -18) \cup (0; +\infty)$.

$$5^{\log_{12}(x^2 + 18x)} + x^2 + 18x \geq |x^2 + 18x|^{\log_{12} 13}$$

$|x^2 + 18x| = t$ $\frac{-18 \quad 0}{+ \quad -}$

$$5^{\log_{12} t} + t \geq |t|^{\log_{12} 13}$$

$$5^{\log_{12} t} + t \geq t^{\log_{12} 13} \quad t(t^{\log_{12} 13 - 1} - 1)$$

$$5^{\log_{12} t} \geq t^{\log_{12} 13} - t \quad -t \cdot \log_{12} \rightarrow t^{\log_{12} 13}$$

$$\log_{12} 5 \cdot \log_{12} t \geq \log_{12} 13 \cdot \log_{12} t$$

$$\log_{12} 5 \cdot \log_{12} t \geq \log_{12} t \cdot \log_{12} 13 \quad \log_{12} \frac{13}{12} = \log_{12} t$$

$$\log_{12} t (\log_{12} 5 - 1 - \log_{12} \frac{13}{12}) \geq 0$$

$\log_{12} 5 < 1$

$$\log_{12} \frac{5}{12} \cdot \log_{12} t \geq 0 \Rightarrow \log_{12} \frac{5}{12} \cdot \frac{13}{12} =$$

$$= \log_{12} \frac{5}{12} < 0$$

$$\Rightarrow \log_{12} t \leq 0 \Rightarrow x^2 + 18x \leq 1$$

$$\Rightarrow t^2 + 18t - 1 \leq 0$$

$$D = 324 + 4 = 328 = 2\sqrt{82}$$

$$\begin{array}{r} 328 \overline{) 4} \\ 32 \\ \hline 8 \end{array}$$

$$x_{1,2} = \frac{-18 \pm 2\sqrt{82}}{2} = -9 \pm \sqrt{82}$$

$$82 \overline{) 2} \\ \hline 41$$

$$\Rightarrow x \in [-9 - \sqrt{82}; -9] \cup [-9; -9 + \sqrt{82}]$$

№ 6

$$\frac{12x+11}{4x+3} \leq ax+b \leq -8x^2 - 30x - 14$$


$$x \in \left[-\frac{11}{4}; -\frac{3}{4}\right]$$

$$\left\{ \begin{array}{l} ax+b \geq \frac{12x+11}{4x+3} \\ ax+b \leq -8x^2 - 30x - 14 \end{array} \right.$$

$$ax+b \leq -8x^2 - 30x - 14$$

$$\frac{4ax^2 + 4bx + 3ax + 3b - 12x - 11}{4x+3} \leq 0$$

$$8x^2 + x(a+30) + b + 14 \leq 0$$

 $4ax^2 + x(4b+3a-12) + 3b-11 \leq 0$

$\nexists a=0$

$$4bx - 12x + 3b - 11 \leq 0 \Rightarrow 4x(b-3) - 11 + 3b \leq 0$$

$$4x(b-3) - 11 + 3b \leq 0$$

$$3b - 11 \leq 0 \Rightarrow b \leq \frac{11}{3}$$

~~1^o: $a = b$~~

~~$\Rightarrow 10a^2 = 25$~~

~~$\Rightarrow a = \pm \sqrt{\frac{5}{2}} \Rightarrow b = \pm \sqrt{\frac{5}{2}}$~~

~~Замечаем, что т.к. $a - 2b = 0 \Rightarrow$~~

~~$a = b = \pm \sqrt{\frac{5}{2}} \rightarrow$ не имеют решения.~~

~~2^o $a = 4b$.~~

~~$\Rightarrow \begin{cases} 25b^2 = 25 \\ 2b = 0 \end{cases} \Rightarrow b = 1 \wedge a = 4.$~~

~~Ответ: $(4; 1)$.~~

ПИСЬМЕННАЯ РАБОТА

№ 2.

$$\begin{cases} x - 2y = \sqrt{xy - x - 2y + 2} \\ x^2 + 9y^2 - 4x - 18y = 12 \end{cases}$$

$$\begin{cases} x - 2y = \sqrt{x(y-1) - 2(y-1)} \\ x^2 - 4x + 4 + 9y^2 - 18y + 9 = 25 \end{cases}$$

$$\begin{cases} x - 2y = \sqrt{(y-1)(x-2)} \\ (x-2)^2 + 9(y-1)^2 = 25 \end{cases}$$

$$\begin{cases} y-1 = b \\ x-2 = a \end{cases} \Rightarrow -2b + a = x - 2y$$

$$\begin{cases} a - 2b = \sqrt{ab} \quad |()^2 \\ a^2 + 9b^2 = 25 \end{cases}$$

$$\begin{cases} a^2 - 4ab + 4b^2 = ab \\ a^2 + 9b^2 = 25 \\ a - 2b \geq 0 \end{cases}$$

$$\Leftrightarrow \begin{cases} a(a-4b) - b(a-4b) \\ a^2 + 9b^2 = 25 \\ a \geq 2b \end{cases}$$

$$\Rightarrow \begin{cases} (a-4b)(a-b) = 0 \\ a^2 + 9b^2 = 25 \\ a \geq 2b \end{cases}$$