

МОСКОВСКИЙ ФИЗИКО-ТЕХНИЧЕСКИЙ ИНСТИТУТ
ОЛИМПИАДА "ФИЗТЕХ" ПО МАТЕМАТИКЕ

11 класс

ВАРИАНТ 1

ШИФР

Заполняется ответственным секретарём

1. [3 балла] Углы α и β удовлетворяют равенствам

$$\sin(2\alpha + 2\beta) = -\frac{1}{\sqrt{5}}; \quad \sin(2\alpha + 4\beta) + \sin 2\alpha = -\frac{4}{5}.$$

Найдите все возможные значения $\operatorname{tg} \alpha$, если известно, что он определён и что этих значений не меньше трёх.

2. [4 балла] Решите систему уравнений

$$\begin{cases} x - 2y = \sqrt{xy - x - 2y + 2}, \\ x^2 + 9y^2 - 4x - 18y = 12. \end{cases}$$

3. [5 баллов] Решите неравенство

$$5^{\log_{12}(x^2+18x)} + x^2 \geq |x^2 + 18x|^{\log_{12} 13} - 18x.$$

4. [5 баллов] Окружности Ω и ω касаются в точке A внутренним образом. Отрезок AB – диаметр большей окружности Ω , а хорда BC окружности Ω касается ω в точке D . Луч AD повторно пересекает Ω в точке E . Прямая, проходящая через точку E перпендикулярно BC , повторно пересекает Ω в точке F . Найдите радиусы окружностей, угол AFE и площадь треугольника AEF , если известно, что $CD = 8$, $BD = 17$.

5. [5 баллов] Функция f определена на множестве положительных рациональных чисел. Известно, что для любых чисел a и b из этого множества выполнено равенство $f(ab) = f(a) + f(b)$, и при этом $f(p) = [p/4]$ для любого простого числа p ($[x]$ обозначает наибольшее целое число, не превосходящее x). Найдите количество пар натуральных чисел $(x; y)$ таких, что $1 \leq x \leq 24$, $1 \leq y \leq 24$ и $f(x/y) < 0$.

6. [5 баллов] Найдите все пары чисел $(a; b)$ такие, что неравенство

$$\frac{12x + 11}{4x + 3} \leq ax + b \leq -8x^2 - 30x - 17$$

выполнено для всех x на промежутке $[-\frac{11}{4}; -\frac{3}{4}]$.

7. [6 баллов] Дана пирамида $ABCD$, вершина A которой лежит на одной сфере с серединами всех её рёбер, кроме ребра AD . Известно, что $AB = 1$, $BD = 2$, $CD = 3$. Найдите длину ребра BC . Какой наименьший радиус может иметь сфера, описанная около данной пирамиды?

ПИСЬМЕННАЯ РАБОТА

N1

$$\sin(2\alpha + 2\beta) = -\frac{1}{\sqrt{5}}; \sin(2\alpha + 4\beta) + \sin 2\alpha = -\frac{4}{5}$$

$$1) \underline{\text{tg } \beta = 0} \Rightarrow \sin(2\beta) = -\frac{1}{\sqrt{5}} \rightarrow \cos(2\beta) = \pm \sqrt{1 - \frac{1}{5}} = \pm \frac{2}{\sqrt{5}}; \sin 2\alpha = 0$$

$$\sin 4\beta = 2 \left(\pm \frac{1}{\sqrt{5}} \right) \cdot \frac{2}{\sqrt{5}} = \pm \frac{4}{5} - \text{не подходит}$$

$$2) \underline{2\alpha + 2\beta = \pi} \Rightarrow \alpha) \beta = \arcsin\left(-\frac{1}{\sqrt{5}}\right) = -\arcsin \frac{1}{\sqrt{5}} \cdot \overset{\text{Пусьб}}{\text{Пусьб}} \sin \beta = +\frac{1}{\sqrt{5}}; \cos \beta = \pm \frac{2}{\sqrt{5}}$$

$$\Rightarrow \sin(2\alpha + 2(-\arcsin \frac{1}{\sqrt{5}} - 2\alpha)) + \sin 2\alpha = -\frac{4}{5}; \sin(2\alpha - 4\alpha - \frac{2 \arcsin \frac{1}{\sqrt{5}}}{2\beta}) + \sin 2\alpha = -\frac{4}{5}$$

$$\sin 2\gamma = \pm \frac{4}{5}; \cos 2\gamma = \pm \frac{3}{5}$$

$$-\sin(2\alpha + 2\gamma) + \sin 2\alpha = -\frac{4}{5}; -\left(\sin 2\alpha \cdot \left(\pm \frac{3}{5}\right) + \cos 2\alpha \cdot \left(\pm \frac{4}{5}\right)\right) + \sin 2\alpha = -\frac{4}{5}$$

$$\sin 2\alpha \left(1 \mp \frac{3}{5}\right) \pm \frac{4}{5} \cos 2\alpha = -\frac{4}{5} \cdot \text{I) } \text{''+''} \text{ :}$$

$$\sin 2\alpha \cdot \frac{8}{5} + \frac{4}{5} \cos 2\alpha = -\frac{4}{5}; 2\sin 2\alpha + \cos 2\alpha = -1$$

$$2 \cdot 2\sin \alpha \cos \alpha + \cos^2 \alpha - \sin^2 \alpha = -\cos^2 \alpha - \sin^2 \alpha; 2\cos^2 \alpha + 4\cos \alpha \sin \alpha = 0$$

$$\text{tg } \alpha \text{ определена} \Rightarrow \cos \alpha \neq 0 \Rightarrow \cos \alpha + 2\sin \alpha = 0 \Rightarrow \underline{\text{tg } \alpha = -\frac{1}{2}}$$

$$\text{II) } \text{''+''} \text{, } \text{''-''} : \frac{8}{5} \sin 2\alpha - \frac{4}{5} \cos 2\alpha = -\frac{4}{5}; 2\sin \alpha \cdot 2\cos \alpha + \cos^2 \alpha + \sin^2 \alpha = -\cos^2 \alpha - \sin^2 \alpha$$

$$2\sin^2 \alpha + 2\sin \alpha \cos \alpha = 0 \rightarrow \begin{cases} \sin \alpha = 0 \Rightarrow \text{tg } \alpha = 0 \\ \text{tg } \alpha = -2 \end{cases}$$

$$\text{III) } \text{''-''} \text{; } \text{''+''} : \frac{8}{5} \sin 2\alpha + \frac{4}{5} \cos 2\alpha = -\frac{4}{5}; 2\sin \alpha \cos \alpha + 2(\cos^2 \alpha - \sin^2 \alpha) = -(\cos^2 \alpha + \sin^2 \alpha)$$

$$2\cos^2 \alpha + \sin \alpha \cos \alpha = 0; \cos \alpha (2\cos \alpha + \sin \alpha) = 0 \rightarrow \text{tg } \alpha = -\frac{1}{2}$$

$$\text{IV) } \text{''-''} \text{, } \text{''-''} : \frac{2}{5} \sin 2\alpha - \frac{4}{5} \cos 2\alpha = -\frac{4}{5}; \sin \alpha \cos \alpha - 2\cos^2 \alpha + \sin^2 \alpha = -2\cos^2 \alpha - \sin^2 \alpha$$

$$2\sin^2 \alpha + \sin \alpha \cos \alpha = 0 \rightarrow \begin{cases} \sin \alpha = 0 \rightarrow \text{tg } \alpha = 0 \\ \text{tg } \alpha = -\frac{1}{2} \end{cases}$$

прог. на стр 2

$$\delta) 2\alpha + 2\beta = \pi - \arcsin\left(-\frac{1}{\sqrt{5}}\right) = \pi + \arcsin\frac{1}{\sqrt{5}} = \pi + \gamma$$

$$\sin(2\alpha + 4\beta) = \sin(2\alpha + 2(\pi + \gamma - 2\alpha)) = \sin(-2\alpha + 2\pi + 2\gamma) = \sin(2\gamma - 2\alpha)$$

$$-\frac{4}{5} = \sin 2\alpha + \left(\pm \frac{4}{5}\right) \cdot \cos 2\alpha - \left(\pm \frac{3}{5}\right) \cdot \sin 2\alpha$$

$$\sin 2\alpha \left(1 \pm \frac{3}{5}\right) \pm \frac{4}{5} \cos 2\alpha = -\frac{4}{5} \quad \text{— то же уравнение, что в а)}$$

$$\Rightarrow \text{все решения, что есть — } \operatorname{tg} \alpha = -2; \operatorname{tg} \alpha = -\frac{1}{2}; \operatorname{tg} \alpha = 0$$

$$\text{Ответ: } -2; -\frac{1}{2}; 0$$

$$\begin{cases} x-2y = \sqrt{xy-x-2y+2} \\ x^2+9y^2-4x-18y=12 \end{cases} \quad \sqrt{2} \quad ; \quad \begin{cases} (x-2y) = \sqrt{(x-2)(y-1)} \\ x^2-4x+4+9(y^2-2y+1)=25 \end{cases}$$

$$\begin{cases} (x-2)^2 + 9(y-1)^2 = 25 \quad (1) \\ |x-2| \leq 5, |y-1| \leq \frac{5}{3} \end{cases}$$

$$\begin{cases} x-2y = \sqrt{(x-2)(y-1)} \quad (2) \\ \Rightarrow -3 \leq x \leq 7; -\frac{2}{3} \leq y \leq \frac{8}{3} \end{cases}$$

$$(2) \quad x > 2y; \quad \begin{cases} x \leq 2; y \leq 1 \\ x > 2; y > 1 \end{cases}$$

$$\text{Сделаем замену: } a=x-2, b=y-1 \Rightarrow \begin{cases} a+2-2y-1 = \sqrt{ab} \\ a^2+9b^2=25 \end{cases}$$

$$\begin{cases} a-2b = \sqrt{ab} \\ a^2+b^2 \cdot 9 = 25 \end{cases}, \quad \boxed{a > 2b}; \quad \begin{cases} a^2+4b^2-4ab = ab \\ a^2+9b^2 = 25 \end{cases} \quad \begin{matrix} -5 \leq a \leq 5 \\ -\frac{5}{3} \leq b \leq \frac{5}{3} \end{matrix}$$

$$9b^2-4b^2+5ab=25; \quad \frac{1}{5}b(b+a)=\frac{25}{5}; \quad \begin{cases} a=4 \\ b=1 \end{cases} \quad \text{удовл. условию:}$$

$$\begin{cases} 4-2 = \sqrt{4} = 2 \quad \text{— верно} \\ 4^2+9 = 25 \quad \text{— верно.} \end{cases} \Rightarrow \begin{cases} x=6 \\ y=2 \end{cases}$$

$$a = \frac{5-b^2}{b}, \quad 25 = 9b^2 + \frac{25+b^4-10b^2}{b^2} \quad | \cdot b^2 \neq 0$$

$$25b^2 = 9b^4 + 25 + b^4 - 10b^2; \quad 10b^4 - 35b^2 + 25 = 0$$

$$\Rightarrow \begin{cases} b^2 = 1 \\ b^2 = \frac{5}{2} \end{cases} \rightarrow \begin{cases} b = \pm 1 \\ b = \pm \frac{\sqrt{10}}{2} \end{cases}, \quad \frac{5}{2} < \frac{25}{9} \rightarrow \pm \frac{\sqrt{10}}{2} \in \left[-\frac{5}{3}, \frac{5}{3}\right]$$

Типог. на листе 3
стр

$$b = -1 \rightarrow a = \frac{5-1}{-1} = -4; \quad a-2b = -4+2 < 0 \rightarrow \text{не подходит.}$$

$b = 1$ подходит (проверено ранее)

$$b = \frac{\sqrt{10}}{2}; \quad a = \frac{5 - \frac{5}{2}}{\frac{\sqrt{10}}{2}} = \frac{5}{\sqrt{10}} = \frac{5\sqrt{10}}{10} = \frac{\sqrt{10}}{2} = b$$

$a-2b < 0$ - не подходит. " $\sqrt{(\frac{\sqrt{10}}{2})^2}$ "

$$b = -\frac{\sqrt{10}}{2} \rightarrow a = b = -\frac{\sqrt{10}}{2}; \quad a-2b = -\frac{\sqrt{10}}{2} + 2 \cdot \frac{\sqrt{10}}{2} = \frac{\sqrt{10}}{2} = \sqrt{\frac{\sqrt{10} \cdot \sqrt{10}}{2 \cdot 2}} - \text{верно}$$

$$\frac{5}{2} + 9 \cdot \frac{5}{2} = \frac{50}{2} = 25 - \text{верно} \rightarrow \text{подходит. ; a}$$

$$a = b = -\frac{\sqrt{10}}{2} \rightarrow x = 2 + \frac{\sqrt{10}}{2}; \quad y = 1 - \frac{\sqrt{10}}{2}$$


$$\text{Ответ: } (b; 2); \quad (2 - \frac{\sqrt{10}}{2}; 1 - \frac{\sqrt{10}}{2})$$

$$5 \log_{12} (x^2 + 18x) + x^2 \geq |x^2 + 18x| \log_{12} 13 - 18x, \quad x^2 + 18x > 0 \rightarrow \text{модуль можно опустить.}$$

пусть $t = x^2 + 18x, \quad t > 0$

$$\rightarrow 5 \log_{12} t + t \geq t \log_{12} 13 \quad (*)$$

$5 \log_{12} t + t$ растет быстрее, чем $t \log_{12} 13$; все др-ции растут монотонно.



неравенство верно при всех $t > 0 \Rightarrow x(x+18) > 0 \Rightarrow$ 

$x \in (-\infty; -18) \cup (0; +\infty)$ - условия $t > 0$ мон. уб-ва: $a \log_a b = b$; $a \log_b c = \log_b c \cdot a$

$t \uparrow$ при $x > 0$; $t \downarrow$ при $x \in (-\infty; -18)$

при $t \geq 1$ (*) очевидно верно. ~~или~~ при $t = 13^2$: $5 \log_{12} t + t = t \log_{12} 13$.

$5 \cdot 2 + 144 = 12 \log_{12} 13^2$; $25 + 144 = 169$, при $t > 144$ нерав-во неверно.

$\Rightarrow t \in (0; 144]$; $\begin{cases} x^2 + 18x \geq 0 \quad (1) \\ x^2 + 18x - 144 \leq 0 \quad (2) \end{cases} \rightarrow$  

$\Rightarrow x \in (0; 24]$

Ответ: $x \in (0; 24]$

ПИСЬМЕННАЯ РАБОТА

№5

$$f(ab) = f(a) + f(b), \quad a, b \in \mathbb{R}; \quad a, b > 0; \quad f(p) = \left[\frac{p}{4} \right]$$

$$f(1) = 0; \quad f(2) = 0; \quad f(3) = 0; \quad f(5) = 1; \quad f(7) = 1; \quad f(11) = 2; \quad f(13) = 3;$$

$$f(17) = 4; \quad f(19) = 4; \quad f(23) = 5 \quad \text{где } p \in [1; 24]$$

$$f(4) = f(2 \cdot 2) = 0; \quad f(6) = f(2 \cdot 3) = 0; \quad f(8) = 0; \quad f(9) = 0; \quad f(10) = 1; \quad f(12) = 0;$$

$$f(14) = 1; \quad f(15) = 1; \quad f(16) = 0; \quad f(18) = 0; \quad f(20) = 1; \quad f(21) = 1; \quad f(22) = 2$$

$$f(24) = 0$$

$$f\left(\frac{1}{c}\right) = -f(c) \quad \text{— свойство мультипликативности, т.к. } f(a^k) = k f(a)$$

$$f\left(\frac{x}{y}\right) = f(x) - f(y). \quad \text{Если } f(x) = 0, \text{ тогда для } \forall y: f(y) \neq 0:$$

$$\forall y \in \{5; 7; 11; 13; 17; 19; 23; 10; 14; 15; 20; 21; 22\} \quad \text{— 13 шт.}$$

$$f(x) = 0 \quad \text{или} \quad x \in \{1; 2; 3; 4; 6; 8; 9; 12; 16; 18; 24\} \quad \text{— 11 шт.}$$

$$n_1 = 11 \cdot 13 = 143 \quad \text{— кол-во пар в этом случае}$$

$$\text{Если } f(x) = 1, \text{ то } y \in \{11; 13; 17; 19; 23, 22\}, \quad x \in \{5; 7; 10; 14; 15; 20; 21\}$$

$$n_2 = 6 \cdot 7 = 42$$

$$\text{Если } f(x) = 2, \text{ то } x \in \{11; 22\}; \quad y \in \{13; 17; 19; 23\} \rightarrow n_3 = 2 \cdot 4 = 8$$

$$\text{Если } f(x) = 3, \text{ то } x = 13; \quad y \in \{17; 19; 23\} \rightarrow n_4 = 3$$

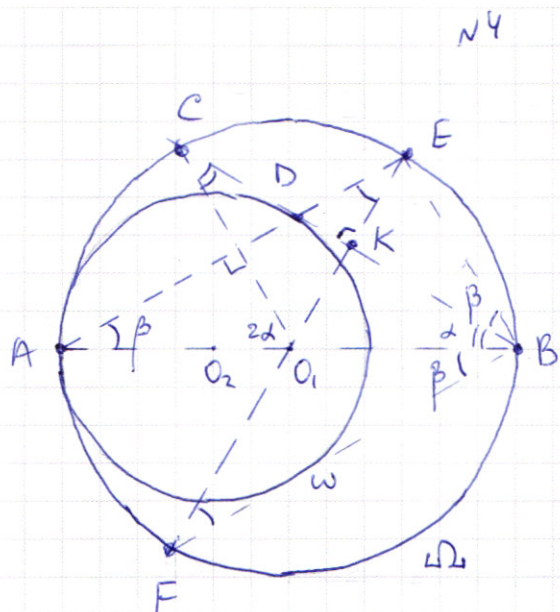
$$\text{Если } f(x) = 4, \text{ то } x \in \{17; 19\} \rightarrow y = 23 \rightarrow n_5 = 2$$

$$\text{Если } f(x) = 5, \text{ то } \nexists y \in [1; 24]: f(y) > f(x).$$

$$\Rightarrow n = n_1 + n_2 + n_3 + n_4 + n_5 = 143 + 42 + 8 + 3 + 2 = 143 + 55 = 198$$

Ответ: 198.

ПИСЬМЕННАЯ РАБОТА



1) чет-к $AEBF$ вписан в Ω

$\Rightarrow \angle FAE = \angle AEB$, но $\angle AEB = 90^\circ$, тк.

ок ошр. на диаметр $AB \Rightarrow$

EF - тоже диаметр.

$EF \perp BC \Rightarrow K \in EF \cap BC$ -

середина BC . $CK = BK = \frac{CD + BD}{2} = \frac{25}{2}$
по св-ву пересекающихся хорд

$$AD \cdot DE = CD \cdot DB = 8 \cdot 17$$

$AEBF$ - прямоугольник

$$BO_2 = R + R - r = 2R - r, \quad R - \text{радиус } \Omega; \quad r - \text{радиус } \omega$$

по т. Пифагора для ΔO_2AB :

$$r^2 + 17^2 = (2R - r)^2 = 4R^2 - 4Rr + r^2$$

$$4R^2 - 4Rr - 17^2 = 0$$

$\angle CO_1B = \angle BOC = \alpha$, тк. ΔO_1CB р/д.

$\angle ABF = \angle BAE = \angle O_1EA = \angle O_1FB$ по св-ву прямоугольника.

$\angle FEB = 90^\circ - \beta$; $\angle KEB + \angle KBE = 90^\circ \Rightarrow \angle KBE = \beta \Rightarrow \alpha + 2\beta = 90^\circ$ ($\angle B = 90^\circ$)

по т. синусов для ΔO_1CB : $\frac{25}{2 \sin \alpha \cos \alpha} = \frac{R}{\sin \alpha}$

$$\angle AFE = 90^\circ - \beta = \alpha + \beta.$$

парал-и с \perp или диагоналями и
равными сторонами.

$$CO_1 \parallel EB \perp AE \Rightarrow 2\alpha = \alpha + \beta \Rightarrow CO_1BE - \text{ромб}; \quad EB = CO_1 = R \Rightarrow$$

ΔO_1EB р/с $\Rightarrow \alpha + \beta = 60^\circ = \angle AFE$; $\alpha = \beta = 30^\circ$

$$R \cos \alpha = \frac{25}{2} \Rightarrow R = \frac{25}{\sqrt{3}}$$

Прод. на листе б

№4, прог.

$$4Rr = 4R^2 - 17^2; \quad r = \frac{4 \cdot \frac{625}{3} - 289}{4 \cdot \frac{25}{\sqrt{3}}} = \frac{1633 \cdot \sqrt{3}}{300}$$

$$S_{AEF} = \frac{1}{2} AF \cdot AE, \text{ т.к. } \angle FAE = 90^\circ$$


$$AF = 2R \cdot \sin \alpha = R = \frac{25}{\sqrt{3}}; \quad AE = 2R \cdot \cos \alpha = 2 \cdot \frac{25}{\sqrt{3}} \cdot \frac{\sqrt{3}}{2} = 25$$

$$S_{AEF} = \frac{1}{2} \cdot \frac{25^2}{\sqrt{3}} = \frac{625\sqrt{3}}{6}$$

Ответ: $\angle AFE = 60^\circ$; $R = \frac{25}{\sqrt{3}}$; $r = \frac{1633\sqrt{3}}{300}$; $S_{AEF} = \frac{625\sqrt{3}}{6}$

№6

$$\frac{12x+11}{4x+3} \leq ax+b \leq -8x^2-30x-17 \quad \text{" } g(x) \text{ "}; \quad \frac{12x+11}{4x+3} = 3 + \frac{2}{4x+3} = f(x)$$

$3 + \frac{2}{4x+3}$  увеличивается с ростом x , $y=3$ — гориз. асимптота;
 $x = -\frac{3}{4}$ — вертикальная асимптота

$-8x^2-30x-17$ — параболы с ветвями вниз. $x_0 = -\frac{30}{16} = -\frac{15}{8}$ — вершина.

$$-\frac{15}{8} \in \left[-\frac{11}{4}; -\frac{3}{4}\right); \quad y_0 = -8 \cdot \frac{15^2}{8^2} + 30 \cdot \frac{15}{8} - 17 = \frac{225-17 \cdot 8}{8} = \frac{225-136}{8} = \frac{89}{8}$$

$$g\left(-\frac{11}{4}\right) = -8 \cdot \frac{11^2}{16} + 30 \cdot \frac{11}{4} - 17 = \frac{11}{4} \cdot 8 - 17 = 5$$

$$f\left(-\frac{11}{4}\right) = 3 + \frac{2}{-11+3} = 3 - \frac{1}{4} = \frac{11}{4} < g\left(-\frac{11}{4}\right) \Rightarrow \text{крайний случай:}$$

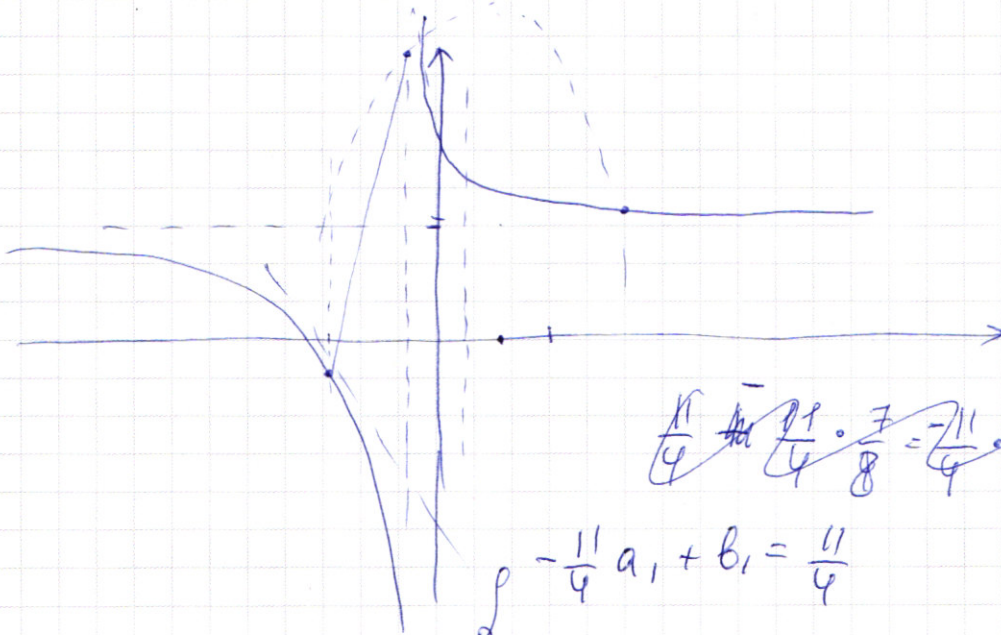
$$ax+b = f\left(-\frac{11}{4}\right) = \frac{11}{4}; \quad f(x) < g(x) \text{ при } x \in \left[-\frac{11}{4}; \frac{3}{4}\right)$$

$$a_1 x + b_1: \quad a_1 \left(-\frac{3}{4}\right) + b_1 = g\left(-\frac{3}{4}\right) = -8 \cdot \frac{9}{16} + 30 \cdot \frac{3}{4} - 17 = \frac{72}{4} - 17 = 14$$

$$a_1 \left(\frac{11-3}{4}\right) = 1 - \frac{11}{4} = -\frac{7}{4} \rightarrow a_1 = -\frac{7}{8} \rightarrow b_1 = 14 + \frac{7}{8} \cdot \frac{3}{4} = 14 + \frac{21}{32} = 14\frac{11}{32}$$

прог. на стр 7

ПИСЬМЕННАЯ РАБОТА



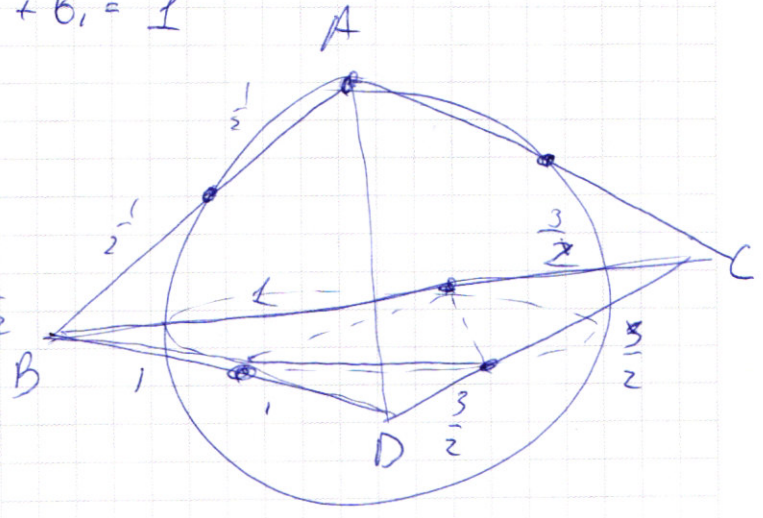
$$\frac{11}{4} \cdot \frac{7}{8} = \frac{77}{32} = \frac{77}{32} \cdot \frac{3}{3} = \frac{231}{96}$$

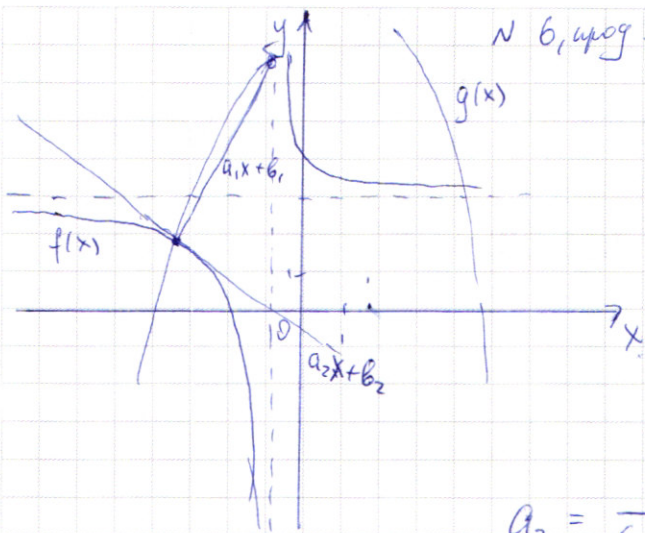
$$\begin{cases} -\frac{11}{4} a_1 + b_1 = \frac{11}{4} \\ -\frac{3}{4} a_1 + b_1 = 1 \end{cases}$$

$$a_1 \left(\frac{-3+11}{4} \right) = \frac{4-11}{4} = -\frac{7}{8}$$

$$b_1 = \frac{11}{4} \left(1 - \frac{7}{8} \right) = \frac{11}{4} \cdot \frac{1}{8} = \frac{11}{32}$$

$$b_1 = 1 - \frac{3}{4} \cdot \frac{7}{8} = \frac{32-21}{32}$$





$a_2x + b_2$: касат. к $f(x)$ в точке $x = -\frac{11}{4}$.

$$a_2 = \left(\frac{2}{4x+3}\right)' = 2 \cdot ((4x+3)^{-1})' = 2 \cdot \frac{1}{(4x+3)^2} \cdot 4 = \frac{-8}{(4x+3)^2};$$

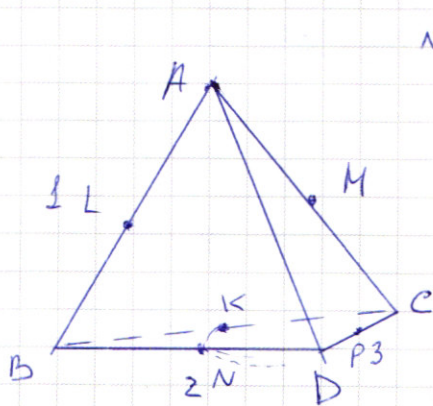
$$a_2 = \frac{-8}{(-11+3)^2} = -\frac{1}{8}$$

$$b_2 = \frac{11}{4} + \frac{11}{4} \cdot \frac{1}{8} = \frac{7}{8} \cdot \frac{11}{4} = \frac{77}{32}$$

т.ообр. $a \in \left[-\frac{7}{8}; -\frac{1}{8}\right]$, $b = \frac{11}{4}(1+a)$;

$$b \in \left[\frac{11}{32}; \frac{77}{32}\right]$$

Ответ: $a \in \left[-\frac{7}{8}; -\frac{1}{8}\right]$; $b = \frac{11}{4}(1+a)$; $b \in \left[\frac{11}{32}; \frac{77}{32}\right]$



N 7
BC, CD и BD
Все стороны пирамиды, кроме AD

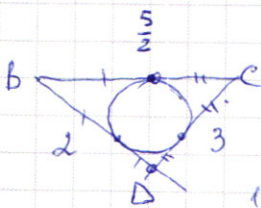
касательная сферы.

$$BC = BK + KC.$$

КК BC, CD, D, K, N, P лежат в одной плоскости $\Rightarrow CP = CK = \frac{3}{2}$ по св. вы

касательных; $BK = BN = 1 \Rightarrow BC = 1 + \frac{3}{2} = \frac{5}{2}$

Омс. сфера будет иметь, если $\triangle BCD$ вписан в большее сечение.



$$\frac{3}{\sin \angle DBC} = 2R \Rightarrow R \rightarrow \min, \text{ если } \sin \angle DBC \rightarrow \max$$

$$\angle DBC \text{ по т. косинусов: } 3^2 = \frac{25}{4} + 4 - 2 \cdot \frac{5}{2} \cdot \cos \angle DBC$$

$$\frac{1}{4} = \frac{25}{4} - 5 \cos \angle DBC \Rightarrow \cos \angle DBC = \frac{1}{8}; \sin \angle DBC = \frac{3\sqrt{7}}{8}$$

$$R = \frac{3 \cdot 8}{2 \cdot 3\sqrt{7}} = \frac{4}{\sqrt{7}}$$

Ответ: $BC = \frac{5}{2}$; $R = \frac{4}{\sqrt{7}}$

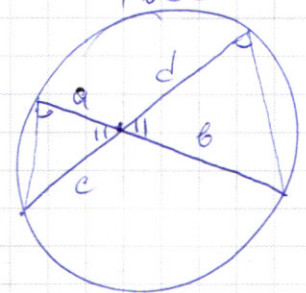
$f(1)=0; f(2)=0; f(3)=0; \cancel{f(4)=0} \quad f(5)=1; f(7)=1; f(11)=2; f(13)=3;$
 $f(\frac{x}{y}) = f(x) + f(y); \quad f(\frac{1}{y}) = -f(y) \quad f(17)=4; f(19)=4; f(23)=5$

$f(4)=0; f(6)=0; f(8)=0; f(9)=0; f(10)=1; f(12)=0; f(14)=1$
 $f(15)=1; f(16)=0; f(18)=0; f(20)=1; f(21)=1; f(22)=2; f(24)=0$
 $f(b^{-1}) = -f(b)$

$f(ab) = f(a \cdot \frac{1}{c}) = f(a) + f(\frac{1}{c})$

$2400 + 100 = 2500$
 $\frac{289 \cdot 23}{867} = \frac{6647}{867}$

$a + \frac{1}{2} - 2(b+1) = \sqrt{ab}; \quad a - 2b = \sqrt{ab}$



$a^2 + 4b^2 - 4ba = ab; \quad a^2 - 5ab + 4b^2 = 0$

$a^2 + 9b^2 = 25$

$3 + \frac{2}{-11+3} = 3 + \frac{z'}{z_4} = \frac{11}{4}$

$9b^2 + 5ab - 4b^2 - 25$

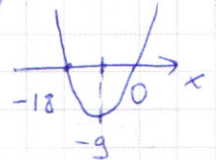
$5b^2 + 5ab = 25; \quad b^2 + ab = 5; \quad a = \frac{5-b^2}{b}$

$\frac{25}{b^2} + b^2 - \frac{10}{b} + 9b^2 = 25; \quad \frac{25}{b^2} + 10b^2 - 10 = 25$

$10(b^2 - 1) = 25(1 - \frac{1}{b^2})$

$\frac{17}{17}$
 $\frac{11}{9}$

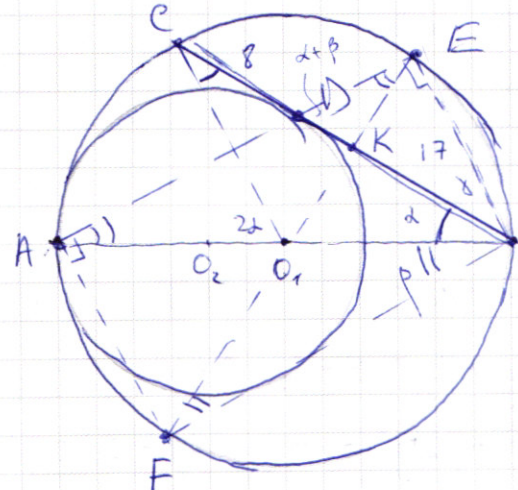
$\begin{cases} x > 0 \\ x < -18 \end{cases}$



$5 \log_{12}(x^2 + 18x) + x^2 \geq |x^2 + 18x| \log_{12} \frac{17}{3^8 9} - 18x$

$t = x^2 + 18x; \quad 5 \log_{12} t + t \geq t \log_{12} 13$

$5 \log_{12} t + t(1 - \log_{12} 13) \geq 0 \quad \log_5 \log_{12} t \geq \log_5 (t^{\log_{12} 13} - t)$



$CK = KB = 12,5 \quad (EF - \text{гипот})$

$ED \cdot DA = 8 \cdot 17$

$90 - \beta = \alpha + \gamma + \beta + \beta$

$(R + R - r)^2 + r^2 = 17^2$

$\alpha + 3\beta + \gamma = 90^\circ$

$4R^2 + r^2 - 4Rr + r^2 = 17^2$

$\alpha + \beta + \gamma = 90^\circ$

$2\beta = 90^\circ$

$4 \cdot \frac{25^2}{3} = 17^2$

ПИСЬМЕННАЯ РАБОТА

$$\sin(2\alpha + 2\beta) = -\frac{1}{\sqrt{5}}; \quad \sin(2\alpha + 4\beta) + \sin 2\alpha = -\frac{1}{\sqrt{5}} \cdot \cos 2\beta + \frac{2}{\sqrt{5}} \sin 2\beta + \sin 2\alpha = -\frac{4}{5}$$

$$\cos(2\alpha + 2\beta) = \sqrt{1 + \frac{1}{5}} = \sqrt{\frac{4}{5}} = \pm \frac{2}{\sqrt{5}}$$

$$1) \quad \underline{4\alpha = 0} \rightarrow \sin(2\beta) = -\frac{1}{\sqrt{5}} \Rightarrow \sin 4\beta = -\frac{1}{\sqrt{5}} \cdot 2 \cdot \frac{2}{\sqrt{5}} = -\frac{4}{5}$$

$$\sin 2\alpha \cdot \cos 2\beta + \cos 2\alpha \cdot \sin 2\beta = -\frac{1}{\sqrt{5}}$$

$$\sin 2\alpha \cdot \cos 4\beta + \cos 2\alpha \cdot \sin 4\beta + \sin 2\alpha = -\frac{4}{5}$$

$$\sin \alpha \cos \beta + \cos \alpha \sin \beta$$

"

$$2 \sin \alpha \cdot \cos \beta = \sin(\alpha + \beta) + \sin(\alpha - \beta)$$

$$\sin \alpha \cos \beta - \cos \alpha \sin \beta$$

$$\sin \alpha + \sin \beta = 2 \sin \frac{\alpha + \beta}{2} \cdot \cos \frac{\alpha - \beta}{2}$$

$$\text{Или } -\frac{1}{\sqrt{5}} - \frac{4}{5} = 2 \sin(4\alpha + 6\beta) \cdot \cos(2\beta) = -\frac{4 + \sqrt{5}}{5}$$

$$\sin \gamma = \frac{1}{\sqrt{5}}; \quad \cos \gamma = \pm \frac{2}{\sqrt{5}}$$

$$\sin 2\gamma = \pm \frac{4}{5}; \quad \cos 2\gamma = \pm \frac{3}{5}$$

$$\sin(2\alpha + 2(-\arcsin \frac{1}{\sqrt{5}} - 2\alpha)) + \sin 2\alpha = -\frac{4}{5}$$

$$\sin(2\alpha - 2\arcsin \frac{1}{\sqrt{5}} - 4\alpha) + \sin 2\alpha = -\sin(2\alpha + 2\arcsin \frac{1}{\sqrt{5}}) + \sin 2\alpha =$$

$$= (\sin 2\alpha \cdot \cos(2\arcsin \frac{1}{\sqrt{5}}) + \cos 2\alpha \cdot \sin(2\arcsin \frac{1}{\sqrt{5}})) + \sin 2\alpha =$$

$$= \sin 2\alpha \cdot (\pm \frac{3}{5}) + \cos 2\alpha \cdot (\pm \frac{4}{5}) + \sin 2\alpha = -\frac{4}{5}$$

$$\sin 2\alpha (1 \pm \frac{3}{5}) \pm \frac{4}{5} \cos 2\alpha = -\frac{4}{5} \quad 1) \quad \pm: \frac{4}{5} \sin 2\alpha + \frac{4}{5} \cos 2\alpha = -\frac{4}{5}$$

$$2 \sin 2\alpha + \cos 2\alpha = -1; \quad 2 \sin \alpha \cdot \cos \alpha + \cos^2 \alpha - \sin^2 \alpha = -\cos^2 \alpha - \sin^2 \alpha$$

$$2 \cos^2 \alpha + 4 \cos \alpha \sin \alpha = 0; \quad 2 \cos \alpha (\cos \alpha + 2 \sin \alpha) = 0$$

$$3(y^2 - 2y + 1)$$

$$\begin{cases} x - 2y = \sqrt{xy - x - 2y + 2} \\ x^2 - 4x + 4 + 9y^2 - 18y = 16 \end{cases}$$

$$x^2 + 4y^2 - 4xy = xy - 2y - x + 2$$

$$x^2 - 3xy + 4y^2 + x + 2y - 2 = 0$$

$$(x - 2)^2 + 9(y - 1)^2 = 25$$

$$x - 2y = \sqrt{(x - 2)(y - 1)}$$

$$x(x - y + 1) + 2y^2(-x + 2y + 1) - 2 = 0$$

ПИСЬМЕННАЯ РАБОТА

~~5 + 12~~

$$5 \log_{12} 5 + 12 \log_{12} 13$$

$$\log_{12} 5 + 12 \log_{12} 13$$

при $t > 1$ очевидно верно.

$$25 + 144 \geq 12 \cdot 2 \log_{12} 13 = 169$$

$$125 + 12^3 \geq 13^3$$

$$13^3 - 12^3 = a^3 - b^3 = (a-b)(a^2 + ab + b^2) = 1 \cdot (144 + 169)$$

$$5^{-1} + \frac{1}{12} \geq 12 \log_{12} \frac{1}{13}$$

$$\frac{1}{25} + \frac{1}{144} \geq \frac{1}{169}$$

$$169^2 \geq 144 \cdot 25 = 60^2$$

$$x \in (-\infty; -18) \cup (0; +\infty)$$

$$x^2 - 18x \in (0; 144]$$

$$0 < x^2 - 18x \leq 144$$

~~при $t > 1$~~

$$f(a^k) = k \cdot f(a)$$

$$f(a^{-k+1}) = f(a^{-k} \cdot a^1) = -k \cdot f(a) + (-1) \cdot f(a)$$

$$x^2 - 18x - 144 = 0$$

$$\begin{cases} x^2 - 18x \geq 0 \\ x^2 - 18x \leq 144 \end{cases}$$

$$D_1 = 81 + 144 = 225 = 15^2$$

$$D_1 = 81 + 144 = 225 = 15^2$$

$$x = 24; -6$$

$$9 + 18 + 4$$

