

МОСКОВСКИЙ ФИЗИКО-ТЕХНИЧЕСКИЙ ИНСТИТУТ
ОЛИМПИАДА "ФИЗТЕХ" ПО МАТЕМАТИКЕ

11 класс

ВАРИАНТ 1

ШИФР _____

Заполняется ответственным секретарём

1. [3 балла] Углы α и β удовлетворяют равенствам

$$\sin(2\alpha + 2\beta) = -\frac{1}{\sqrt{5}}; \quad \sin(2\alpha + 4\beta) + \sin 2\alpha = -\frac{4}{5}.$$

Найдите все возможные значения $\operatorname{tg} \alpha$, если известно, что он определён и что этих значений не меньше трёх.

2. [4 балла] Решите систему уравнений

$$\begin{cases} x - 2y = \sqrt{xy - x - 2y + 2}, \\ x^2 + 9y^2 - 4x - 18y = 12. \end{cases}$$

3. [5 баллов] Решите неравенство

$$5^{\log_{12}(x^2+18x)} + x^2 \geq |x^2 + 18x|^{\log_{12} 13} - 18x.$$

4. [5 баллов] Окружности Ω и ω касаются в точке A внутренним образом. Отрезок AB – диаметр большей окружности Ω , а хорда BC окружности Ω касается ω в точке D . Луч AD повторно пересекает Ω в точке E . Прямая, проходящая через точку E перпендикулярно BC , повторно пересекает Ω в точке F . Найдите радиусы окружностей, угол AFE и площадь треугольника AEF , если известно, что $CD = 8$, $BD = 17$.

5. [5 баллов] Функция f определена на множестве положительных рациональных чисел. Известно, что для любых чисел a и b из этого множества выполнено равенство $f(ab) = f(a) + f(b)$, и при этом $f(p) = [p/4]$ для любого простого числа p ($[x]$ обозначает наибольшее целое число, не превосходящее x). Найдите количество пар натуральных чисел $(x; y)$ таких, что $1 \leq x \leq 24$, $1 \leq y \leq 24$ и $f(x/y) < 0$.

6. [5 баллов] Найдите все пары чисел $(a; b)$ такие, что неравенство

$$\frac{12x + 11}{4x + 3} \leq ax + b \leq -8x^2 - 30x - 17$$

выполнено для всех x на промежутке $[-\frac{11}{4}; -\frac{3}{4}]$.

7. [6 баллов] Дана пирамида $ABCD$, вершина A которой лежит на одной сфере с серединами всех её рёбер, кроме ребра AD . Известно, что $AB = 1$, $BD = 2$, $CD = 3$. Найдите длину ребра BC . Какой наименьший радиус может иметь сфера, описанная около данной пирамиды?

ПИСЬМЕННАЯ РАБОТА

$$\textcircled{3} \quad 5^{\log_{12}(x^2+18x)} + x^2 \geq |x^2+18x|^{\log_{12} 13} - 18x \quad \log_{12}(x^2+18x) = t$$

$$5^{\log_{12}(x^2+18x)} + x^2 + 18x \geq |x^2+18x|^{\log_{12} 13} \quad x^2+18x = 12^t$$

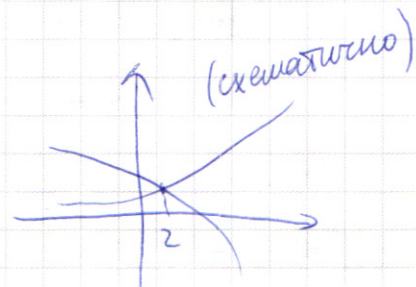
$$5^{\log_{12}(x^2+18x)} + x^2 + 18x \geq (x^2+18x)^{\log_{12} 13} \quad \text{ОДЗ: } x^2+18x > 0$$

$$5^t + 12^t \geq 12^{t \log_{12} 13} \quad : 12^t > 0$$

$$\left(\frac{5}{12}\right)^t + 1 \geq 12^{t \log_{12} \frac{13}{12}}$$

Заметим, что при $t=2$ - равенство

$$f(x) = \left(\frac{5}{12}\right)^t + 1 \quad \downarrow \text{(убывает)} \quad g(x) = \left(\frac{13}{12}\right)^t \quad \uparrow \text{(возрастает)} \Rightarrow$$



$$\Rightarrow \text{при } t \leq 2 \quad \left(\frac{5}{12}\right)^t + 1 \geq \left(\frac{13}{12}\right)^t$$

$$\log_{12}(x^2+18x) \leq 2$$

$$x^2+18x \leq 144$$

$$x^2+18x-144 \leq 0 \quad \Delta = 81+144 = 225 = (15)^2 \Rightarrow x_1 = -9+15 = 6$$

$$x_2 = -9-15 = -24$$

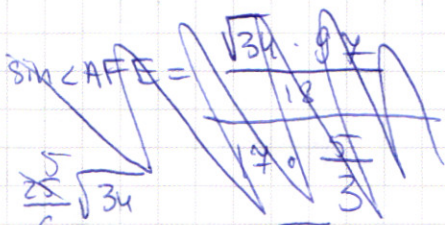
$$\Rightarrow x \in [-24; 6], \text{ но еще учтем ОДЗ } (x^2+18x > 0) \Rightarrow$$

$$\Rightarrow x \in [-24; -18) \cup (0; 6]$$

$$\text{Ответ: } x \in [-24; -18) \cup (0; 6]$$

ПИСЬМЕННАЯ РАБОТА

$$\frac{EA}{\sin \angle AFE} = 2R$$



$$\sin \angle AFE = \frac{EA}{2R} = \frac{6}{\frac{2 \cdot 5}{3} \sqrt{34}} = \frac{5 \sqrt{34}}{34} = \frac{5}{\sqrt{34}}$$

$$\angle CAD = \angle DAF = \alpha$$

(т.к. $AC \perp BC$ $EF \perp BC \Rightarrow AC \parallel EF$)

$$\sin \alpha = \frac{CD}{AD} = \frac{8}{\frac{8}{3} \sqrt{34}} = \frac{3}{\sqrt{34}} = \sin \angle AEF \quad \frac{AF}{\sin \alpha} = 2R \quad AF = \frac{17.5}{3} \cdot \frac{85}{\sqrt{34}}$$

$$\cos \angle AEF = \sqrt{1 - \frac{9}{34}} = \frac{5}{\sqrt{34}} = \sin \angle AFE \Rightarrow$$

\Rightarrow $\triangle AFE$ - прямоугольный $\angle EAF = 90^\circ$

$$\begin{aligned} \text{Тогда } S_{\triangle FAE} &= \frac{AF \cdot AE}{2} = \frac{\frac{85}{\sqrt{34}} \cdot \frac{25}{6}}{2} = \\ &= \frac{85 \cdot 25}{12} = \frac{2125}{12} \end{aligned}$$

Замечание: в то же время, что AD - диаметр окружности $\perp AB$ - касательная

$\angle KAC = \angle ABC = \beta$ $AK = KD$ (отрезки касат.) $\Rightarrow \angle ADK = \alpha + \beta = \angle KAD$
(т.к. \angle между кас и хорд)

$$\angle ADB = 180 - (\alpha + \beta) \quad \angle DAB = 180 - (180 - (\alpha + \beta)) - \beta = \alpha \Rightarrow \angle CAD = \alpha$$

$$\text{Ответ: } R_{\odot} = \frac{85}{6} \quad R_{\omega} = \frac{136}{15}$$

$$\angle AFE = \arcsin \frac{5}{\sqrt{34}}$$

$$S_{AFE} = \frac{2125}{12}$$

89

6) $\frac{12x+11}{4x+3} = 3 + \frac{2}{x+\frac{3}{4}} = 3 + \frac{1}{2(x+\frac{3}{4})}$ - гипербола с вертикальной асимптотой $x = -\frac{3}{4}$ и горизонтальной осью $y = 3$

$\sqrt{2,5} \approx 1,7$
1,7

$y = -8x^2 - 30x - 17$
 $x_D = \frac{30}{-16} = -\frac{15}{8}$

$y_D = -\frac{8 \cdot 225}{8 \cdot 8} + \frac{15 \cdot 15}{4} - 17 =$

$= \frac{250}{8} - \frac{225}{8} - 17 = \frac{225}{8} - 17 =$

$= \frac{225 - 136}{8} = 89$

$-\frac{3}{4}a + b \leq 1$

$-17 + \frac{11}{4}a + b \leq 5$

$2 - \frac{2}{3}$

$\frac{24}{24} \frac{24}{24} \frac{96}{96} \frac{48}{48} \frac{576}{576}$

$9(y-1)^2 = \frac{24^2}{25}$

$(y-1)^2 = \left(\frac{24}{3 \cdot 5}\right)^2$

$y-1 = \frac{24}{15}$

$y-1 = -\frac{24}{15}$

$y = 1 - \frac{24}{15} =$

$y = x - 1$

$y = \frac{3}{5} - 1 = -\frac{2}{5}$

ПИСЬМЕННАЯ РАБОТА

$$\textcircled{2} \begin{cases} x - 2y = \sqrt{xy - x - 2y + 2} \\ x^2 + 9y^2 - 4x - 18y = 12 \end{cases} \begin{cases} x^2 - 4xy + 4y^2 = xy - x - 2y + 2 \\ (x-2)^2 + 9(y-1)^2 = 25 \end{cases}$$

$$4y^2 - 5xy + 2y + x^2 + x - 2 = 0$$

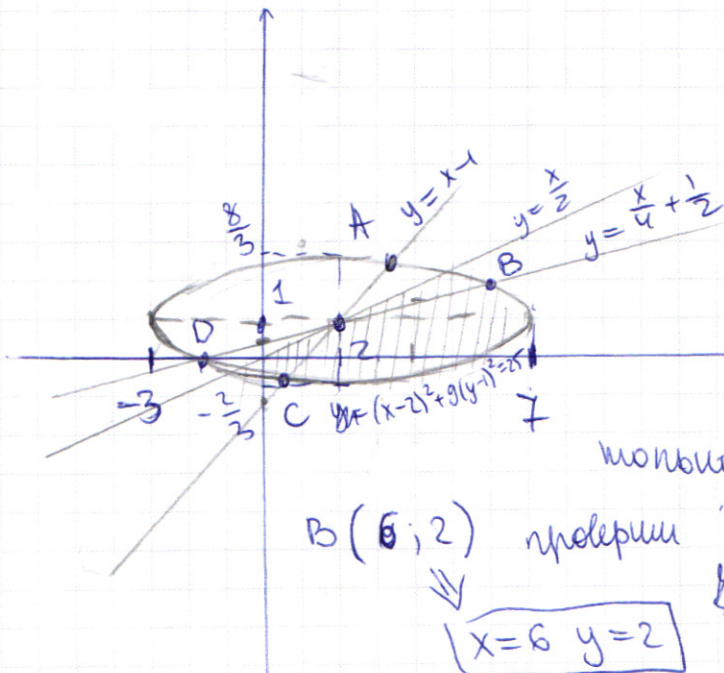
$$4y^2 - y(5x - 2) + x^2 + x - 2 = 0$$

$$D = 25x^2 - 20x + 4 - 16x^2 - 16x + 32 = 9x^2 - 36x + 36 = (3x - 6)^2$$

~~у ≠ 0~~

$$y = \frac{5x - 2 + 3x - 6}{8} = x - 1$$

$$y = \frac{5x - 2 - 3x + 6}{8} = \frac{2x + 4}{8} = \frac{x}{4} + \frac{1}{2}$$



Заметим, что $x - 2y \geq 0$

$$\text{Т.к. } x - 2y = \sqrt{xy - x - 2y + 2}$$

$$y \leq \frac{x}{2}$$

Тогда заметим,

что нам подходит

только точки B и C

$$B(6; 2) \text{ проверим } 4^2 + 9 \cdot 1^2 = 25 \text{ по } x$$

$$\Rightarrow \boxed{x=6 \quad y=2}$$

$$xy - x - 2y + 2 > 0 \quad (x-2)(y-1) > 0 \Rightarrow \text{при } x < 2 \quad y < 1$$

~~$$\frac{49}{25} + 9(y-1)^2 = 25$$

$$9(y-1)^2 = \frac{625-49}{25} = \frac{576}{25}$$

$$(y-1)^2 = \left(\frac{24}{5}\right)^2$$

$$y = 1 + \frac{24}{5}$$

$$y = 1 - \frac{24}{5} = \frac{5-24}{5} = -\frac{19}{5} = -\frac{3}{5}$$~~

Для точки C

$$y = x - 1$$

$$(x-2)^2 + 9(x-1-1)^2 = 25$$

$$10(x-2)^2 = 25$$

$$(x-2)^2 = \frac{25}{10} = \frac{5}{2}$$

~~$$x-2 = \sqrt{\frac{5}{2}}$$

$$x-2 = -\sqrt{\frac{5}{2}}$$~~

т.к. x (из графика) \rightarrow ~~корень~~ \leftarrow ~~из~~ $x-2 = \sqrt{\frac{5}{2}}$ не подходит

$$x = 2 - \sqrt{\frac{5}{2}} \quad y = x - 1 = 2 - \sqrt{\frac{5}{2}} - 1 = 1 - \sqrt{\frac{5}{2}}$$

~~$$y = x - 1 = 2 - \sqrt{\frac{5}{2}} - 1 = 1 - \sqrt{\frac{5}{2}}$$~~

Ответ: $(6; 2)$, $(2 - \sqrt{\frac{5}{2}}; 1 - \sqrt{\frac{5}{2}})$

ПИСЬМЕННАЯ РАБОТА

$$\textcircled{1} \sin(2\alpha + 2\beta) = -\frac{1}{\sqrt{5}} = \sin 2\alpha \cos 2\beta + \sin 2\beta \cos 2\alpha \quad (1)$$

$$\sin(2\alpha + 4\beta) + \sin 2\alpha = -\frac{4}{5} \quad \Rightarrow \quad \cos^2 2\beta$$

$$\ominus \sin 2\alpha \cos 4\beta + \cos 2\alpha \sin 4\beta + \sin 2\alpha = \sin 2\alpha (\cos^2 2\beta - \sin^2 2\beta + 1) + \cos 2\alpha \sin 4\beta =$$

$$= 2\sin 2\alpha \cdot \cos^2 2\beta + 2\cos 2\alpha \sin 2\beta \cdot \cos 2\beta =$$

$$= 2\cos 2\beta (\underbrace{\sin 2\alpha \cos 2\beta + \sin 2\beta \cos 2\alpha}_{\text{из (1)}}) \Rightarrow$$

$$-\frac{1}{\sqrt{5}} \text{ из (1)}$$

$$\Rightarrow 2\cos 2\beta \cdot \left(-\frac{1}{\sqrt{5}}\right) = -\frac{4}{5} \quad 2\cos 2\beta = \frac{4}{\sqrt{5}}$$

$$\cos 2\beta = \frac{2}{\sqrt{5}} \quad \sin 2\beta = \frac{4}{5}$$

$$|\sin 2\beta| = \frac{1}{\sqrt{5}}$$

Подставим в 1) пусть $\sin 2\beta > 0$

$$\sin 2\alpha \cdot \frac{2}{\sqrt{5}} + \frac{1}{\sqrt{5}} \cdot \cos 2\alpha = -\frac{1}{\sqrt{5}}$$

$$2\sin 2\alpha + \cos 2\alpha = -1$$

$$2\sin \alpha \cos \alpha + 2\cos^2 \alpha - 1 = -1$$

$$4\sin \alpha \cos \alpha = -2\cos^2 \alpha$$

$$\frac{\sin \alpha}{\cos \alpha} = -\frac{1}{2} = \operatorname{tg} \alpha$$

2) $\sin 2\beta < 0$

$$\sin 2\alpha \cdot \frac{2}{\sqrt{5}} - \frac{1}{\sqrt{5}} \cos 2\alpha = -\frac{1}{\sqrt{5}} \quad | \cdot \sqrt{5}$$

$$2\sin 2\alpha - \cos 2\alpha = -1$$

$$4 \sin \alpha \cos \alpha - (1 - \sin^2 \alpha) = -1$$

$$4 \sin \alpha \cos \alpha = \sin^2 \alpha$$

$$1) \sin \alpha = 0$$

$$2) \sin \alpha \neq 0$$

$$\operatorname{tg} \alpha = 0$$

$$4 \cos \alpha = 2 \sin \alpha$$

$$\operatorname{tg} \alpha = 2$$

$$\text{Ответ: } \operatorname{tg} \alpha = 0, \operatorname{tg} \alpha = -\frac{1}{2}, \operatorname{tg} \alpha = 2$$

5) Заметим, что $f(p) > 0$ т.к. $p > 0$ $\lceil p/4 \rceil > 0$

$$f(a) = f(a) + f(b)$$

можно заметить так, что a и b простое

$$\Rightarrow f > 0$$

Ответ: таких нет

ПИСЬМЕННАЯ РАБОТА

$$\sin(2\alpha + 2\beta) = -\frac{1}{\sqrt{5}} \quad \sin(2\alpha + 4\beta) + \sin 2\alpha = -\frac{4}{5}$$

$$\sin 2\alpha \cos 2\alpha + \cos 2\alpha \sin 2\alpha \quad \sin 2\alpha \cos 4\beta + \cos 2\alpha \sin 4\beta + \sin 2\alpha = -\frac{4}{5}$$

$$2 \sin(\alpha + \beta) \cos(\alpha + \beta) = \sin 2\alpha (\cos^2 2\beta - \sin^2 2\beta + 1)$$

$$= 2 \sin \alpha \cos \beta (\cos^2 \alpha + \cos \beta - \sin \alpha \sin \beta) \quad \cos^2 2\beta - \sin^2 2\beta + 1 = \cos^2 \beta$$

$$\sin(2\alpha + 4\beta) + \sin 2\alpha = \sin 2\alpha \cos 4\beta + \cos 2\alpha \sin 4\beta + \sin 2\alpha = \cos^2 2\beta$$

$$= \sin 2\alpha (\cos 4\beta + 1) + \cos 2\alpha \sin 4\beta = \sin 2\alpha (\cos^2 2\beta - \sin^2 2\beta + 1) + \cos 2\alpha \sin 4\beta = 2 \sin 2\alpha \cos^2 2\beta + 2 \sin 2\alpha \cos^2 2\beta = 4 \sin 2\alpha \cos^2 2\beta$$

$$\begin{cases} x - 2y = \sqrt{xy - x - 2y + 2} = \sqrt{x(y-1) - 2(y-1)} = \sqrt{(x-2)(y-1)} \\ x^2 + 9y^2 - 4x - 18y = 12 \end{cases}$$

$$x^2 + 9y^2 - 4x - 18y = 12$$

$$(x^2 - 4x + 4) + (3y^2 - 2 \cdot 3y \cdot 3 + 9) = 25$$

$$(x-2)^2 + (3y-3)^2 = 25$$

$$(x-2)^2 + 9(y-1)^2 = 25$$

~~Анализ~~

$$x - 2y = \sqrt{(x-2)(y-1)}$$

$$(y-1)^2 = \frac{25}{9} \quad x - 2y \geq 0$$

$$y-1 = \frac{5}{3} \quad y \leq \frac{x}{2}$$

$$x^2 - 4xy + 4y^2 = xy - x - 2y + 2$$

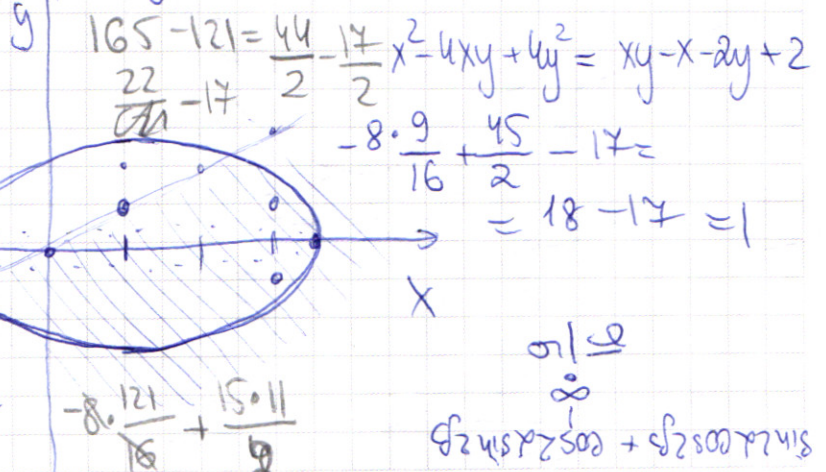
$$x - 2y = \sqrt{(x-2)(y-1)}$$

$$(x-2y)^2 = (x-2)(y-1) \quad | \cdot 6 \quad \frac{1-5}{3}$$

$$(y-1)^2 = \frac{25}{9}$$

$$y-1 = \frac{5}{3} \quad y = \frac{8}{3} \quad y-1 = -\frac{5}{3}$$

$$(x-2+3y-1)^2 = 6(x-2y)^2 + 25$$



$(x-2)^2 + 9(y-1)^2 = 25$
 $x-2y = \sqrt{(x-2)(y-1)}$

$$5 \log_{12}(x^2+18x) + x^2 \geq (x^2+18x) \log_{12} 13 - 18x$$

$$5 \log_{12}(x^2+18x) + x^2 + 18x \geq (x^2+18x) \log_{12} 13$$

$$5t + 12t \geq 12 \cdot t \cdot \log_{12} 13 \quad | :12t$$

$$\left(\frac{5}{12}\right)^t + 1 \geq \log_{12} \frac{13}{12}$$

\Rightarrow \perp перевернем

$t=2$ решение

$$x + \frac{3}{4} = -\frac{2}{3}$$

$$\frac{8}{9} \sqrt{34} = \frac{9 \sqrt{34}}{9}$$

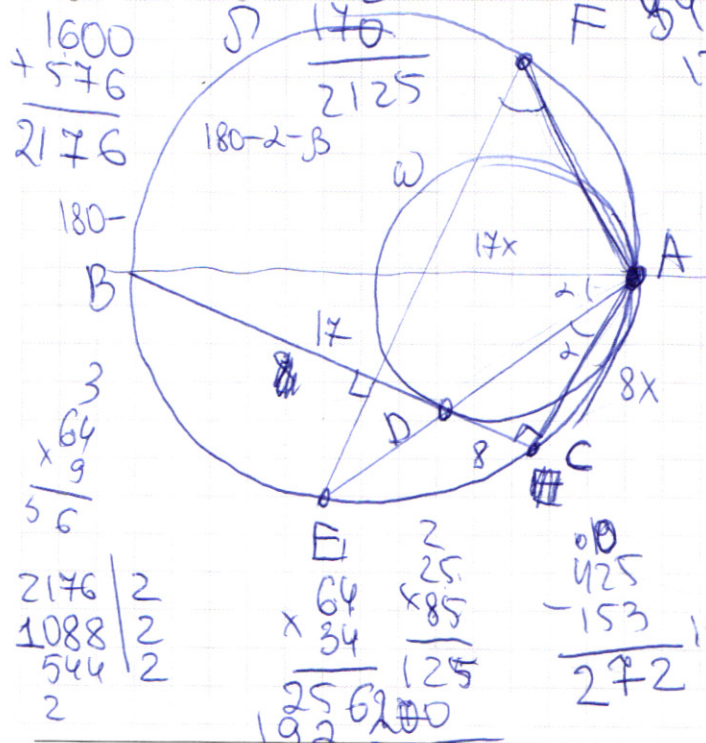
$$x = -\frac{2}{3} - \frac{3 \cdot 3}{4} = 2$$

$$x = \frac{-8-9}{12} = -\frac{17}{12}$$

$$\frac{AC}{AK} = \frac{AB}{AK}$$

$$5 \cdot 2 = 10$$

$$180 - 90 + \alpha + \beta - 2 = \frac{425}{25}$$



$$\begin{array}{r} 1600 \\ + 576 \\ \hline 2176 \end{array}$$

$$\begin{array}{r} 2176 | 2 \\ 1088 \\ \hline 544 \\ \hline 2 \end{array}$$

2176

$$\log_{12}(x^2+18x) = t$$

$$\log_{12}(x^2+18x) = 12t$$

$$t(\log_{12} 13) - t = x^2 + 18x$$

$$= t(\log_{12} 13 - 1) = x^2 + 18x$$

$$= t(\log_{12} \frac{13}{12})$$

$$5y^2 + 5xy = 5x + 20y + 10$$

$$5y^2 + 5xy = 5x + 20y + 10$$

$$y^2 + xy = x + 4y + 2$$

$$y^2 + xy - x - 4y - 2 = 0$$

$$\log_{12}(x^2+18x) \leq 2$$

$$x^2 + 18x \leq 144$$

$$x^2 + 2 \cdot 9x - 144 \leq 0$$

$$D = 81 + 144 = 225 = (15)^2$$

$$x_1 = -9 + 15 = 6$$

$$x_2 = -9 - 15 = -24$$

$$\Rightarrow x \in (-24; -18) \cup (0; 6)$$

$$64x^2 + 289x^2 = 625$$

$$353x^2 = 625$$

$$225x^2 = 625$$

$$x^2 = \frac{25 \cdot 25}{15 \cdot 15} = \frac{25}{9}$$

$$x = \frac{5}{3} \Rightarrow AC =$$

$$\frac{CK}{AK} = \frac{AK}{BK}$$

$$\frac{289}{64} = \frac{AK}{225}$$

$$AK = \frac{289 \cdot 225}{64}$$

ПИСЬМЕННАЯ РАБОТА

$x^2 - 2xy + y^2 = 5xy - x - 2y + 2 \quad | : 6$
 $x^2 + 9y^2 = 4x + 18y + 12$

$f(ab) = f(a) + f(b)$
 $f(p) = \left[\frac{p}{4} \right]$ где \neq крестиков
 $1 \leq x \leq 24$
 $1 \leq y \leq 24$

$f\left(\frac{x}{y}\right) > 0$
 $f(7) = 2$
 $f(7) = f(1) + f(7)$
 $f(7) = 0$
 $f(15) = f(1) + f(15)$

$5x^2 + 15y^2 = 30xy - 10x - 30y \quad | : 5$
 $x^2 + 3y^2 = 6xy - 2x - 6y$

$(x + 3y)(y + x) = x^2 + 3xy + 3y^2 + x^2 + 3xy = x^2 + 3y^2 + 4xy$
 $y = \frac{8}{3}$
 $3y - 3 = 5$
 $3y - 3 = -5$
 $y = -\frac{2}{3}$

$10xy - 2x - 6y$
 $2(5xy - x - 3y)$
 $5y^2 = 5x + 20y - 5xy + 10$

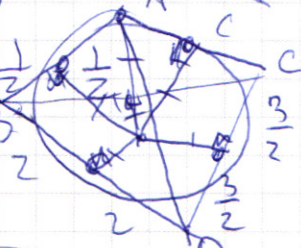
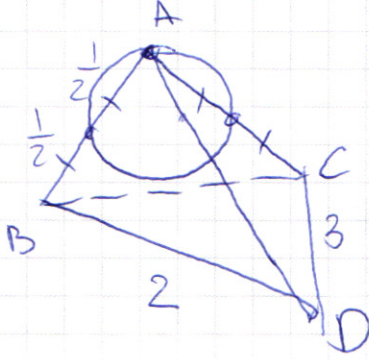

$(y-x)(5y-x)$
 $(ax-b)(ay-d)$
 $ad - bc = adx + bdy - bcx - adx$

$x=2$
 $9(y-1)^2 = 25$
 $(y-1) = \pm \frac{5}{3}$
 $y = \frac{8}{3}$
 $y = 1$

$x^2 + 9y^2 = 4x + 18y + 12$
 $x^2 - 2xy + y^2 = 5xy - x - 2y + 2$

$x^2 - x(5y+1)$
 $x^2 - 2xy + y^2 = xy - x - 2y + 2$
 $x^2 - 3xy + y^2 + x + 2y - 2 = 0$
 $x = \frac{3y \pm \sqrt{9y^2 - 4(y^2 + y - 2)}}{2}$
 $x = \frac{3y \pm \sqrt{5y^2 + 4y - 8}}{2}$

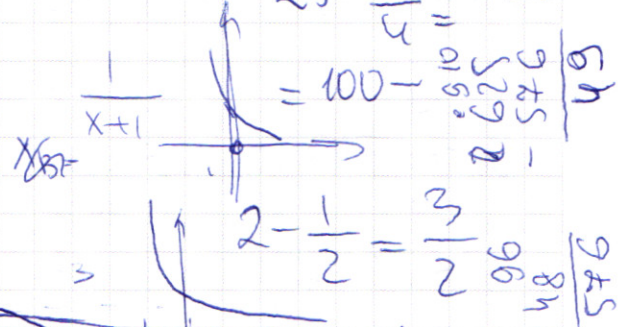
$$y = \frac{1}{2} - \frac{1}{2} = -\frac{1}{2} \quad \left(\frac{1}{2} - 2\right) = \left(\frac{3}{2}\right)^2 = \frac{9}{4}$$



$$\frac{12\left(-\frac{11}{4}\right) + 11}{4\left(-\frac{11}{4}\right) + 3} = \frac{-33 + 11}{-11 + 3} = \frac{-22}{-8} = \frac{11}{4}$$

$$g(y-1)^2 =$$

$$25 - \frac{9}{4} = 4$$



$$\frac{25 \cdot 16 - 25}{16} = \frac{25 \cdot 15}{16 \cdot 9}$$

$$\frac{25}{16}$$

$$\frac{5}{4}$$

$$2 - \frac{3}{4} = \frac{5}{4}$$

$$\frac{3}{4}$$

$$\frac{25 \cdot 8}{9 \cdot 9}$$

$$\frac{25 \cdot 9 - 25}{9}$$

$$\frac{25}{9}$$

$$2 - \frac{1}{3} =$$

$$2 - \frac{1}{3} =$$

$$x^2 - 4xy + 4y^2 = xy - x - 2y + 2$$

$$\sqrt{y(x-2) - (x-2)} = \sqrt{(y-1)(x-2)}$$

$$x^2 - 4xy + 4y^2 = xy - x - 2y + 2 + 8xy$$

$$(x+2y)^2 = 9xy - (x+2y) + 2$$

$$(x+2y)^2 (x+2y-1)(x+2y) = 9x$$

$$f(ab) = f(2) + f(3)$$

$$xy - x - 2y + 2 > 0$$

$$(x-2)$$

$$\frac{12x+11}{4x+3} \leq ax+b \leq -8x^2 - 30x - 17$$

$$\frac{12x+11}{4x+3}$$

$$x_B = \frac{30}{-16} = -\frac{15}{8}$$

$$D = 225 - 136 = 89$$

$$-(8x^2 + 30x + 17)(y-1)$$

$$\frac{12x+11}{4x+3} \leq ax+b \leq -8x^2 - 30x - 17$$

$$3 + \frac{2}{4x+3} \leq ax+b \leq$$

$$3 + \frac{1}{2\left(x + \frac{3}{4}\right)} \leq ax+b \leq -8x^2 - 30x - 17$$

$$3 + \frac{1}{2\left(\frac{11}{4} + \frac{3}{4}\right)} = 2\frac{3}{4}$$

$$\frac{12x+11}{4x+3} = -8x^2 - 30x - 17$$

$$= 3 + \frac{1}{2 - \frac{2}{11}} =$$

$$\frac{9}{4} \cdot \frac{25 - \frac{9}{4}}{4} = \frac{100 - 9 \cdot \frac{9}{4}}{4} = \frac{100 - \frac{81}{4}}{4} = \frac{400 - 81}{16} = \frac{319}{16}$$

$$\frac{5}{4} = \frac{9 \cdot 17}{4} = \frac{153}{4}$$

$$136 g(y-1) = \frac{91}{4}$$

$$\frac{625}{16} - \frac{64}{16} = \frac{561}{16}$$

$$2 - \frac{1}{5} = \frac{9}{5}$$

$$2 - a = \frac{1}{5} \Rightarrow a = 2 - \frac{1}{5} = \frac{9}{5}$$