

МОСКОВСКИЙ ФИЗИКО-ТЕХНИЧЕСКИЙ ИНСТИТУТ
ОЛИМПИАДА "ФИЗТЕХ" ПО МАТЕМАТИКЕ

11 класс

ВАРИАНТ 2

ШИФР _____

Заполняется ответственным секретарём

1. [3 балла] Углы α и β удовлетворяют равенствам

$$\sin(2\alpha + 2\beta) = -\frac{1}{\sqrt{5}}; \quad \sin(2\alpha + 4\beta) + \sin 2\alpha = -\frac{2}{5}.$$

Найдите все возможные значения $\operatorname{tg} \alpha$, если известно, что он определён и что этих значений не меньше трёх.

2. [4 балла] Решите систему уравнений

$$\begin{cases} x - 12y = \sqrt{2xy - 12y - x + 6}, \\ x^2 + 36y^2 - 12x - 36y = 45. \end{cases}$$

3. [5 баллов] Решите неравенство

$$10x + |x^2 - 10x|^{\log_3 4} \geq x^2 + 5^{\log_3(10x - x^2)}.$$

4. [5 баллов] Окружности Ω и ω касаются в точке A внутренним образом. Отрезок AB – диаметр большей окружности Ω , а хорда BC окружности Ω касается ω в точке D . Луч AD повторно пересекает Ω в точке E . Прямая, проходящая через точку E перпендикулярно BC , повторно пересекает Ω в точке F . Найдите радиусы окружностей, угол AFE и площадь треугольника AEF , если известно, что $CD = \frac{15}{2}$, $BD = \frac{17}{2}$.

5. [5 баллов] Функция f определена на множестве положительных рациональных чисел. Известно, что для любых чисел a и b из этого множества выполнено равенство $f(ab) = f(a) + f(b)$, и при этом $f(p) = [p/4]$ для любого простого числа p ($[x]$ обозначает наибольшее целое число, не превосходящее x). Найдите количество пар натуральных чисел $(x; y)$ таких, что $2 \leq x \leq 25$, $2 \leq y \leq 25$ и $f(x/y) < 0$.

6. [5 баллов] Найдите все пары чисел $(a; b)$ такие, что неравенство

$$\frac{16x - 16}{4x - 5} \leq ax + b \leq -32x^2 + 36x - 3$$

выполнено для всех x на промежутке $[\frac{1}{4}; 1]$.

7. [6 баллов] Дана пирамида $KLMN$, вершина N которой лежит на одной сфере с серединами всех её рёбер, кроме ребра KN . Известно, что $KL = 3$, $KM = 1$, $MN = \sqrt{2}$. Найдите длину ребра LM . Какой наименьший радиус может иметь сфера, описанная около данной пирамиды?

ПИСЬМЕННАЯ РАБОТА

№1

$$\sin(2\alpha + 2\beta) = -\frac{1}{\sqrt{5}} \quad \sin(2\alpha + 4\beta) + \sin 2\alpha = -\frac{2}{5}$$

$\text{tg} \alpha = ?$

$$\sin 2(\alpha + \beta) = -\frac{1}{\sqrt{5}} \Rightarrow \sin(\alpha + \beta) \cos(\alpha + \beta) = -\frac{1}{2\sqrt{5}}$$

$$\sin(2\alpha + 4\beta) + \sin 2\alpha = 2 \sin 2(\alpha + \beta) \cos 2\beta = -\frac{2}{5}$$

$$\cos 2\beta = -\frac{1}{5} \cdot \frac{1}{\sin(2\alpha + 2\beta)} = -\frac{1}{5} \cdot -\sqrt{5} = \frac{1}{\sqrt{5}}$$

$$2\beta = \begin{cases} \arccos \frac{1}{\sqrt{5}} + 2\pi n \\ -\arccos \frac{1}{\sqrt{5}} + 2\pi n \end{cases}, n \in \mathbb{Z}$$

$$2\alpha + 2\beta = \arcsin\left(-\frac{1}{\sqrt{5}}\right) + 2\pi k, k \in \mathbb{Z} \quad \text{или} \quad 2\alpha + 2\beta = \pi - \arcsin\left(-\frac{1}{\sqrt{5}}\right) + 2\pi k$$

$$\alpha = \begin{cases} \frac{-\arcsin \frac{1}{\sqrt{5}} - \arccos \frac{1}{\sqrt{5}} + 2\pi(k-n)}{2} \\ \frac{\arccos \frac{1}{\sqrt{5}} - \arcsin \frac{1}{\sqrt{5}} + 2\pi(k-n)}{2} \end{cases} \quad \alpha = \begin{cases} \frac{\pi + \arcsin \frac{1}{\sqrt{5}} - \arccos \frac{1}{\sqrt{5}} + 2\pi m}{2} \\ \frac{\pi + \arcsin \frac{1}{\sqrt{5}} + \arccos \frac{1}{\sqrt{5}} + 2\pi m}{2} \end{cases}$$

$$\text{tg} \alpha = \begin{cases} \text{tg} \left(\frac{-\arcsin \frac{1}{\sqrt{5}} + \arccos \frac{1}{\sqrt{5}}}{2} + \pi n \right) \\ \text{tg} \left(\frac{\arccos \frac{1}{\sqrt{5}} - \arcsin \frac{1}{\sqrt{5}}}{2} + \pi m \right) \\ \text{tg} \left(\frac{\pi + \arcsin \frac{1}{\sqrt{5}} - \arccos \frac{1}{\sqrt{5}}}{2} + \pi m \right) \\ \text{tg} \left(\frac{\pi + \arcsin \frac{1}{\sqrt{5}} + \arccos \frac{1}{\sqrt{5}}}{2} + \pi m \right) \end{cases}$$

$$I \quad \operatorname{tg} \left(-\frac{\arcsin \frac{1}{\sqrt{5}} + \arccos \frac{1}{\sqrt{5}}}{2} \right) \quad x = \arcsin \frac{1}{\sqrt{5}} \quad y = \arccos \frac{1}{\sqrt{5}}$$

$$\operatorname{tg} \left(-\frac{x+y}{2} \right) = \frac{\sin \left(-\frac{x+y}{2} \right)}{\cos \left(-\frac{x+y}{2} \right)} = \frac{-\sin \frac{x+y}{2}}{\cos \frac{x+y}{2}} =$$

$$= - \frac{\sin \frac{x}{2} \cos \frac{y}{2} + \sin \frac{y}{2} \cos \frac{x}{2}}{\cos \frac{x}{2} \cos \frac{y}{2} - \sin \frac{x}{2} \sin \frac{y}{2}}$$

$$\sin \frac{x}{2} = \cos x = \sqrt{1 - \sin^2 x} = \sqrt{1 - \frac{1}{5}} = \frac{2}{\sqrt{5}} = 2 \cos^2 \frac{x}{2} - 1$$

$$\cos \frac{x}{2} = \sqrt{\frac{1}{5} + \frac{1}{2}} = \sqrt{\frac{2 + \sqrt{5}}{2\sqrt{5}}} = \frac{\sqrt{2 + \sqrt{5}}}{\sqrt{2\sqrt{5}}}$$

$$\sin \frac{x}{2} = \sqrt{\frac{\sqrt{5} - 2}{2\sqrt{5}}} \quad \cos \frac{y}{2} = \sqrt{\frac{1 + \sqrt{5}}{2\sqrt{5}}} \quad \sin \frac{y}{2} = \sqrt{\frac{\sqrt{5} - 1}{2\sqrt{5}}}$$

$$\operatorname{tg} \left(-\frac{x+y}{2} \right) = - \frac{\sqrt{\frac{(\sqrt{5}-2)(\sqrt{5}+2)}{(2\sqrt{5})^2}} + \sqrt{\frac{(1+\sqrt{5})(1+\sqrt{5})}{(2\sqrt{5})^2}}}{\sqrt{\frac{(\sqrt{5}+2)(\sqrt{5}+1)}{(2\sqrt{5})^2}} - \sqrt{\frac{(\sqrt{5}-1)(\sqrt{5}-2)}{(2\sqrt{5})^2}}} = - \frac{3}{\sqrt{8+3\sqrt{5}} - \sqrt{8-3\sqrt{5}}} =$$

$$= - \frac{\sqrt{8+3\sqrt{5}} + \sqrt{8-3\sqrt{5}}}{2\sqrt{5}}$$

$$\operatorname{tg} \left(\frac{y-x}{2} \right) = \frac{\sin \frac{y}{2} \cos \frac{x}{2} - \cos \frac{y}{2} \sin \frac{x}{2}}{\cos \frac{x}{2} \cos \frac{y}{2} + \sin \frac{x}{2} \sin \frac{y}{2}} = \frac{1}{\sqrt{8+3\sqrt{5}} + \sqrt{8-3\sqrt{5}}}$$

$$\operatorname{tg} \left(\frac{x}{2} + \frac{x-y}{2} \right) = - \operatorname{ctg} \left(\frac{x-y}{2} \right) = \operatorname{ctg} \left(\frac{y-x}{2} \right) = \sqrt{8+3\sqrt{5}} + \sqrt{8-3\sqrt{5}}$$

$$\operatorname{tg} \left(\frac{x}{2} + \frac{x+y}{2} \right) = \operatorname{ctg} \left(-\frac{x+y}{2} \right) = - \frac{2\sqrt{5}}{\sqrt{8+3\sqrt{5}} + \sqrt{8-3\sqrt{5}}}$$

$$\text{ОТВЕТ: } - \frac{\sqrt{8+3\sqrt{5}} + \sqrt{8-3\sqrt{5}}}{2\sqrt{5}} ; - \frac{2\sqrt{5}}{\sqrt{8+3\sqrt{5}} + \sqrt{8-3\sqrt{5}}} ;$$

$$\frac{1}{\sqrt{8+3\sqrt{5}} + \sqrt{8+3\sqrt{5}}} ; \sqrt{8+3\sqrt{5}} + \sqrt{8+3\sqrt{5}}$$

ПИСЬМЕННАЯ РАБОТА

√ 2

$$\begin{cases} x - 12y = \sqrt{2xy - 12y - x + 6} \\ x^2 + 36y^2 - 12x - 36y = 45 \end{cases} \quad \text{ОАЗ: } \begin{cases} x - 12y \geq 0 \\ 2xy - 12y - x + 6 \geq 0 \end{cases}$$

$$\begin{cases} x^2 - 24xy + 144y^2 = 2xy - 12y - x + 6 \\ (x-6)^2 + (6y-3)^2 = 90 \end{cases} \quad \text{окрестности}$$

$$\begin{cases} x^2 - 26xy + x + 12y + 144y^2 - 6 = 0 \\ (x-6)^2 + (6y-3)^2 = 90 \end{cases}$$

$$\begin{aligned} D &= 646y^2 - 52y + 1 - 576y^2 - 48y + 24 = \\ &= 100y^2 - 100y + 25 = (10y-5)^2 \end{aligned}$$

$$x = \frac{26y - 1 \pm |10y - 5|}{2}$$


$$\text{I. } \begin{cases} x = 18y - 3, y \geq \frac{1}{2} \\ (x-6)^2 + (6y-3)^2 = 90 = (3\sqrt{10})^2 \end{cases}$$

$$\text{II. } \begin{cases} x = 8y + 2, y \leq \frac{1}{2} \\ (x-6)^2 + (6y-3)^2 = 90 \end{cases}$$

$$\Rightarrow \begin{cases} x = 18y - 3 \\ x = 8y + 2 \\ (x-6)^2 + (6y-3)^2 = 90 \end{cases}$$

$$\text{III. } \begin{cases} x = 8y + 2, y \geq \frac{1}{2} \\ (x-6)^2 + (6y-3)^2 = 90 \end{cases}$$

$$\text{IV. } \begin{cases} x = 18y - 3, y \leq \frac{1}{2} \\ (x-6)^2 + (6y-3)^2 = 90 \end{cases}$$



$$I. x = 18y - 3$$

$$(18y - 3)^2 + (6y - 3)^2 = 90$$

$$81(2y - 1)^2 + 9(2y - 1)^2 = 90$$

$$\bullet 90(2y - 1)^2 = 90$$

$$\begin{cases} 2y - 1 = 1 & y = 1 \\ 2y - 1 = -1 & y = 0 \end{cases}$$

$$\begin{cases} y = 1 \\ x = 15 \end{cases} \quad \begin{cases} y = 0 \\ x = -3 \end{cases}$$

$$II. x = 8y + 2$$

$$(8y + 2)^2 + (6y - 3)^2 = 90$$

$$16(2y - 1)^2 + 9(2y - 1)^2 = 90$$

$$(2y - 1)^2 = \frac{90}{25} = \frac{18}{5}$$

$$\begin{cases} 2y - 1 = \frac{18}{5} & y = \frac{23}{10} \\ 2y - 1 = -\frac{18}{5} & y = -\frac{13}{10} \end{cases}$$

$$\begin{cases} y = 2,3 \\ x = 20,4 \end{cases} \quad \begin{cases} y = -1,3 \\ x = -8,4 \end{cases}$$

ОТВЕТ: (15; 1); (-3; 0); (20,4; 2,3); (-8,4; -1,3)

ПИСЬМЕННАЯ РАБОТА

№ 3

$$10x + |x^2 - 10x| \log_3 4 \geq x^2 + 5 \log_3(10x - x^2)$$

$$\text{ОДЗ: } 10x - x^2 > 0 \Rightarrow x^2 - 10x < 0 \\ x \in (0; 10)$$

~~$$10x - x^2 + (10x - x^2) \log_3 4 - 5 \log_3(10x - x^2) \geq 0$$~~

$$t = 10x - x^2$$

$$t + t \log_3 4 - 5 \log_3 t \geq 0$$

$$t + t \log_3 4 - 5 \frac{\log_5 t}{\log_5 3} \geq 0$$

$$t + t \log_3 4 - t \frac{1}{\log_5 3} \geq 0$$

$$t + t \log_3 4 - t \log_3 5 \geq 0$$

$$\text{I. Если } t \log_3 4 - t \log_3 5 \geq 0, \quad 4 \log_3 t \geq 5 \log_3 t \\ \log_3 t \leq 0 \\ t \in (0; 1]$$

$$\text{при } t \in (0; 1] \quad t + t \log_3 4 - t \log_3 5 \geq 0 \text{ всегда}$$

$$\text{II. Если } t \log_3 5 > t \log_3 4, \quad t \in (1; 10)$$

$$t + t \log_3 4 - t \log_3 5 \geq 0$$

~~$$f(t) = t + t \log_3 4 - t \log_3 5 = t + 4 \log_3 t - 5 \log_3 t$$~~

~~$$f'(t) = 1 + \frac{4}{3 \log_3 t} - \frac{5}{5 \log_3 t} \geq 0$$~~

~~$$m = \log_3 t \quad f(m) = 3^m + 4^m - 5^m$$~~

~~$$f'(m) = \ln 3 \cdot 3^m + \ln 4 \cdot 4^m - \ln 5 \cdot 5^m$$~~

$$f(t) = t + t^{\log_3 4} - t^{\log_3 5}$$

$$f'(t) = 1 + \log_3 4 \cdot t^{(\log_3 4 - 1)} - \log_3 5 \cdot t^{(\log_3 5 - 1)}$$

$$\text{знак } 1 + \log_3 4 \cdot t^{\log_3 \frac{4}{3}} - \log_3 5 \cdot t^{\log_3 \frac{5}{3}}$$

Рассмотрим:

$$1 + \log_3 4 \cdot \left(\frac{4}{3}\right)^{\log_3 t} - \log_3 5 \cdot \left(\frac{5}{3}\right)^{\log_3 t}$$

$$\log_3 4 \cdot \left(\frac{4}{3}\right)^{\log_3 t} \geq \log_3 5 \cdot \left(\frac{5}{3}\right)^{\log_3 t}$$

$$\left(\frac{4}{3}\right)^{\log_3 t} \geq \log_4 5$$

$$\log_4 5 > 1, \frac{4}{3} < 1 \Rightarrow \log_3 t \text{ точно } < 0, \text{ но } \log_3 t > 0 \Rightarrow$$

$$\Rightarrow f''(t) = \log_3 4 (\log_3 4 - 1) \cdot t^{\log_3 \frac{4}{3}} - \log_3 5 (\log_3 5 - 1) \cdot t^{\log_3 \frac{5}{3}}$$

$$t^{\log_3 \frac{4}{3}} > t^{\log_3 \frac{5}{3}} \quad \text{т.к. } t > 1$$

$$\Rightarrow t^{\log_3 \frac{4}{3}} - t^{\log_3 \frac{5}{3}} < 1 < \log_4 5 \cdot \log_4 \frac{5}{3} \Rightarrow f'(t) \downarrow \text{ на } \mathbb{R} \Rightarrow$$

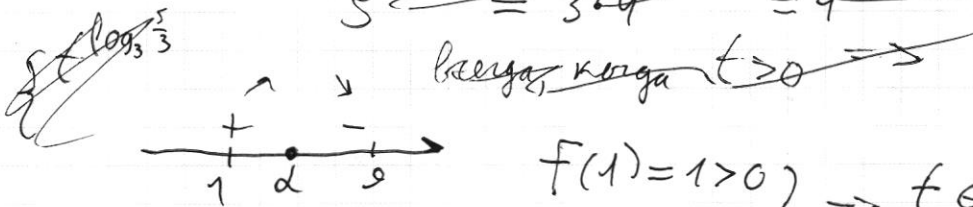
$$\Rightarrow f'(1) > f'(9) \quad f'(1) < f'(9) = 1 + \log_3 \frac{4}{3} = \log_3 \frac{12}{3} > 0$$

$$f(1) = 1 + \log_3 4 - \log_3 5 = 1 + \log_3 \frac{4}{5} > 0$$

$$f(9) = 1 + \log_3 4 \cdot 9^{\log_3 \frac{4}{3}} - \log_3 5 \cdot 9^{\log_3 \frac{5}{3}}$$

$$f'(9) = 1 + \log_3 4 \cdot \frac{4 \cdot 9^{\log_3 \frac{4}{3}}}{5 \cdot 9^{\log_3 \frac{5}{3}}} - \log_3 5 \cdot \frac{5 \cdot 9^{\log_3 \frac{5}{3}}}{4 \cdot 9^{\log_3 \frac{4}{3}}} = 1$$

$$5 \cdot 9^{\log_3 \frac{5}{3}} \geq 3 \cdot 4 \cdot 9^{\log_3 \frac{4}{3}} = 4 \cdot 9^{\log_3 \frac{4}{3}} + \log_4 3$$



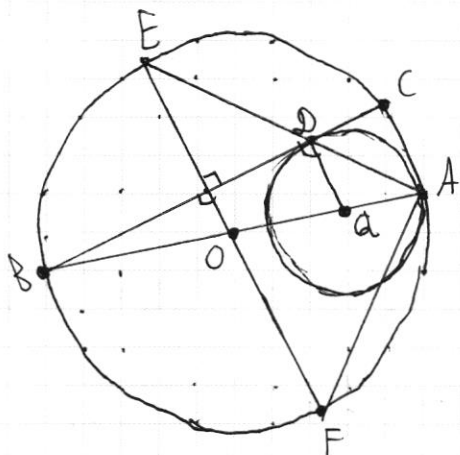
$$\left. \begin{array}{l} f(1) = 1 > 0 \\ f(9) = 0 \end{array} \right\} \Rightarrow t \in (1; 9], \Rightarrow t \in (0; 9]$$

$$10x - x^2 \leq 9 \Rightarrow x^2 - 10x + 9 \geq 0 \Rightarrow x \in (0; 1] \cup [9; 10)$$

$$\text{Отв: } (0; 1] \cup [9; 10)$$

ПИСЬМЕННАЯ РАБОТА

№ 4



Дано: Ок-ти Ω и W касаются в т. A

O — центр Ω , Q — центр W

BC кас. $W = D$; $BD = \frac{17}{2}$; $DC = \frac{15}{2}$

$AD \cap \Omega = E$; $EF \perp BC$; $F \in \Omega$

$OA = ?$ $QA = ?$ $\angle AFE = ?$ $S_{\triangle AFE} = ?$

РЕШЕНИЕ:

√5

$$f(ab) = f(a) + f(b) \quad f(p) = [p/4], \quad p - \text{простое число}$$

$$2 \leq x \leq 25, \quad 2 \leq y \leq 25, \quad f\left(\frac{x}{y}\right) < 0 \quad (x; y) = ? \quad , x, y \in \mathbb{N}$$

$$f\left(\frac{x}{y}\right) = f(x) + f\left(\frac{1}{y}\right)$$

$$f(xy) = f(x) + f(y)$$

$$\left. \begin{aligned} f(1) + f(3) &= \left[\frac{3}{4}\right] = 0 \\ f(1) + f(2) &= 0 \end{aligned} \right\} \Rightarrow \begin{cases} f(2) = f(3) \\ f(1) = -f(3) \end{cases}$$

$$f(7) = f(1 \cdot 7) = f(1) + f(7) = 1 \Rightarrow f(7) = f(5), \quad f(1) = 1$$

$$f(1) + f(5) = 1$$

$$f(4) = f(2) + f(2) = 2f(2) = f(9)$$

$$f(3) = f(2) = f(1) = 1$$

$$f(4) = f(1) + f(4) = 0 \Rightarrow f(1) = 0 \quad f(9) = f\left(\frac{4}{2}\right) = f(4) + f\left(\frac{1}{2}\right) =$$

$$f(3) = f\left(\frac{3}{1}\right) = f(3) + f\left(\frac{1}{1}\right) = 0 \Rightarrow 2f(2) + f\left(\frac{1}{2}\right) = 0$$

$$f(4) = f(2) + f(2) = 0$$

$$\Rightarrow f\left(\frac{1}{2}\right) = -f(2)$$

$$f(8) = 0 \Rightarrow f\left(\frac{1}{2}\right) = 0$$

$$\text{Аналогично: } f\left(\frac{1}{3}\right) = -f(3), \quad f\left(\frac{1}{y}\right) = -f(y)$$

$$f\left(\frac{x}{y}\right) = f(x) - f(y) < 0 \Rightarrow f(x) < f(y)$$

$$f(1) + f(5) = \left[\frac{5}{4}\right] = 1 = f(1) + f(4)$$

$$f(1) = 1 - f(5) = 1 - f(4) \Rightarrow f(5) = f(4) \Rightarrow f(10) = f(14),$$

$$f(15) = f(21)$$

$$f(4) = f(9), \quad f(8) = f(18), \quad f(12) = f(24)$$

$$f(11) + f(22) = 2 \quad f(13) + f(26) = 3 \quad f(17) + f(34) = 4$$

$$f(19) = 4 \Rightarrow f(17) = f(19), \quad f(23) = 5, \quad f(29) = 6$$

Отв: ~~Итак есть пары: (2; 4), (2; 5), (2; 6)~~ $f(6) = f(2) + f(3) = f(4)$

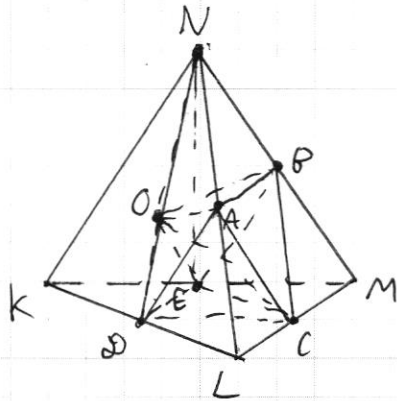
Пары: (2; 3), (3; 2), (5; 7), (7; 5), (10; 14), (14; 10),

(15; 21), (21; 15), (4; 9), (9; 4), (8; 18), (18; 8), (17; 19), (19; 17),

(6; 4), (4; 6), (6; 9), (9; 6)

ПИСЬМЕННАЯ РАБОТА

2/3



$$KL=3, KM=1, MN=\sqrt{2}$$

N лежит на одной сфере с серединами NM, NL, LM, KM, KL .

$$LM=? R_{\min}=?$$

Решение:

1. Пусть A, B, C, D, E - середины LN, NM, ML, KL, MK соотв.,

LN, NM, ML, KL, MK соотв.,

тогда пирамида $ABEDC$ - вписана в сферу, а $ABED$ - параллелограмм $\Rightarrow ABED$ - прямоугольник

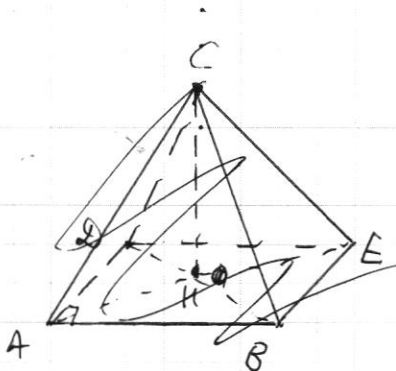
Рассмотрим $CBDE$:

$$DC = \frac{KM}{2} = \frac{1}{2} \quad EC = \frac{KL}{2} = \frac{3}{2}$$

$$AC = \frac{MN}{2} = \frac{\sqrt{2}}{2}$$

Пусть $CH \perp (ABD)$

~~CH~~



Пирамида $DNABE$ вписана в сферу \Rightarrow

$\Rightarrow NACB$ - прямоугольник $\Rightarrow \triangle LNM$ - прямоугольный \Rightarrow

$$\Rightarrow EN = CM = CL$$



черновик чистовик
(Поставьте галочку в нужном поле)

Страница №
(Нумеровать только чистовики)

ПИСЬМЕННАЯ РАБОТА

$\frac{144}{9} = 16$, $\frac{26}{52} = \frac{1}{2}$, $\frac{156}{676} = \frac{3}{13}$
 10.5 , $4^2 = 16$, $3^2 = 9$
 $\frac{26y-1 \pm 110y-51}{2}$
 $\frac{18y+4}{2} = 9y+2$, $x^2 = 1$
 $\frac{\log t}{\log 3} = \frac{\log_3 t}{2}$, $\log_3 t = \frac{\log_5 t}{\log_5 3} = \frac{\log_5 t \cdot \log_3 5}{\log_3 3}$
 $3x^2 \log_5 3 = (x^2)^{\log_5 3} = 3 \cdot 2^{\log_5 3}$
 $(x^2)^{\log_5 3} = 2x^{\frac{2}{5} \log_5 3} \rightarrow \log_5 t = \frac{\log_5 3}{2}$
 $\log_3 t > \log_5 3$, $\log_3 3 = 1$, $\log_3 4 = 2$, $\log_3 5 = 2$
 $2 + 2 \log_3 4 = 2 + 2 \cdot 2 = 6$, $\log_3 2 = 0$
 $3^x = 4$, $3^y = 5$, $3^x = 2$
 $x = \log_3 4$, $\log_3 5$
 $\log_3 4 + \log_3 \frac{5}{4} = 3$
 $2 \cos^2 \beta - 1 = \frac{1}{\sqrt{5}}$, $\cos^2 \beta = \frac{1+\sqrt{5}}{2\sqrt{5}}$
 $\cos \beta = \sqrt{\frac{5+\sqrt{5}}{10}}$
 $4^2 < 5^2$, $4^{\frac{1}{2}} < 5^{\frac{1}{2}} = \sqrt{5}$
 $2y = \frac{18}{5} + 1 = \frac{23}{5}$, $4^{\frac{1}{2}} < 3^{\frac{1}{2}} = \sqrt{3}$
 $\frac{13}{5}$, $-\frac{13}{5} + 1 = -\frac{8}{5}$, $\log_3 t$, $\frac{4}{3} = \frac{4}{3}$
 $\frac{23}{5} + 2 = \frac{31}{5} = 6.2$, $\frac{92}{5} + 2 = \frac{102}{5} = 20.4$
 $\frac{23}{5}$, $\frac{18.24}{20.4}$, $\frac{6}{8}$, $\log_3 7$
 $2 + 2 \log_3 4 = 2 + 2 \cdot 2 = 6$, $\log_3 3 = 1$, $\frac{1}{\log_3 8}$
 $3 + 4 \geq 5$, $18y - 2$
 $\log_3 (M + \log_3 u - 1)$, $t + t \frac{\log_3 4}{\log_3 3} = t + 4 \log_3 t - 5 \log_3 t = 0$
 $t = 9 = 3^2$, $\ln 2 \cdot x^2 = 2^x$, $\log_3 7 = 0$, $t = 1$

