

МОСКОВСКИЙ ФИЗИКО-ТЕХНИЧЕСКИЙ ИНСТИТУТ
ОЛИМПИАДА "ФИЗТЕХ" ПО МАТЕМАТИКЕ

11 класс

ВАРИАНТ 4

ШИФР

Заполняется ответственным секретарём

- √1. [3 балла] Углы α и β удовлетворяют равенствам

$$\sin(2\alpha + 2\beta) = -\frac{1}{\sqrt{17}}; \quad \sin(2\alpha + 4\beta) + \sin 2\alpha = -\frac{2}{17}.$$

Найдите все возможные значения $\operatorname{tg} \alpha$, если известно, что он определён и что этих значений не меньше трёх.

- √2. [4 балла] Решите систему уравнений

$$\begin{cases} y - 6x = \sqrt{xy - 6x - y + 6}, \\ 9x^2 + y^2 - 18x - 12y = 45. \end{cases}$$

- √3. [5 баллов] Решите неравенство

$$|x^2 - 26x|^{\log_5 12} + 26x \geq x^2 + 13^{\log_5(26x - x^2)}.$$

- √4. [5 баллов] Окружности Ω и ω касаются в точке A внутренним образом. Отрезок AB – диаметр большей окружности Ω , а хорда BC окружности Ω касается ω в точке D . Луч AD повторно пересекает Ω в точке E . Прямая, проходящая через точку E перпендикулярно BC , повторно пересекает Ω в точке F . Найдите радиусы окружностей, угол AFE и площадь треугольника AEF , если известно, что $CD = 12$, $BD = 13$.

5. [5 баллов] Функция f определена на множестве положительных рациональных чисел. Известно, что для любых чисел a и b из этого множества выполнено равенство $f(ab) = f(a) + f(b)$, и при этом $f(p) = [p/4]$ для любого простого числа p ($[x]$ обозначает наибольшее целое число, не превосходящее x). Найдите количество пар натуральных чисел $(x; y)$ таких, что $4 \leq x \leq 28$, $4 \leq y \leq 28$ и $f(x/y) < 0$.

- √6. [5 баллов] Найдите все пары чисел $(a; b)$ такие, что неравенство

$$\frac{8 - 6x}{3x - 2} \geq ax + b \geq 18x^2 - 51x + 28$$

выполнено для всех x на промежутке $(\frac{2}{3}; 2]$.

7. [6 баллов] Дана пирамида $TXYZ$, вершина Y которой лежит на одной сфере с серединами всех её рёбер, кроме ребра TU . Известно, что $XY = \sqrt{3}$, $TX = \sqrt{2}$, $TZ = 2$. Найдите длину ребра XZ . Какой наименьший радиус может иметь сфера, описанная около данной пирамиды?

ПИСЬМЕННАЯ РАБОТА

$$\boxed{1} \begin{cases} \sin(2\alpha + 2\beta) = \frac{1}{\sqrt{17}} \\ \sin(2\alpha + 4\beta) + \sin 2\alpha = -\frac{2}{17} \end{cases} \quad \text{т.к. } \operatorname{tg} \alpha \text{ определен, то} \\ \underline{\cos 2\alpha \neq 0}$$

$$1) \sin(2\alpha + 4\beta) + \sin 2\alpha = 2 \sin(2\alpha + 2\beta) \sin 2\beta = \frac{-2}{\sqrt{17}} \sin 2\beta = \frac{-2}{17}$$

отсюда $\boxed{\sin 2\beta = \frac{1}{\sqrt{17}}}$, тогда $\boxed{\cos 2\beta = \pm \frac{4}{\sqrt{17}}}$ по основной тригонометрии Томасову

$$2) \text{ подставим найденные значения в 1ое равенство}$$

$$\sin 2\alpha \cos 2\beta + \cos 2\alpha \sin 2\beta = \frac{1}{\sqrt{17}}$$

$$\frac{\pm 4}{\sqrt{17}} \sin 2\alpha + \frac{1}{\sqrt{17}} \cos 2\alpha = \frac{1}{\sqrt{17}}$$

$$\pm 4 \sin 2\alpha + \cos 2\alpha = -1 \rightarrow \begin{cases} 4 \sin 2\alpha + \cos 2\alpha = -1 \\ -4 \sin 2\alpha + \cos 2\alpha = -1 \end{cases}$$

$$\text{подставим } \cos 2\alpha = 2 \cos^2 \alpha - 1 \text{ и } \sin 2\alpha = 2 \sin \alpha \cos \alpha$$

$$\begin{cases} 8 \sin \alpha \cos \alpha + 2 \cos^2 \alpha = 0 & / \cdot \frac{1}{\cos^2 \alpha} \\ -8 \sin \alpha \cos \alpha + 2 \cos^2 \alpha = 0 & / \cdot \frac{1}{\cos^2 \alpha} \end{cases} \rightarrow \begin{cases} 8 \operatorname{tg} \alpha + 2 = 0 \\ -2 \operatorname{tg} \alpha + 2 = 0 \end{cases} \rightarrow \begin{cases} \operatorname{tg} \alpha = -\frac{1}{4} \\ \operatorname{tg} \alpha = \frac{1}{4} \end{cases}$$

$$3) \text{ подставим найденные значения во 2ое равенство}$$

$$\sin 2\alpha \cos 4\beta + \cos 2\alpha \sin 4\beta + \sin 2\alpha = \frac{-2}{17}$$

$$\text{где } \cos 4\beta = \cos^2 2\beta - \sin^2 2\beta = \frac{16}{17} - \frac{1}{17} = \frac{15}{17}$$

$$\sin 4\beta = 2 \sin 2\beta \cos 2\beta = 2 \cdot \frac{1}{\sqrt{17}} \left(\pm \frac{4}{\sqrt{17}} \right) = \pm \frac{8}{17}$$

$$\frac{15}{17} \sin 2\alpha \pm \frac{8}{17} \cos 2\alpha + \sin 2\alpha = \frac{-2}{17}$$

$$\begin{cases} 16 \sin 2\alpha \pm 8 \cos 2\alpha = -2 \\ 8 \sin 2\alpha \pm 4 \cos 2\alpha = -1 \end{cases} \rightarrow \begin{cases} 8 \sin 2\alpha + 4 \cos 2\alpha = -1 \\ 8 \sin 2\alpha - 4 \cos 2\alpha = -1 \end{cases}$$

$$\begin{cases} 8(2\sin\alpha\cos\alpha) + 4(\cos^2\alpha - \sin^2\alpha) = -\sin^2\alpha - \cos^2\alpha \\ 8(2\sin\alpha\cos\alpha) - 4(\cos^2\alpha - \sin^2\alpha) = -\sin^2\alpha - \cos^2\alpha \end{cases}$$

$$16\sin\alpha\cos\alpha + 5\cos^2\alpha + 3\sin^2\alpha = 0 \quad / \cdot \frac{1}{\cos^2\alpha}$$

$$16\sin\alpha\cos\alpha - 3\cos^2\alpha + 5\sin^2\alpha = 0 \quad / \cdot \frac{1}{\cos^2\alpha}$$

$$16\tg\alpha + 5 - 3\tg^2\alpha = 0 \quad \left[\begin{array}{l} 3\tg^2\alpha - 16\tg\alpha - 5 = 0 \\ 5\tg^2\alpha + 16\tg\alpha - 3 = 0 \end{array} \right.$$

$$16\tg\alpha - 3 + 5\tg^2\alpha = 0$$

$$D_1 = (-16)^2 - 4 \cdot 3 \cdot (-5) = 16^2 + 4 \cdot 3 \cdot 5 = 4(4 \cdot 16 + 15) = 4 \cdot 79$$

$$D_2 = 16^2 - 4 \cdot 5 \cdot (-3) = 16^2 + 4 \cdot 3 \cdot 5 = D_1$$

$$\tg\alpha = \frac{16 \pm \sqrt{D_1}}{2 \cdot 3} = \frac{16 \pm 2\sqrt{79}}{2 \cdot 3} = \frac{8 \pm \sqrt{79}}{3}$$

$$\tg\alpha = \frac{-16 \pm \sqrt{D_2}}{2 \cdot 5} = \frac{-16 \pm 2\sqrt{79}}{2 \cdot 5} = \frac{-8 \pm \sqrt{79}}{5}$$

Ответ: $\tg\alpha = \frac{1}{4}$, $\tg\alpha = \frac{1}{4}$, $\tg\alpha = \frac{8 \pm \sqrt{79}}{3}$, $\tg\alpha = \frac{-8 \pm \sqrt{79}}{5}$

$$\boxed{2} \quad \begin{cases} y - 6x = \sqrt{xy - 6x - y + 6} = \sqrt{(x-1)(y-6)} \\ 9x^2 + y^2 - 18x - 12y = 45 \end{cases}$$

1) $xy - 6x - y + 6 = x(y-6) - 1(y-6) = (x-1)(y-6)$

2) $9x^2 + y^2 - 18x - 12y = 45$

$$(3x)^2 - 2 \cdot 3x \cdot 3 + 3^2 + y^2 - 2 \cdot y \cdot 6 + 36 = 45 + 45$$

$$(3x-3)^2 + (y-6)^2 = 90$$

$$9(x-1)^2 + (y-6)^2 = 90$$

3) $y - 6x = (y-6) - 6(x-1)$

4) новая система:

$$\begin{cases} (y-6) - 6(x-1) = \sqrt{(x-1)(y-6)} \\ 9(x-1)^2 + (y-6)^2 = 90 \end{cases}$$

ПИСЬМЕННАЯ РАБОТА

Пусть $x-1=A$, $y-6=B$, тогда

$$\begin{cases} B-6A = \sqrt{AB} \\ 9A^2 + B^2 = 90 \end{cases}$$

5) рассмотрим первое равенство; ограничимся на корень $AB \geq 0 \rightarrow \begin{cases} A \geq 0 \\ B \geq 0 \\ A < 0 \\ B < 0 \end{cases}$

Если A и $B \geq 0$, то $B - \sqrt{AB} - 6A = 0$

$$D = A - 4(-6A) = 25A \rightarrow \sqrt{B} = \frac{\sqrt{A} \pm 5\sqrt{A}}{2}$$

$\sqrt{B} = 3\sqrt{A}$ — удовлетворяет ус. $A, B \geq 0$, откуда $B = 9A$
 $\sqrt{B} = -2\sqrt{A}$ — не подходит под ^{данный} условием $B, A \geq 0$

Если A и $B < 0$, то $B - 6A = -\sqrt{AB} \rightarrow B + \sqrt{AB} - 6A = 0$

$$D = 25A \rightarrow B = \frac{-\sqrt{A} \pm 5\sqrt{A}}{2}$$

делителем левую часть на (-1) чтоб сделать ее положительной

$$\sqrt{B} = 2\sqrt{A} \rightarrow B = 4A$$

$\sqrt{B} = -3\sqrt{A}$ — не подходит, т.к. корни не может быть меньше нуля

Получим, что $B - 6A = \sqrt{AB} \Leftrightarrow \begin{cases} A, B \geq 0 \\ B = 9A \\ A, B < 0 \\ B = 4A \end{cases}$

6) $\begin{cases} 9A^2 + B^2 = 90 \\ A, B \geq 0 \\ B = 9A \end{cases} \quad 9A^2 + 81A^2 = 90 \rightarrow A^2 = 1$

$$\begin{cases} A = \pm 1 \\ B = \pm 9 \\ A, B \geq 0 \end{cases} \quad \boxed{\begin{matrix} A = 1 \\ B = 9 \end{matrix}}$$

$$2) \begin{cases} 9A^2 + B^2 = 90 \\ A, B < 0 \\ B = 4A \end{cases} \quad 9A^2 + 16A^2 = 90, \quad 25A^2 = 90 \rightarrow A^2 = \frac{18}{5}$$

$$\begin{cases} A = \pm 3\sqrt{\frac{2}{5}} \\ B = \pm 12\sqrt{\frac{2}{5}} \\ A, B < 0 \end{cases} \quad \boxed{\begin{cases} A = -\frac{3\sqrt{2}}{5} \\ B = -12\sqrt{\frac{2}{5}} \end{cases}}$$

$$8) \begin{cases} \begin{cases} x-1=1 \\ y-6=9 \\ x-1 = -\frac{3\sqrt{2}}{5} \\ y-6 = -12\sqrt{\frac{2}{5}} \end{cases} & \begin{cases} x=2 \\ y=15 \\ x = \frac{5-3\sqrt{2}}{5} \\ y = \frac{30-12\sqrt{2}}{5} \end{cases} \end{cases}$$

Ответ: $(2; 15)$, $\left(\frac{5-3\sqrt{2}}{5}; \frac{30-12\sqrt{2}}{5}\right)$

$$3) |x^2 - 26x|^{\log_5 12} + 26x \geq x^2 + 13^{\log_5 (26x - x^2)}$$

1) ОДЗ: $26x - x^2 > 0, \quad x^2 - 26x < 0 \quad x(x-26) < 0$

$$x \in (0; 26)$$

2) $|x^2 - 26x| = |26x - x^2|$, поэтому

$$|26x - x^2|^{\log_5 12} + 26x - x^2 \geq 13^{\log_5 (26x - x^2)}$$

пусть $26x - x^2 = A$

$$|A|^{\log_5 12} + A \geq 13^{\log_5(A)} \quad / \text{возьмем логарифм по основанию } 13 > 1$$

$$\log_{13} (|A|^{\log_5 12} + A) \geq \log_{13} (13^{\log_5(A)})$$

$$\log_{13} (|A|^{\log_5 12} + A) \geq \log_5(A)$$

$$\frac{\ln (|A|^{\log_5 12} + A)}{\ln 13} \geq \frac{\ln(A)}{\ln 5} \quad / \text{т.к. } \ln 13 \text{ и } \ln 5 > 0, \text{ то отсюда знак неравенства не меняется}$$

$$\ln (|A|^{\log_5 12} + A) \geq \ln(A)$$

ПИСЬМЕННАЯ РАБОТА

Функция $y = \ln x$ монотонно возрастает, значит

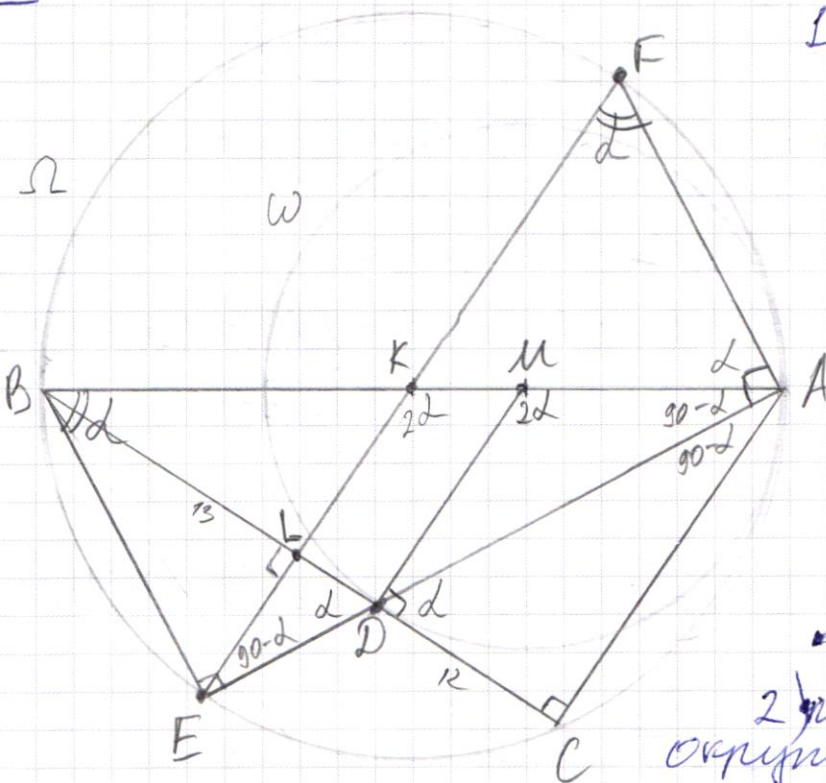
$$|A| \log_5^{12} + A \geq A$$

$|A| \log_5^{12} \geq 0$, где $|A|$ неотрицательное число,
значит неравенство верно для
любых A из области определения

т.е. $x \in (0; 26)$

Ответ: $x \in (0; 26)$

4



1) Пусть K и M центры
окруж. Ω и ω

• Тогда K, M, K лежат
на одной прямой AB
как центры касатель-
ных окружностей

• $BC \perp MD$ как каса-
тельная ω к радиусу
окруж. ω

• $\angle BCA = \angle BEA = 90^\circ$
как углы опирающи-
еся на диаметр Ω

~~$\angle BEF = \angle BCF$~~

2) Пусть R и r радиусы
окруж. Ω и ω

• $\triangle ABC \sim \triangle MBD$ как подобие
 $\angle ABC$, тогда $\frac{BD}{CD} = \frac{BM}{AM} = \frac{13}{12}$
 $\frac{2R-r}{r} = \frac{13}{12} \rightarrow 24R = 25r$

$BM = BA - AM = 2R - r$
 $AM = r$

- для прямоугол. $\triangle MBD$ применим т. Пифагора

$$BM^2 = BD^2 + MD^2 \quad (2R-r)^2 = 13^2 + r^2$$

$$\begin{cases} 4R^2 - 4Rr - 13^2 = 0 \end{cases}$$

$$\begin{cases} 24R = 25r \rightarrow r = \frac{24}{25}R \end{cases}$$

$$25 \cdot 4R^2 - 4R \cdot 24R - 13^2 \cdot 25 = 0$$

$$R^2 = \frac{13^2 \cdot 5^2}{2^2} \quad \boxed{R = \frac{13 \cdot 5}{2} = \frac{65}{2} = 32,5} \quad \boxed{r = 31,2}$$

- 3) • пусть $\angle ADC = \alpha$, тогда $\angle AFD = 2\alpha$, т.к. $\angle ADC$ - угол между касательной BC и хордой AD

- в р/б $\triangle AFD$ $\angle MAD = 90^\circ - \alpha$

тогда в прямоугол. $\triangle ABE$ $\angle ABE = \alpha$

- $\angle ABE = \angle AFE = \alpha$ как опираются на дугу AE

- по т. Пифагора в прямоугол. $\triangle ABC$

$$AC = \sqrt{AB^2 - BC^2} = \sqrt{65^2 - 25^2} = 60$$

тогда $\boxed{\text{tg} \alpha = \frac{AC}{CD} = \frac{60}{12} = 5}$ т.е. $\boxed{\text{tg} \angle AFE = 5}$

- 4) • $\angle FEA = \angle EAC = 90^\circ - \alpha$ при $EF \parallel AC$, т.к. они перпендикулярны BC

- в $\triangle AFE$ $\angle FAE = 180^\circ - \angle AFE - \angle FEA =$

$$= 180^\circ - \alpha - 90^\circ + \alpha = 90^\circ \rightarrow \triangle AFE \text{ прямоугол.}$$

знают EF диаметр Ω
 $EF = 65$

- $\sin \alpha = \frac{AE}{EF} = \frac{5}{126}$

$$\cos \alpha = \frac{AF}{EF} = \frac{1}{126}$$

- $S_{AEF} = \frac{1}{2} AF \cdot AE = \frac{1}{2} EF \cos \alpha \cdot EF \sin \alpha = \frac{EF^2 \cos \alpha \sin \alpha}{2} =$

$$= \frac{65^2}{2} \cdot \frac{1}{126} \cdot \frac{5}{126} = \frac{5^2 \cdot 13^2 \cdot 5}{2 \cdot 2 \cdot 13} = \frac{5^3 \cdot 13}{4}$$

Ответ: 1) $R = 32,5$, $r = 31,2$ 2) $\text{tg} \angle AFE = 5$ 3) $S_{AEF} = \frac{5^3 \cdot 13}{4}$

ПИСЬМЕННАЯ РАБОТА

5

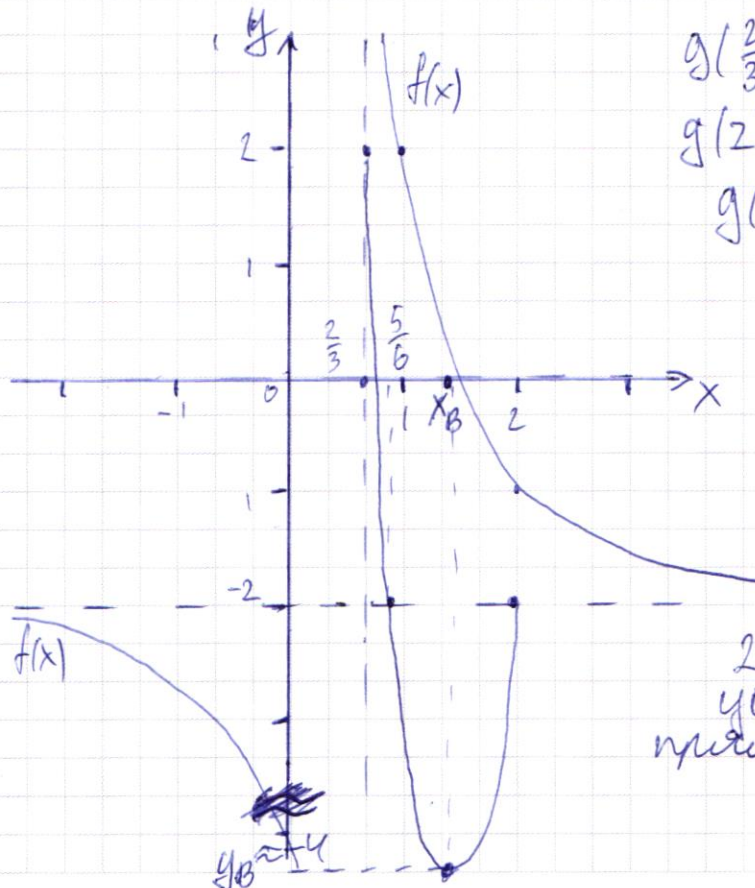
$$\frac{8-6x}{3x-2} \geq ax+b \geq 18x^2-51x+28$$

1) пусть $f(x) = \frac{8-6x}{3x-2}$, $g(x) = 18x^2-51x+28$

• $f(x) = \frac{8-6x}{3x-2} = \frac{-2(3x-2)+4}{3x-2} = -2 + \frac{4}{3x-2} = -2 + \frac{4}{x-\frac{2}{3}}$

график $f(x)$ — гиперболола с асимптотами $x = \frac{2}{3}$ и $y = -2$

• $g(x) = 18x^2-51x+28$ — графиком является парабола с ветвями «вверх» и абсциссой вершины $x_B = \frac{51}{2 \cdot 18} = \frac{17}{2 \cdot 6} = \frac{17}{12} < 2$, но $> \frac{2}{3}$



$$g\left(\frac{2}{3}\right) = 18 \cdot \frac{4}{9} - 51 \cdot \frac{2}{3} + 28 = 2$$

$$g(2) = 18 \cdot 4 - 51 \cdot 2 + 28 = -2$$

$$g(x) = -2$$

$$18x^2 - 51x + 28 = -2$$

$$D = 51^2 - 4 \cdot 18 \cdot 30 = 21^2$$

$$x = \frac{51 \pm 21}{18 \cdot 2} \quad \begin{cases} x = \frac{5}{6} \\ x = 2 \end{cases}$$

$$y_B = g\left(\frac{17}{12}\right) \approx -4$$

2) $ax+b$ — линейная функция, графиком является прямая



черновик чистовик
(Поставьте галочку в нужном поле)

Страница №
(Нумеровать только чистовики)



ФЕДЕРАЛЬНОЕ ГОСУДАРСТВЕННОЕ АВТОНОМНОЕ
ОБРАЗОВАТЕЛЬНОЕ УЧРЕЖДЕНИЕ ВЫСШЕГО
ОБРАЗОВАНИЯ


«МОСКОВСКИЙ ФИЗИКО-ТЕХНИЧЕСКИЙ ИНСТИТУТ
(НАЦИОНАЛЬНЫЙ ИССЛЕДОВАТЕЛЬСКИЙ
УНИВЕРСИТЕТ)»

ШИФР (заполняется секретарём)

ПИСЬМЕННАЯ РАБОТА

черновик чистовик
(Поставьте галочку в нужном поле)

Страница №
(Нумеровать только чистовики)



черновик чистовик
(Поставьте галочку в нужном поле)

Страница №__
(Нумеровать только чистовики)

ПИСЬМЕННАЯ РАБОТА

$$4R^2 - 4Rr - 13^2 = 0 \quad 24R = 25r \quad r = \frac{24}{25}R$$

$$D = (-4r)^2 - 4 \cdot 4 \cdot (13^2) = 16r^2 + 16 \cdot 13^2 = 16(r^2 + 13^2)$$

$$\cancel{4R^2} \quad 4R^2 - 4R \cdot \frac{24}{25}R - 13^2 = 0 \quad | \cdot 25 \quad \operatorname{tg} \alpha = \frac{\sin \alpha}{\cos \alpha} = 5$$

$$100R^2 - 96R^2 - 13^2 \cdot 25 = 0 \quad \cancel{\sin \alpha}$$

$$4R^2 = 13^2 \cdot 25$$

$$R^2 = \frac{13^2 \cdot 5^2}{2^2} \Rightarrow R = \frac{13 \cdot 5}{2} = \frac{65}{2} = 32,5$$

$$r = \frac{24 \cdot 13 \cdot 5}{25 \cdot 2} = \frac{12 \cdot 13}{5} = \frac{156}{5} = 31,2$$

$$2 \cdot 32,5 - 31,2 = 65 - 31,2 = 33,8$$

$$\frac{33,8}{31,2} = \frac{338}{312} = \frac{169}{156} = \frac{13}{12}$$

$$AB = 2R = 65$$

$$AC = \sqrt{AB^2 - BC^2} =$$

$$= \sqrt{65^2 - 25^2} =$$

$$= \sqrt{40 \cdot 90} =$$

$$= 60$$

$$\operatorname{tg} \alpha = \frac{AC}{CD} = \frac{60}{12} = \frac{5}{1}$$

$$EF \perp BC \Rightarrow EF \text{ диаметр}$$

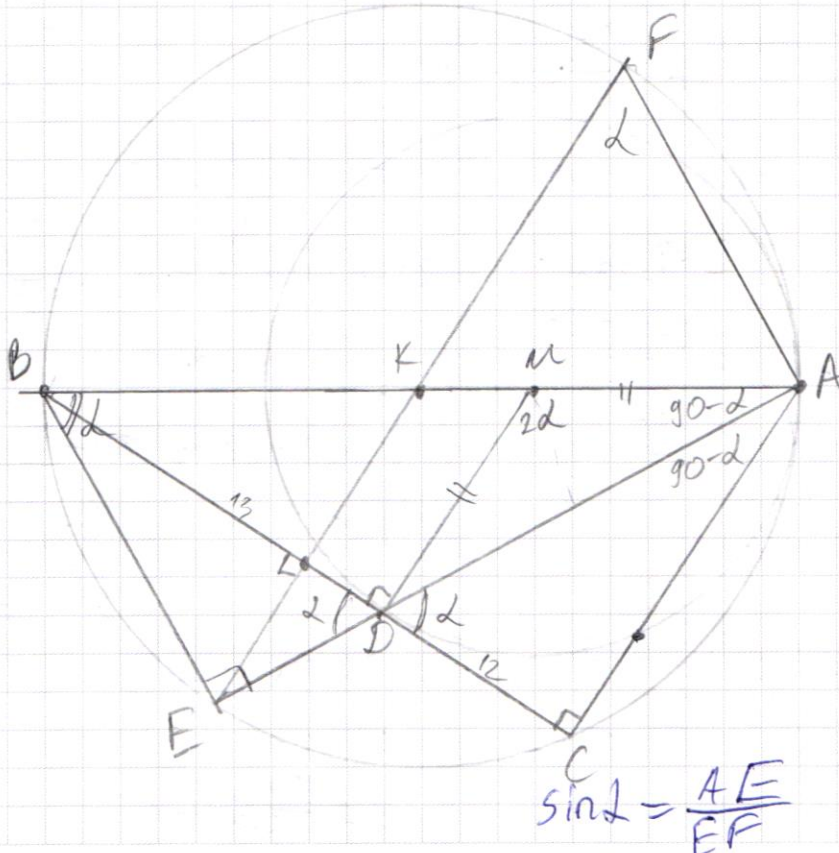
$$EF = 65$$

$$\operatorname{tg} \alpha = \frac{1}{5} = \frac{1}{\sqrt{26}} = \frac{\sqrt{26}}{5}$$

$$\sin \alpha = \frac{1}{\sqrt{26}}$$

$$\cos \alpha = \frac{5}{\sqrt{26}}$$

$$\cos \alpha = \frac{AE}{EF}$$



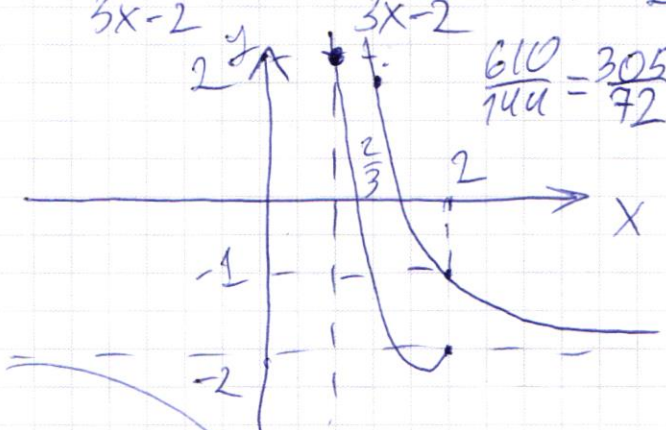
$$S_{AEF} = \frac{1}{2} EF \cdot AF \sin \alpha = \frac{1}{2} EF^2 \sin \alpha \cos \alpha =$$

$$= \frac{1}{2} 65^2 \cdot \frac{1}{26} \cdot \frac{5}{26} = \frac{65^2 \cdot 25}{2 \cdot 26} = \frac{(5 \cdot 13)^2 \cdot 5^2}{2 \cdot 26} =$$

$$= \frac{5^2 \cdot 5^2 \cdot 13}{4} = \frac{5^4 \cdot 13}{4} \quad 6'$$

$$6) \frac{8-6x}{3x-2} = \frac{-(6x-4)+4}{3x-2} = -2 + \frac{4}{3x-2} = -2 + \frac{4}{3(x-\frac{2}{3})} =$$

$$= -2 + \frac{4/3}{x-\frac{2}{3}}$$



$$\frac{610}{144} = \frac{305}{72}$$

$$18x^2 - 51x + 28 = 0$$

$$D = 51^2 - 4 \cdot 18 \cdot 28 =$$

$$= 17^2 \cdot 9 - 4 \cdot 3 \cdot 9 \cdot 28 =$$

$$= 9(189 - 336)$$

$$51^2 - 4 \cdot 18 \cdot 30 =$$

$$= 17^2 \cdot 9 - 9 \cdot 8 \cdot 30 =$$

$$= (17^2 - 240) \cdot 9 =$$

$$= 49 \cdot 9 = 7 \cdot 7 \cdot 3^2$$

$$= \frac{18 \cdot 17^2 - 3 \cdot 17^2 \cdot 12}{12^2} + 28 =$$

$$= \frac{17^2 \cdot (-18)}{12^2} + 28 = \frac{189(-18)}{9 \cdot 168} + 28$$

$$x_B = \frac{51}{18} = \frac{17}{6}$$

$$\frac{8-6 \cdot \frac{2}{3}}{3 \cdot \frac{2}{3} - 2} = \frac{8-4}{2-2} = \frac{4}{0}$$

$$= \frac{8-4}{0} \text{ - асимптота}$$

$$= \frac{-289}{8} + 28 = \frac{-289 + 224}{8} = \frac{-65}{8} = -8 \frac{1}{8}$$

$$18 \cdot \frac{4}{9} - 51 \cdot \frac{2}{3} + 28 = 26$$

$$= 8 - 34 + 28 = 2$$

$$18 \cdot 4 - 51 \cdot 2 + 28 = -18$$

$$= 72 - 102 + 28 = -2$$

$$18 \cdot \frac{17^2}{9^2} - 51 \cdot \frac{17}{9} + 28 =$$

$$\frac{2 \cdot 17^2}{9} - \frac{3 \cdot 17 \cdot 17}{9} + 28 = \frac{-17^2}{9} + 28$$

$$\frac{289(-18)}{12^2} + 28$$

$$\frac{189}{18} \cdot 9 = 21$$

$$(18x^2 - 51x + 28)' =$$

$$-21 + 28 = 7 = 36x - 51$$

$$x = \frac{51}{36} = \frac{17}{12}$$

ПИСЬМЕННАЯ РАБОТА

$$\begin{cases} 9A^2 + B^2 = 90 \\ B = 9A \quad A, B \geq 0 \\ B = 4A \quad A, B < 0 \end{cases}$$

$$9A^2 + 81A^2 = 90$$

$$A^2 = 90 \quad A = \pm 1, \text{ но } A = 1, B = 9$$

$$9A^2 + 16A^2 = 90$$

$$25A^2 = 90$$

$$A^2 = \frac{90}{25} = \frac{18}{5}$$

$$A = \pm \sqrt{\frac{18}{5}} = \pm \frac{3\sqrt{2}}{\sqrt{5}}$$

$$\text{но } A = -\frac{3\sqrt{2}}{\sqrt{5}}$$

$$B = -\frac{12\sqrt{2}}{\sqrt{5}}$$

$$\frac{9 \cdot 9 \cdot 2}{25} + \frac{12^2 \cdot 2}{25} =$$

$$= \frac{81 \cdot 2 + 144 \cdot 2}{25} = \frac{9 \cdot 5}{25} = 90$$

$$25A^2 = 25 - \frac{9 \cdot 2}{25} = 18$$

$$-\frac{12\sqrt{2}}{5} - 6\left(-\frac{3\sqrt{2}}{5}\right) = \sqrt{\left(\frac{-12\sqrt{2}}{5}\right)^2 + \left(\frac{-3\sqrt{2}}{5}\right)^2}$$

$$\frac{6\sqrt{2}}{5} = \frac{6\sqrt{2}}{\sqrt{5}}$$

$$9 - 6 \cdot 1 = 9 - 1 = 8$$

$$|x^2 - 26x| \log_5 12 + 26x \geq x^2 + 13 \log_5 (26x - x^2)$$

$$|26x - x^2| \log_5 12 + 26x - x^2 \geq 13 \log_5 (26 - x^2)$$

$$26x - x^2 = A$$

$$|A| \log_5 12 + A \geq 13 \log_5 A$$

$$4 < 8$$

$$\log_2 4 < \log_2 8 \quad 2 < 3$$

$$\log_{\frac{1}{2}} 4 > \log_{\frac{1}{2}} 8 \quad -2 > -3$$

$$\log_{13} (|A| \log_5 12 + A) \geq \log_5 A \log_{13} 13$$

$$|A| \log_5 12 + A \geq A$$

$$|A| \log_5 12 \geq 0$$

$$|A|^{\log_5 12} \geq 0 \quad x^a$$

$$\log_5 1 = 0$$

$$e^{\ln x} = x$$

$$a^{\log_a x} = x$$

$$|A|^0 = 1$$

$$|A|^{\frac{\log_5 |A|^{12}}{\log_5 |A|^5}} = 12^{\log_5 |A|} \geq 0$$

$$\log_a f(x) - \log_b g(x) \geq 0 \Leftrightarrow (a-b)(f(x)-g(x)) \geq 0$$

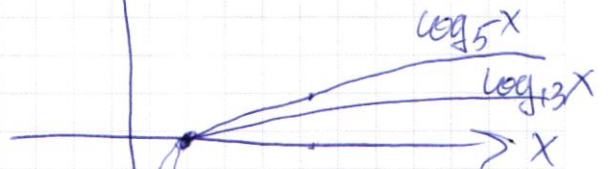
$$\log_2 f(x) - \log_4 g(x) \geq 0$$

log. y ↑

$$-2(f(x)-g(x)) \geq 0$$

$$f(x)-g(x) \leq 0$$

$$f(x) \leq g(x)$$

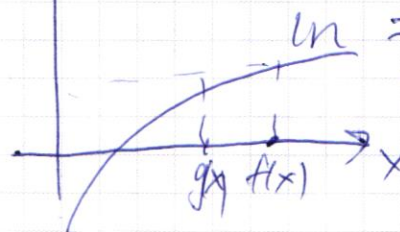


$$\log_{13} f(x) \geq \log_5 g(x)$$

$$\frac{\ln f(x)}{\ln 13} \geq \frac{\ln g(x)}{\ln 5}$$

$$\ln f(x) \geq \ln g(x)$$

y ↑



$$12x^2 - 51x + 30 = 0$$

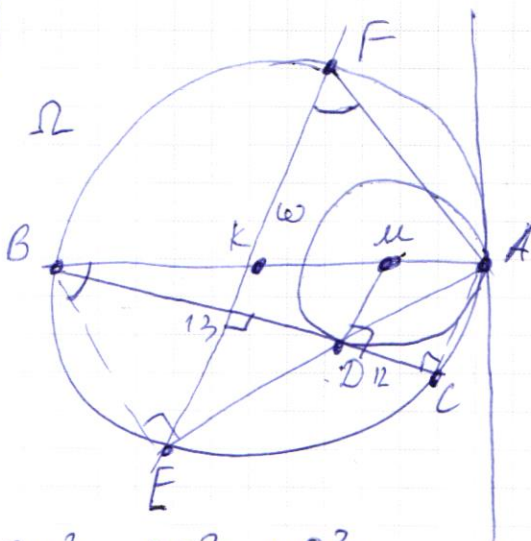
$$D = 51^2 - 4 \cdot 12 \cdot 30 =$$

$$\ln = 17^2 \cdot 9 - 9 \cdot 60 =$$

$$= 9 \cdot 129$$

$$\frac{51 \pm 21}{2 \cdot 12} = \begin{cases} \frac{30}{36} = \frac{5}{6} \\ \frac{72}{36} = 2 \end{cases}$$

4)



$$BU^2 = BD^2 + UD^2$$

$$(2R-r)^2 = 13^2 + r^2 \quad 4R^2 - 4Rr + r^2 = 13^2 + r^2$$

$$\begin{cases} R, r = ? \\ \angle AFE = ? \\ S_{AEF} = ? \end{cases}$$

$$CD = R$$

$$BD = 13$$

$$\frac{BD}{CD} = \frac{BU}{AU} = \frac{13}{12}$$

$$BU = 2R - r \quad \frac{2R - r}{r} = \frac{13}{12}$$

$$AM = r$$

$$24R - 12r = 13r$$

$$24R = 25r$$

ПИСЬМЕННАЯ РАБОТА

$$2) \begin{cases} y - 6x = \sqrt{xy - 6x - y + 6} = \sqrt{x(y-6) - 1(y-6)} = \sqrt{(x-1)(y-6)} \\ 9x^2 + y^2 - 18x - 12y = 45 \end{cases}$$

$$9x^2 - 18x + 9 + y^2 - 12y + 36 = 45 + 9 + 36$$

$$(3x-3)^2 + (y-6)^2 = 90$$

$$\begin{cases} 3x-3=0 \\ y-6=0 \end{cases} \begin{cases} x=1 \\ y=6 \end{cases} \quad \begin{cases} (3x-3)^2 + (y-6)^2 = 90 \\ 9(x-1)^2 + (y-6)^2 = 90 \end{cases}$$

$$\begin{cases} y - 6x = \sqrt{(x-1)(y-6)} \\ 9(x-1)^2 + (y-6)^2 = 90 \end{cases} \quad \begin{matrix} x-1 = A & B-6A = \\ y-6 = B & = y-6 - 6(x-1) = \\ & = y-6 - 6x + 6 = y-6x \end{matrix}$$

$$\begin{cases} B-6A = \sqrt{AB} \\ 9A^2 + B^2 = 90 \end{cases} \quad \begin{matrix} AB = d \\ A+B = \beta \\ 2B-12A = \\ = 2y-12-12x+12 = \\ 2y-12x = 2(y-6x) \end{matrix}$$

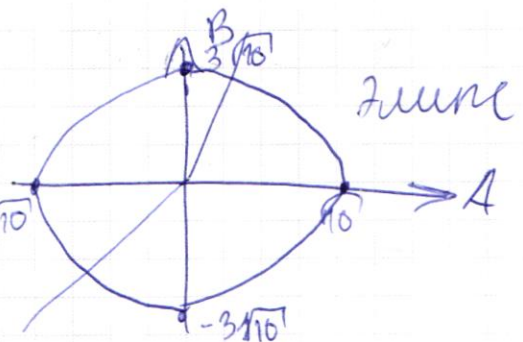
$$\begin{cases} (B-6A)^2 = AB \\ 9A^2 + B^2 = 90 \end{cases} \quad \begin{matrix} B^2 - 12AB + 36A^2 = AB \\ B^2 + 9A^2 = 90 \end{matrix}$$

$$\begin{cases} B-6A = \sqrt{AB} \\ 9A^2 + B^2 = 90 \end{cases}$$

A	0	±√10
B	±3√10	0

$$\frac{A^2}{10} + \frac{B^2}{90} = 1$$

$$\left(\frac{A}{\sqrt{10}}\right)^2 + \left(\frac{B}{3\sqrt{10}}\right)^2 = 1$$



B-6A	1	2	3
A	0	1	2
B	0	3	18

$$\begin{matrix} B-6 = \sqrt{B} \\ B - \sqrt{AB} - 6A = 0 \\ (\sqrt{B})^2 - \sqrt{A}\sqrt{B} - 6(A)^2 = 0 \end{matrix}$$

$$B - 6A = \sqrt{AB}$$

$$B - \sqrt{AB} - 6A = (\sqrt{B})^2 - \sqrt{A}\sqrt{B} - 6(\sqrt{A})^2 = 0$$

$$\text{Относ. } \sqrt{B} \quad \mathcal{D} = (-\sqrt{A})^2 - 4 \cdot 1 \cdot (-6A) = A + 24A = 25A$$

$$\sqrt{B} = \frac{\sqrt{A} \pm 5\sqrt{A}}{2} = \begin{cases} 3\sqrt{A} \rightarrow B = 9A \\ -2\sqrt{A} \end{cases}$$

$$A = 2 \rightarrow \sqrt{B} = 3\sqrt{2}$$

$$B = 9 \cdot 2 = 18$$

$$18 - 6 \cdot 2 = 3\sqrt{2}$$

$$B - 6A = \sqrt{AB}$$

$$(\sqrt{B} - 3\sqrt{A})(\sqrt{B} + 2\sqrt{A}) = 0$$

$$A = 2 \quad B - 12 = \sqrt{2B} = \sqrt{2} \cdot 3\sqrt{2} = 3 \cdot 2$$

$$9 \cdot 2 - 12 = 3 \cdot 2$$

$$A = 3 \quad B - 3 = \sqrt{3B} = \sqrt{3} \cdot 3\sqrt{3} = 3 \cdot 3 = 9$$

$$9 \cdot 3 - 3 = 9$$

$$A = -1 \quad B + 6 = \sqrt{-1 \cdot B} = \sqrt{-1} \cdot (-2\sqrt{-1}) = -2$$

$$\cancel{B} \Rightarrow \cancel{B} \Rightarrow -4 + 6 = \sqrt{-1(-4)} = 2$$

$$AB \geq 0$$

$$\text{или } A \text{ и } B < 0$$

$$A < 0$$

$$B - 6A \geq 0$$

$$-B + 6A = \sqrt{AB} \quad A \text{ и } B > 0$$

$$B < 0$$

$$B \geq 6A$$

$$6A - \sqrt{AB} - B = 0$$

$$A = 1, B = 4$$

$$\cancel{B} + \sqrt{AB} - 6A = 0$$

$$A = -1, B = -4$$

$$(\sqrt{B})^2 + \sqrt{A}\sqrt{B} - 6(\sqrt{A})^2 = 0$$

$$-4 - 6(-1) = \sqrt{-1(-4)}$$

$$2 = 2$$

$$\mathcal{D} = A - 4 \cdot 1 \cdot (-6A) = 25A$$

$$\sqrt{B} = \frac{-\sqrt{A} \pm 5\sqrt{A}}{2} = \begin{cases} 2\sqrt{A} \quad B = 4A \\ -3\sqrt{A} \end{cases}$$

$$B = 4A$$

$$A = 2 \quad B = -8$$

$$-8 - 6(-2) = \sqrt{(-2)(-8)}$$

$$4 = 4$$

$$\left\{ \begin{array}{l} 9A^2 + B^2 = 90 \\ B = 4A \\ B = -4A \end{array} \right.$$

ПИСЬМЕННАЯ РАБОТА

$$\begin{cases} \sin(2\alpha + 2\beta) = \frac{-1}{\sqrt{17}} \\ \sin(2\alpha + 4\beta) + \sin 2\alpha = \frac{-2}{\sqrt{17}} \\ 2 \sin \frac{2\alpha + 4\beta + 2\alpha}{2} \sin \frac{2\alpha + 4\beta - 2\alpha}{2} = \frac{-2}{\sqrt{17}} \end{cases}$$

$$\sin(2\alpha + 2\beta) \sin 2\beta = \frac{-1}{\sqrt{17}}$$

$$\frac{-1}{\sqrt{17}} \sin 2\beta = \frac{-1}{\sqrt{17}}$$

$$\boxed{\sin 2\beta = \frac{\sqrt{17}}{17}} \quad \frac{1}{\sqrt{17}} \cos^2 2\beta + \frac{17}{17} = 1 \quad \cos^2 2\beta = \frac{16}{17}$$

$$\boxed{\cos 2\beta = \pm \frac{4}{\sqrt{17}}}$$

$$\sin 2\alpha \cos 2\beta + \cos 2\alpha \sin 2\beta = \frac{-1}{\sqrt{17}}$$

$$\begin{cases} \sin 2\alpha \left(\frac{4}{\sqrt{17}}\right) + \cos 2\alpha \frac{1}{\sqrt{17}} = \frac{-1}{\sqrt{17}} \\ \sin 2\alpha \left(\frac{-4}{\sqrt{17}}\right) + \cos 2\alpha \frac{1}{\sqrt{17}} = \frac{-1}{\sqrt{17}} \end{cases} \quad \begin{cases} 4\sin 2\alpha + \cos 2\alpha = -1 \\ -4\sin 2\alpha + \cos 2\alpha = -1 \end{cases}$$

$$\begin{aligned} 4 \cdot 2\sin\alpha \cos\alpha + 2\cos^2\alpha - 1 &= -1 & 4 \cdot 2\sin\alpha \cos\alpha + 1 - 2\sin^2\alpha &= -1 \\ 8\sin\alpha \cos\alpha + 2\cos^2\alpha &= 0 & & \\ 2\cos\alpha (4\sin\alpha + \cos\alpha) &= 0 & & \end{aligned}$$

$$\begin{cases} \cos\alpha = 0 \rightarrow \text{tg}\alpha \text{ не определен} \\ 4\sin\alpha + \cos\alpha = 0 \quad 4\text{tg}\alpha + 1 = 0 \end{cases} \quad \boxed{\text{tg}\alpha = \frac{-1}{4}}$$

$$\begin{aligned} -4\sin 2\alpha + \cos 2\alpha &= -1 \\ -4 \cdot 2\sin\alpha \cos\alpha + 2\cos^2\alpha - 1 &= -1 \\ -4 \cdot 2\sin\alpha \cos\alpha + 2\cos^2\alpha &= 0 \\ 2\cos\alpha (-4\sin\alpha + \cos\alpha) &= 0 \\ \cos\alpha = 0 &\rightarrow -1 \text{tg}\alpha = \frac{1}{4} \\ -4\text{tg}\alpha &= \frac{1}{4} \end{aligned}$$

$$\sin 2\alpha \cos 4\beta + \cos 2\alpha \sin 4\beta + \sin 2\alpha = \frac{-2}{17} \quad \begin{aligned} \cos 4\beta &= \cos^2 2\beta - \sin^2 2\beta \\ \sin 4\beta &= 2\sin 2\beta \cos 2\beta \end{aligned}$$

$$\sin 2\alpha \left(\frac{16}{17} - \frac{1}{17} \right) + \cos 2\alpha \cdot 2 \cdot \frac{1}{17} \cdot \frac{\pm 4}{17} + \sin 2\alpha = \frac{-2}{17}$$

$$\sin 2\alpha \cdot \frac{3}{17} \pm \frac{8}{17} \cos 2\alpha + \sin 2\alpha = \frac{-2}{17}$$

$$4\sin 2\alpha \pm 8\cos 2\alpha = -2 \quad \left[\begin{aligned} 4\sin 2\alpha \cos \alpha + 4(2\cos^2 \alpha - 1) &= -1 \\ 4\sin 2\alpha \cos \alpha - 4(2\cos^2 \alpha - 1) &= -1 \end{aligned} \right.$$

$$2\sin 2\alpha \pm 4\cos 2\alpha = -1$$

$$4\sin \alpha \cos \alpha + 8\cos^2 \alpha - 4 + 1 = 0$$

$$4\sin \alpha \cos \alpha + 8\cos^2 \alpha - 3 = 0$$

$$4\sin \alpha \cos \alpha + 6\cos^2 \alpha - 3\cos^2 \alpha - 3\sin^2 \alpha = 0$$

$$4\sin \alpha \cos \alpha + 5\cos^2 \alpha - 3\sin^2 \alpha = 0 \quad \left| \cdot \frac{1}{\cos^2 \alpha} \right.$$

$$10\sin \alpha \cos \alpha + 5\cos^2 \alpha - 6\sin \alpha \cos \alpha - 3\sin^2 \alpha = 0$$

$$5\cos \alpha (2\sin \alpha + \cos \alpha) - 3\sin \alpha (2\cos \alpha - \sin \alpha) = 0$$

$$4\operatorname{tg} \alpha + 5 - 3\operatorname{tg}^2 \alpha = 0$$

$$3\operatorname{tg}^2 \alpha - 4\operatorname{tg} \alpha - 5 = 0$$

$$D = 16 - 4 \cdot 3 \cdot (-5) = 16 + 60 = 76 = (2\sqrt{19})^2$$

$$\operatorname{tg} \alpha = \frac{4 \pm 2\sqrt{19}}{3 \cdot 2} = \frac{2 \pm \sqrt{19}}{3}$$

$$\left[\begin{aligned} 8\sin 2\alpha + 4\cos 2\alpha &= -1 \\ 8\sin 2\alpha - 4\cos 2\alpha &= -1 \end{aligned} \right.$$

$$\left[\begin{aligned} 3\operatorname{tg}^2 \alpha - 16\operatorname{tg} \alpha - 5 &= 0 \\ 5\operatorname{tg}^2 \alpha + 16\operatorname{tg} \alpha - 3 &= 0 \end{aligned} \right.$$

$$D = 16^2 - 4 \cdot 3 \cdot (-5) = 16^2 + 60 =$$

$$= 16^2 + 4 \cdot 15 = 4(4 \cdot 16 + 15) =$$

$$= 4(64 + 15) = 4 \cdot 79$$

$$\operatorname{tg} \alpha = \frac{16 \pm 2\sqrt{79}}{3 \cdot 2} = \frac{8 \pm \sqrt{79}}{3}$$

$$D = 16^2 - 4 \cdot 5 \cdot (-3) = 4(4 \cdot 16 + 15) =$$

$$= 4 \cdot 79$$

$$\operatorname{tg} \alpha = \frac{-16 \pm 2\sqrt{79}}{5 \cdot 2} = \frac{-8 \pm \sqrt{79}}{5}$$