

МОСКОВСКИЙ ФИЗИКО-ТЕХНИЧЕСКИЙ ИНСТИТУТ  
ОЛИМПИАДА "ФИЗТЕХ" ПО МАТЕМАТИКЕ

10 класс

ВАРИАНТ 10

ШИФР

Заполняется ответственным секретарём

- [2 балла] Числа  $a, b, c$  являются первым, вторым и третьим членами геометрической прогрессии соответственно (числа  $a, b, c$  не заданы), а четвёртый член прогрессии является корнем уравнения  $ax^2 - 2bx + c = 0$ . Найдите третий член прогрессии.
- [4 балла] Найдите количество треугольников периметра 900 с целочисленными сторонами, у которых одна из биссектрис перпендикулярна одной из медиан.
- [4 балла] Решите систему уравнений

$$\begin{cases} x - 6y = \sqrt{xy - 6y - x + 6}, \\ x^2 + 2y^2 - 12x - 4y + 20 = 0. \end{cases}$$

- [5 баллов] а) В прямоугольном треугольнике  $ABC$  на катете  $AC$  и гипотенузе  $AB$  отмечены точки  $D$  и  $E$  соответственно, такие что  $AD : AC = 1 : 3$  и  $DE \perp AB$ . Найдите тангенс угла  $BAC$ , если известно, что  $\angle CED = 30^\circ$ .  
б) Пусть дополнительно известно, что  $AC = \sqrt{7}$ . Найдите площадь треугольника  $CED$ .
- [5 баллов] Окружности  $\Omega$  и  $\omega$  касаются в точке  $A$  внутренним образом. Отрезок  $AB$  – диаметр большей окружности  $\Omega$ , а хорда  $BC$  окружности  $\Omega$  касается  $\omega$  в точке  $D$ . Луч  $AD$  повторно пересекает  $\Omega$  в точке  $E$ . Найдите радиусы окружностей и площадь четырёхугольника  $BACE$ , если известно, что  $CD = 2, BD = 3$ .
- [5 баллов] Найдите все пары чисел  $(a; b)$  такие, что неравенство

$$8x - 6|2x - 1| \leq ax + b \leq -8x^2 + 6x + 7$$

выполнено для всех  $x$  на промежутке  $[-\frac{1}{2}; 1]$ .

- [5 баллов] Функция  $f$  определена на множестве положительных рациональных чисел. Известно, что для любых чисел  $a$  и  $b$  из этого множества выполнено равенство  $f(ab) = f(a) + f(b)$ , и при этом  $f(p) = [p/2]$  для любого простого числа  $p$  ( $[x]$  обозначает наибольшее целое число, не превосходящее  $x$ ). Найдите количество пар натуральных чисел  $(x; y)$  таких, что  $2 \leq x \leq 22, 2 \leq y \leq 22$  и  $f(x/y) < 0$ .

### ПИСЬМЕННАЯ РАБОТА

$$\operatorname{tg}(\angle BAC) = \frac{x^2 y^2}{y} = \frac{16x^2 = 16y^2}{4y}$$

$$\frac{z}{4y} = \frac{\sqrt{3}}{2} \quad z = 2\sqrt{3}y$$

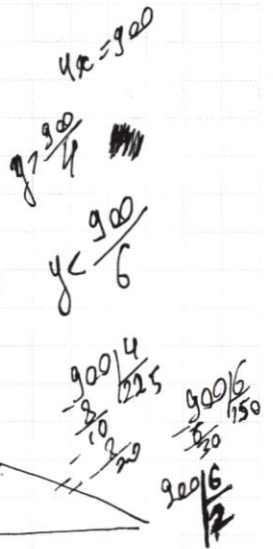
$$CH^2 = 6y^2 + 3y^2 - 6 \cdot 3y^2$$

$$CH^2 = y^2(36 + 9 - 18) = 27y^2$$

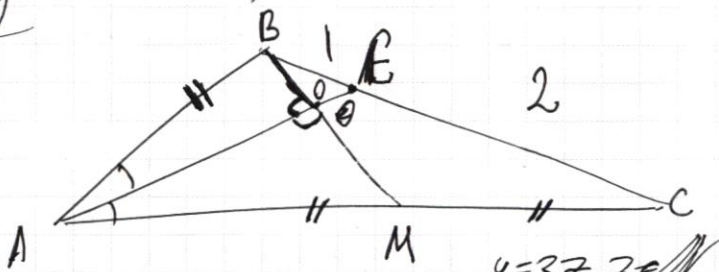
$$CH = 3\sqrt{3}y$$

$$\operatorname{tg}(\angle BAC) = \frac{CH}{AM} = \frac{3\sqrt{3}}{4}$$

$$\operatorname{tg}(\angle BAC) = \frac{CH}{AM} = \frac{2\sqrt{3}y}{3y} = \frac{2}{\sqrt{3}}$$



$$\frac{y(x^2 y^2)}{x}$$



$$y = 3z, z \in \mathbb{N}$$

$$3x + y = 900$$

$$2x < x + y$$

$$3x > x + y \quad x > y \quad x < y < 3x$$

$$y > 2x$$

$$y < 3x$$

$$z < x$$

$$\begin{cases} x + z = 300 \\ z < x \\ 3z > x \end{cases}$$

$$\begin{aligned} z &< 150 \\ z &> 75 \end{aligned}$$

$$74$$

$$\begin{aligned} \frac{EK}{CH} &= \operatorname{ctg}^2 \alpha \\ CH &= EK \cdot \operatorname{ctg}^2 \alpha \end{aligned}$$

$$x^2 = 46 + \dots$$

$$\begin{aligned} c^2 &= a^2 + b^2 = x^2 + 2xy + y^2 \\ a^2 &= h^2 + x^2 \\ b^2 &= h^2 + y^2 \\ 2h^2 &= 2xy \\ h^2 &= xy \end{aligned}$$

$$h = \frac{ab}{c}$$



№10  
w1

Пусть  $q$  - частное геометрической прогрессии, тогда:

$b = a \cdot q$ ,  $c = a \cdot q^2$ . Обозначим четвертый член прогрессии  $d$ , тогда (1)  $d = a \cdot q^3$ . Однако по условию,  $d$  - корень  $ax^2 - 2bx + c = 0$ .

Ⓐ  $a \neq 0$ :  $ax^2 - 2aq + aq^2 = 0$

Дискриминант:  $D = (-2aq)^2 - 4a \cdot aq^2 = 4a^2q^2 - 4a^2q^2 = 0$

$$d = \frac{2aq}{2a}$$

$$d = q \quad (2)$$

Приравняем (1) и (2) по  $d$ , получим:

$$aq^3 = q$$

$$q(aq^2 - 1) = 0$$

$$\text{или } aq^2 - 1 = 0$$

$$aq^2 = 1$$

$$c = aq^2 = 1$$

$$q = 0$$
  
$$c = a \cdot 0^2 = 0$$

Ⓑ  $a = 0$ : в случае, если  $a = 0$ , все члены геометрической прогрессии тоже равны нулю. Уравнение из условия имеет бесконечное множество решений, одно из которых  $0$ , что удовлетворяет условию. Раз все члены равны нулю, то и третий равен нулю.

Ответ:  $0; 1$

№3

$$\begin{cases} x - 6y = \sqrt{xy - 6y - x + 6} \\ x^2 + 2y^2 - 12x - 4y + 20 = 0 \end{cases}$$

$$\begin{cases} x - 6y = \sqrt{(y-1)(x-6)} & (1) \\ (x-6)^2 + 2(y-1)^2 = 18 & (2) \end{cases}$$

Условие существования (1):

$$\begin{cases} x - 6y \geq 0 & (1.1) \\ (y-1)(x-6) \geq 0 & (1.2) \end{cases}$$

Введем замену:  $t = x - 6$  и  $p = y - 1$ ,  $\begin{cases} t - 6p \geq 0 & (1.3) \\ tp \geq 0 & (1.4) \end{cases}$  тогда (1) и (2) примут вид:





$\sqrt{3}$  (иррациональное)

$$\begin{cases} t - 6p = \sqrt{tp} & (3) \\ t^2 + 2p^2 = 18 & (4) \end{cases}$$

т.к.  $t - 6p \geq 0$ , можем возвести обе части (3) в квадрат. Получим:

$$t^2 - 13tp + 36p^2 = 0 \quad (5)$$

$$t = \frac{13p + \sqrt{13p^2 - 4 \cdot 36p^2}}{2}$$

или

$$t = \frac{13p - \sqrt{13p^2 - 4 \cdot 36p^2}}{2}$$

$$t = \frac{13p + 5|p|}{2}$$

$$t = \frac{13p - 5|p|}{2}$$

Рассмотрим все возможные случаи:

①  $t = \frac{13p + 5|p|}{2}$   
 $p \geq 0$

$$t = 9p$$

(1.3) и (1.4) вычитаются

$$\text{из (4): } 81p^2 + 2p^2 = 18$$

$$p = \sqrt{\frac{18}{83}}$$

$$y = \sqrt{\frac{18}{83}} + 1$$

$$x = 9\sqrt{\frac{18}{83}} - 6$$

(1.1) и (1.2) вычитаются, получим

$$\left(9\sqrt{\frac{18}{83}} - 6; \sqrt{\frac{18}{83}} + 1\right) \text{ - корень уравнения}$$

②  $t = \frac{13p + 5|p|}{2}$   
 $p < 0$  (6)

$$t = 9p$$

из (6) и (1.3):

$$\begin{cases} p < 0 \\ 3p \geq 0 \end{cases}$$

Корней нет

③  $t = \frac{13p - 5|p|}{2}$   
 $p < 0$

$$t = 4p$$

(1.3) и (1.4) вычитаются

$$\text{из (4): } 16p^2 + 2p^2 = 18$$

$$p = -1$$

$$\begin{cases} y = 0 \\ x = 2 \end{cases}$$

(1.1) и (1.2) вычитаются, получим

(2; 0) - корень уравнения

④  $t = \frac{13p - 5|p|}{2}$   
 $p \geq 0$  (7)

$$t = 4p$$

из (1.3) и (7):

$$\begin{cases} p \geq 0 \\ 4p - 6p \geq 0 \end{cases}$$

$$\begin{cases} p \geq 0 \\ p \geq 0 \end{cases}$$

Ⓘ  $p \geq 0$ :  $t = \frac{13p + 5p}{2}$

или

$$t = \frac{13p - 5p}{2}$$

$$t = 4p$$

$$\begin{aligned} t &= 9p \\ \text{из (4)} \quad 81p^2 + 2p^2 &= 18 \\ p &= \sqrt{\frac{18}{83}} \end{aligned}$$

$$\text{из (1.3): } 4p - 6p \geq 0$$

$$-2p \geq 0$$

т.к.  $p \geq 0$ , имеем

$$p = 0$$

## ПИСЬМЕННАЯ РАБОТА

№3 (продолжение)

$$y = \sqrt{\frac{18}{83}} + 1$$

$$x = 9\sqrt{\frac{18}{83}} + 6$$

$$t = 0$$

$$x = 6$$

$$y = 1$$

Обе пары  $(x; y)$  удовлетворяют (1.2) и (1.1)

II)  $p < 0: t = \frac{13 + 5p}{2}$

или

$$t = \frac{13 - 5p}{2}$$

$$t = 9p$$

$$t = 4p$$

~~$$U_2(y) \quad 81p^2 + 2p^2 = 18$$~~

$$U_2(y) \quad 18p^2 = 18$$

$p$

$$p = -1$$

$$U_3(1.3): 9p - 6p \geq 0$$

$$y = 0$$

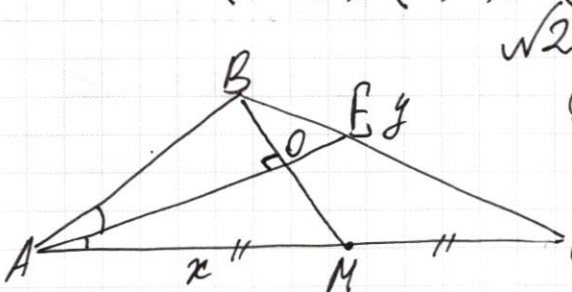
$$3p \geq 0$$

$$x = 2$$

Однако  $p < 0$ , значит  
корней нет

~~$(2; 0)$~~  удовлетворяет (1.1) и (1.2)

Ответ:  $(2; 0), (6; 1), (9\sqrt{\frac{18}{83}} + 6; \sqrt{\frac{18}{83}} + 1)$



①  $AD$  - общая  
 $\angle OAM = \angle OAB$  т.к.  $AE$  - биссектриса  $\Rightarrow$   
 $\angle AOB = \angle AOM = 90^\circ$  по условию

$$\Rightarrow \triangle AOB = \triangle AOM \Rightarrow AB = AM = \frac{AC}{2}$$

Обозначим  $AM$  за  $x$ , а  $BC$  за  $y$ , тогда периметр  $\triangle ABC$  будет  $3x + y$ . Т.к. 2 меньшие стороны треугольника должны быть в сумме больше большей, имеем  $\begin{cases} x < y \\ y < 3x \end{cases}$



По условию имеем систему: 
$$\begin{cases} 3x + y = 900 & (1) \\ x < y < 3x & (2) \end{cases}$$

~~Выразим  $x$  из (1) и подставим в (2):  $x = 300 - \frac{y}{3}$~~

~~$$300 - \frac{y}{3} < y < 900 - y \quad | +y$$~~

~~$$300 + \frac{2}{3}y < 2y < 900 \quad | \cdot \frac{3}{2}$$~~

~~$$450 + y < 3y < 1350 \quad | -y$$~~

~~$$450 < 2y < 1350 \quad | :2$$~~

Заметим, что при  $y = x$ ,  $y = \frac{900}{4} = 225$ , но по условию  $y > x$ , значит  $y > 225$ .  
Аналогично получаем, что при  $y = 3x$ ,  $y = \frac{900}{2} = 450$ , но  $y < 3x$ , значит  $y < 450$ .

Получаем, что 
$$\begin{cases} 3x + y = 900 & (3) \\ 225 < y < 450 & (4) \end{cases}$$

Каждому значению  $y$  соответствует единственное значение  $x$ . Заметим, что т.к.  $3x$  делится на 3 и 900 делится на 3, то и  $y$  должен делиться на 3. Пусть  $z = \frac{y}{3}$ ,  $z \in \mathbb{Z}$ , тогда:

$$\begin{cases} x + z = 300 & (5) \\ 75 < z < 150 & (6) \end{cases}$$

Система (5) и (6) имеет столько же решений, сколько система из (3) и (4), т.к. каждому  $z$  соответствует единственный  $y$ . Система же (5)-(6) имеет  $150 - 75 - 1 = 74$  решения, т.к.  $z$  может быть любым натуральным числом больше 75 и меньше 150.

Ответ: 74.

## ПИСЬМЕННАЯ РАБОТА

$\sqrt{5}$

~~Заметим, что чтобы выполнялась правая часть неравенства из условия для всех  $x \in [-\frac{1}{2}; 1]$~~

Обозначим  $f(x) = 8x - 6|2x - 1|$  и  $g(x) = -8x^2 + 6x + 7$ , и  $k(x) = ax + b$   
Заметим, что чтобы выполнялось  $ax + b \leq g(x)$ ,  $ax + b$  должно быть меньше уравнения прямой проходящей через точки  $(-\frac{1}{2}; g(-\frac{1}{2}))$  и  $(1; g(1))$ . Обозначим эту прямую за  $k(x)$ .  ~~$g(-\frac{1}{2}) = 2$~~ ;  $g(-\frac{1}{2}) = 2$ ;  $g(1) = 5$ . Нетрудно заметить, что через точки  $(-\frac{1}{2}; 2)$  и  $(1; 5)$  проходит прямая  $k(x) = 2x + 3$ .

Распишем теперь  $f(x)$ . По определению модуля раскроем его:  
 $f(x) = \begin{cases} -4x + 6, & x \geq \frac{1}{2} \\ 20x - 6, & x \leq \frac{1}{2} \end{cases}$  Заметим, что при  $x \geq \frac{1}{2}$  функция

возра убывает, а при  $x \leq \frac{1}{2}$  возрастает. Значит максимум функции  $f(x)$  находится при  $x = \frac{1}{2}$ . Чтобы выполнялось  $k(x) \geq f(x)$  как минимум должно выполняться  $k(\frac{1}{2}) \geq f(\frac{1}{2}) = -4 \cdot \frac{1}{2} + 6 = 4$

Тогда, чтобы неравенство из условия выполнялось для всех  $x \in [-\frac{1}{2}; 1]$ , как минимум должно выполняться

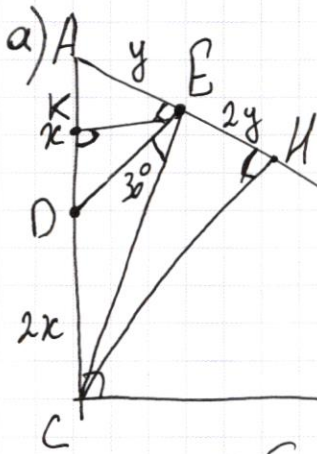
$$\begin{cases} k(\frac{1}{2}) \geq 4 \\ k(x) \leq k(x) \end{cases} \Leftrightarrow \begin{cases} a \cdot \frac{1}{2} + b \geq 4 \\ ax + b \leq 2x + 3 \end{cases}$$

$$\begin{cases} a \cdot \frac{1}{2} + b \geq 4 \\ a \leq 2 \\ b \leq 3 \end{cases} \begin{cases} a + b \geq 4 \\ a \leq 2 \\ b \leq 3 \end{cases} \text{ Система имеет только одно решение } a=2 \text{ и } b=3$$

Отв:  $(2; 3)$



WY



① Проведем высоту  $CH$  в  $\triangle ABC$

②  $CH \perp AB$   
 $DE \perp AB \Rightarrow DE \parallel CH$

③ По теореме Паллеса для угла  $\angle CAB$ ,  
т.к.  $DE \parallel CH$ ,  $\frac{AE}{AH} = \frac{AD}{AC} = \frac{1}{3}$

Обозначим  $AD$  за  $x$ , а  $AE$  за  $y$ , тогда  $DC = 2x$ ,  $EH = 2y$ .

④  $\angle CEH = 90^\circ - \angle CED = 60^\circ$

⑤  $CH = EH \cdot \operatorname{tg}(\angle CEH) = 2y \cdot \operatorname{tg}(60^\circ) = 2\sqrt{3}y$

⑥  $\operatorname{tg}(\angle BAC) = \operatorname{tg}(\angle HAC) = \frac{CH}{AH} = \frac{2\sqrt{3}y}{3y} = \frac{2\sqrt{3}}{3}$

Ответ:  $\frac{2\sqrt{3}}{3}$

б) ① По т. косинусов в  $\triangle DEC$ :  $DC^2 = DE^2 + EC^2 - 2DE \cdot EC \cdot \cos \angle DEC$

$$4x^2 = (x^2 - y^2) + (4y^2 + 12y^2) - \sqrt{(x^2 - y^2)} \cdot 4y \cdot \sqrt{3}$$

$$4x^2 = x^2 - y^2 + 16y^2 - 4\sqrt{3} \cdot y \cdot \sqrt{x^2 - y^2}$$

$$(15y^2 - 3x^2)^2 = 16 \cdot 3y^2(x^2 - y^2)$$

$$3x^4 - 46x^2y^2 + 91y^4 = 0$$

$$x^2 = \frac{46 - 32}{6} y^2$$

$$x = \frac{4\sqrt{6}}{3} y, \text{ т.е. } y = \frac{3}{4\sqrt{6}} x = \frac{3\sqrt{6}}{24} x = \frac{\sqrt{6}}{8} x$$

②  $KE$  - высота в  $\triangle EDC$ .  $KE = \frac{DE \cdot EC}{AD} = \frac{\sqrt{(x^2 - y^2)} \cdot \sqrt{16y^2 + 12y^2}}{x} = \frac{\sqrt{6} \cdot \sqrt{x^2 - \frac{6}{64}x^2}}{x} =$

$$= x \cdot \frac{\sqrt{6}}{8} \cdot \sqrt{\frac{58}{64}} = \frac{\sqrt{6} \cdot \sqrt{58}}{64} x = \frac{\sqrt{3 \cdot 29}}{32} x$$

③  $S_{\triangle DEC} = \frac{1}{2} DC \cdot KE = \frac{\sqrt{3 \cdot 29}}{64} x \cdot 2x = \frac{\sqrt{3 \cdot 29}}{32} x^2$ , т.к. по условию  $AC = \sqrt{7}$ ,

$$\text{т.е. } x = \frac{\sqrt{7}}{3}, \text{ значит: } S_{\triangle DEC} = \frac{\sqrt{3 \cdot 29}}{32} \cdot \frac{7}{9} = \frac{7\sqrt{87}}{288}$$

Ответ:  $\frac{7\sqrt{87}}{288}$

ПИСЬМЕННАЯ РАБОТА

$$1333y^4 - 668xy^2 + 64x^4 = 0$$

$$y = \frac{668 \pm \sqrt{668^2 - 4 \cdot 64 \cdot 1333}}{2 \cdot 1333} \cdot x^2$$

$$x(y-1) + 6(y-1) = (y-1)(x-6)$$

$$y = \dots \cdot x$$

$$\begin{cases} xy - 6y - x + 6 \geq 0 \\ x - 6y \geq 0 \end{cases}$$

$$\begin{cases} x - 6y = \sqrt{xy - 6y - x + 6} \\ x^2 + 2y^2 - 12x - 4y + 20 = 0 \end{cases}$$

$$(x-6)^2 + 2(y-1)^2 = 18 \quad | \cdot \frac{1}{2}$$

$$\frac{(x-6)^2}{2} + (y-1)^2 = 9$$

$$x^2 - 12xy + 36y^2 = xy - 6y - x + 6$$

Замечая:  $t = x - 6$   
 $p = y - 1$   
 $x - 6y = t - 6p$   
 $x - 6 - 6y + 6 = x$

$$x - 6y = \sqrt{(y-1)(x-6)}$$

$$(x-6y)^2 = (x-6)(y-1)$$

$$\begin{cases} t - 6p = \sqrt{tp} \\ t^2 + 2p^2 = 18 \end{cases} \rightarrow t = \sqrt{tp} + 6p$$

$$(\sqrt{tp} + 6p)^2 + 2p^2 = 18$$

$$t = \frac{13p \pm \sqrt{13^2 p^2 - 4 \cdot 36 p^2}}{2} = \frac{13p \pm 5p}{2}$$

①  $t = 9p$   
 $|p| = \sqrt{\frac{18}{83}}$   $p \geq 0$   
 $81p^2 + 2p^2 = 18$   
 $83p^2 = 18 \Rightarrow p = \frac{\sqrt{18}}{\sqrt{83}}$   
 $t = \frac{9 \cdot \sqrt{18}}{\sqrt{83}}$   
 $x = \frac{9 \cdot \sqrt{18}}{\sqrt{83}} + 6$   
 $y = \frac{\sqrt{18}}{\sqrt{83}} + 1$

②  $t = 4p$   
 $16p^2 + 2p^2 = 18$   
 $18p^2 = 18 \Rightarrow p = 1$   
 $t = 4$   
 $x - 6 = 4 \cdot (-1) = -4 \Rightarrow x = 2$   
 $y = p + 1 = 0$  (2; 0)



~~d разности~~

~~$b = a + d$   
 $c = a + 2d$~~

~~$D = (2(a+d))^2 - 4a(a+2d) =$   
 $= 4a^2 + 8ad + 4d^2 - 4a^2 - 8ad = 4d^2 \geq 0$~~

~~$ax^2 - 2(a+d)x + a+2d = 0$~~

~~$\sqrt{D} = 2|d|$~~

~~$x = \frac{2(a+d) \pm 2|d|}{2a}$~~

~~$b = ad$      $b = aq$   
 $c = ad^2$      $c = aq^2$~~

~~$b = 0$   
 $c = 0$~~

$-2bx + c = 0$

$x = \frac{c}{2b} = \frac{aq^2}{2aq} = \frac{q}{2}$

$ax^2 - 2aqx + aq^2 = 0$

$D = 4a^2q^2 - 4a^2q^2 = 0$

$x = \frac{2aq}{2a} = q$

$x = aq^2 = q$

$aq^2 = q$

$q(aq^2 - 1) = 0$

$q = 0$

$c = a \cdot 0^2 = 0$      $xq = \frac{6}{-16} = \frac{3}{8}$   
 $-6$

$aq^2 - 1 = 0$

$aq^2 = 1$

$c = aq^2 = 1$

$8b = \frac{-8 \cdot 9}{8^2} + 6 \cdot \frac{3}{8} + 7 = -\frac{9}{8} + 2 \cdot \frac{9}{8} + 7 =$   
 $= \frac{-7 + 18}{8} = \frac{11}{8}$

$8x - 6 | 2x - 1 \leq ax + b \leq -8x^2 + 6x + 7$

~~$2x - 1$~~   
 $8x - 12x + 6, x \geq \frac{1}{2}$   
 $-4x + 6, x \geq \frac{1}{2}$   
 $8x + 12x - 6, x \leq \frac{1}{2}$   
 $20x - 6, x \leq \frac{1}{2}$

$-\frac{1}{2} \rightarrow \frac{-8}{4} + -3 + 7 = 2$

$-\frac{1}{2} \rightarrow -16$

$2 \leq a + b \leq 5$