

МОСКОВСКИЙ ФИЗИКО-ТЕХНИЧЕСКИЙ ИНСТИТУТ

ОЛИМПИАДА "ФИЗТЕХ" ПО МАТЕМАТИКЕ

10 класс

ВАРИАНТ 10

ШИФР _____

Заполняется ответственным секретарём

1. [2 балла] Числа a, b, c являются первым, вторым и третьим членами геометрической прогрессии соответственно (числа a, b, c не заданы), а четвёртый член прогрессии является корнем уравнения $ax^2 - 2bx + c = 0$. Найдите третий член прогрессии.
2. [4 балла] Найдите количество треугольников периметра 900 с целочисленными сторонами, у которых одна из биссектрис перпендикулярна одной из медиан.

3. [4 балла] Решите систему уравнений

$$\begin{cases} x - 6y = \sqrt{xy - 6y - x + 6}, \\ x^2 + 2y^2 - 12x - 4y + 20 = 0. \end{cases}$$

4. [5 баллов] а) В прямоугольном треугольнике ABC на катете AC и гипотенузе AB отмечены точки D и E соответственно, такие что $AD : AC = 1 : 3$ и $DE \perp AB$. Найдите тангенс угла BAC , если известно, что $\angle CED = 30^\circ$.
б) Пусть дополнительно известно, что $AC = \sqrt{7}$. Найдите площадь треугольника CED .
5. [5 баллов] Окружности Ω и ω касаются в точке A внутренним образом. Отрезок AB – диаметр большей окружности Ω , а хорда BC окружности Ω касается ω в точке D . Луч AD повторно пересекает Ω в точке E . Найдите радиусы окружностей и площадь четырёхугольника $BACE$, если известно, что $CD = 2, BD = 3$.
6. [5 баллов] Найдите все пары чисел $(a; b)$ такие, что неравенство

$$8x - 6|2x - 1| \leq ax + b \leq -8x^2 + 6x + 7$$

выполнено для всех x на промежутке $[-\frac{1}{2}; 1]$.

7. [5 баллов] Функция f определена на множестве положительных рациональных чисел. Известно, что для любых чисел a и b из этого множества выполнено равенство $f(ab) = f(a) + f(b)$, и при этом $f(p) = [p/2]$ для любого простого числа p ($[x]$ обозначает наибольшее целое число, не превосходящее x). Найдите количество пар натуральных чисел $(x; y)$ таких, что $2 \leq x \leq 22, 2 \leq y \leq 22$ и $f(x/y) < 0$.

ПИСЬМЕННАЯ РАБОТА

~ 1. Пусть $b = aq$; $c = aq^2$

$$ax^2 - 2bx + c = ax^2 - 2aqx + aq^2 = 0$$

$$x^2 - 2qx + q^2 = (x - q)^2 = 0$$

$$x = q = aq^3$$

$$q(aq^2 - 1) = 0 \quad q \neq 0$$

$$a = \frac{1}{q^2} \Rightarrow b = \frac{1}{q} \Rightarrow \text{или } c = 1$$

Ответ: 1

~ 3.
$$\begin{cases} x - 6y = \sqrt{xy - 6y - x + 6} & a = \sqrt{x - 6} \\ x^2 + 2y^2 - 12x - 4y + 20 = 0 & b = \sqrt{y - 1} \end{cases}$$

$$\begin{cases} x - 6y = \sqrt{(y-1)(x-6)} \\ (x-6)^2 + 2(y-1)^2 = 10 \end{cases}$$

$$\begin{cases} a^2 - 6b^2 = ab \\ a^4 + 2b^4 = 10 \end{cases} \quad \text{из } 1 \Rightarrow a^2 - ab - 6b^2 = 0$$

$$D = b^2 + 24b^2 = (5b)^2$$

$$a = \frac{b \pm 5b}{2}$$

$$a = 3b$$

$$a = -2b$$

$$81b^4 + 2b^4 = 10$$

$$b^2 = \pm \sqrt{\frac{10}{83}} = y - 1 \Rightarrow$$

$$a^2 = 9b^2 = 9 \sqrt{\frac{10}{83}} = x - 6 \Rightarrow$$

$$\Rightarrow y_i = 1 \pm \sqrt{\frac{10}{83}}$$

$$\Rightarrow x_i = 6 \pm 9 \sqrt{\frac{10}{83}}$$

~~$x \neq 6, y \geq 1 \Rightarrow \sqrt{(x-6)(y-1)}$ существует:~~ $x - 6 = 4; x - 6 = -4$
 $x = -2$

Теперь $a = -2b$

$$a = \pm 2b$$

$$16b^4 + 2b^4 = 10$$

$$y - 1 = 1$$

$$y - 1 = -1$$

$$b^4 = 1 \Rightarrow b^2 = \pm 1$$

$$y = 2$$

$$y = 0$$

$$x - 6 = 4; x - 6 = -4$$

$$x = 10$$

$$x = 2$$

у нас получится пара $(x; y)$:

1. $(6 + 9\sqrt{\frac{14}{83}}; 1 + \sqrt{\frac{14}{83}})$

2. $(6 - 9\sqrt{\frac{14}{83}}; 1 - \sqrt{\frac{14}{83}})$

3. $(10; 2)$

4. $(-2; 0)$

\Rightarrow 1. подкоренные выражения > 0 ; $x > 6y$

2. $\sqrt{xy} - 6y - x + 6 < 0$; $x < 6y$

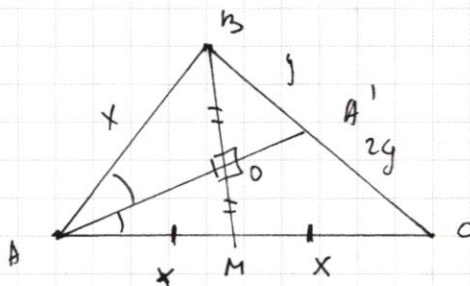
3. $10x - 6y = -2 < 0$

4. $\sqrt{xy} - 6y - x + 6 < 0$
 $x - 6y < 0$

Проверим полученные значения \Rightarrow подходит только 1 корень

Ответ: $x = 6 + 9\sqrt{\frac{14}{83}}$; $y = 1 + \sqrt{\frac{14}{83}}$

~ 42



$\triangle AKB = \triangle AMO$ - равност.

$AM = A'B = x$

$\frac{BA'}{A'C} = \frac{AB}{AC} = \frac{1}{2} = \frac{y}{2y}$

$3x + 3y = 900 \Rightarrow x + y = 300$

$3y + x > 2x \Rightarrow 3y > x$

$3y < 3x \Rightarrow x > y$

$3y = y = 500 \Rightarrow y \geq 75$

$2x = 300 \Rightarrow x \geq 150$

$2y = 300 \Rightarrow y \leq 150$

$3y > x \Rightarrow x < 3y$

$2y$

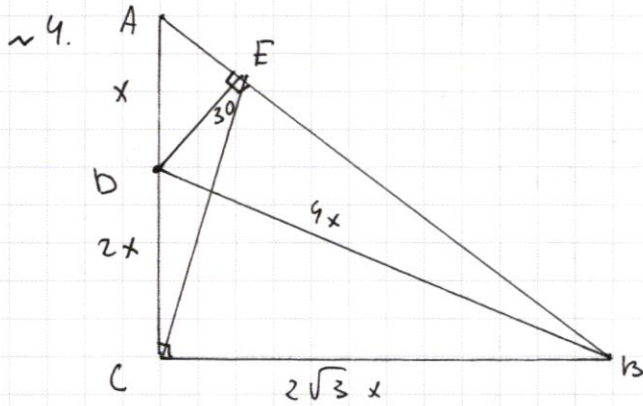
где угодно y есть единствен-
ный $x \Rightarrow$ для y существует

76 значений, то x принимает

то значений, значит всего
существует 76 таких \triangle

Ответ: 76.

ПИСЬМЕННАЯ РАБОТА



$$AD = x; BC = 2x; AC = 3x$$

Заметим, что $CDEF$ — вписанный,
т.к. $\angle DCE + \angle DEF = 180^\circ \Rightarrow \angle DEC = \angle DFC =$

$$= 30^\circ \Rightarrow DB = 2BC = 4x \Rightarrow$$

$$BC = \sqrt{16x^2 - 4x^2} = 2\sqrt{3}x \Rightarrow$$

$$\angle CBA = \frac{BC}{AC} = \frac{2\sqrt{3}x}{3x} = \frac{2\sqrt{3}}{3}$$

$$AC = \sqrt{7} = 3x; x = \frac{\sqrt{7}}{3}$$

$$S_{CDE} = \frac{2}{3} S_{AEC} = \frac{2}{3} (S_{ABC} - S_{BEC}); BC = 2\sqrt{3} \cdot \frac{\sqrt{7}}{3} = \frac{2}{3} \sqrt{21}$$

$$S_{ABC} = \frac{2\sqrt{3}x \cdot 3x}{2} = 3\sqrt{3}x^2 = 21 \cdot 3\sqrt{3} \cdot \frac{7}{9} = \frac{7\sqrt{3}}{3}$$

$$\sin \angle CBA = \frac{AC}{AB} = \frac{\sqrt{7}}{AB} = \frac{2\sqrt{3}}{7} \Rightarrow AB = \frac{7\sqrt{7}}{2\sqrt{3}} = \frac{3\sqrt{7}\sqrt{3}}{7} = \frac{\sqrt{21}}{7}$$

$$AB = \sqrt{(2\sqrt{3}x)^2 - 9x^2} = x\sqrt{21} = \frac{\sqrt{7}}{3} \cdot \sqrt{7} \cdot \sqrt{3} = \frac{7\sqrt{3}}{3}$$

$$S_{BEC} = \frac{BE \cdot BC \cdot \sin \angle EBC}{2}; AE \cdot AB = AD \cdot AC = 3x^2$$

$$BE = AB - EA; AB = \frac{AD \cdot AC}{AB} = \frac{7\sqrt{3}}{3} = \frac{3 \cdot \frac{7}{3}}{\frac{2\sqrt{3}}{3}} = \frac{7}{\sqrt{3}}$$

$$= \frac{2\sqrt{3} - \sqrt{3}}{3} = 2\sqrt{3}$$

$$S_{BEC} = \frac{2\sqrt{3} \cdot \frac{2}{3} \sqrt{21} \cdot \frac{\sqrt{21}}{7}}{2} = 2\sqrt{3}$$

$$S_{CEB} = \frac{2}{3} \left(\frac{7\sqrt{3}}{3} - \frac{6\sqrt{3}}{3} \right) = \frac{2}{3} \cdot \frac{\sqrt{3}}{3} = \frac{2\sqrt{3}}{9}$$

Ответ: $S_{CEB} = \frac{2\sqrt{3}}{9}$

$$\begin{aligned}
 \sim 7. \quad f(1) &= f(1) + f(1) \Rightarrow f(1) = 0 & f(12) &= 3 \\
 f(2) &= f[2/2] = 1 & f(13) &= 6 \\
 f(3) &= 1 = [3/2] & f(14) &= 4 \\
 f(4) &= f(2) + f(2) = 2 & f(15) &= 3 \\
 f(5) &= 2 & f(16) &= 4 \\
 f(6) &= 2 & f(17) &= 8 \\
 f(7) &= 3 & f(18) &= 3 \\
 f(8) &= 3 & f(19) &= 9 \\
 f(9) &= 2 & f(20) &= 4 \\
 f(10) &= 3 & f(21) &= 4 \\
 f(11) &= 5 & f(22) &= 6
 \end{aligned}$$

$$f\left(\frac{1}{2}\right) = f(2) + f\left(\frac{1}{4}\right) = 1 + f\left(\frac{1}{4}\right)$$

$$f\left(\frac{1}{4}\right) = f\left(\frac{1}{2}\right) + f\left(\frac{1}{2}\right)$$

$$f\left(\frac{1}{2}\right) = -1; \quad f\left(\frac{1}{4}\right) = -2; \quad f\left(\frac{1}{8}\right) = f\left(\frac{1}{4}\right) + f\left(\frac{1}{2}\right) = -3$$

$$f(m^k) = k \quad f(m^0) = 0$$

$$\text{Пусть } f(m^k) = k \quad k \leq n$$

$$f(m^{k+1}) = f(m^k) + f(m) \cdot k + 1 \Rightarrow f(m^{k+1}) = (k+1)$$

$$f\left(\frac{x}{y}\right) = f(x) + f\left(\frac{1}{y}\right) = f(x) - f(y): \text{ Пусть найдем}$$

$$\text{мон-во на } \text{ар } (x; y) \quad f(x) < f(y) \quad x; y \in [2; 22]$$

где $x = 2; 3$ y принимает все значения ^{иначе 2, 3} ~~кратные~~

$$2 \cdot f' = 2 \cdot 9 + 4 \cdot 15 + 6 \cdot 9 + 4 \cdot 5 + 1 \cdot 4 + 2 \cdot 2 + 1 \cdot 1 \oplus 0 \cdot 0 \ominus$$

$$f(x) = 1 \quad f(x) = 2 \quad f(x) = 3 \quad f(x) = 4 \quad f(x) = 5 \quad f(x) = 6 \quad f(x) = 8 \quad f(x) = 9$$

иногда решают так

$$\text{S} \ominus 3f' + 60 + 54 + 20 + 4 + 4 + 1 = \del{99} + \del{4} = 88$$

$$= 99 + 74 + 8 = 95 + 82 = 181$$

Ответ: 181

ПИСЬМЕННАЯ РАБОТА

$$a. 8x - 6 \mid 2x - 1 = y$$

$$2x - 1 \geq 0 \quad x \geq \frac{1}{2} \Rightarrow 8x - 12x + 6 = 6 - 4x$$

$$2x - 1 \leq 0 \quad x \leq \frac{1}{2} \Rightarrow 20x - 6$$

$$-8x^2 + 6x + 7 = y$$

$$x_0 = \frac{3}{8}$$

$$y_0 = \frac{25}{8}$$

$$f_1(x) = 8x - 6 \mid 2x - 1$$

$$f_2(x) = -8x^2 + 6x + 7$$

$$f_3(x) = ax + b$$

$$f_1(x) \leq f_3(x) \leq f_2(x) \Leftrightarrow$$

$$x \in \left[-\frac{1}{2}; 1\right]$$

$$\Leftrightarrow f_1(0) \leq f_3(0) \leq f_2(0)$$

$$-6 \leq b \leq 7$$

$$1. b \in [-6; 7]$$

$$f_1\left(-\frac{1}{2}\right) \leq f_2\left(-\frac{1}{2}\right) \leq f_3\left(-\frac{1}{2}\right)$$

$$2. -16 \leq b - \frac{a}{2} \leq 2$$

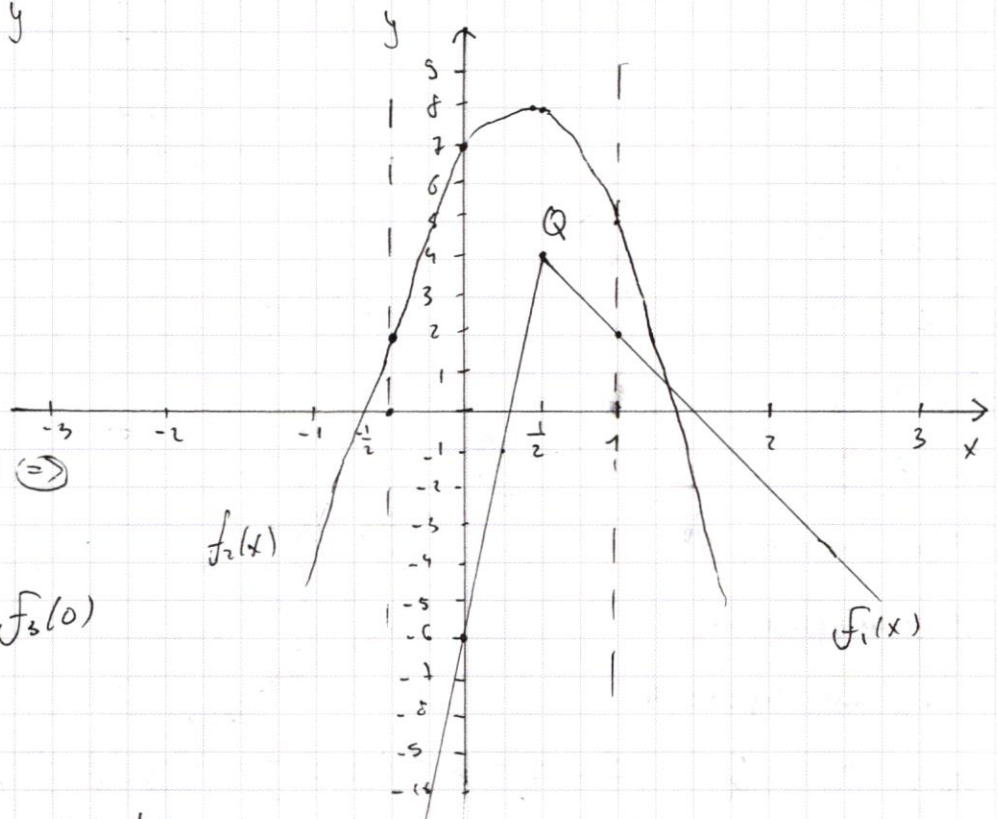
$$f_1(1) \leq f_2(1) \leq f_3(1)$$

$$3. 2 \leq a + b \leq 5$$

$$f_1\left(\frac{1}{2}\right) \leq f_2\left(\frac{1}{2}\right) \leq f_3\left(\frac{1}{2}\right)$$

$$4. 4 \leq \frac{a}{2} + b \leq 8$$

условия 1-4 необходимо и достаточно для
выполнения неравенств



иногда пишут $ax + b = f_3(x)$

$$f_3(x) \leq f_2$$

$$f_3\left(-\frac{1}{2}\right) \leq f_2\left(-\frac{1}{2}\right)$$

$$f_3\left(\frac{1}{2}\right) \geq f_1\left(\frac{1}{2}\right)$$

$$f_3\left(\frac{1}{2} + 1\right) \leq f_1(1)$$

$$1. \quad b \in [-6; 7] \quad g_1$$

$$2. \quad -16 \leq b - \frac{a}{2} \leq 2 \quad g_2$$

$$3. \quad 2 \leq a + b \leq 5 \quad g_3$$

$$4. \quad 4 \leq \frac{a}{2} + b \leq 8 \quad \leftarrow \text{или } g_1$$

$$b - \frac{a}{2} \leq 2$$

$$b \leq 2 - \frac{a}{2}$$

$$b - \frac{a}{2} \geq -16$$

$$b \geq -16 + \frac{a}{2}$$

$$2 \leq a + b \leq 5$$

$$b \geq 2 - a$$

$$b \leq 5 - a$$

$$b \geq 4 - \frac{a}{2}$$

$$b \leq 8 - \frac{a}{2}$$

Можно показать, g_2

что эти прямые

$a + b$ не проходят

через точку Q

то граница отрезка $[-\frac{1}{2}; 1]$

либо она будет проходить выше.

(возможно также проходить

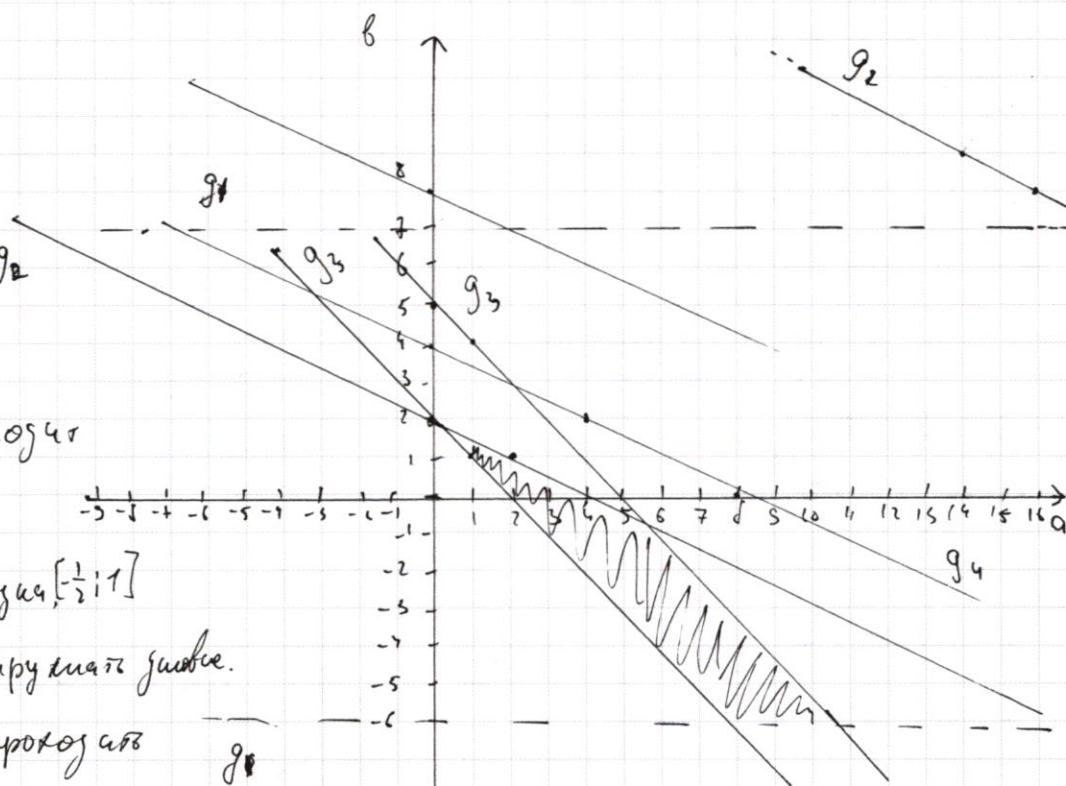
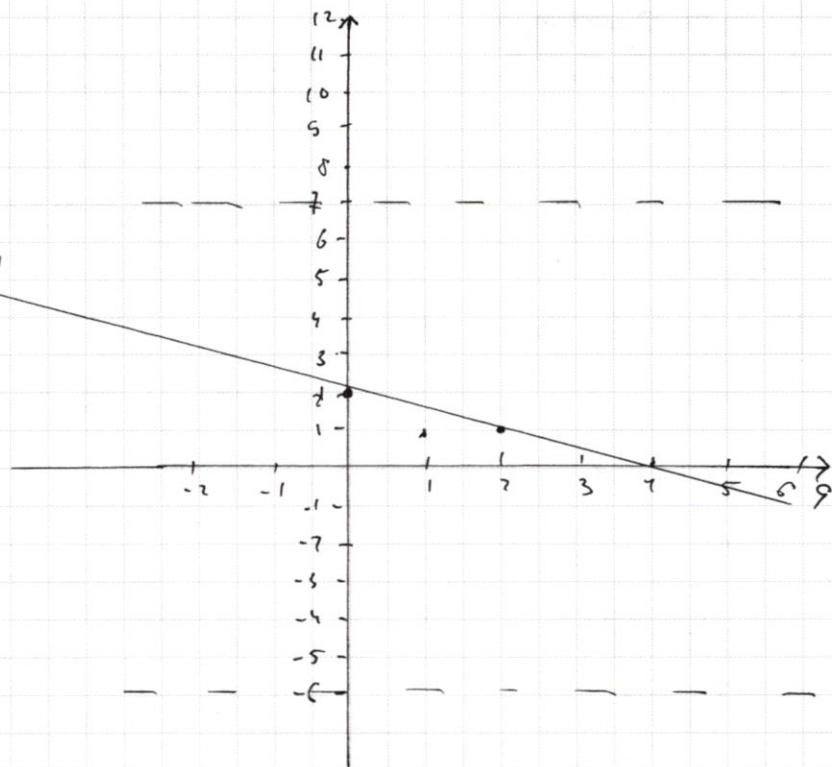
коз Q , что невозможно)

тогда $a + b \in a + b$

при этом не забываем условия же $f \pm \frac{1}{2}$ в точках $x = -\frac{1}{2}; \frac{1}{2}; 1$

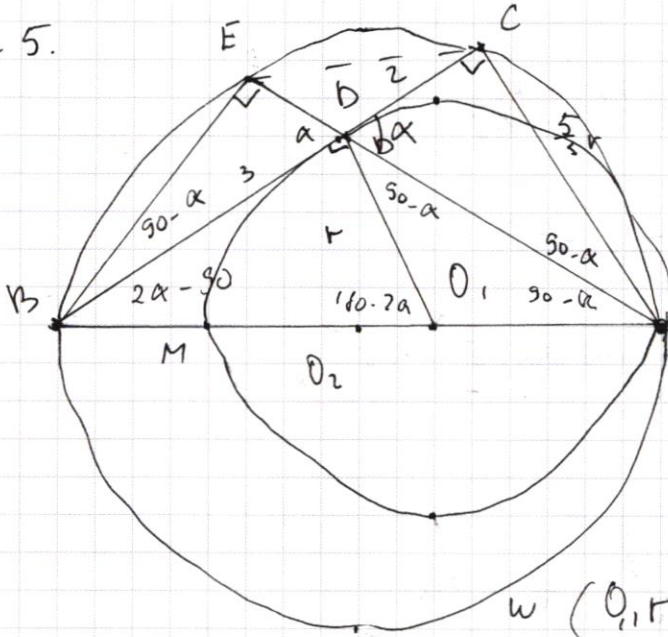
получаем $f(-\frac{1}{2}) = 2; f(\frac{1}{2}) = 4; f(1) = 5$ т.е. $a = \frac{1}{2} \Rightarrow b = 3$

$a = 2; b = 3$ Ответ: $(2; 3)$



ПИСЬМЕННАЯ РАБОТА

~ 5.



$O_1, O_2 \in AB$;

$\angle BCA, \angle BEA = \angle O_1 B C$ — углы перпендикуляра и кас.

и $AB = \text{гипотенуза}$

$\angle CDA = \alpha$; $\angle CAD, 90 - \alpha =$

$\angle CBE$; $\angle PO_1 A = 2\alpha$; $O_1 D = O_1 A$

$\Rightarrow \angle O_1 B A = \angle O_1 A D = 90 - \alpha$

$BD \cdot DC = EB \cdot DA = 6$

$\omega(O_1, r); (O_2; R) \cap \omega$;

$\angle D_2 B C = 180 - 2\alpha \Rightarrow \angle D_2 B O_1 = 2\alpha - 90 \Rightarrow \angle E B A = \alpha$

$\triangle B D O_1 \sim \triangle B C A$; $k = \frac{3}{5}$; $BM \cdot BA = k b^2$

$$\frac{BD_1}{BA} = \frac{BC}{k}$$

$$BM \cdot (BM + 2r) = 9$$

$$\frac{BM + r}{BM + 2r} = \frac{3}{5} \Rightarrow 5BM + 5r = 3BM + 6r \Rightarrow BM = \frac{r}{2}$$

$$\frac{r}{2} + 2,5r = 9$$

$$2,5r^2 = 18$$

$$r^2 = 7,2$$

$$r = 2,5 \sqrt{7,2}$$

$$AB = \sqrt{20 + 5} = 5$$

$$R = 2,5$$

$$AC = 2 \cdot 5 \cdot \frac{5}{3} = \frac{100}{3}; \sqrt{\frac{7,2 \cdot 25}{3}} = \sqrt{0,25 \cdot 25} = 2,5$$

$$AB = \sqrt{AC^2 + BC^2} = \sqrt{36 + \frac{30}{9}} = \sqrt{40} = 2\sqrt{10}$$

$$= \sqrt{36 + \frac{10}{3}} = \sqrt{\frac{118}{3}} = \sqrt{39 \frac{1}{3}}$$

$$AB = 2k \Rightarrow k = \sqrt{\frac{118}{12}} = \sqrt{\frac{59}{6}}$$

$$AB = \sqrt{25 + \frac{300}{9}} = \sqrt{\frac{75 + 100}{3}} = \sqrt{\frac{175}{3}} = 2k$$

$$k = \sqrt{\frac{175}{12}} = \sqrt{\frac{175}{12}}$$

$$S_{BACE} = \frac{BC \cdot AE}{2} \sin \alpha;$$

$$\sin \alpha = \frac{AC}{AD} = \frac{\frac{5}{3}r}{\sqrt{4 + \frac{25}{9}r^2}} = \frac{\frac{40\sqrt{3}}{3}}{\sqrt{4 + \frac{25}{9} \cdot 12}} = \frac{\frac{40\sqrt{3}}{3}}{\sqrt{4 + 100}} = \frac{\frac{40\sqrt{3}}{3}}{\sqrt{104}} = \frac{10}{\sqrt{12}}$$

$$AE = 3 \sin \alpha = \frac{30}{\sqrt{12}}$$

$$S_{BACE} = \frac{\frac{30}{\sqrt{12}} \cdot 10}{2} = \frac{1500}{224} = \frac{750}{112} = \frac{375}{56}$$

Ответ: $r = 2\sqrt{3}$, $R = \sqrt{\frac{175}{12}}$, $S = \frac{375}{56}$

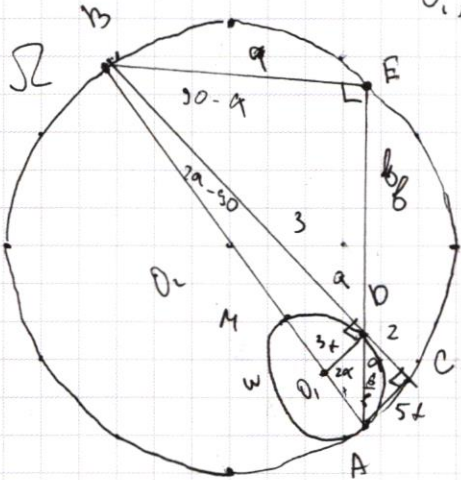
$$r = \sqrt{7,2}; R = 2,5; S_{ABACE} = 2,5$$

$$\sin \alpha = \frac{3\sqrt{20}}{\sqrt{24}} = \sqrt{\frac{5}{6}}$$

$$S_{BACE} = \frac{5 \cdot 3 \sqrt{\frac{5}{6}} \cdot \sqrt{\frac{5}{6}}}{2} = \frac{5 \cdot 3 \cdot \frac{5}{6}}{2} = \frac{10}{4} = 2,5$$

ПИСЬМЕННАЯ РАБОТА

5.



$O_1, O_2 \in AB$; $\angle BCA = \angle BEA = 90^\circ$ т.к. $AB \rightarrow$

диаметр; $\angle O_1 O_2 B = 90^\circ$ т.к.

$r \perp BC$ кас.:

$CD = 2$; $KB = 3$

$\angle ABC = \alpha$; $\angle B O_1 A = 2\alpha$;

$\angle EAC = 90 - \alpha = \angle CBE$ т.к.

равные дуги Ω ; $\angle BO_2 B = 180 - 2\alpha$;

$\angle AKB = 180 - 90 - (180 - 2\alpha) = 2\alpha - 90 \Rightarrow \angle ABE = 90 - \alpha + 2\alpha - 90 =$

$= \alpha$; $\angle O_1 A D = \angle CAB = 90 - \alpha = \angle O_1 D A$; $\text{tg}(90 - \alpha) = \frac{2}{5x}$

$EB \cdot DA = KB \cdot DC = 6$ по св-ву хорд. ~~$KE = 9$; $EB = \frac{2 \cdot 9}{5x}$~~

$KB O_1 = (KB M + r)^2 =$

$\frac{KB O_1}{KB^2} = \frac{KB M + r}{KB M + 2r} = \frac{3}{5}$

$5 KB M = 5r = 3 KB M + 6r$

$2 KB M = r \quad KB M = \frac{r}{2}$

$KE = 9$; $EB = \frac{2 \cdot 9}{5x}$

$\frac{4 \cdot 9^2}{25x^2} + 9^2 = 3$

$\frac{9}{3} = \frac{6}{3} = \frac{2}{6}$

$9^2 \frac{4}{25x^2} + 1 = \left(\frac{3}{9}\right)^2$

$\frac{6}{3} = \frac{6}{3}$

$\sqrt{4 + 75x^2} \cdot \frac{2 \cdot 9}{5x} = 6$

$(4 + 75x^2) \frac{4 \cdot 9^2}{25x^2} = 36$

$\frac{16 \cdot 9^2}{25x^2} \cdot 4 \cdot 9^2 = 36$

$25 \cdot 75 = 10$

~~$\left(\frac{4}{25} x^2 + 1\right) 9^2 = 3^2$~~

~~$\frac{4}{25} x^2 + 1 = \left(\frac{3}{9}\right)^2$~~

~~$DA \cdot DF = 6 = \sqrt{25x^2 + 4} \cdot \frac{2 \cdot 9}{5}$~~

~~$\frac{36}{6^2} = 4 + 75x^2$~~

~~$6^2 = 4 + 75x^2$~~

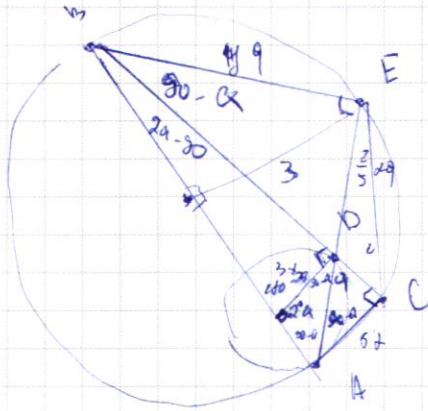
~~$6 = \sqrt{4 + 75x^2}$~~

~~$\frac{4 \cdot 9^2}{25x^2} + 9^2 = 9$~~

$36 \cdot 3 = \frac{105}{10} - \frac{11d}{3} \frac{3}{33}$
 $\frac{28}{21}$
 1

ПИСЬМЕННАЯ РАБОТА

~5.



$$r = R; \int_{BAKE}$$

$$CB = 2 \quad BD = 3$$

$$\frac{CB}{BC} = \frac{OD}{CA}$$

$$EB \cdot BA = 6$$

$$\int a = \frac{2}{5}$$

$$\int a = \frac{EB}{BE} \cdot \frac{\frac{2}{5} \times 9}{9}$$

$$9 + \frac{2}{5} \cdot \left(\frac{5}{2}\right)^2 \cdot 9 = 3$$

$$9^2 + 2,5 \cdot 9^2 = 9^2$$

$$2,5x^2 + x - 9 = 0$$

$$D = 1 + 9 \cdot 2,5 = 23,5$$

$$x_1 = \frac{-1 + \sqrt{23,5}}{2,5}$$

$$x_2 = \frac{-1 - \sqrt{23,5}}{2,5}$$

$$a = \sqrt{\frac{-1 + \sqrt{23,5}}{2,5}}$$

$$r = 3 \cdot 6,25 \cdot \sqrt{\frac{-1 + \sqrt{23,5}}{2,5}}$$

R,

$$\left(\frac{2}{5} \times 9\right)^2 + 9^2 = 3^2$$

$$\left(\frac{4}{25} \times 2 + 1\right) 9^2 = 3^2$$

$$\frac{4}{25} \times 2 + 1 = \left(\frac{3}{9}\right)^2$$

$$\sqrt{4 + 25x^2} \cdot \frac{2}{5} \times 9 = 6$$

$$(4 + 25x^2) \cdot \frac{4}{25} \times 9 = 36$$

$$\frac{16}{25} \times 9 + 4x^2 \times 9 = 36$$

$$x \times 9 \left(4x^2 + \frac{16}{25}\right) = 36$$

$$4 \times 9 \left(x^2 + \frac{4}{25}\right)$$

$$\frac{16}{25} \times 9 \left(\frac{4}{25} \times 2 + 1\right) = 36$$

$$\frac{16}{25} \times 9 \cdot \frac{9}{2} = 36$$

$$\frac{V}{9} = \frac{16 \cdot 5}{25} = 36$$

$$\frac{x}{9} = \frac{36 \cdot 25}{16 \cdot 9} \cdot \left(\frac{30}{12}\right)^2$$

$$x = (2,5)^2 = 6,25$$

$$y = 6,25 \times 9$$

$$6,25 \cdot \frac{2}{5} = 2,5 \times 9$$

$$\left(\frac{3}{9}\right)^2$$

$$\begin{cases} x - 6y = \sqrt{(y-1)(x-6)} & \sqrt{x-6} = a \\ (x-6)^2 + 2(y-1)^2 = 18 & \sqrt{y-1} = b \end{cases}$$

$$\begin{cases} x - 6y = ab \\ a^4 + 2b^4 = 18 \end{cases}$$

$$(x-6)(y-1) =$$

$$(x-6)(y-1)$$

$$a^2 - 6b^2 = x-6 - 6y+6 =$$

$$\begin{cases} a^2 - 6b^2 = ab \\ a^4 + 2b^4 = 18 \end{cases}$$

$$a^2 - ab - 6b^2 = 0$$

$$a^2 - ab - 6b^2 = 0$$

$$b = 8^2 + 24b^2 = (5b)^2$$

$$a = \frac{b \pm 5b}{2} = 3b, -2b$$

$$a = 3b$$

$$81b^4 + 2b^4 = 18$$

$$b^4 = \frac{18}{83}$$

$$b = \sqrt[4]{\frac{18}{83}}$$

$$a = 3 \sqrt[4]{\frac{18}{83}}$$

$$\sqrt{x-6} = 3 \sqrt[4]{\frac{18}{83}}$$

$$x-6 = 9 \cdot \frac{18}{83}$$

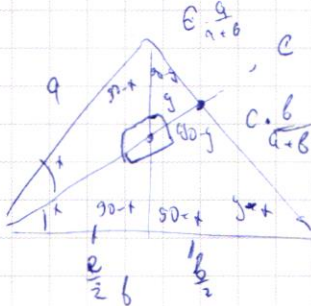
$$x = \frac{162 - 6 \cdot 83}{83}; \quad \sqrt{y-1} = \sqrt[4]{\frac{18}{83}}$$

$$y = 1 + \frac{18}{83}$$

$$64 - 96 = 28 \quad 2:4$$

$$6 - 9 \sqrt[4]{\frac{18}{83}} = -6 + 6$$

ПИСЬМЕННАЯ РАБОТА



$$f(ab) = f(a) + f(b) \quad f(p) = [p/2]$$

$$x \in [2; 22] \quad f\left(\frac{x}{y}\right) < 0$$

$$y \in [2; 22]$$

$$f(1) =$$

$$f\left(\frac{x}{y}\right) = f(x) + f(y)$$

$$x \in \mathbb{Z} \text{ or } y \in \mathbb{Z} \Rightarrow$$

$$f\left(\frac{x}{y}\right) = f(x) \text{ or } f(y)$$

$$f\left(\frac{1}{2}\right) =$$

$$f\left(\frac{1}{4}\right) = 2f\left(\frac{1}{2}\right)$$

$$f\left(\frac{1}{4} \cdot 2\right) = f(2) + f\left(\frac{1}{4}\right) = f\left(\frac{1}{2}\right)$$

$$f\left(\frac{1}{4}\right) = 2f\left(\frac{1}{2}\right) = f\left(\frac{1}{2}\right)$$

$$f\left(\frac{1}{2}\right) = f\left(\frac{1}{4}\right) = 0$$

$$f\left(\frac{1}{2k}\right) = 2f\left(\frac{1}{k}\right)$$

$$f\left(\frac{1}{k^2}\right) = 2f\left(\frac{1}{k}\right) = f(1) + f\left(\frac{1}{k^2}\right)$$

[27]

$$f(1) = f(1) + f(1)$$

$$f(1) = 0$$

$$f(2) = f(1) = 0$$

$$f(3) = f(1) = 0$$

$$f(4) = f(5) = 0$$

$$f(6) = f(4) + f(3) = 0$$

$$f(8) = f(6) = 0$$

$$f(10) = f(7) + f(2) = 0$$

$$f(15) = f(3) + f(5) = 0$$

$$f(16) = f(4) + f(4) = 0$$

$$f(17) = f(18) = f(4) + f(2) = 0$$

$$f(18) =$$

$$f\left(\frac{1}{k}\right) = f(k) + f\left(\frac{1}{k^2}\right)$$

$$f\left(\frac{1}{k}\right) = f\left(\frac{1}{k^2}\right) = 2f\left(\frac{1}{k}\right) = 0$$

$$f\left(\frac{1}{k}\right) = 0 : f\left(\frac{m}{k}\right) = f(m) + f\left(\frac{1}{k}\right) = 0$$

1 down ; 2 down

$$\begin{array}{r}
 1 + \\
 2 + \quad 56 \\
 3 + \quad 224 \\
 4 + \quad + 36 \\
 \hline
 5 + \quad 260 \\
 6 + \\
 7 +
 \end{array}$$

$$8x - 6(2x - 1)$$

$$2x - 1 > 0$$

$$x > \frac{1}{2}$$

$$8x - 12x + 6 = 6 - 4x$$

$$8x + 12x - 6 = 20x - 6$$

$$-8x^2 + 6x + 7 = 0$$

$$D = 36 + 4 \cdot 8 \cdot 7$$

$$= \frac{6}{-2 \cdot 8} \pm \frac{\sqrt{6}}{2 \cdot 8} \pm \frac{3}{8}$$

$$-8 \cdot \frac{9}{64} + \frac{3 \cdot 6}{8} + 7$$

$$x_0; y_0 = \frac{3}{8}; \frac{1}{4}$$

$$\frac{-77 + 18 + 56}{64} = \frac{2}{8} = \frac{1}{4}$$

$$-8 \cdot \frac{9}{4} + 6 \cdot \frac{3}{2} + 7$$

$$\frac{-6}{-16} \pm \frac{-3}{-8} = \frac{3}{8}$$

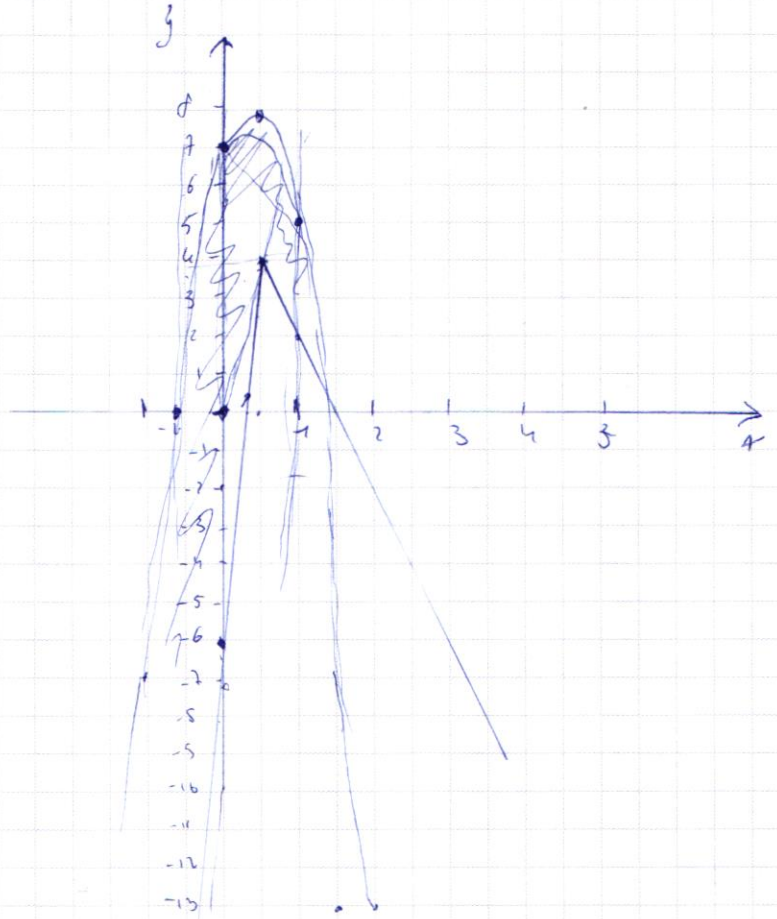
$$-18 + 9 + 7 = -2$$

$$-8 \cdot \frac{9}{64} + \frac{6 \cdot 3}{8} + \frac{56}{8}$$

$$= \frac{-9 + 18 + 56}{8} = \frac{64}{8}$$

$$-8 \cdot \frac{1}{4} + 6 \cdot \frac{1}{2} + 7$$

$$-2 + 3 + 7 = 8$$



$$b \geq -6$$

$$-8 \cdot 4 + 12 = 7$$

$$b \in [-6; 7]$$

$$-32 + 12 = -20$$

$$-8 - 6 + 7$$

$$f\left(\frac{1}{2}\right) \geq 4$$

$$a \cdot \frac{1}{2} + b \geq 4$$

$$b \in [-6; 7] \geq 4$$

$$a + 2b \geq 4$$

$$a > 0$$

$$a \geq 4 - 2b$$

$$-8 \cdot \frac{1}{4} - 6 \cdot \frac{1}{2} + 7$$

$$-2 - 3 + 7 = 2$$

ПИСЬМЕННАЯ РАБОТА

$$a, b, c \quad a, aq, aq^2$$

$$ax^2 - 2bx - c = 0$$

$$D = 4b^2 - 4ac = 2\sqrt{b^2 - ac}$$

$$x = \frac{2b \pm 2\sqrt{b^2 - ac}}{2a} = \frac{b \pm \sqrt{b^2 - ac}}{a} = aq^3$$

$$(x+6)^2 + (\sqrt{2}y - \sqrt{2})^2 = 2 \quad 2y^2 - 4y = 20$$

36

$$(x-6)^2 + 2(y-1)^2 = 18$$

36 + 2 =

$$x-6y = \sqrt{xy-6y-x+6}$$

$$xy-6y-x+6 \geq 0$$

$$xy(x-6) + (x-6) \geq 0$$

$$(y-1)(x-6) \geq 0$$

$$y-6y \geq 0$$

$$x^2 - 12xy + 36y^2 = xy - 6y - x + 6$$

$$x^2 - 13xy + 36y^2 + 6y - x - 6 = 0$$

$$(x-6y)^2 = (y-1)(x-6)$$

$$f(1) = 0 \quad f(3) = 1$$

$$f(2) = 1 \quad f(4) = 2$$

$$f(5) = 2$$

$$f(6) = 2$$

$$f(7) = 3$$

$$f(8) = 43$$

$$f(9) = 2$$

$$4 = 2\sqrt{1} \cdot \sqrt{1}$$

$$x = \frac{2\sqrt{1}}{2}$$

$$f\left(\frac{1}{2}\right) = f(2) \cdot f\left(\frac{1}{4}\right)$$


$$f\left(\frac{1}{4}\right) = f\left(\frac{1}{2}\right) + f\left(\frac{1}{2}\right)$$

$$(x-6)^2 + 2(y-1)^2 = 18$$

$$(x-6)^2 = 18$$

$$x-6 = 4 \quad x = 2$$

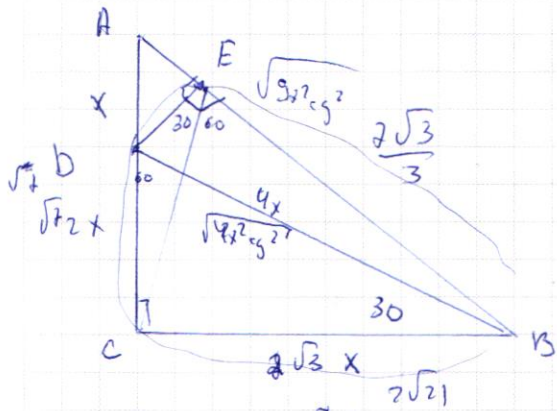
$$x = 10;$$



$$f\left(\frac{1}{2}\right) = 1 + f\left(\frac{1}{4}\right)$$

$$f\left(\frac{1}{4}\right) = f\left(\frac{1}{2}\right)^2$$

$$f\left(\frac{1}{2}\right) = -1$$



$\sphericalangle BAC$

$\sphericalangle C$

$$\sqrt{46x^2 - 4x^2} = 2\sqrt{3}x \quad \sphericalangle 49$$

$$\sphericalangle BAC = \frac{2\sqrt{3}x}{3x} = \frac{2\sqrt{3}}{3}$$

$$\frac{AE}{x} = \frac{3x}{AB}$$

$$AB \cdot AE = 3x^2$$

$$AC = \sqrt{7} ; CD = \frac{2}{3}\sqrt{7}$$

$$\sqrt{7} + 2\sqrt{21} + 2\sqrt{3} \cdot \frac{\sqrt{7}}{3}$$

$$\sqrt{7} = AC \quad S_{CED} = \frac{2}{3} S_{AEC} = \frac{2}{3} (S_{ABC} - S_{BEC})$$

$$CB = \frac{2}{3}\sqrt{21}$$

$$AB = \sqrt{7 + \frac{4}{9} \cdot 21} = \sqrt{7 + \frac{28}{3}}$$

$$= \sqrt{\frac{49}{3}} = \frac{7\sqrt{3}}{3}$$

$$S_{CED} = \frac{2}{3} (S_{ABC} - S_{BEC})$$

S_{BEC} уг т. косинусов.

$$ax^2 - 2aqx + aq^2 = 0$$

$$x^2 - 2qx + q^2 = 0$$

$$(x - q)^2 = 0$$

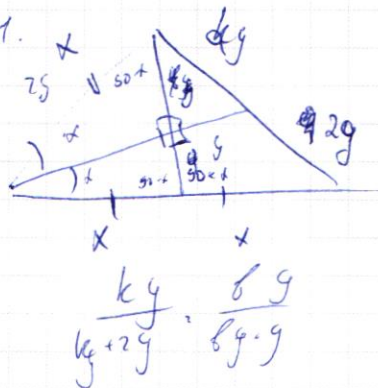
$$q = x \Rightarrow aq^3 = q$$

$$q(aq^2 - 1) = 0$$

$$aq^2 - 1 = 0$$

$$a = \frac{1}{q^2} \Rightarrow b = \frac{1}{q} ; c = 1$$

Ответ: $c > 1$ и т.



$$\frac{k}{a+2} = \frac{1}{b+1}$$

$$kb + k = (k+2)b$$

$$k = 2b$$

$$3x + 3a = 300$$

$$x + a = 300$$

$$x + a > 2x$$

$$3a > x$$

$$x + a = 300$$

$$3a < 3x$$