



МОСКОВСКИЙ
ФИЗИКО-ТЕХНИЧЕСКИЙ
ИНСТИТУТ

ОЛИМПИАДА "ФИЗТЕХ"
ПО МАТЕМАТИКЕ

10 КЛАСС. Вариант 9



1. [4 балла] Натуральные числа a, b, c таковы, что ab делится на $2^{14}7^{10}$, bc делится на $2^{17}7^{17}$, ac делится на $2^{20}7^{37}$. Найдите наименьшее возможное значение произведения abc .

2. [4 балла] Известно, что дробь $\frac{a}{b}$ несократима ($a \in \mathbb{N}, b \in \mathbb{N}$). На доске записана дробь

$$\frac{a+b}{a^2-6ab+b^2}.$$

При каком наибольшем m могло оказаться, что числитель и знаменатель дроби можно сократить на m ?

3. [4 балла] Центр окружности ω лежит на окружности Ω , хорда AB окружности Ω касается ω в точке C так, что $AC : CB = 7$. Найдите длину AB , если известно, что радиусы ω и Ω равны 1 и 5 соответственно.

4. [5 баллов] Решите уравнение

$$\sqrt{2x^2 - 5x + 3} - \sqrt{2x^2 + 2x + 1} = 2 - 7x.$$

5. [5 баллов] На координатной плоскости дан параллелограмм с вершинами в точках $O(0;0)$, $P(-12;24)$, $Q(3;24)$ и $R(15;0)$. Найдите количество пар точек $A(x_1; y_1)$ и $B(x_2; y_2)$ с целыми координатами, лежащих в этом параллелограмме (возможно, на границе) и таких, что $2x_2 - 2x_1 + y_2 - y_1 = 12$.

6. [5 баллов] Найдите все значения параметра a , для каждого из которых найдётся значение параметра b , при котором система

$$\begin{cases} ax - y + 10b = 0, \\ ((x+8)^2 + y^2 - 1)(x^2 + y^2 - 4) \leq 0 \end{cases}$$

имеет ровно 2 решения.

7. [6 баллов] Треугольник ABC вписан в окружность. Пусть M – середина той дуги AB описанной окружности, которая не содержит точку C ; N – середина той дуги AC описанной окружности, которая не содержит точку B . Найдите расстояние от вершины A до центра окружности, вписанной в треугольник ABC , если расстояния от точек M и N до сторон AB и AC соответственно равны 4,5 и 2.

На одной странице можно оформлять **только одну** задачу.

Отметьте крестиком номер задачи,
решение которой представлено на странице:

1	2	3	4	5	6	7
<input checked="" type="checkbox"/>	<input type="checkbox"/>	<input type="checkbox"/>	<input type="checkbox"/>	<input type="checkbox"/>	<input type="checkbox"/>	<input type="checkbox"/>



Если отмечено более одной задачи или не отмечено ни одной задачи,
страница считается черновиком и не проверяется. Порча QR-кода недопустима!



$$ab : 2^{14} 7^{10}$$

$$bc : 2^{17} 7^{17}$$

$$ac : 2^{20} 7^{37}$$

Значит, мы можем представить $ab = 2^{14} 7^{10} n, n \in \mathbb{N}$
 $bc = 2^{17} 7^{17} m, m \in \mathbb{N}$
 $ac = 2^{20} 7^{37} k, k \in \mathbb{N}$

~~Итого~~ Перемножим эти произведения

$$ab \cdot bc \cdot ac = 2^{14} 7^{10} n \cdot 2^{17} 7^{17} m \cdot 2^{20} 7^{37} k$$

$$(abc)^2 = 2^{51} 7^{64} nmk$$

$(abc)^2$ является полным квадратом $\Rightarrow 2^{51} 7^{64} nmk$ также является

полным квадратом \Rightarrow степени 2 должны быть четной \Rightarrow одно из чисел $n, m, k : 2^{2t+1}$

Чтобы abc было наименьшим, остальные 2 числа из n, m, k

~~должны быть~~ $\frac{nmk}{2^{2t+1}}$ должно быть наименьшим возможным квадратом

$$(abc)^2 = 2^{50+2t} 7^{64} \cdot \frac{nmk}{2^{2t+1}}$$

$$(abc)^2 = 2^{50} 7^{64} \cdot 1$$

$$abc = 2^{25} 7^{32}$$

$$n=2 \Rightarrow ab = 2^{15} 7^{10}$$

$$c = 2^{11} 7^{22}, b = 2^6 \cdot 7^{15}$$

$$m=2 \Rightarrow bc = 2^{18} 7^{17}$$

$$a = 2^8 \cdot 7^{15}, b = 2^8 \cdot 7^5$$

$$k=2 \Rightarrow ac = 2^{21} 7^{37}$$

$$b = 2^5 \cdot 7^5$$

Значит, такое есть и можно.

$$\left(\frac{nmk}{2^{2t+1}} \right)$$

Исходя из наименьшего квадрата является 1

$$(abc)^2 = 2^{50-2t} 7^{64} \cdot \frac{nmk}{2^{2t+1}}$$

$$abc = 2^{25-t} 7^{32}$$

abc должно быть $\geq 2^{20} 7^{37}$, т.к. в противном случае $ac = 2^{20} 7^{37} > abc$

Ответ: $2^{26} 7^{37}$



На одной странице можно оформлять **только одну** задачу.

Отметьте крестиком номер задачи,
решение которой представлено на странице:

1	2	3	4	5	6	7
<input type="checkbox"/>	<input checked="" type="checkbox"/>	<input type="checkbox"/>	<input type="checkbox"/>	<input type="checkbox"/>	<input type="checkbox"/>	<input type="checkbox"/>

МФТИ

Если отмечено более одной задачи или не отмечено ни одной задачи,
страница считается черновиком и не проверяется. Порча QR-кода недопустима!

$\frac{a}{b}$ - несократима $\rightarrow a$ и b не имеют общих делителей

$$\frac{a+b}{a^2 - 6ab + b^2} = \frac{a^2 - b^2}{(a-b)(a^2 - 6ab + b^2)}$$

На одной странице можно оформлять **только одну** задачу.

Отметьте крестиком номер задачи,
решение которой представлено на странице:

1 2 3 4 5 6 7



Если отмечено более одной задачи или не отмечено ни одной задачи,
страница считается черновиком и не проверяется. Порча QR-кода недопустима!

Пусть O_1 - центр окружности ω , O_2 - центр окружности ω_1 , тогда

$$O_1A = O_1B = 5, \quad O_2C = 1$$

AB - касательная к $\omega_1 \Rightarrow AB \perp O_2C$

Пусть $AC = 7x$, тогда $BC = x \Rightarrow x > 0$

$AB \perp O_2C \Rightarrow \triangle BO_2C, \triangle AO_2C$ - прямоугольные \triangle

\Rightarrow по т. Пифагора

$$BO_2 = \sqrt{1+x^2}$$

$$\text{и } AO_2 = \sqrt{1+49x^2}$$

Угол $\angle AO_1B = 2\varphi$, тогда $\angle AO_2B = 180^\circ - \varphi$

В $\triangle AO_1B$ по т. кос-ов

$$AB^2 = O_1B^2 + O_1A^2 - 2 \cos 2\varphi \cdot O_1B \cdot O_1A$$

$$64x^2 = 25 + 25 - 2 \cos 2\varphi \cdot 25$$

$$\cos 2\varphi = 1 - \frac{64x^2}{50}$$

В $\triangle AO_2B$ по т. кос-ов

$$AB^2 = O_2B^2 + O_2A^2 - 2 \cos(180^\circ - \varphi) \cdot O_2A \cdot O_2B$$

$$64x^2 = 1+x^2 + 1+49x^2 - 2 \cos(180^\circ - \varphi) \cdot \sqrt{1+x^2} \cdot \sqrt{1+49x^2}$$

$$14x^2 = 2 + 2 \cos \varphi \cdot \sqrt{1+x^2} \cdot \sqrt{1+49x^2}$$

$$4x^2 = 1 + \sqrt{2 - \frac{64x^2}{50}} \cdot \sqrt{1+x^2} \cdot \sqrt{1+49x^2}$$

$$(4x^2 - 1)^2 = \left(1 - \frac{32x^2}{50}\right)^2 (1 + 50x^2 + 49x^4)$$

$$49x^4 - 14x^2 + 1 = \left(1 - \frac{32x^2}{50}\right)^2 (1 + 50x^2 + 49x^4) - 32x^4 - \frac{32x^2}{50} \cdot 49x^4$$

$$64x^2 - 0,64x^2 - 32x^4 - 0,64x^6 - 49 = 0$$

$$x^2 - 0,01x^2 - 0,5x^4 - 0,49x^6 = 0$$

$$49x^6 + 50x^4 - 99x^2 = 0$$

$$x^2(49x^4 + 50x^2 - 99) = 0$$

$x > 0 \Rightarrow$ разделим на x^2

Пусть $x^2 = t \geq 0$

$$49t^2 + 50t - 99 = 0$$

$$(t-1)(49t+99) = 0$$

$$t = 1$$

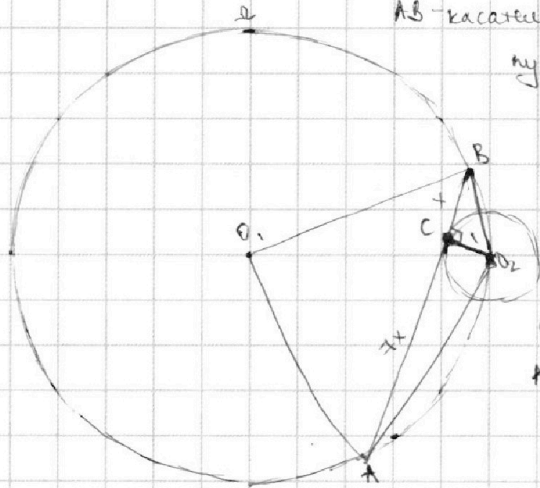
$$t = -\frac{99}{49} < 0 \text{ - не } y_{\text{доп.}}$$

$$t = 1 \Rightarrow x^2 = 1 \Rightarrow x = 1$$

$$x = -1 = 0 \text{ - не } y_{\text{доп.}}$$

$$AB = AC + BC = 8x = 8$$

Ответ: $AB = 8$.



На одной странице можно оформлять **только одну** задачу.

Отметьте крестиком номер задачи,
решение которой представлено на странице:

1 2 3 4 5 6 7



Если отмечено более одной задачи или не отмечено ни одной задачи,
страница считается черновиком и не проверяется. Порча QR-кода недопустима!



$$\sqrt{2x^2-5x+3} - \sqrt{2x^2+2x+1} = 2-7x$$

дошкочим на сопряженное

$$\frac{2x^2-5x+3 - 2x^2-2x-1}{\sqrt{2x^2-5x+3} + \sqrt{2x^2+2x+1}} = 2-7x$$

$$\frac{-7x+2}{\sqrt{2x^2-5x+3} + \sqrt{2x^2+2x+1}} = 2-7x$$

ОДЗ: $2x^2-5x+3 \geq 0$
 $D = 25 - 4 \cdot 2 \cdot 3 = 1$
 $x = \frac{5 \pm 1}{4} = 1,5$
 $x < 1$
 $x \in (-\infty; 1) \cup [1,5; +\infty)$

$2x^2+2x+1 \geq 0$
 $D = 4 - 4 \cdot 2 = 0$
 $x \in \mathbb{R}$

~~$\sqrt{2x^2-5x+3} + \sqrt{2x^2+2x+1} > 0$ при $x \in \mathbb{R}$~~
 или наоборот x , удовлетворяющих ОДЗ, т.к. $\sqrt{2x^2+2x+1} > 0$, $\sqrt{2x^2-5x+3} \geq 0$

$$\frac{2-7x}{\sqrt{2x^2-5x+3} + \sqrt{2x^2+2x+1}} = 2-7x$$

$$2-7x = (2-7x)(\sqrt{2x^2-5x+3} + \sqrt{2x^2+2x+1})$$

$$(2-7x)(\sqrt{2x^2-5x+3} + \sqrt{2x^2+2x+1} - 1) = 0$$

$$\begin{cases} 2-7x=0 \\ \sqrt{2x^2-5x+3} + \sqrt{2x^2+2x+1} = 1 \end{cases} \Leftrightarrow \begin{cases} x = \frac{2}{7} \\ \sqrt{2x^2-5x+3} + \sqrt{2x^2+2x+1} = 1 \end{cases} \quad (2)$$

$x \in (-\infty; 1) \cup [1,5; +\infty)$

(2) $\Leftrightarrow \sqrt{2x^2-5x+3} = 1 - \sqrt{2x^2+2x+1}$
 $2x^2-5x+3 \geq 1 + 2x^2+2x+1 - 2\sqrt{2x^2+2x+1}$
 $2\sqrt{2x^2+2x+1} \geq 4x-1$
 $8x^2+8x+4 \geq 16x^2-14x-1$
 $41x^2-22x-3 \geq 0$

$D = 484 + 12 \cdot 41 = 576$
 $x = \frac{22 \pm 24}{82} \geq \frac{46}{82} = \frac{23}{41}$
 $x = \frac{22-24}{82} = -\frac{1}{41}$

Проверка: при $x = \frac{23}{41}$

$$\sqrt{2 \cdot \frac{529}{1681} - \frac{115}{41} + 3} - \sqrt{2 \cdot \frac{529}{1681} + \frac{46}{41} + 1} = 2 - 4 \cdot \frac{23}{41}$$

$$\sqrt{\frac{1386}{1681}} - \sqrt{\frac{853}{1681}} = -\frac{79}{41}$$

$\frac{1386}{1681} > \frac{853}{1681} \Rightarrow$ левая часть ур. положительная, правая - отрицательная \Rightarrow не подходит

при $x = -\frac{1}{41}$

$$\sqrt{2 \cdot \frac{1}{1681} + \frac{5}{41} + 3} - \sqrt{2 \cdot \frac{1}{1681} - \frac{2}{41} + 1} = 2 + \frac{7}{41}$$

$$\sqrt{\frac{5250}{1681}} - \sqrt{\frac{1601}{1681}} = \frac{89}{41}$$

$\sqrt{5250} - \sqrt{1601} = 89$
 $\sqrt{5250} \geq 89 + \sqrt{1601} > 89$
 $\sqrt{5250} < 129 \Rightarrow \sqrt{5250} \neq 89 + \sqrt{1601} \Rightarrow x = -\frac{1}{41}$ не подходит

Ответ: $x = \frac{2}{7}$

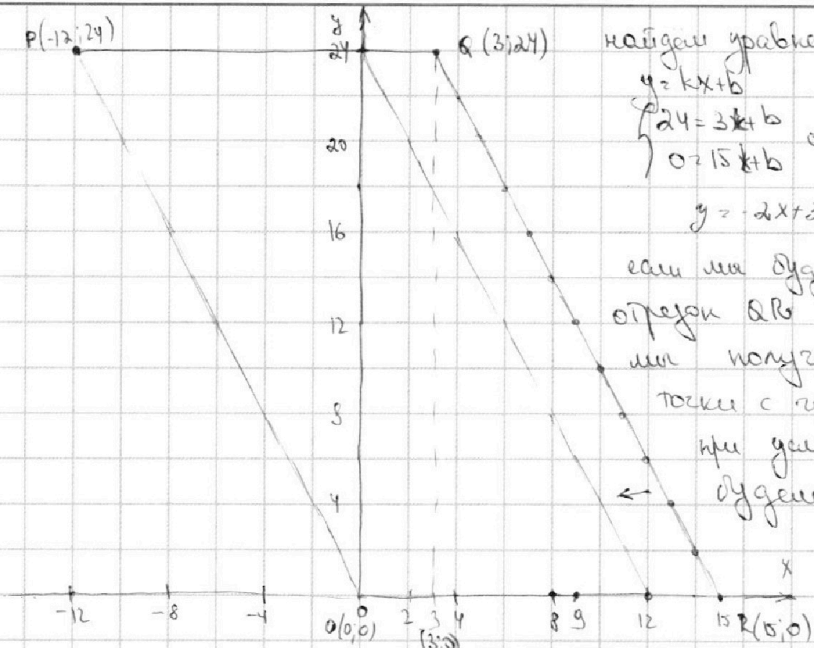
На одной странице можно оформлять только одну задачу.

Отметьте крестиком номер задачи,
решение которой представлено на странице:

1 2 3 4 5 6 7



Если отмечено более одной задачи или не отмечено ни одной задачи,
страница считается черновиком и не проверяется. Порча QR-кода недопустима!



найдем уравнение прямой AB

$$y = kx + b$$

$$\begin{cases} 24 = 3k + b \\ 0 = 15k + b \end{cases} \Leftrightarrow \begin{cases} k = -2 \\ b = 30 \end{cases} \Leftrightarrow \begin{cases} k = -2 \\ b = 30 \end{cases}$$

$$y = -2x + 30$$

если мы будем параллельно переносить отрезок AB вдоль оси Ox влево, то мы получим ~~все~~ все точки с целыми значениями координат при условии, что каждый раз будем b уменьшать на 1 (при таком переносе $k = \text{const}$)

по условию $2x_2 - 2x_1 + y_2 - y_1 = 12$

$$(2x_2 + y_2) - (2x_1 + y_1) = 12$$

$$(2x_2 - 2x_1 + b_2) - (2x_1 - 2x_1 + b_1) = 12$$

$$b_2 - b_1 = 12$$

то есть для того, чтобы пара точек $A(x_1, y_1)$ и $B(x_2, y_2)$ с целыми координатами удовлетворяли условию, они должны лежать на прямых ~~параллельных~~ $y = -2x + b_1$ и $y = -2x + b_1 + 12$

Эти прямые будут пересекать ось Ox в точках $x = \frac{b_1}{2}$ и $x = \frac{b_1}{2} + 6$, т.е. точки их пересечения с осью Ox должны находиться на расстоянии 6.

Всего таких пар прямых - 10, причем на каждой лежит по 3 точки с целыми координатами, лежащих в первом квадранте.

Значит, всего количество пар точек A и B равно $\frac{10 \cdot 3}{2} = 15$

Ответ: 15. 65

На одной странице можно оформлять **только одну** задачу.

Отметьте крестиком номер задачи,
решение которой представлено на странице:

- 1 2 3 4 5 6 7

МФТИ

Если отмечено более одной задачи или не отмечено ни одной задачи,
страница считается черновиком и не проверяется. Порча QR-кода недопустима!



$$\begin{cases} ax - y + 10b = 0 \\ ((x+8)^2 + y^2 - 1)(x^2 + y^2 - 4) = 0 \end{cases}$$

построим графически
 $((x+8)^2 + y^2 - 1)(x^2 + y^2 - 4) = 0$

$$y = ax + 10b \text{ - прямая}$$

решим задачу, когда эта прямая
касается двух окружностей, а это
возможно только в 2 случаях:

в этих случаях $y = ax + 10b$ проходит
через $(-\frac{16}{3}; 0)$

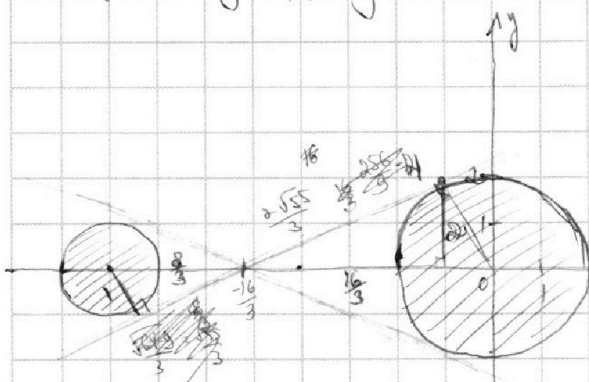
$$x^2 + (ax + 10b)^2 = 4$$

$$(x+8)^2 + (ax + 10b)^2 = 1$$

$$x^2 + 64 + 16x - x^2 = 3$$

$$16x = -67$$

$$x = -\frac{67}{16}$$



~~$$x^2 + a^2x^2 + 10abx - 4 = 0$$~~

~~$$(1+a^2)x^2 + 20abx + 10ab^2 - 4 = 0$$~~

~~$$D = 400a^2b^2 - 4(10ab^2 - 4)(1+a^2) =$$~~

~~$$= 400a^2b^2 - 4(10ab^2 + 10a^2b^2 - 4 - 4a^2) =$$~~

~~$$= -400b^2 + 16 + 16a^2 = 0$$~~

~~$$a^2 + 1 - 25b^2 = 0$$~~

$$(x+8)^2 + (ax + 10b)^2 = 1 = 0$$

$$x^2 + 16x + 64 + a^2x^2 + 10ab^2 + 20abx - 1 = 0$$

$$(1+a^2)x^2 + (20ab + 16)x + 63 + 10ab^2 = 0$$

~~$$D = 400a^2b^2 + 256 + 640ab + (63 + 10ab^2)(1+a^2) =$$~~

~~$$= 400a^2b^2 + 256 + 640ab - 252 - 400a^2b^2 - 400b^2 - 4a^2 =$$~~

~~$$= 640ab + 4 - 400b^2 - 4a^2 = 0$$~~

в этих случаях $y = ax + 10b$ проходит через $(-\frac{16}{3}; 0)$

$$-\frac{16}{3}a = 10b \Rightarrow a = -\frac{30b}{16} = -\frac{15b}{8} \Rightarrow b = -\frac{16}{30}a = -\frac{8}{15}a$$

$$\frac{16}{3}x = 2 \cdot \left(\frac{2\sqrt{55}}{3} + \sqrt{22-4} \right)$$

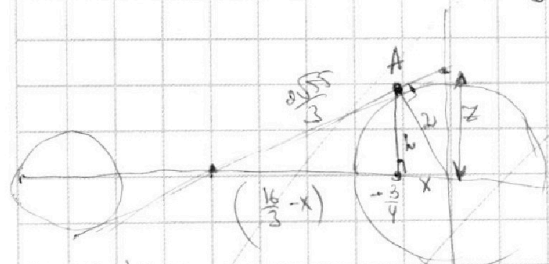
$$\frac{16}{3}x = \frac{4\sqrt{55}}{3} + 2\sqrt{2-4} + \frac{4}{3}\sqrt{55}\sqrt{2-4}$$

$$16x = 4\sqrt{55} + 9x - 36 + 12\sqrt{55}\sqrt{2-4} + 9x^2 - 12x + 184 + 12\sqrt{55}\sqrt{2-4}$$

$$\frac{\sqrt{55}}{4}x = -\frac{3}{4}a + 10b \Rightarrow \frac{\sqrt{55}}{4}x = -\frac{3}{4}a + 10 \cdot \left(-\frac{8}{15}a\right)$$

$$A(-a, b)$$

$$A\left(-\frac{3}{4}, \frac{\sqrt{55}}{4}\right)$$



$$x^2 + h^2 = 4$$

$$\frac{256}{9} + x^2 + \frac{32}{3}x + h^2 = \frac{4\sqrt{55}}{9}$$

$$4 + 4 - \frac{32}{3}x = 0$$

$$x = \frac{8 \cdot 3}{32 \cdot 4} \Rightarrow h = \sqrt{4 - \frac{9}{16}} = \sqrt{\frac{64-9}{16}} = \frac{\sqrt{55}}{4}$$

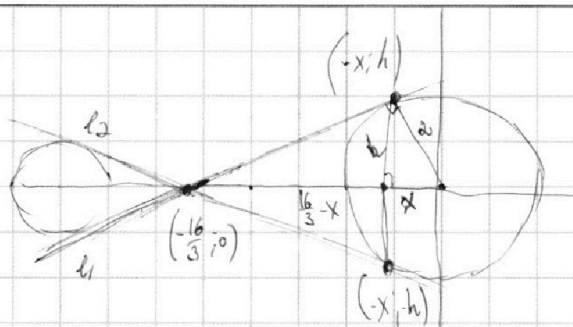
На одной странице можно оформлять **только одну** задачу.

Отметьте крестиком номер задачи,
решение которой представлено на странице:

1 2 3 4 5 6 7



Если отмечено более одной задачи или не отмечено ни одной задачи,
страница считается черновиком и не проверяется. Порча QR-кода недопустима!



$$h^2 + x^2 = 4$$

$$\frac{4 \cdot 55}{9} = h^2 + \frac{256}{9} + x^2 - \frac{32}{3}x$$

$$8 = \frac{32}{3}x$$

$$x = \frac{24}{32} = \frac{3}{4}$$

$$h = \sqrt{4 - \frac{9}{16}} = \frac{\sqrt{55}}{4}$$

кр. л.

$$\begin{cases} 0 = -\frac{16}{3}a + 10b \\ \frac{\sqrt{55}}{4} = -\frac{3}{4}a + 10b \end{cases}$$

$$\frac{\sqrt{55}}{4} = \left(-\frac{8}{4} + \frac{16}{3}\right)a$$

~~Handwritten calculations showing a path to the solution for a.~~

$$a = \frac{\sqrt{55}}{4} \cdot \frac{12}{4 \cdot 55} = \frac{3}{\sqrt{55}}$$

кр. л.

$$\begin{cases} a = -\frac{16}{3}a + 10b \\ -\frac{\sqrt{55}}{4} = -\frac{3}{4}a + 10b \end{cases}$$

$$-\frac{\sqrt{55}}{4} = \left(\frac{16}{3} - \frac{3}{4}\right)a$$

$$-\frac{\sqrt{55} \cdot 64}{4} = \frac{55}{12}a$$

$$a = -\frac{\sqrt{55}}{4} \cdot \frac{12}{55} = -\frac{3}{\sqrt{55}}$$

$$a = \pm \frac{3\sqrt{55}}{55}$$

Ответ: $a = \pm \frac{3\sqrt{55}}{55}$

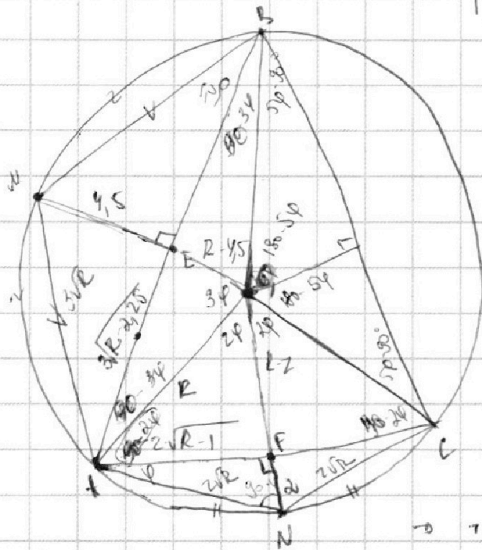
На одной странице можно оформлять **только одну** задачу.

Отметьте крестиком номер задачи,
решение которой представлено на странице:

1 2 3 4 5 6 7



Если отмечено более одной задачи или не отмечено ни одной задачи,
страница считается черновиком и не проверяется. Порча QR-кода недопустима!



равные дуги вписывают равные отрезки

$$\widehat{BM} = \widehat{AM}, (C \notin BM, C \notin AM) \Rightarrow BM = AM \Rightarrow$$

$$\Rightarrow \triangle AMB - \text{р/б}$$

пусть ME - расстояние от M до AB, $ME \perp AB \Rightarrow$

$\Rightarrow ME$ - высота в р/б $\triangle MB$ $\Rightarrow ME$ - бис. и мед. \Rightarrow

$$\Rightarrow AE = BE$$

Аналогично $AN = CN \Rightarrow \triangle ANC - \text{р/б}$

NF - расстояние от N до AC, $NF \perp AC \Rightarrow$

$\Rightarrow NF$ - бис. в р/б $\triangle NC$ $\Rightarrow NF$ - мед. и бис. \Rightarrow

$$\Rightarrow AF = CF$$

$NF \perp AC, AF = CF$ \Rightarrow $ME \perp NF$ - ср. перпендикуляр
 $ME \perp AB, AE = BE$ к отрезкам AB и AC \Rightarrow

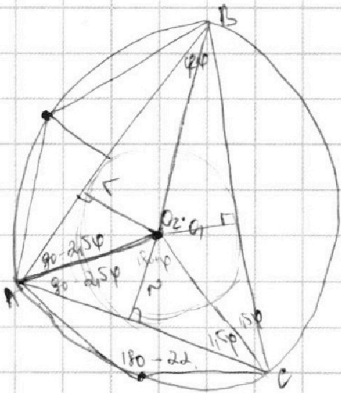
\Rightarrow т. O - центр окр-ти \Rightarrow $OM = ON$ на их пересечении

пусть R - радиус окр-ти, тогда $OE = R - 4,5$; $OF = R - 2$, по т. Пифагора в $\triangle OFE$ и $\triangle OFE$ как гипот.

$$AF = \sqrt{R^2 - (R-2)^2} = \sqrt{R^2 - R^2 + 4R - 4} = \sqrt{4R - 4} = 2\sqrt{R-1};$$

$$AE = \sqrt{R^2 - (R-4,5)^2} = \sqrt{R^2 - R^2 + 9R - 20,25} = \sqrt{9R - 20,25} = 3\sqrt{R-2,25}.$$

$$AN = \sqrt{4R - 4 + 4} = 2\sqrt{R}; \quad AU = \sqrt{9R - 20,25 + 20,25} = 3\sqrt{R}.$$






На одной странице можно оформлять **только одну** задачу.

Отметьте крестиком номер задачи,
решение которой представлено на странице:

1	2	3	4	5	6	7
<input type="checkbox"/>	<input type="checkbox"/>	<input type="checkbox"/>	<input type="checkbox"/>	<input type="checkbox"/>	<input type="checkbox"/>	<input type="checkbox"/>



Если отмечено более одной задачи или не отмечено ни одной задачи,
страница считается черновиком и не проверяется. Порча QR-кода недопустима!




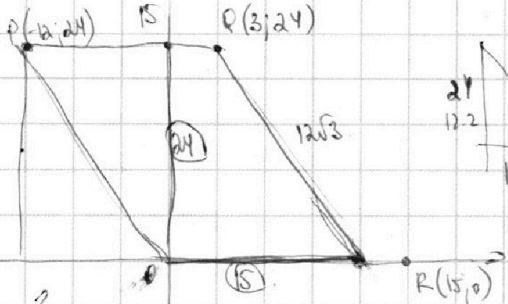
На одной странице можно оформлять **только одну** задачу.

Отметьте крестиком номер задачи,
решение которой представлено на странице:

- 1 2 3 4 5 6 7



Если отмечено более одной задачи или не отмечено ни одной задачи,
страница считается черновиком и не проверяется. Порча QR-кода недопустима!



$$1 - \cos 2\varphi = \frac{64x^2}{50}$$

$$\cos 2\varphi = 1 - \frac{64x^2}{50}$$

$$\cos(120 - \varphi) = \sqrt{\frac{1 - \frac{64x^2}{50} + 1}{2}} = \sqrt{1 - \frac{32x^2}{50}}$$

$$14x^2 = 2 + 2 \left(\sqrt{1 - \frac{32x^2}{50}} \cdot \sqrt{(1+x^2)(1+9x^2)} \right)$$

$$7x^2 = 1 + \sqrt{1 - 0,64x^2} \cdot \sqrt{1+x^2} \cdot \sqrt{1+9x^2}$$

$$7x^2 - 1 =$$

$$(7x^2 - 1)^2 = (1 - 0,64x^2) (1+x^2)(1+9x^2)$$

$$(49x^4 - 14x^2 + 1) = (1 + 50x^2 + 9x^4) (1 - 0,64x^2)$$

$$964x^4 - 32x^2 - 37 = 964x^4 + 49x^4 - 0,64x^2 - 0,64x^2 \cdot 50x^2 - 0,64x^2 \cdot 99x^4$$

$$64x^2 - 0,64x^2 - 32x^2 - 37 = 964x^4 + 49x^4 = 0$$

$$x^2 - 0,01x^2 - 0,01 \cdot 50x^4 - 0,01 \cdot 99x^6 = 0$$

$$0,99x^2 - 0,5x^4 - 0,99x^6 = 0$$

$$x^2 (0,99x^4 + 0,5x^2 - 0,99) = 0$$

$$49x^4 + 99x^2 + 50 - 99 = 0$$

$$x^2 = 2500 + 4 \cdot 99 \cdot 99 = 4(25^2 + 4 \cdot 99^2) = 11$$

$$x = \frac{-60 \pm 4\sqrt{1369}}{98} = \frac{-25 \pm 2\sqrt{1369}}{49} > 0$$

$$ax - y + 10b = 0$$

$$((x-1)^2 + y^2 - 1)(x^2 + y^2 - 4) \leq 0$$

$$(x-1)(-y)$$

$$0 \leq (x-1)(-y)$$

$$ax - y + 10b = 0 \text{ найдет } b - 2 \text{ или } ax - y + 10b = 0$$

$$y = ax + 10b$$

$$49 \cdot 50 - 99$$

$$1 \cdot 49 \cdot 99 \cdot 0$$

$$(x-1)(49x + 99) = 0$$

$$-49x - 99x$$

$$ab =$$

$$ab = 214710$$

$$bc = 218717$$

$$ac = 220719$$

$$a = 2775 \quad b = 2775$$

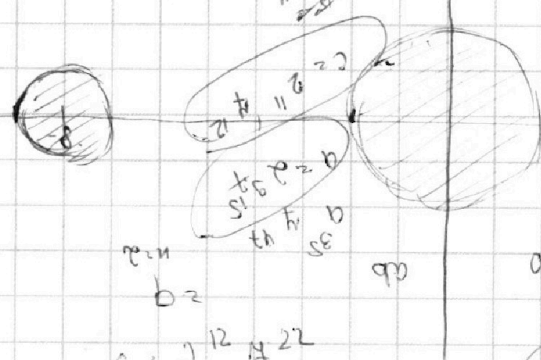

$$ab \cdot ac = 237747$$

$$226732$$

$$a = 28415$$

$$c = 212422$$

$bc = 218717$
 $ac = 220719$
 $c = 212422$



На одной странице можно оформлять **только одну** задачу.

Отметьте крестиком номер задачи,
решение которой представлено на странице:

1 2 3 4 5 6 7



Если отмечено более одной задачи или не отмечено ни одной задачи,
страница считается черновиком и не проверяется. Порча QR-кода недопустима!



$$\sqrt{2x^2 - 5x + 3} + \sqrt{2x^2 + 2x + 1} = 2 - 7x$$

$$\sqrt{2x^2 - 5x + 3} - \sqrt{2x^2 + 2x + 1} = 2 - 7x$$

$$\sqrt{2x^2 - 5x + 3} + \sqrt{2x^2 + 2x + 1} > 0$$

$$2 - 7x = (2 - 7x)(\sqrt{2x^2 - 5x + 3} + \sqrt{2x^2 + 2x + 1})$$

$$(2 - 7x)(\sqrt{2x^2 - 5x + 3} + \sqrt{2x^2 + 2x + 1} - 1) = 0$$

$$x = \frac{2}{7}$$

$$2x^2 - 5x + 3 + 2x^2 + 2x + 1 + 2\sqrt{(2x^2 - 5x + 3)(2x^2 + 2x + 1)} \leq 1$$

$$4x^2 - 3x + 4 + 2\sqrt{\dots} \leq 1$$

$$\sqrt{2x^2 - 5x + 3} + \sqrt{2x^2 + 2x + 1} \geq 1 \quad \text{нет решений}$$

$$\sqrt{2 \cdot 2,25 + 3 + 1}$$

$$0 + \sqrt{8,5} > 1$$

1) $2x^2 - 5x + 3$ и $2x^2 + 2x + 1$ одновременно равно 0

$$2x^2 - 5x + 3 = 0$$

$$D = 25 - 4 \cdot 3 \cdot 2 = 1$$

$$x = \frac{5 \pm 1}{4} \geq 1,5$$

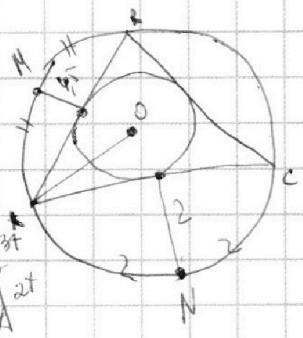
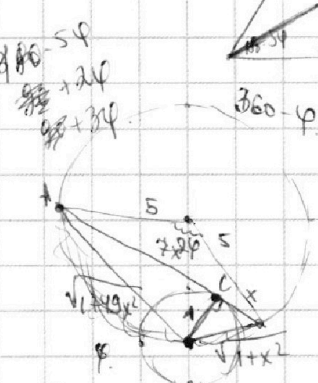
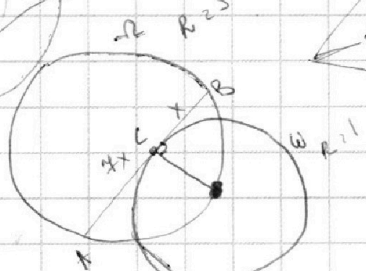
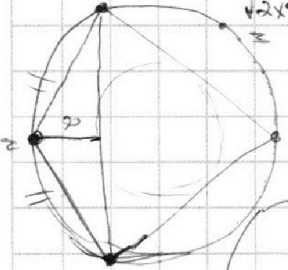
$$x \geq 1$$

$$x \in (-\infty; 1] \cup [1,5; +\infty)$$

$$2x^2 + 2x + 1 = 0$$

$$D = 4 - 4 \cdot 2 = 0$$

$$\left(2x^2 + 2x + 1\right) + \frac{1}{2} \geq 0$$



$$64x^2 = 25 + 25 - 2 \cos \varphi \cdot 25$$

$$64x^2 = 50(1 - \cos \varphi)$$

$$64x^2 = 1 + 9x^2 + 1 + x^2 - 2 \cos(180 - \varphi) \cdot \sqrt{(1 + 9x^2)(1 + x^2)}$$

$$14x^2 = 2 - 2 \cos \varphi$$

$$\cos \varphi = 2 \cos 2\varphi - 1 \Rightarrow \cos \varphi = \frac{\cos 2\varphi + 1}{2}$$

abc

$$ab = 2^{14} \cdot 7^{10}$$

$$bc = 2^{14} \cdot 7^{17}$$

$$ac = 2^{20} \cdot 7^{37}$$

$$ab = 2^{14} \cdot 7^{10}$$

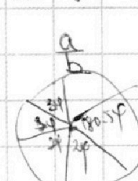
$$bc = 2^{14} \cdot 7^{17}$$

$$ac = 2^{20} \cdot 7^{37}$$

$$a^2 b^2 c^2 = 2^{51} \cdot 7^{64} \cdot m^2$$

$$2^{31} \cdot m^2$$

$$2^{52} \cdot 7^{64}$$



$$a^2 = 6ab + b^2$$

$$\frac{a}{b} = \frac{1386}{1}$$

$$\begin{array}{r} 1386 \\ 1386 \\ \hline 1386 \end{array}$$

$$\frac{2 \cdot 10^5}{180^2}$$

$$\frac{111}{111}$$

$$\frac{1681}{1681}$$

$$\frac{1681}{1681}$$

$$\frac{1681}{1681}$$

$$\frac{1681}{1681}$$

$$\frac{1681}{1681}$$

На одной странице можно оформлять только одну задачу.

Отметьте крестиком номер задачи,
решение которой представлено на странице:

- 1
- 2
- 3
- 4
- 5
- 6
- 7



Если отмечено более одной задачи или не отмечено ни одной задачи,
страница считается черновиком и не проверяется. Порча QR-кода недопустима!



$(-12; 24) \quad 15 \quad 3 \quad (3; 24)$

$2x - 2x + y_2 - y_1 = 12$

$16 \quad 8 - 10 + 3 \quad 18 - 15 + 3 \quad \sqrt{6}$

$2 + 5 + 3$

$y_2 = -2x + 20$

$24 = 3k + b$

$-24 = 12k$

$k = -2 \quad b = 30$

$y = -2x + 30$

$(0; 24)$

(13 нет)

1	✓	?
2		
3	✓	✓
4	✓	✓
5	✓	✓
6	✓	✓
7	?	?

$2x(x+1)$

$\sqrt{4R^2 - 4R + 2}$

$2x^2 + y_2 - (2x + y_1) = 2x^2 - 2x$

$2x^2 - 5x + 3 = 1 + 2x^2 + 2x + 1 - 2\sqrt{2x^2 + 2x + 1}$

$1 = 4x - 2\sqrt{2x^2 + 2x + 1}$

$2\sqrt{2x^2 + 2x + 1} = 4x - 1$

$4(2x^2 + 2x + 1) = 16x^2 - 8x + 1$

$8x^2 + 8x + 4 = 16x^2 - 8x + 1$

$8x^2 + 16x + 3 = 0$

$D = 16^2 - 4 \cdot 8 \cdot 3 = 256 - 96 = 160$

$x = \frac{-16 \pm \sqrt{160}}{16}$

$x = \frac{-16 \pm 4\sqrt{10}}{16} = \frac{-4 \pm \sqrt{10}}{4}$

$x_1 = \frac{-4 + \sqrt{10}}{4}, x_2 = \frac{-4 - \sqrt{10}}{4}$

$x_1 = -1 + \frac{\sqrt{10}}{4}, x_2 = -1 - \frac{\sqrt{10}}{4}$

$y_1 = -2x_1 + 20, y_2 = -2x_2 + 20$

$\Rightarrow \text{Нет решения}$

$R^2 - (R^2 - 4R + 4) + 4R = 4$

$4R = 4 \Rightarrow R = 1$

$24 = 3k + b$

$48 = 6k + 2b$

$24 = 3k + b$

$48 - 24 = 6k + 2b - 3k - b$

$24 = 3k + b$

$k = 8, b = -12$

$y = 8x - 12$

$(15; 0)$

$(0; 24)$

$(0; 0)$

$(3; 0)$

$(-12; 24)$

$15 \quad 3$