



МОСКОВСКИЙ
ФИЗИКО-ТЕХНИЧЕСКИЙ
ИНСТИТУТ

ОЛИМПИАДА "ФИЗТЕХ"
ПО МАТЕМАТИКЕ

11 КЛАСС. Вариант 1



1. [3 балла] Найдите все действительные значения x , при каждом из которых существует геометрическая прогрессия, состоящая из действительных чисел и такая, что её седьмой член равен $\sqrt{(25x-9)(x-6)}$, девятый член равен $x+3$, а пятнадцатый член равен $\sqrt{\frac{25x-9}{(x-6)^3}}$.

2. [4 балла] Решите систему уравнений

$$\begin{cases} \sqrt{x+5} - \sqrt{1-x-4z} + 4 = 2\sqrt{y-4x-x^2+z}, \\ |y+4| + 4|y-5| = \sqrt{81-z^2}. \end{cases}$$

3. [5 баллов] Найдите все значения параметра p , при которых уравнение

$$p \cos 3x + 3(p+4) \cos x = 6 \cos 2x + 10$$

имеет хотя бы одно решение. Решите это уравнение при всех таких p .

4. [5 баллов] Две окружности ω_1 и ω_2 пересекаются в точках A и B , а их общая касательная имеет с ω_1 и ω_2 общие точки C и D соответственно, причём точка B расположена ближе к прямой CD , чем точка A . Луч CB пересекает ω_2 в точках B и E . Найдите отношение $ED : CD$, если диагональ AD четырёхугольника $ACDE$ делит отрезок CE в отношении $2 : 5$, считая от вершины C .

5. [4 балла] Дан клетчатый прямоугольник 100×400 . Сколькими способами можно закрасить 8 клеток этого прямоугольника так, чтобы закрашенное множество обладало хотя бы одной из следующих симметрий: относительно центра прямоугольника, относительно любой из двух "средних линий" прямоугольника ("средней линией" прямоугольника назовём отрезок, соединяющий середины двух его противоположных сторон). Ответ дайте в виде выражения, содержащего не более трёх членов (в них могут входить факториалы, биномиальные коэффициенты).

6. [4 балла] Найдите все тройки целых чисел $(a; b; c)$ такие, что:

- $a < b$,
- число $b - a$ не кратно 3,
- число $(a - c)(b - c)$ является квадратом некоторого простого числа,
- выполняется равенство $a^2 + b = 710$.

7. [6 баллов] В основании призмы лежит равносторонний треугольник площади 1. Площади её боковых граней равны 3, 3 и 2. Найдите объём призмы.



На одной странице можно оформлять только одну задачу. Отметьте крестиком номер задачи, решение которой представлено на странице. Также укажите номер страницы и суммарное количество страниц в решении каждой задачи отдельно.

1 2 3 4 5 6 7

СТРАНИЦА
3 из 4

Если отмечено более одной задачи или не отмечено ни одной задачи, страница считается черновиком и не проверяется. Страницы по каждой из задач нумеруются отдельно. Порча QR-кода недопустима!

№ задачи 2

$$\Rightarrow \begin{cases} x=3 \text{ или } x=18 \\ x>0 \\ x=0 \text{ или } x=-31 \\ x<1/5 \end{cases}$$

⇓

$$x=18 \text{ или } x=-31, \text{ или } x=0.$$

Проверка:

$$x=18 \quad a_7 = \sqrt{(25 \cdot 18 - 9)(12)} = \sqrt{(50 \cdot 9 - 9)12} = \sqrt{9 \cdot 49 \cdot 12} = 2 \cdot 42\sqrt{3}$$

$$a_9 = 21$$

$$a_{15} = \sqrt{\frac{9 \cdot 49}{12^3}} = \frac{21}{12} \cdot \frac{1}{\sqrt{12}} = \frac{7}{8\sqrt{3}} = \frac{7\sqrt{3}}{24}$$

$$\text{Тогда } d = \frac{21}{42\sqrt{3}} = \frac{1}{2\sqrt{3}} \Rightarrow 21 \cdot \frac{1}{(2\sqrt{3})^3} = \frac{2\sqrt{3}}{24}$$

Если $x=18$ подходит.

$$7\sqrt{3} \cdot 12 \cdot 2\sqrt{3} = 21 \cdot 24$$

Если $x=0$, то

$$14 \cdot 3 \cdot 12 = 21 \cdot 24$$

$$a_7 = \sqrt{(-9)(-6)} = 3\sqrt{6}$$

$$2 \cdot 3 = 3 \cdot 2$$

правда!

$$a_9 = 3$$

$$a_{15} = \sqrt{\frac{-9}{(-6)^3}} = \sqrt{\frac{3^2}{3^3 \cdot 2^3}} = \sqrt{\frac{1}{4 \cdot 6}} = \frac{1}{2\sqrt{6}}$$

$$\text{Тогда } d = \frac{3}{3\sqrt{6}} = \frac{1}{\sqrt{6}} \Rightarrow 3 \cdot \frac{1}{6\sqrt{6}} = \frac{1}{2\sqrt{6}}$$

$$\frac{3}{6\sqrt{6}} = \frac{1}{2\sqrt{6}} \Rightarrow \frac{1}{2\sqrt{6}} = \frac{1}{2\sqrt{6}} \text{ - правда!} \Rightarrow x=0$$

подходит.



На одной странице можно оформлять только одну задачу. Отметьте крестиком номер задачи, решение которой представлено на странице. Также укажите номер страницы и суммарное количество страниц в решении каждой задачи отдельно.

1 2 3 4 5 6 7

СТРАНИЦА
4 из 4

Если отмечено более одной задачи или не отмечено ни одной задачи, страница считается черновиком и не проверяется. Страницы по каждой из задач нумеруются отдельно. Порча QR-кода недопустима!

№ 1 продолжение

При $x = -31$

$$a_7 = \sqrt{(-31 \cdot 25 - 9)(-37)} \quad a_9 =$$

$$= \sqrt{766 \cdot 37}$$

$$\begin{array}{r} + 31 \\ \hline 25 \\ 155 \\ \hline 62 \\ \hline - 775 \\ \hline 9 \\ \hline 766 \quad | \quad 4 \\ \hline 4 \quad \quad | \quad 19 \\ \hline 36 \end{array}$$

$$a_9 = -28.$$

По условию это геометрическая прогрессия, то есть

ее ~~значения~~ множитель $\left(\frac{a_{i+1}}{a_i}\right) = q$.

Тогда $\frac{a_9}{a_7} = q^2$ тогда $a_9 = a_7 q^2$, но $a_7 > 0 \Rightarrow a_7 \cdot q^2 > 0$

тогда $a_9 > 0$, но $a_9 < 0$ в. Значит $x = -31$ не подходит.

Ответ: $x = 0$ или $x = 18$.



На одной странице можно оформлять только одну задачу. Отметьте крестиком номер задачи, решение которой представлено на странице. Также укажите номер страницы и суммарное количество страниц в решении каждой задачи отдельно.

1 2 3 4 5 6 7

СТРАНИЦА
1 ИЗ 4

Если отмечено более одной задачи или не отмечено ни одной задачи, страница считается черновиком и не проверяется. Страницы по каждой из задач нумеруются отдельно. Порча QR-кода недопустима!

~~Решение~~

N 1

Пусть прогрессия - a . (a_1, a_2, \dots)

Пусть отношение элементов с номерами 9 и 7 - d .

Тогда в этой же прогрессии

$$a_7 \cdot d = a_9, \quad a_9 \cdot d^3 = a_{15}$$

$$a_7 \cdot d = a_9 \sqrt{(25x-9)(x-6)} \cdot d = x+3$$

$$a_9 \cdot d^3 = a_{15} (x+3) d^3 = \sqrt{\frac{25x-9}{(x-6)^3}}$$

Запишем это равенство

$$\Rightarrow \cancel{x-6 > 0} \text{ или } x-6 \neq 0$$

$$d = \frac{x+3}{\sqrt{(25x-9)(x-6)}} \quad \text{или} \quad 25x-9=0$$


Тогда:

$$(x+3) \frac{(x+3)^3}{(25x-9)(x-6) \sqrt{(25x-9)(x-6)}} = \sqrt{\frac{25x-9}{(x-6)^3}}$$

или $25x-9=0$

$$\frac{(x+3)^4}{(25x-9)^2} = 1$$

$$(25x-9)(x-6) > 0$$



$$\cancel{25x-9 > 0, x-6 > 0}$$

или $25x-9 < 0$

Тогда

$$\cancel{x > \frac{9}{25} \text{ и } x > 6}$$

Получаем: $(x+3)^4 = (25x-9)^2$ ~~или~~ $x < \frac{9}{25}$ или $x > 6$
 $x = \frac{9}{25}$

Если $x > 6, \neq 0$ $(x+3)^4 > x^4 \geq 36x > 25x-9 \Rightarrow$ решение нет.
 Получаем: $(x+3)^4 = 25x-9$
 $x < \frac{9}{25}$
 $x = \frac{9}{25}$



На одной странице можно оформлять только одну задачу. Отметьте крестиком номер задачи, решение которой представлено на странице. Также укажите номер страницы и суммарное количество страниц в решении каждой задачи отдельно.

1 2 3 4 5 6 7

СТРАНИЦА
2 из 4

Если отмечено более одной задачи или не отмечено ни одной задачи, страница считается черновиком и не проверяется. Страницы по каждой из задач нумеруются отдельно. Порча QR-кода недопустима!

№ продолжение

Но если $x < \frac{9}{25}$, то

решает лишь $x = \frac{9}{25}$

$25x - 9 < 0$, а $(x+3)^4 > 0 \Rightarrow$ решений нет.

Тогда $a_7 = \sqrt{(25x-9)(x+6)} = 0$

$a_9 = \frac{9}{25} + 3 = 3\frac{9}{25}$

$a_{15} = \sqrt{\frac{25x-9}{(x+9)^3}} = 0$

Такой ~~а~~ ком. прогрессии не может быть, тк если нулевая и ненулевые члены, $0 \cdot d = 3\frac{9}{25}$.

Получаем ур-е:

$$\begin{cases} (x+3)^4 = (25x-9)^2 \\ x < \frac{9}{25} \\ x > 6 \\ x = \frac{9}{25} \end{cases}$$

Если $x = \frac{9}{25}$, то $a_7 = 0$, $a_9 > 0$, значит такого не может быть, т.к. тогда $0 \cdot d \neq 0$.

Значит x не может быть равен $\frac{9}{25}$

$$\begin{cases} (x+3)^2 = 25x-9 \\ x > 6 \\ (x+3)^2 = -25x+9 \\ x < \frac{9}{25} \end{cases}$$

$$\Rightarrow \begin{cases} x^2 - 19x + 18 = 0 \\ x > 6 \\ x^2 + 31x = 0 \\ x < \frac{9}{25} \end{cases} \Rightarrow \begin{cases} (x-1)(x-18) = 0 \\ x > 6 \\ x(x+31) = 0 \\ x < \frac{9}{25} \end{cases}$$



На одной странице можно оформлять только одну задачу. Отметьте крестиком номер задачи, решение которой представлено на странице. Также укажите номер страницы и суммарное количество страниц в решении каждой задачи отдельно.

1 2 3 4 5 6 7


СТРАНИЦА
3 из 4

Если отмечено более одной задачи или не отмечено ни одной задачи, страница считается черновиком и не проверяется. Страницы по каждой из задач нумеруются отдельно. Порча QR-кода недопустима!

Уч. продолжение 2

$$\frac{S_{DCK}}{S_{PKE}} = \frac{2}{5} = \frac{CD \cdot DK \cdot \sin \angle CDA}{2} : \frac{EP \cdot DK \cdot \sin \angle KPE}{2} =$$

$$= \frac{CD}{ED} \cdot \frac{\sin \angle CDA}{\sin \angle EPA} = \frac{2}{5}$$



тогда $\frac{EP}{ED} = \frac{CD}{ED} = \frac{2}{5} \cdot \frac{\sin \angle EPA}{\sin \angle CDA}$

тогда $\frac{\sin \angle EPA}{\sin \angle CDA} = \frac{\sin 180^\circ - \beta - \alpha}{\sin \alpha}$

$$\angle CDA = \angle AED$$

тогда

$$\angle ADE = \angle ABE = \angle CBP = 180^\circ - \alpha - \beta, \quad \angle EBD = \beta \Rightarrow \angle PBD = \alpha$$

$$S_{CBP} = S_{DBP} \Rightarrow \frac{CB \cdot BP \cdot \sin(180^\circ - \alpha - \beta)}{2} = \frac{DB \cdot PB \cdot \sin \alpha}{2}$$

$$\Downarrow \frac{\sin \angle EPA}{\sin \angle CDA} = \frac{DB}{CB}$$

$$\frac{\sin \angle EPA}{\sin \angle CDA} = \frac{AD \cdot AE}{AB \cdot AD} \text{ из проп. к } \triangle ADE, \angle ADE = \angle EPA, \angle CDA = \angle AED$$



На одной странице можно оформлять только одну задачу. Отметьте крестиком номер задачи, решение которой представлено на странице. Также укажите номер страницы и суммарное количество страниц в решении каждой задачи отдельно.

1 2 3 4 5 6 7

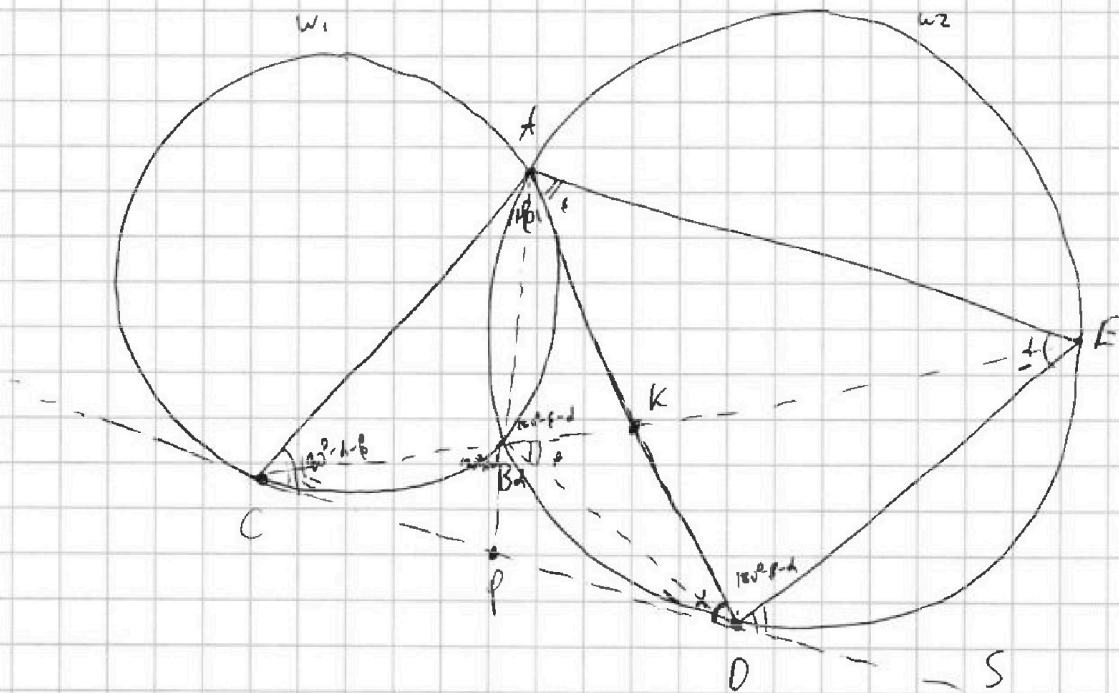
СТРАНИЦА
1 из 4

Если отмечено более одной задачи или не отмечено ни одной задачи, страница считается черновиком и не проверяется. Страницы по каждой из задач нумеруются отдельно. Порча QR-кода недопустима!

Дано: ω_1, ω_2 пересек. в A и B , CD - общ. кас. C кас. к ω_1 , D - к ω_2 ,
вдальке к CD , к A .

CB пересек. ω_2 вторично в г. E

$$\frac{ED}{CD} = ?$$



Пусть g - пересечение AD и CE - K

Тогда $\frac{CK}{KE} = \frac{2}{5}$

Тогда $\angle ABD = 180^\circ - \alpha$ из вписанности $ABDE$

Тогда $\angle ABE = 180^\circ - \alpha - \beta = \angle ADE$

$\angle CDA = \angle DEA$ (углы между кас. и хордой)

Пусть $\angle CDA = \alpha$, $\angle DEA = \alpha$

Пусть $\angle EBD = \beta$, тогда $\angle DAE = \beta$ (опр. по 1933)

$\angle EPB = \angle DBE$, т.е. углы между кас. и хордой,

S - точка за D на луче CD .



На одной странице можно оформлять только одну задачу. Отметьте крестиком номер задачи, решение которой представлено на странице. Также укажите номер страницы и суммарное количество страниц в решении каждой задачи отдельно.

1 2 3 4 5 6 7

СТРАНИЦА
2 из 4

Если отмечено более одной задачи или не отмечено ни одной задачи, страница считается черновиком и не проверяется. Страницы по каждой из задач нумеруются отдельно. Порча QR-кода недопустима!

Рассмотрим степени точки.

$$C, W_2 - CD^2 = CB \cdot CE$$

$$K, W_2 - AK \cdot KD = BK \cdot KE$$

Пусть $EK = 5x$.

$$\text{Тогда } CK = 2x$$

$$CE = 7x.$$

$$\text{Тогда } \begin{cases} CB \cdot 7x = CD^2 \\ AK \cdot KD = BK \cdot 5x \end{cases}$$

Точки $\triangle AKB$ и $\triangle EKD$ подобны (несомненно засн в окружн)

Также подобны $\triangle AKE$ и $\triangle BKD$

$$\text{Тогда } \frac{AB}{ED} = \frac{AK}{EK} = \frac{AK}{5x} = \frac{BK}{DK}$$

$$\frac{AE}{BD} = \frac{KE}{KB} = \frac{5x}{KD}$$

$$ED = \frac{5x \cdot AB}{AK} = \frac{AB \cdot DK}{EK \cdot BK}$$

Прямая AB го пересек. с CD в т. P AB - диаметр окружн

$$CP^2 = DP^2 = PB \cdot PA \quad *$$

и продолжим

$$\begin{aligned} \text{Тогда } CD^2 &= CB \cdot CE = \\ &= (2CP)^2 = 4CP^2 = 4PB \cdot PA \end{aligned}$$

$$CB \cdot CE = 4PB \cdot PA$$

$$S_{CBP} = S_{DBP}$$

$$\text{Тогда } S_{ACP} = S_{ADP} \rightarrow S_{ABC} = S_{ABD}$$

$$\text{Тогда } S_{ABC} = S_{ABD}$$

$$\text{Тогда } S_{ABDE} = S_{ABD}$$



На одной странице можно оформлять только одну задачу. Отметьте крестиком номер задачи, решение которой представлено на странице. Также укажите номер страницы и суммарное количество страниц в решении каждой задачи отдельно.

1 2 3 4 5 6 7

СТРАНИЦА
4 ИЗ 7

Если отмечено более одной задачи или не отмечено ни одной задачи, страница считается черновиком и не проверяется. Страницы по каждой из задач нумеруются отдельно. Порча QR-кода недопустима!

№4

$$\frac{CD}{ED} = \frac{2}{5} \cdot \frac{\sin \angle EPA}{\sin \angle CPA} = \frac{2 \cdot DB}{5 \cdot CB} = \frac{2 \cdot AE}{5 \cdot AD} =$$

$$= \frac{2}{5} \sin \frac{2}{5} \frac{\sin d \cdot 180^\circ - \alpha - \beta}{\sin d} = \frac{2}{5} \frac{\sin d \cdot \beta}{\sin d}$$

$$\angle ACP = 180^\circ - \beta - d \quad (\text{угол между кас. и хордой})$$

$$\frac{S_{ACD}}{S_{AED}} = \frac{2}{5} = \frac{AC \cdot CD \cdot \sin(d + \beta)}{AE \cdot ED \cdot \sin d} = \frac{AC}{AE} \cdot \frac{2}{5} \cdot \frac{(\sin(d + \beta))^2}{(\sin d)^2}$$

$$\text{Тогда } \frac{AC}{AE} = \frac{(\sin d)^2}{\sin^2(d + \beta)}$$

$$\angle CAK = 360^\circ =$$

$$= 180^\circ - (180^\circ - \alpha - \beta) - \alpha =$$

$$\frac{S_{ACK}}{S_{AEK}} = \frac{AC \cdot \sin \angle AK}{AE \cdot \sin \beta} = \frac{2}{5} = \beta$$

$$\text{Тогда } \frac{AC}{AE} = \frac{2}{5} = \frac{(\sin d)^2}{(\sin(d + \beta))^2}$$

Тогда AD - биссектриса.

$$\text{Тогда } \frac{\sin \alpha}{\sin \alpha + \beta} = \frac{\sqrt{2}}{\sqrt{5}}$$

$$\text{Тогда } \frac{CD}{ED} = \frac{2}{5} \cdot \frac{\sin d + \beta}{\sin d} = \frac{2}{5} \cdot \frac{\sqrt{5}}{\sqrt{2}} = \frac{\sqrt{2}}{\sqrt{5}}$$

$$\frac{ED}{CD} = \frac{\sqrt{5}}{\sqrt{2}}$$

$$\text{Ответ: } \frac{\sqrt{5}}{\sqrt{2}}$$



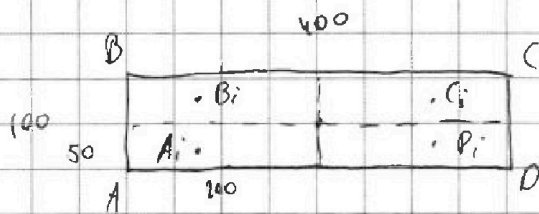
На одной странице можно оформлять только одну задачу. Отметьте крестиком номер задачи, решение которой представлено на странице. Также укажите номер страницы и суммарное количество страниц в решении каждой задачи отдельно.

1 2 3 4 5 6 7

СТРАНИЦА
1 из 3

Если отмечено более одной задачи или не отмечено ни одной задачи, страница считается черновиком и не проверяется. Страницы по каждой из задач нумеруются отдельно. Порча QR-кода недопустима!

NS



Пусть $n/4 = ABCD$,

$$AB = 100$$

Рассмотрим ~~клетки~~ ~~такие~~ A_i, B_i, C_i, D_i такие, что

A_i симметрично B_i относительно ср. линии, $B_i - C_i$,

$C_i - D_i$ и $D_i - A_i$. Тогда B_i сим. D_i и A_i сим. C_i

относительно центра. Пусть A_i лежит в длине всего

к A , B_i к B и т.д.

Заметим, что среди A_i, B_i, C_i, D_i закрашено может быть

либо 0, либо 2 любых, либо 4. 2 любых - будут

симметричны. ~~они~~, 4 будут симметричны относительно

~~всех~~ 3 и 1 не могут быть, т.к. тогда для одной

клетки не будет закраш. симметричной.

Тогда рассмотрим все такие ~~такие~~ ~~клетки~~ A_i, B_i, C_i, D_i ,

что хотя бы одна закрашена. Таких 4×8 либо

2, либо 3, либо 4. (т.к. всего закр. клеток - 8). Тогда количество

способов выбрать две 4×8 и закрашено 4 или суммарно

8 клеток - и будет ответ 6 задале.



На одной странице можно оформлять **только одну** задачу. Отметьте крестиком номер задачи, решение которой представлено на странице. Также укажите номер страницы и суммарное количество страниц в решении каждой задачи отдельно.

1 2 3 4 5 6 7

СТРАНИЦА
3 из 3

Если отмечено более одной задачи или не отмечено ни одной задачи, страница считается черновиком и не проверяется. Страницы по каждой из задач нумеруются отдельно. Порча QR-кода недопустима!

по предположению 2

Чтого получаем:

$$\frac{10000 \cdot 9999}{2} + 10000 \cdot 9999 \cdot 9998 \cdot 9997 \cdot 2 + 10000 \cdot 9999 \cdot 9998 \cdot 6 =$$

$$= 99990000 \left(\frac{1}{2} + \frac{9998}{9999} \right) =$$

$$= 99990000 \left(\frac{1}{2} + 19990000,5 + 60000 - 12 \right) =$$

$$\frac{9998}{9999} =$$

$$= 99990000 \left(199960000,5 \right) \quad 9999$$

$$= (10000 - 2) \cdot 6 =$$

$$\frac{9998}{9997} = 60000 - 12$$

Ответ: $99990000 \cdot (199960000,5)$

$$= (10000 - 2)(10000 - 3) =$$

$$= 10^8 - 5 \cdot 10^4 + 6$$

$$\begin{array}{r} 200000000 \\ - 100000 \\ \hline 199900000 \end{array}$$

~~199900000~~

199900000



На одной странице можно оформлять только одну задачу. Отметьте крестиком номер задачи, решение которой представлено на странице. Также укажите номер страницы и суммарное количество страниц в решении каждой задачи отдельно.

1 2 3 4 5 6 7

СТРАНИЦА
2 из 3

Если отмечено более одной задачи или не отмечено ни одной задачи, страница считается черновиком и не проверяется. Страницы по каждой из задач нумеруются отдельно. Порча QR-кода недопустима!

№5 продолжение.

Если ~~4-к-2~~ 4-ки 2, то там закрасим все клетки \Rightarrow таких вариантов $C_{50 \cdot 200}^2 =$

$$= \frac{10000 \cdot 9999}{2}, \text{ т.к. } A_i \text{ можно выбрать}$$

из $50 \cdot 200$ клеток, а остальные клетки однозначно задаются.

Если 4-к-4, то в каждой из ~~из~~ в первой из них мы можем закрасить 2 клетки как толку - 6 способами, а в остальных - по воображаемой симметрии - 2 способами.

(например, если мы закрасим A_i и D_i , то можем красить только A_i и D_i или B_i и C_i)

$$\text{Всего} - C_{10000}^4 \cdot 6 \cdot 2 \cdot 2 \cdot 2 = 10000 \cdot 9999 \cdot 9998 \cdot 9997 \cdot 2$$

$$4 \cdot 3 \cdot 2 \cdot 1 \cdot 2 \cdot 6 \cdot 2 \cdot 2 = 48$$

Если их 3, то сначала мы должны 3-мя способами выбрать цепь, которую покрасит целиком, а потом опять $6 \cdot 2$ как

$$\text{и в прошлом варианте. Получаем. } C_{10000}^3 \cdot 3 \cdot 6 \cdot 2 = 10000 \cdot 9999 \cdot 9998 \cdot 6$$



На одной странице можно оформлять только одну задачу. Отметьте крестиком номер задачи, решение которой представлено на странице. Также укажите номер страницы и суммарное количество страниц в решении каждой задачи отдельно.

1 2 3 4 5 6 7

СТРАНИЦА
1 из 3

Если отмечено более одной задачи или не отмечено ни одной задачи, страница считается черновиком и не проверяется. Страницы по каждой из задач нумеруются отдельно. Порча QR-кода недопустима!

a, b, c

и 6

$$a < b, \quad b - a \not\equiv 3 \quad (a - c)(b - c) = p^2 \text{ } p\text{-простое}$$

$$a^2 + b = 710$$

~~26, 25, 34~~

$$b = 710 - a^2$$

$$710 - a^2 - a \not\equiv 3$$

~~Заметим, что если $a > 0$, то также не может быть~~

$$\text{г.к. если } a \leq 26, \text{ то } a^2 \leq 676 \Rightarrow b > 26$$

Заметим, что a и b дают разные остатки при дел. на 3 (иначе $b - a \equiv 3$). Тогда $a - c$ и $b - c$ тоже.

То либо 0 и 1, 0 и 2 или 1 и 2.

Но 1 и 2 не может быть, г.к. тогда $(a - c)(b - c) \equiv 2 \cdot 2 \equiv 2 \pmod{3}$

но p^2 не сравнимо с 2 по модулю 3 (г.к. $0^2 \equiv 0, 1^2 \equiv 1, 2^2 \equiv 1 \pmod{3}$)

Тогда это 0 и 1 или 0 и 2.

Но тогда $p^2 = (a - c)(b - c) \equiv 3$. Поскольку $p^2 \equiv 3$ и p простое, то $p = 3$ (иначе $p \equiv 3$ и $p \neq 3$ и p простое)



На одной странице можно оформлять только одну задачу. Отметьте крестиком номер задачи, решение которой представлено на странице. Также укажите номер страницы и суммарное количество страниц в решении каждой задачи отдельно.

1 2 3 4 5 6 7

СТРАНИЦА
2 из 3

Если отмечено более одной задачи или не отмечено ни одной задачи, страница считается черновиком и не проверяется. Страницы по каждой из задач нумеруются отдельно. Порча QR-кода недопустима!

№6 продолжение

Тогда получаем, что

$$(a-c)(b-c) = 9$$

$a-c < b-c$ и все числа целые.

Тогда получаем варианты:

$$a-c = -9 \quad b-c = -1$$

$$a-c = 1 \quad b-c = 9 \quad (-3 \text{ и } -3, 3 \text{ и } 3 \text{ не годя, т.к. } b-c > a-c)$$

Если $a-c=1$, $b-c=9$.

$$\text{Тогда } \begin{cases} a-c=1 \\ 710-a^2-c=9 \end{cases} \quad c = a-1$$

$$\Downarrow$$

$$\begin{cases} 710-a^2-(a-1)=9 \Rightarrow a^2+a = 710+1-9 \end{cases}$$

$$a(a+1) = 702$$

\Downarrow

Если $a=26$, то $c=25$, $b=34$.

$$a^2+a-702=0$$

78-9

Если $a=-27$, то $c=-28$, $b=-19$ $(a-26)(a+27)=0$

\Downarrow

$$a=26 \text{ или } a=-27.$$

Проверки: $34 > 26$, $34-26=8 \neq 3$, $26^2+34=710$, $(26-25)(34-25)=9$

$-19 > -27$, $-19-(-27)=8 \neq 3$, $27^2-19=710$, $(-27-(-28)) \cdot (-19-(-28))=9=9$



На одной странице можно оформлять только одну задачу. Отметьте крестиком номер задачи, решение которой представлено на странице. Также укажите номер страницы и суммарное количество страниц в решении каждой задачи отдельно.

1 2 3 4 5 6 7

СТРАНИЦА
3 из 3

Если отмечено более одной задачи или не отмечено ни одной задачи, страница считается черновиком и не проверяется. Страницы по каждой из задач нумеруются отдельно. Порча QR-кода недопустима!

№6 продолжение 2.

Если ~~$a=1, b=9$~~ , $a-c=-9, b-c=-3$.

Тогда $c = a+9, b = c+1 = a+8$

Тогда $a^2 + a \cdot b = 710$

$$a^2 + a - 702 = 0$$

$$(a-26)(a+27) = 0$$

∴

$$a=26 \text{ или } a=-27.$$

Если $a=26, c=35, b=34$.

Проверка: $34 > 26, 34-26=8 \neq 3, 26^2+34=710, (a-c)(b-c)=9$

Если $a=-27, c=-18, b=-19$

Проверка: $-19 > -27, b-a=8 \neq 3, (-27)^2-19=710, (a-c)(b-c)=9$.

Ответ: $(26; 34; 35), (-27; -19; -18), (26; 34; 35), (-27; -19; -18)$

На одной странице можно оформлять только одну задачу. Отметьте крестиком номер задачи, решение которой представлено на странице. Также укажите номер страницы и суммарное количество страниц в решении каждой задачи отдельно.



- 1 2 3 4 5 6 7

СТРАНИЦА
__ ИЗ __

Если отмечено более одной задачи или не отмечено ни одной задачи, страница считается черновиком и не проверяется. Страницы по каждой из задач нумеруются отдельно. Порча QR-кода недопустима!

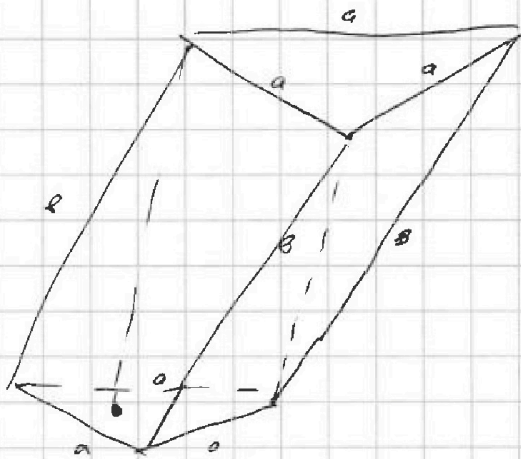
Черновик

$$a^2 + a - 710$$

$$710 =$$

$$= 30 \cdot 23 + 355 \cdot 2 =$$

$$= 71 \cdot 10$$



$$\begin{array}{r} 710 \\ - 676 \\ \hline 34 \end{array}$$

$$25 - 625$$

$$\begin{array}{r} 13 \\ \times 26 \\ \hline 78 \\ 156 \\ \hline 338 \end{array}$$

$$\begin{array}{r} 52 \\ \times 13 \\ \hline 156 \\ 520 \\ \hline 676 \end{array}$$

$$729$$

$$\begin{array}{r} 4 \\ \times 27 \\ \hline 108 \\ 189 \\ \hline 1080 \end{array}$$

$$\begin{array}{r} 189 \\ \times 4 \\ \hline 756 \end{array}$$

$$a=27 \quad b=$$

$$a=26 \quad b=34$$

$$(26-c)(34-c) = p^2$$

$$\begin{array}{r} 34 \\ - 26 \\ \hline 8 \end{array}$$

$$25$$



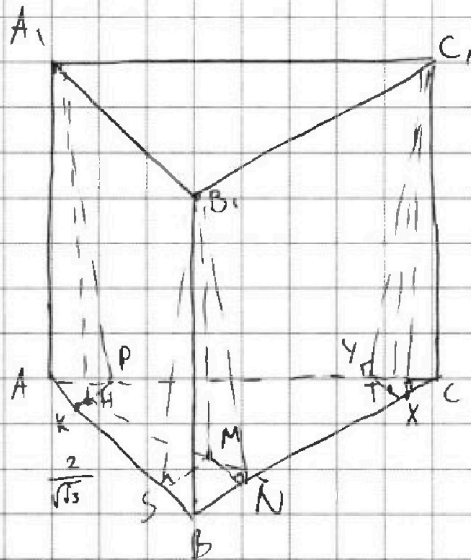
На одной странице можно оформлять только одну задачу. Отметьте крестиком номер задачи, решение которой представлено на странице. Также укажите номер страницы и суммарное количество страниц в решении каждой задачи отдельно.

1 2 3 4 5 6 7

СТРАНИЦА
1 из 4

Если отмечено более одной задачи или не отмечено ни одной задачи, страница считается черновиком и не проверяется. Страницы по каждой из задач нумеруются отдельно. Порча QR-кода недопустима!

N7



Дано:

$ABCB_1A_1$ - призма

ABC - \triangle , $S_{ABC} = 1$

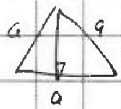
$S_{ABB_1A_1} = 3$

$S_{AA_1C_1C} = 2$

$S_{BB_1C_1C} = 3$

Найти: объём призмы

П.к. $AB = BC = AC = A_1B_1 = B_1C_1 = A_1C_1$ и $S_{ABC} = 1$, то



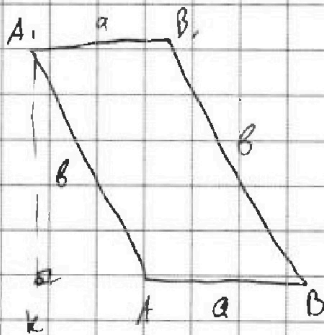
$$\frac{\sqrt{3}}{2} \cdot a \cdot a \cdot \frac{1}{2} = \frac{\sqrt{3}}{4} a^2 = 1 \quad a^2 = \frac{4}{\sqrt{3}}$$

$$a = \frac{2}{\sqrt{3}}$$

сторона = $\frac{2}{\sqrt{3}} = AB$

Пусть $AB = a$

Пусть $AA_1 = BB_1 = CC_1 = b$



Пусть высота призмы h - PK

Пусть высота AA_1B - A_1K , AA_1C - A_1P

тогда по г. о. элеру. $PK \perp AC$, $PK \perp AB$.

Аналогично построим высоту CT

высоты C_1X и C_1Y , как на рисунке



На одной странице можно оформлять только одну задачу. Отметьте крестиком номер задачи, решение которой представлено на странице. Также укажите номер страницы и суммарное количество страниц в решении каждой задачи отдельно.

1 2 3 4 5 6 7

СТРАНИЦА
2 из 4

Если отмечено более одной задачи или не отмечено ни одной задачи, страница считается черновиком и не проверяется. Страницы по каждой из задач нумеруются отдельно. Порча QR-кода недопустима!

№? продолжение

$$S_{AB_1B_2A_1} = A_1K \cdot a \quad (\text{т.к. это параллелограмм})$$

$$S_{AA_1C_1C} = A_1P \cdot a$$

$$\text{Тогда } A_1K \cdot a = 3, \quad A_1P \cdot a = 2$$

$$A_1K^2 = AK^2 + KK^2, \quad A_1P^2 = AP^2 + KP^2$$

$$AK^2 = h^2 + KK^2, \quad AP^2 = h^2 + KP^2$$

$$\frac{A_1K}{A_1P} = \frac{3}{2} \Rightarrow A_1K = \frac{3}{2} A_1P \quad \text{Пусть } A_1P = x.$$

$$\text{Тогда } A_1K = \frac{3}{2}x, \quad A_1P = x$$

$$\text{Тогда } h^2 + KK^2 = \frac{9}{4}x^2, \quad h^2 + KP^2 = x^2$$

$$\text{Тогда } KK^2 = \frac{9}{4}x^2 - h^2, \quad KP^2 = x^2 - h^2$$

Проведем высоту AK и высоту AP в $AB_1A_1B_2$ и AA_1C_1C .

$B_1A_1B_2C_1$ - P_1N

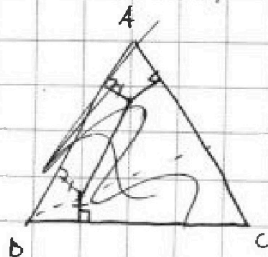
$$B_1S = A_1K = B_1N, \quad \text{т.к. } S_{AA_1B_1B_2} = S_{AA_1C_1C}.$$

$$B_1N = \frac{3}{2} \cdot \sqrt{3} = \frac{3}{2} \sqrt{3}$$

$$A_1P = \sqrt{3}$$

$MP \parallel A_1B_1 \Rightarrow MP \parallel AB$

$$\text{Тогда } MS = MN$$





На одной странице можно оформлять только одну задачу. Отметьте крестиком номер задачи, решение которой представлено на странице. Также укажите номер страницы и суммарное количество страниц в решении каждой задачи отдельно.

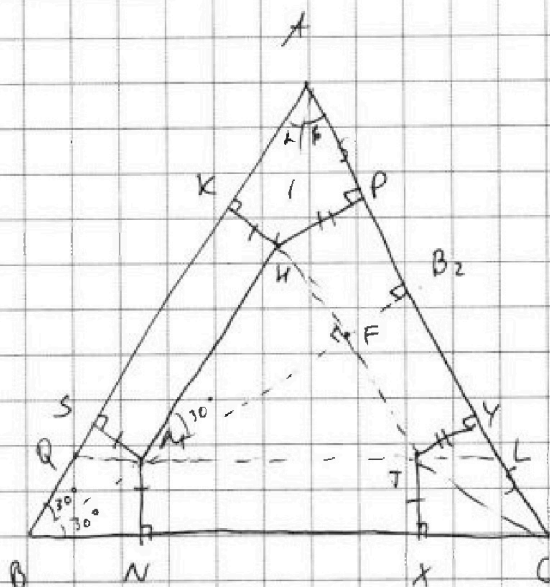
1 2 3 4 5 6 7

СТРАНИЦА
3 из 4

Если отмечено более одной задачи или не отмечено ни одной задачи, страница считается черновиком и не проверяется. Страницы по каждой из задач нумеруются отдельно. Порча QR-кода недопустима!

№7 продолжение 2

Рассмотрим $\triangle ABC$



BM - биссектриса (т.к. M лежит на биссектрисе, т.к. $MS = MN$)

Продлим BM до перес. с AC в т. B_2 . Т.к. ABC - pld , то BB_2 -
- высота и медиана

$$MK^2 = MS^2 = MN^2 = TX^2 = \frac{g}{4} \cdot \lambda^2 - h^2 = \frac{g}{4} (\sqrt{3})^2 - h^2 = \frac{g}{4} \sqrt{3} - h^2$$

$$MP^2 = \lambda^2 - h^2 = \sqrt{3} - h^2$$

Т.к. BM - бисс. то $\angle ABM = 30^\circ \Rightarrow BM = 2 SM$

$$BB_2 = \frac{\sqrt{3}}{2} \cdot a$$




На одной странице можно оформлять только одну задачу. Отметьте крестиком номер задачи, решение которой представлено на странице. Также укажите номер страницы и суммарное количество страниц в решении каждой задачи отдельно.

1 2 3 4 5 6 7

СТРАНИЦА
4 из 4

Если отмечено более одной задачи или не отмечено ни одной задачи, страница считается черновиком и не проверяется. Страницы по каждой из задач нумеруются отдельно. Порча QR-кода недопустима!

N7 продолжение 3



Получаем: $MS^2 = \frac{9}{4}\sqrt{3} - h^2$

$$MP^2 = \sqrt{3} - h^2 = FB^2$$

$$BB_2 = \frac{\sqrt{3}}{2}a = \frac{\sqrt{3}}{\sqrt{3}} \cdot \frac{2}{2}a = \sqrt{\frac{3}{3}} \cdot \frac{2}{2}a = \sqrt{1} \cdot \frac{2}{2}a = \frac{2}{2}a = \sqrt{3}$$

Тогда, п.к. $\angle ABM = 30^\circ$, то $BM^2 = 4SM^2 = 9\sqrt{3} - 4h^2$

$$BS^2 = 3MS^2 = \frac{27}{4}\sqrt{3} - 3h^2$$

В $\triangle MBT$ -попалы $ABC \Rightarrow$ $OM \perp BC \Rightarrow \underline{AM + MA} =$

$\Rightarrow \underline{BM + MB}$

Также $MB^2 + h^2 = b^2$ b - сторона боковой стороны.

Тогда $MB^2 = CT^2 = AM^2 = MS^2 + BS^2 = \frac{9}{4}\sqrt{3} - h^2 + \frac{27}{4}\sqrt{3} - 3h^2 =$

$$= 9\sqrt{3} - 4h^2$$

Тогда $AP^2 = 9\sqrt{3} - 4h^2 - MP^2 = \sqrt{3} \cdot h^2 = 8\sqrt{3} - 3h^2$

Тогда $h = \sqrt{3}$.



На одной странице можно оформлять только одну задачу. Отметьте крестиком номер задачи, решение которой представлено на странице. Также укажите номер страницы и суммарное количество страниц в решении каждой задачи отдельно.

- 1 2 3 4 5 6 7

СТРАНИЦА
6 ИЗ

Если отмечено более одной задачи или не отмечено ни одной задачи, страница считается черновиком и не проверяется. Страницы по каждой из задач нумеруются отдельно. Порча QR-кода недопустима!

N 7

~~Голга $\triangle AQL \sim \triangle ABC$ с $k = \frac{\sqrt{3}}{2} a$~~

~~$\frac{\sqrt{3}}{2} a - MN = \frac{\sqrt{3}}{2} a - \frac{9}{4} \sqrt{3} + h^2$~~

$\triangle MIT \sim \triangle ABC$ с $k = \frac{\sqrt{3} a - BM - FB_2}{\frac{\sqrt{3}}{2} a}$

Голга



На одной странице можно оформлять **только одну** задачу. Отметьте крестиком номер задачи, решение которой представлено на странице. Также укажите номер страницы и суммарное количество страниц в решении каждой задачи отдельно.

- 1 2 3 4 5 6 7

СТРАНИЦА
7 ИЗ

Если отмечено более одной задачи или не отмечено ни одной задачи, страница считается черновиком и не проверяется. Страницы по каждой из задач нумеруются отдельно. Порча QR-кода недопустима!

~~N7~~ ~~решение 3~~

Черновик

Тогда S_{ABC}

$$\frac{a^2 \sqrt{3}}{4} = S =$$

$$S_{BMA} + S_{BMC} + S_{MBC} =$$

$$= \frac{MS}{2} + \frac{MN \cdot BC}{2} + \frac{MB_2 \cdot AC}{2} =$$

$$= \frac{a}{2} \cdot (MS + MN + MB_2) =$$

Тогда пусть MB_2 перпендикулярна к AC в F

$MF \perp AC$

г.к. $MB_2 \perp AC$, $MF \parallel B_2A$, $MF \parallel B_2C$, $MF \parallel AC$, то $MF \perp AC$

$MF \perp AC$ - н.к. г.к. тогда $MF = SF = UF = PF$.

подобия ABC

Тогда $BS + KA = AP + CY$

г.к. $KB_2 = CB_2$, пусть $MF = SF \Rightarrow PB_2 = B_2K \Rightarrow AP = CY$

Тогда $AX = CX = CA$ по 2 катетам $\Rightarrow AN = CN \Rightarrow AK = CX$ (г.к. $AK \perp AC$)

г.к. по кат. углам

$$\text{Тогда } BS = \sqrt{BM^2 - MS^2} = \sqrt{3 \cdot SM} = \frac{a \sqrt{3}}{2} - \frac{a \sqrt{3}}{4} =$$

$$= 2AP - AK$$



На одной странице можно оформлять только одну задачу. Отметьте крестиком номер задачи, решение которой представлено на странице. Также укажите номер страницы и суммарное количество страниц в решении каждой задачи отдельно.

1 2 3 4 5 6 7

СТРАНИЦА 4 ИЗ

Если отмечено более одной задачи или не отмечено ни одной задачи, страница считается черновиком и не проверяется. Страницы по каждой из задач нумеруются отдельно. Порча QR-кода недопустима!

~~$AK^2 = AP^2 + PK^2 = AK^2 + KH^2$~~ *н? продолжение 3* Черновик

~~$\text{Тогда } AK^2 = AP^2 + PK^2 - KH^2 =$~~

~~$= AP^2 + \sqrt{3}h^2 + h^2 - \frac{9}{4}\sqrt{3} = AP^2 - \frac{5}{4}\sqrt{3}$~~

~~$\text{Тогда: } \frac{27}{4} - h^2\sqrt{3} = 2AP - AK = 2AP - \sqrt{AP^2 - \frac{5}{4}\sqrt{3}}$~~

~~Тогда~~

~~AP~~

~~$\frac{KK}{AP} = \frac{PK}{h^2}$~~

~~$BN = \frac{27}{4} - h^2\sqrt{3}$~~

~~$HK = \frac{9}{4}\sqrt{3} - h^2$~~

~~$BM = \frac{18}{4}\sqrt{3} - 2h^2$~~

~~$UP = FB_2 = \sqrt{3} - h^2$~~

~~$\text{Тогда } BN_2 = \frac{\sqrt{3}}{2} \cdot \alpha = BM + FB_2 + MF$~~

~~Поскольку $KBH = h$, $UAP = \beta$, тогда $\sin \alpha = \frac{HK}{KA}$, $\sin \beta = \frac{UP}{UA}$, тогда~~

~~$\sin \alpha = \sin \beta \cdot \frac{HK}{UP}$~~

~~Продолжим MT до пересечения с AK в т. L и до пересечения с B~~

~~в т. Q~~