



МОСКОВСКИЙ
ФИЗИКО-ТЕХНИЧЕСКИЙ
ИНСТИТУТ

ОЛИМПИАДА "ФИЗТЕХ"
ПО МАТЕМАТИКЕ

10 КЛАСС. Вариант 5



1. [3 балла] Третий член арифметической прогрессии равен $3x + 3$, пятый член равен $(x^2 + 2x)^2$, а девятый равен $3x^2$. Найдите x .

2. [4 балла] Найдите наибольшее значение выражения $4y + 8x$ при условии

$$\begin{cases} |x - 3y| \leq 3, \\ |3x - y| \leq 1. \end{cases}$$

3. [5 баллов] Найдите все пары (m, n) натуральных чисел, для которых одно из чисел $A = m^2 + 2mn + n^2 - 9m - 9n$ и $B = m^2n + mn^2 - 3mn$ равно $13p^2$, а другое равно $75q^2$, где p и q — простые числа.

4. [5 баллов] Прямая, параллельная биссектрисе AH треугольника ABC , проходящая через середину M его стороны BC , пересекает сторону AB и продолжение стороны AC в точках Z и Y соответственно. Найдите BC , если $AC = 18$, $AZ = 6$, $YZ = 8$.

5. [4 балла] Решите систему уравнений

$$\begin{cases} \sqrt{x+1} - \sqrt{6-y} + 5 = 2\sqrt{6+5x-y^2}, \\ x^4 + 5x^2 - \sqrt{y} = y^4 - \sqrt{x} + 5y^2. \end{cases}$$

6. [4 балла] На тетрадном листе нарисован квадрат 8×8 клеток (стороны квадрата идут вдоль границ клеток), а все узлы сетки внутри квадрата или на его границе покрашены в чёрный цвет. Найдите количество способов перекрасить два узла в белый цвет, если раскраски, получающиеся друг из друга поворотом, считаются одинаковыми.

7. [6 баллов] В треугольнике ABC на медиане AM и биссектрисе CL как на диаметрах построены окружности Ω и ω соответственно, пересекающиеся в точках P и Q . Отрезок PQ параллелен высоте треугольника ABC , проведённой из вершины B . Окружность Ω пересекает сторону AC повторно в точке N . Найдите длины сторон AC и BC , если $AB = 10$, $AN = 8$.



1 2 3 4 5 6 7

СТРАНИЦА
1 из 2

Если отмечено более одной задачи или не отмечено ни одной задачи, страница считается черновиком и не проверяется. Страницы по каждой из задач нумеруются отдельно. Порча QR-кода недопустима!

№1

a_n - ~~ка~~ n -ый член прогрессии
За d обозначим разность геометрической про-
грессии. Составим систему уравнений:

$$\begin{cases} 3x + 3 + 6d = 3x^2 \\ x^4 + 4x^3 + 4x^2 + 4d = 3x^2 \end{cases} \Rightarrow \begin{cases} 6x + 6 + 12d = 6x^2 \\ 3x^4 + 12x^3 + 12x^2 + 12d = 9x^2 \end{cases}$$

Вычтем из второго уравнения первое \Rightarrow

$$3x^4 + 12x^3 + 9x^2 - 6x - 6 = 0, \text{ разделим на } 3$$

$$x^4 + 4x^3 + 3x^2 - 2x - 2 = 0. \text{ Заметим, что } x = -1$$

$$\text{подходит } \Rightarrow x^4 + 4x^3 + 3x^2 - 2x - 2 = (x+1)(x^3 + 3x^2 - 2)$$

$$x^3 + 3x^2 - 2 = 0. \text{ Заметим, что } x = -1 \text{ является реше-}$$

$$\text{нием } \Rightarrow x^3 + 3x^2 - 2 = (x+1)(x^2 + 2x - 2)$$

$$x^2 + 2x - 2 = 0 \Rightarrow x = \frac{-2 \pm \sqrt{4+8}}{2} = -1 \pm \sqrt{3}$$

Мы нашли все возможные значения x , теперь прове-
рим составим ли числа арифметическую прогрессию:

$$1) x = -1 \Rightarrow a_3 = 0; a_5 = 1; a_7 = 3 - \text{подходит по } a_n = -1 + 0,5(n-1)$$

$$2) x = -1 + \sqrt{3} \Rightarrow a_3 = 3\sqrt{3}; a_5 = 4; a_7 = 12 - 6\sqrt{3} - \text{подходит}$$

$$\text{где } a_n = 6\sqrt{3} - 4 + (2 - 1,5\sqrt{3})(n-1)$$

$$3) x = -1 - \sqrt{3} \Rightarrow a_3 = -3\sqrt{3}; a_5 = 4; a_7 = 12 + 6\sqrt{3} - \text{подхо-}$$

$$\text{дит где } a_n = -6\sqrt{3} - 4 + (2 + 1,5\sqrt{3})(n-1)$$



На одной странице можно оформлять только одну задачу. Отметьте крестиком номер задачи, решение которой представлено на странице. Также укажите номер страницы и суммарное количество страниц в решении каждой задачи отдельно.

1 2 3 4 5 6 7

СТРАНИЦА
2 из 2

Если отмечено более одной задачи или не отмечено ни одной задачи, страница считается черновиком и не проверяется. Страницы по каждой из задач нумеруются отдельно. Порча QR-кода недопустима!

мы нашли все возможные значения x и проверим, что они подходят.

Ответ: $x = -1; -1 + \sqrt{3}; -1 - \sqrt{3}$

На одной странице можно оформлять только одну задачу. Отметьте крестиком номер задачи, решение которой представлено на странице. Также укажите номер страницы и суммарное количество страниц в решении каждой задачи отдельно.



1 2 3 4 5 6 7

СТРАНИЦА
1 из 2

Если отмечено более одной задачи или не отмечено ни одной задачи, страница считается черновиком и не проверяется. Страницы по каждой из задач нумеруются отдельно. Порча QR-кода недопустима!

№ 2

Рассмотрим 4 случая:

$$1) x \geq 3y; 3x \geq y \Rightarrow \begin{cases} x - 3y \leq 3 \\ 3x - y \leq 1 \end{cases} \Rightarrow x \leq \frac{1+y}{3}; x \geq 3y$$

$$\Rightarrow 3y \leq \frac{1+y}{3} \Rightarrow y \leq \frac{1}{8} \Rightarrow 4y + 8x \leq \frac{20y+8}{3} \leq \frac{7}{2}$$

Доказательство при $y = \frac{1}{8}; x = \frac{3}{8}$ удовлетворяющим условиям.

$$2) x \geq 3y; 3x \leq y \Rightarrow \begin{cases} x - 3y \leq 3 \\ y - 3x \leq 1 \end{cases} \Rightarrow y \leq \frac{x}{3}; y \geq 3x$$

$$\Rightarrow \cancel{3x \leq \frac{x}{3}} \Rightarrow 3x \leq \frac{x}{3} \Rightarrow 8x \leq 0 \Rightarrow x \leq 0 \text{ и } y \leq 0$$

$\Rightarrow 4y + 8x \leq 0$. Доказательство при $x=0; y=0$ удовлетворяющим условиям.

$$3) x \leq 3y; 3x \geq y \Rightarrow \begin{cases} 3y - x \leq 3 \\ 3x - y \leq 1 \end{cases} \Rightarrow \begin{cases} x \leq \frac{1+y}{3} \\ x \geq \frac{y}{3} \end{cases}$$

$$\Rightarrow 3y - 3 \leq \frac{1+y}{3} \Rightarrow 8y \leq 10 \Rightarrow y \leq \frac{5}{4}; x \leq \frac{3}{4}$$

$\Rightarrow 4y + 8x \leq 11$. Доказательство при $y = \frac{5}{4}; x = \frac{3}{4}$ удовлетворяющим условиям.

$$4) x \leq 3y; 3x \leq y \Rightarrow \begin{cases} 3y - x \leq 3 \\ y - 3x \leq 1 \end{cases} \Rightarrow \begin{cases} x \leq \frac{y}{3} \\ x \geq 3y - 3 \end{cases}$$

На одной странице можно оформлять только одну задачу. Отметьте крестиком номер задачи, решение которой представлено на странице. Также укажите номер страницы и суммарное количество страниц в решении каждой задачи отдельно.



1 2 3 4 5 6 7

СТРАНИЦА
2 из 2

Если отмечено более одной задачи или не отмечено ни одной задачи, страница считается черновиком и не проверяется. Страницы по каждой из задач нумеруются отдельно. Порча QR-кода недопустима!

$$\Rightarrow 3y - 3 \leq \frac{4}{3} \Rightarrow 8y \leq 9 \Rightarrow y \leq \frac{9}{8}; x \leq \frac{3}{8} \Rightarrow$$
$$\Rightarrow 4y + 8x \leq \frac{15}{2}. \text{ Достигаем при } y = \frac{9}{8} \text{ и } x = \frac{3}{8}$$

удовлетворяющих условию.

Из всех возможных значений $4y + 8x$ во всех случаях самое большое 11, достигающееся при $x = \frac{3}{4}; y = \frac{5}{4}$ ~~и~~ удовлетворяющих условиям.

Ответ: 11

На одной странице можно оформлять только одну задачу. Отметьте крестиком номер задачи, решение которой представлено на странице. Также укажите номер страницы и суммарное количество страниц в решении каждой задачи отдельно.



1 2 3 4 5 6 7

СТРАНИЦА
1 из 2

Если отмечено более одной задачи или не отмечено ни одной задачи, страница считается черновиком и не проверяется. Страницы по каждой из задач нумеруются отдельно. Порча QR-кода недопустима!

№3

$$A = (m+n)(m+n-9)$$

$$B = mn(m+n-3)$$

Заметим, что $(m+n)$ и $(m+n-9)$ разной четности \Rightarrow ~~одно из них четно~~ $\Rightarrow A$ четное.

Рассмотрим 2 случая:

1) $A = 13p^2$. Т.к. A четное, то $p=2 \Rightarrow A = 52$

~~$A = 52 \Rightarrow 3 \cdot 17$~~ $A = 52 = 13 \cdot 4 = 1 \cdot 52$ -

это все способы разложить 52 на произведение четного и нечетного. Очевидно, что $m+n$ всегда больше, чем $m+n-9$ ~~и рассмотрим 2 случая~~

~~$A = 13p^2$~~ Заметим, что $(m+n) - (m+n-9) = 9 \Rightarrow$
 ~~$m+n = 13$~~

\Rightarrow получаем только случай $m+n = 13; m+n-9 = 4$.

Тогда $B = mn(m+n-3) = 10mn = 75q^2 \Rightarrow$

$\Rightarrow B : 2 \text{ т.к. } B = 10mn \Rightarrow q = 2 \Rightarrow B = 10mn = 300 \Rightarrow$

$\Rightarrow \begin{cases} mn = 30 \\ m+n = 13 \end{cases} \Rightarrow$ получаем только пары ~~m, n~~ $(3; 10)$ и $(10; 3)$

2) $A = 75q^2$. Т.к. A четное, то $q=2 \Rightarrow A = 300$



На одной странице можно оформлять **только одну** задачу. Отметьте крестиком номер задачи, решение которой представлено на странице. Также укажите номер страницы и суммарное количество страниц в решении каждой задачи отдельно.

1 2 3 4 5 6 7

СТРАНИЦА
2 из 2

Если отмечено более одной задачи или не отмечено ни одной задачи, страница считается черновиком и не проверяется. Страницы по каждой из задач нумеруются отдельно. Порча QR-кода недопустима!

$$A = 300 = 4 \cdot 75 = 12 \cdot 25 = 60 \cdot 5 = 20 \cdot 15 = 300 \cdot 1$$

Т.к. $(m+n)$ всегда больше $(m+n-9)$ и $(m+n) - (m+n-9) = 9$.

Но легко заметить, что нет разложения на множители с одинаковыми факторами на 9 \Rightarrow нет решений

В этой строке представлены все разложения 300 на произведение четного и нечетного

Рассмотрев все случаи, находим только пары

$$(m; n) = (10; 3) \text{ и } (3; 10)$$

Ответ: $(10; 3)$ и $(3; 10)$



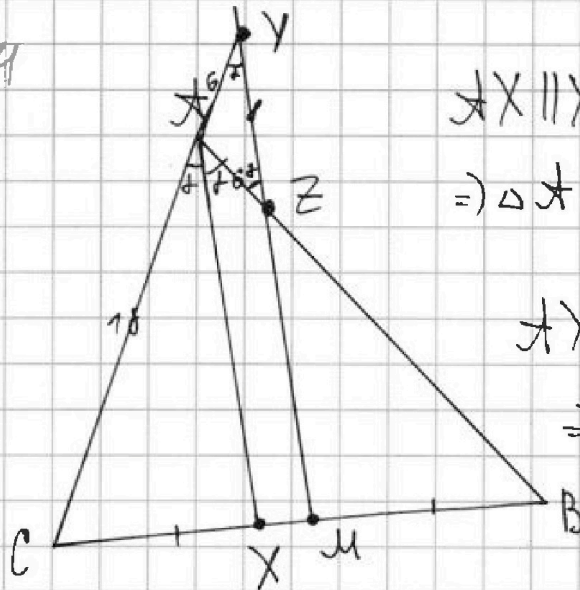
На одной странице можно оформлять только одну задачу. Отметьте крестиком номер задачи, решение которой представлено на странице. Также укажите номер страницы и суммарное количество страниц в решении каждой задачи отдельно.

1 2 3 4 5 6 7

СТРАНИЦА
1 из 2

Если отмечено более одной задачи или не отмечено ни одной задачи, страница считается черновиком и не проверяется. Страницы по каждой из задач нумеруются отдельно. Порча QR-кода недопустима!

14



$$\begin{aligned} \angle X \parallel XY &\Rightarrow \angle XZY = \angle ZAX = \angle CAX = \angle CYM \\ &\Rightarrow \triangle XZY \text{ равнобедренный} \Rightarrow XY = XZ = 6 \end{aligned}$$

$$\angle X \parallel XY \Rightarrow \triangle CAX \sim \triangle CYM \Rightarrow$$

$$\Rightarrow \frac{CX}{CY} = \frac{CM}{CB} = \frac{18}{18+6} = \frac{3}{4}$$

$$\frac{CX}{XB} = \frac{AC}{AB} = \frac{18}{ZB+6}$$

$$\frac{ZB}{ZB+6} = \frac{BM}{BX}$$

Из свойства биссектрисы:

Из подобия $\triangle ZBM \sim \triangle ABX$:

Из ранее доказанного:

$$\frac{AC \cdot BX}{ZB+6 \cdot AB} \cdot \frac{ZB+6}{ZB \cdot BX} = \frac{CX}{BM} = \frac{CX}{CM} = \frac{3}{4} \Rightarrow \frac{AC}{ZB} = \frac{3}{4} \Rightarrow$$

$\Rightarrow ZB = 24 \Rightarrow AB = 30$. Одной дугой отмечен

угол α . Тогда по теореме косинусов для $\triangle XZY$

$$\cos(180 - 2\alpha) = \frac{XY^2 + XZ^2 - YZ^2}{2 \cdot XY \cdot XZ} = \frac{1}{9} \Rightarrow$$

$\Rightarrow \cos(2\alpha) = -\frac{1}{9} \Rightarrow$ По теореме косинусов для $\triangle ABC$



На одной странице можно оформлять только одну задачу. Отметьте крестиком номер задачи, решение которой представлено на странице. Также укажите номер страницы и суммарное количество страниц в решении каждой задачи отдельно.

1 2 3 4 5 6 7

СТРАНИЦА
2 из 2

Если отмечено более одной задачи или не отмечено ни одной задачи, страница считается черновиком и не проверяется. Страницы по каждой из задач нумеруются отдельно. Порча QR-кода недопустима!

$$BC = \sqrt{A^2 + C^2 - 2AC \cos(2\alpha)} =$$
$$= \sqrt{30^2 + 18^2 + 2 \cdot 30 \cdot 18 \cdot \frac{1}{3}} = \sqrt{1344} = 8\sqrt{21}$$

Ответ: $BC = 8\sqrt{21}$



На одной странице можно оформлять только одну задачу. Отметьте крестиком номер задачи, решение которой представлено на странице. Также укажите номер страницы и суммарное количество страниц в решении каждой задачи отдельно.

1 2 3 4 5 6 7

СТРАНИЦА
1 из 1

Если отмечено более одной задачи или не отмечено ни одной задачи, страница считается черновиком и не проверяется. Страницы по каждой из задач нумеруются отдельно. Порча QR-кода недопустима!

№5

$$\sqrt{x+1} - \sqrt{6-y} + 5 = 2\sqrt{6+5x-y^2}$$

~~$$x+1+6-y = 2\sqrt{6x+6-xy-y} = 2\sqrt{4+20x-4y^2} + 25 - 20\sqrt{6+5x-y^2}$$~~

~~$$4y^2 - y - 19x - 42 = 2\sqrt{6x+6-xy-y} - 20\sqrt{6+5x-y^2}$$~~

Из второго уравнения $x^4 + 5x^2 + \sqrt{x} = y^4 + 5y^2 + \sqrt{y}$ и

т.к. $x^4 + 5x^2 + \sqrt{x} \geq 0$ и $y^4 + 5y^2 + \sqrt{y} \geq 0 \Rightarrow x = y$

\Rightarrow подставим в первое уравнение:

$$4x^2 - x - 19x - 42 = 2\sqrt{6x+6-x^2-x} - 20\sqrt{6+5x-x^2}$$

$$4x^2 - 20x - 42 = -18\sqrt{5x+6-x^2}$$

$$2x^2 - 10x - 21 = -9\sqrt{5x+6-x^2}$$

$$\sqrt{x+1} - \sqrt{6-x^2} + 5 = 2\sqrt{6+5x-x^2}. \text{ Заменим}$$

ODЗ для каждого корня:

$$\begin{cases} x \geq -1 \\ x \leq 6 \end{cases}$$

$$\Rightarrow \begin{cases} x \geq -1 \\ x \leq 6 \end{cases}$$

$$-(x-6)(x+1) \geq 0$$

$$-1 \leq x \leq 6$$

введем замену $t = x - 2,5$ и подставим в первое уравнение.

$$\sqrt{t+3,5} - \sqrt{3,5-t} + 5 = 2\sqrt{3,5^2-t^2} \Rightarrow t =$$

Ответ: $x =$; $y =$

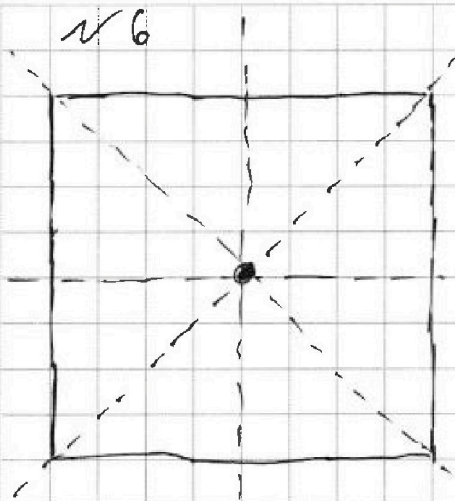


На одной странице можно оформлять только одну задачу. Отметьте крестиком номер задачи, решение которой представлено на странице. Также укажите номер страницы и суммарное количество страниц в решении каждой задачи отдельно.

1 2 3 4 5 6 7

СТРАНИЦА
1 из 1

Если отмечено более одной задачи или не отмечено ни одной задачи, страница считается черновиком и не проверяется. Страницы по каждой из задач нумеруются отдельно. Порча QR-кода недопустима!



всего 81 узел сетки.

$81 \cdot 80 = 6480$ способов выбрать

и перекрасить 2 узла. Замечаем, что у квадрата 4 оси симметрии показанные на рисунке.

У каждую симметрию относительно одной из осей симметрии можно получить поворотом.

Т.е. для каждого способа есть 4 симметричные относительно каждой из осей \Rightarrow

$$x = \frac{6480}{1+4} = \frac{6480}{5} = 1296$$

способов перекрасить 2 узла в белый цвет.

Ответ: 1296

Продолжение решения: Все оси симметрии пересекаются только в одном центральном узле, а т.к. мы перекрашиваем 2 узла, то они не могут быть одновременно расположены относительно любых 2-ух осей \Rightarrow имеют разные образы симметрии.



На одной странице можно оформлять только одну задачу. Отметьте крестиком номер задачи, решение которой представлено на странице. Также укажите номер страницы и суммарное количество страниц в решении каждой задачи отдельно.

1 2 3 4 5 6 7

СТРАНИЦА _____
ИЗ _____

Если отмечено более одной задачи или не отмечено ни одной задачи, страница считается черновиком и не проверяется. Страницы по каждой из задач нумеруются отдельно. Порча QR-кода недопустима!

Черновик

$$\sqrt{x+1} - \sqrt{6-y} + \sqrt{6} = 2\sqrt{6+5x-y^2} - 5$$

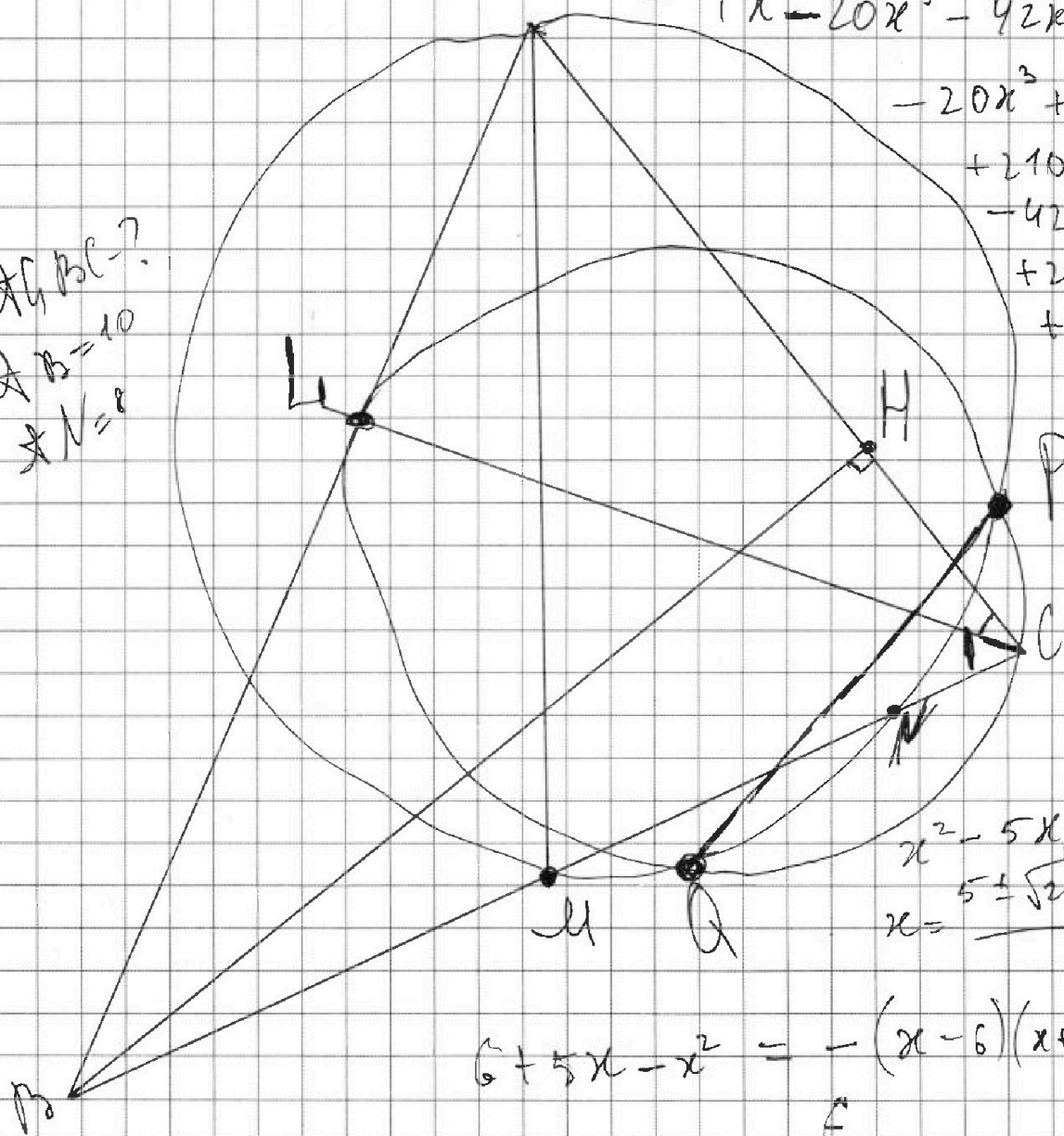
~~$x + \sqrt{6+y}$~~

$$(2x^2 - 10x - 2)(7x^2 - 10x - 21)$$

$$= 4x^4 - 20x^3 - 42x^2$$

$$-20x^3 + 100x^2 + 210x - 42x^2 + 210x + 21^2$$

* ABC - ?
* AB = 10
* AC = 8



$$x^2 - 5x - 6$$

$$x = \frac{5 \pm \sqrt{25 + 24}}{2}$$

$$6 + 5x - x^2 = -(x-6)(x+1)$$

На одной странице можно оформлять только одну задачу. Отметьте крестиком номер задачи, решение которой представлено на странице. Также укажите номер страницы и суммарное количество страниц в решении каждой задачи отдельно.



1 2 3 4 5 6 7

СТРАНИЦА
__ ИЗ __

Если отмечено более одной задачи или не отмечено ни одной задачи, страница считается черновиком и не проверяется. Страницы по каждой из задач нумеруются отдельно. Порча QR-кода недопустима!

№ 2

Черновик

Расширим 4 угла:

$$1) x \geq 3y; 3x \geq y \Rightarrow \begin{cases} x - 3y \leq 3 \\ 3x - y \leq 1 \end{cases} \Rightarrow$$

$$\Rightarrow \cancel{4x - 14y \leq 14}, x \leq \frac{1+y}{3} \Rightarrow 4y + 8x \leq \frac{20y+8}{3}$$

$$x - 3y \leq 1 - 2y \Rightarrow 3x - y \leq 3 + 2y$$

$$3y \leq x \leq 1+y \Rightarrow 3y \leq 1+y \Rightarrow y \leq 0,5 \Rightarrow$$

$$\Rightarrow 4y + 8x \leq \frac{20y+8}{3} \leq \frac{20 \cdot 0,5 + 8}{3} = \frac{18}{3} = 6. \text{ Значение 14 достигалось}$$

при $y = 0,5; x = \frac{1+y}{3} = \frac{1,5}{3} = 0,5$. Заметим, что все условия выполнены

2)

$$3y \leq x \leq \frac{1+y}{3}$$

$$3y \leq \frac{1+y}{3}$$



На одной странице можно оформлять только одну задачу. Отметьте крестиком номер задачи, решение которой представлено на странице. Также укажите номер страницы и суммарное количество страниц в решении каждой задачи отдельно.

1 2 3 4 5 6 7

СТРАНИЦА
__ ИЗ __

Если отмечено более одной задачи или не отмечено ни одной задачи, страница считается черновиком и не проверяется. Страницы по каждой из задач нумеруются отдельно. Порча QR-кода недопустима!

Черновик

$$x^4 + 5x^2 + \sqrt{x} = y^4 + 5y^2 + \sqrt{y}$$

$$\sqrt{x} - \sqrt{y} = 0$$

$$+ \sqrt{x} - \sqrt{y} = 0$$

$$+ 5(x+y)(x+y)(5x+5y)(5x-5y)$$

$$+ (x^2+y^2)(x+y)(5x+5y)(5x-5y)$$

$$x^4 + 5x^2 + x$$

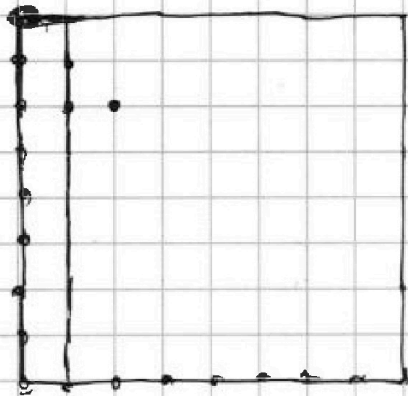
$$\frac{x^4}{y} + 5x^2 + x = \frac{y^4}{y} + 5y^2 + y$$

$$\sqrt{\frac{x}{y}} = t$$

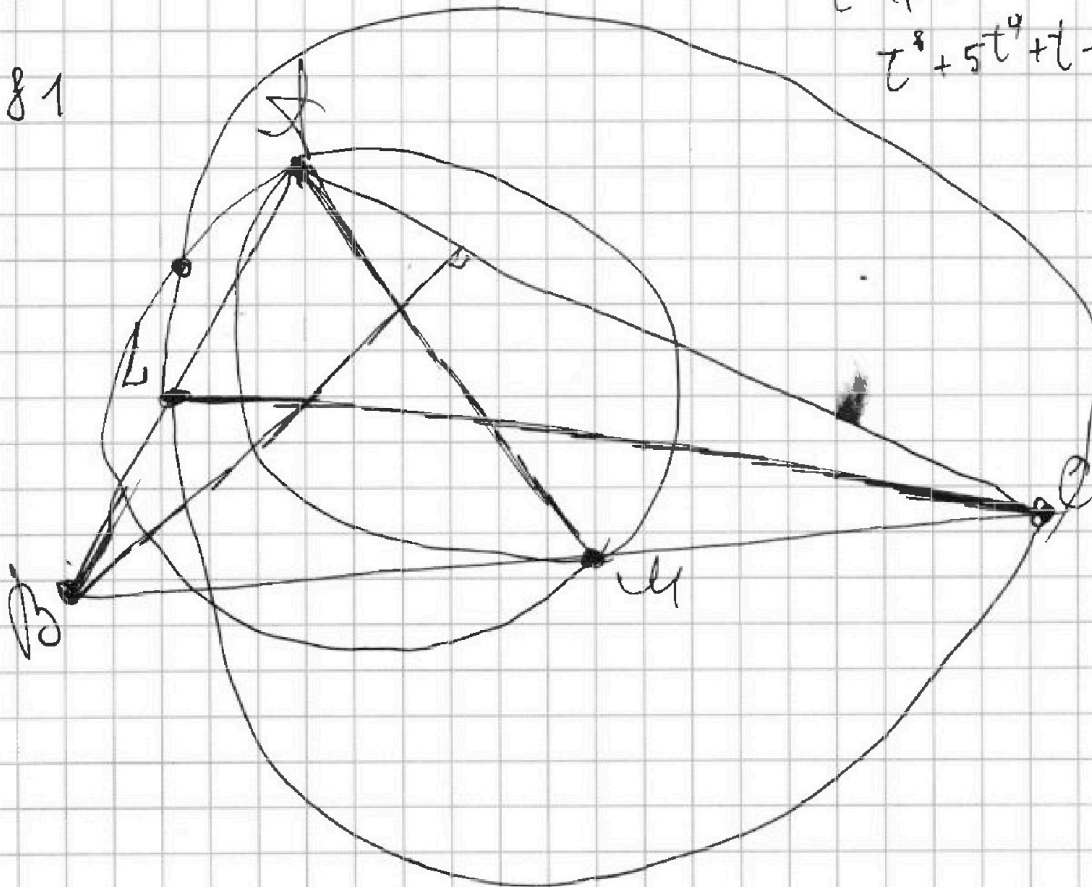
1 узел целых

$$t^8 + 5t^4 + t = 3$$

$$t^8 + 5t^4 + t - 3 = 0$$



§ 1





На одной странице можно оформлять только одну задачу. Отметьте крестиком номер задачи, решение которой представлено на странице. Также укажите номер страницы и суммарное количество страниц в решении каждой задачи отдельно.

1 2 3 4 5 6 7

СТРАНИЦА
___ ИЗ ___

Если отмечено более одной задачи или не отмечено ни одной задачи, страница считается черновиком и не проверяется. Страницы по каждой из задач нумеруются отдельно. Порча QR-кода недопустима!

Черновики

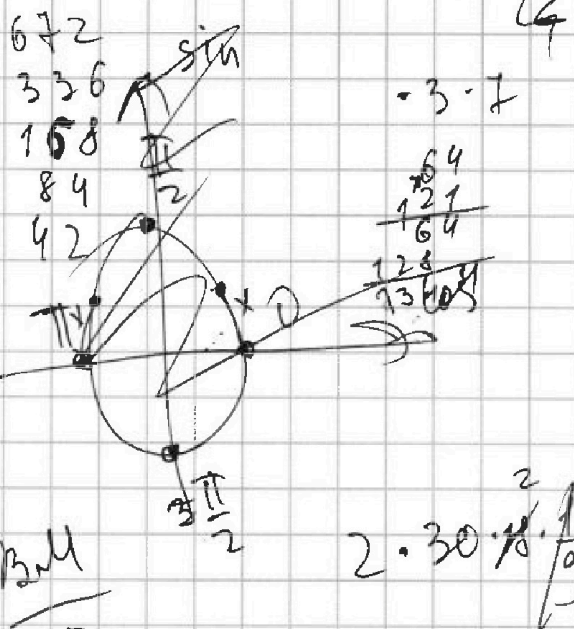
$$\frac{CX}{XB} = \frac{AC}{AB} = \frac{18}{2B+6}$$

$$\frac{2B}{2B+6} = \frac{BM}{BX}$$

$$\frac{CX}{18} = \frac{BM}{2B+6} = \frac{BM}{2B}$$

$$\frac{CX}{BM} = \frac{18}{2B} = \frac{3}{4} \Rightarrow$$

$$1344 = 2 \cdot 2 \cdot 2 \cdot 2 \cdot 2 \cdot 2 \cdot 2 \cdot 2$$



$$\begin{array}{r} 672 \\ 336 \\ 168 \\ 84 \\ 42 \\ 21 \end{array}$$

$$2 \cdot 30 \cdot \frac{1}{9}$$

$$\begin{array}{r} 1020 \\ 324 \\ \hline 1344 \end{array}$$

$$AY^2 + AZ^2 - 2AYAZ$$

$$\begin{array}{r} 18 \\ 18 \\ 18 \\ \hline 54 \\ 18 \\ \hline 72 \end{array}$$

$$\sqrt{900 + 324 + 120}$$

$$\begin{array}{r} 237 \\ 34 \\ \hline 259 \\ 111 \\ \hline 4369 \\ 238 \\ 238 \\ \hline 304 \\ 114 \\ \hline 1494 \end{array}$$

На одной странице можно оформлять только одну задачу. Отметьте крестиком номер задачи, решение которой представлено на странице. Также укажите номер страницы и суммарное количество страниц в решении каждой задачи отдельно.



1 2 3 4 5 6 7

СТРАНИЦА
__ ИЗ __

Если отмечено более одной задачи или не отмечено ни одной задачи, страница считается черновиком и не проверяется. Страницы по каждой из задач нумеруются отдельно. Порча QR-кода недопустима!

Черновик

$$A = m^2 + 2mn + n^2 - 9(m+n)$$

$$B = mn(m+n-3)$$

$$A = (m+n)(m+n-9)$$

$$B = mn(m+n-3)$$

m, n - разной четности \Rightarrow

m, n - одной четности \Rightarrow

$$\frac{ZB}{ZB+6} = \frac{B \cdot H}{B \cdot X}$$

$$64 = \frac{H}{X} \cdot \frac{AC}{AC+H}$$

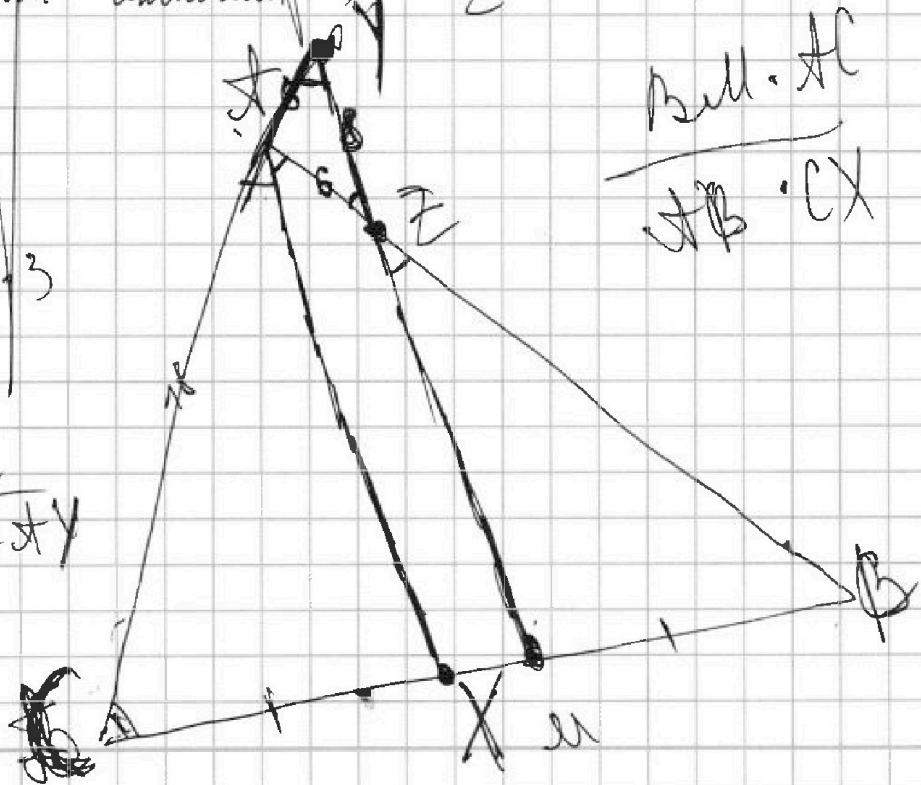
$$\frac{CX}{BX} = \frac{AC}{AH}$$

$$\frac{ZB}{ZB+6} = \frac{B \cdot H}{B \cdot X} = \frac{AC \cdot H}{AC \cdot X + H^2}$$

$$\frac{B \cdot H \cdot AC}{AH \cdot CX}$$

$$75 = 5 \cdot 5 \cdot 3$$

$$\frac{CX}{CH} = \frac{AC}{AC+H}$$





На одной странице можно оформлять только одну задачу. Отметьте крестиком номер задачи, решение которой представлено на странице. Также укажите номер страницы и суммарное количество страниц в решении каждой задачи отдельно.

1 2 3 4 5 6 7

СТРАНИЦА
_ _
ИЗ
_ _

Если отмечено более одной задачи или не отмечено ни одной задачи, страница считается черновиком и не проверяется. Страницы по каждой из задач нумеруются отдельно. Порча QR-кода недопустима!

№1

Черновик

$$\begin{cases} t = x - y \\ |t - 2y| \leq 3 \\ |t + 2x| \leq 1 \end{cases}$$

$$3x^4 + 12x^3 + 9x^2 + 18x = 9x^2$$

$$x^2 + 2x - 2 = 0$$

$$x_{1,2} = \frac{-2 \pm \sqrt{4 + 16}}{2}$$

~~$$5x + 3 + 2d = \dots$$~~

$$6x + 6 + 18d = 6x^2$$

$$3x^4 + 12x^3 + 9x^2 - 6x - 6 = 0$$

$$x^4 + 4x^3 + 3x^2 - 2x - 2 = 0$$

$$x = -1$$

4y + 8x

$$x^4 + x^3$$

$$\begin{array}{r} x+1 \\ \hline x^3 + 3x^2 - 2 \\ -x^3 + x^2 \\ \hline 2x^2 - 2 \end{array}$$

x+1

$$\frac{x^2 + 2x - 2}{x+1}$$

$$\begin{array}{r} 3x^3 + 3x^2 - 2x - 2 \\ -3x^3 + 3x^2 \\ \hline -2x - 2 \end{array}$$

$$\begin{array}{r} 2x^2 - 2 \\ -2x^2 + 2x \\ \hline -2x - 2 \end{array}$$

$$4 + 2\sqrt{3} - 2 - 2\sqrt{3}$$

$$\begin{array}{r} -2x - 2 \\ -2x - 2 \\ \hline 0 \end{array}$$

$$\frac{4}{3} < x < \frac{34}{3}$$

$$12 - 6\sqrt{3} + 2\sqrt{3} - 2$$

$$6\sqrt{3} - 4 + (2 - 1,5\sqrt{3})^{(n-1)}$$

$$(2 + 1,5\sqrt{3})^{(n-1)}$$

-6



На одной странице можно оформлять **только одну** задачу. Отметьте **крестиком** номер задачи, решение которой представлено на странице. Также укажите номер страницы и суммарное количество страниц в решении каждой задачи отдельно.

1	2	3	4	5	6	7
<input type="checkbox"/>	<input type="checkbox"/>	<input type="checkbox"/>	<input type="checkbox"/>	<input type="checkbox"/>	<input type="checkbox"/>	<input type="checkbox"/>

СТРАНИЦА
__ ИЗ __

Если отмечено более одной задачи или не отмечено ни одной задачи, страница считается черновиком и не проверяется. Страницы по каждой из задач нумеруются отдельно. Порча QR-кода недопустима!

Черновик



На одной странице можно оформлять **только одну** задачу. Отметьте **крестиком** номер задачи, решение которой представлено на странице. Также укажите номер страницы и суммарное количество страниц в решении каждой задачи отдельно.

1	2	3	4	5	6	7
<input type="checkbox"/>	<input type="checkbox"/>	<input type="checkbox"/>	<input type="checkbox"/>	<input type="checkbox"/>	<input type="checkbox"/>	<input type="checkbox"/>

СТРАНИЦА
_ _ _
ИЗ
_ _ _

Если отмечено более одной задачи или не отмечено ни одной задачи, страница считается черновиком и не проверяется. **Страницы по каждой из задач нумеруются отдельно.** Порча QR-кода недопустима!

