



Олимпиада «Физтех» по физике, февраль 2024

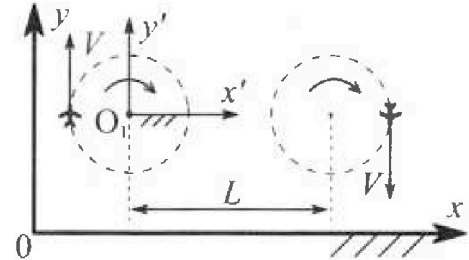
Вариант 10-04

В ответах всех задач допустимы обыкновенные дроби и радикалы.



1. Во время выполнения пилотажного упражнения два самолёта летят в горизонтальной плоскости с одинаковыми по модулю скоростями $V = 100$ м/с (см. рис.) по окружностям одинакового радиуса. Радиус окружности, по которой движется каждый самолет, $R=500$ м. Ускорение свободного падения $g = 10$ м/с².

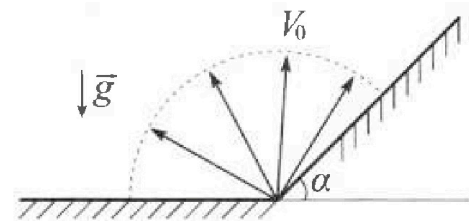
1. Определите отношение $\frac{N}{mg}$, здесь N – сила, с которой летчик действует на пилотское кресло, mg – сила тяжести летчика.



В некоторый момент времени са молеты оказались на прямой, проходящей через центры окружностей, в положении максимального удаления. Расстояние между центрами окружностей $L=1,25$ км. Вектор скорости каждого самолета показан на рис.

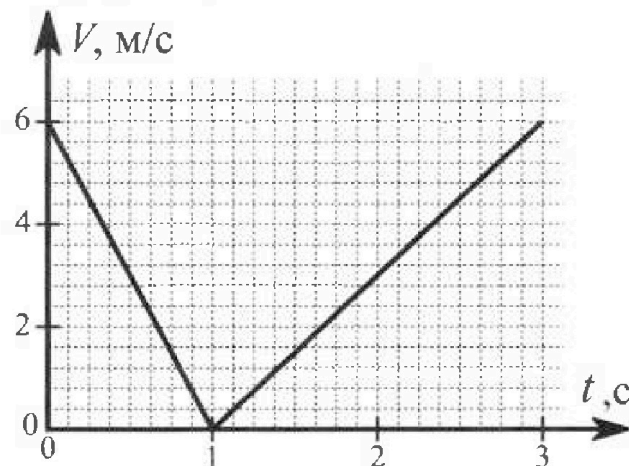
2. Найдите в этот момент скорость \vec{U} второго (правого на рис.) самолёта во вращающейся системе отсчёта $x'O_1y'$, связанной с первым (левым на рис.) самолётом. В ответе укажите модуль и направление вектора \vec{U} .

2. У подножья склона разрывается фейерверк. Осколки летят во всевозможных направлениях с одинаковыми по модулю скоростями. Продолжительность полета осколка, упавшего на горизонтальную поверхность на максимальном расстоянии от точки разрыва, равна $T = 5$ с, максимальное перемещение за время полета осколка, упавшего на склон, равно $S = 100$ м. Ускорение свободного падения $g = 10$ м/с². Сопротивление воздуха считайте пренебрежимо малым.



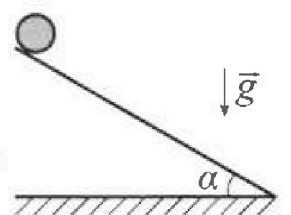
1. Найдите начальную скорость V_0 осколков.
2. Найдите угол α , который плоская поверхность склона образует с горизонтом.

3. В первом опыте на шероховатую наклонную плоскость кладут шайбу и сообщают шайбе начальную скорость. Часть зависимости модуля скорости шайбы от времени представлена на графике к задаче. Движение шайбы до и после остановки происходит вдоль одной и той же прямой. Ускорение свободного падения $g = 10$ м/с².



1. Найдите $\sin \alpha$, здесь α – угол, который наклонная плоскость образует с горизонтом.

Во втором опыте с той же наклонной плоскости скатывается без проскальзывания тонкостенная однородная цилиндрическая бочка, полностью заполненная водой. Начальная скорость нулевая. Масса воды в $n=4$ раза больше массы бочки. Воду считайте идеальной жидкостью. Масса торцов бочки пренебрежимо мала.



2. С какой по величине скоростью V движется бочка после перемещения по вертикали на $h=1,5$ м?
3. Найдите ускорение a , с которым движется бочка.
4. При каких величинах коэффициента μ трения скольжения бочка катится без проскальзывания?



Олимпиада «Физтех» по физике,
февраль 2024

Вариант 10-04

В ответах всех задач допустимы обыкновенные дроби
и радикалы.



4. В изохорическом процессе от смеси идеальных газов гелия и азота отводят $Q = 2320$ Дж теплоты. Температура смеси уменьшается на $|\Delta T_1| = 58$ К. Если в изобарическом процессе от той же смеси отвести то же самое количество теплоты, то температура смеси уменьшится на $|\Delta T_2| = 40$ К.

1. Найдите работу A внешних сил в изобарическом процессе.
2. Найдите теплоемкость C_p смеси в изобарическом процессе.
3. Найдите отношение $\frac{N_1}{N_2}$ числа атомов гелия к числу молекул азота в смеси.

Указание: внутренняя энергия двухатомного газа азота $U = \frac{5}{2}PV$.

5. Отрицательно заряженная частица движется между обкладками плоского конденсатора. Конденсатор заряжен до напряжения U , расстояние между обкладками d . В некоторый момент частица движется со скоростью V_0 параллельно обкладкам на расстоянии $\frac{3}{8}d$ от отрицательно заряженной обкладки. Радиус кривизны траектории в малой окрестности рассматриваемой точки равен R .

1. Найдите удельный заряд $\gamma = \frac{q}{m}$ частицы, здесь q – заряд частицы, m – масса частицы.

Через некоторое время после вылета из конденсатора частица пересекает серединную плоскость конденсатора (плоскость, равноудаленную от обкладок).

2. С какой по величине скоростью V движется в этот момент частица?



На одной странице можно оформлять только одну задачу. Отметьте крестиком номер задачи, решение которой представлено на странице. Также укажите номер страницы и суммарное количество страниц в решении каждой задачи отдельно.

1 2 3 4 5 6 7

СТРАНИЦА
1 из 2

Если отмечено более одной задачи или не отмечено ни одной задачи, страница считается черновиком и не проверяется. Страницы по каждой из задач нумеруются отдельно. Порча QR-кода недопустима!

Дано:

$$v = 100 \text{ м/с}$$

$$R = 500 \text{ м}$$

$$L = 1,25 \text{ м}$$

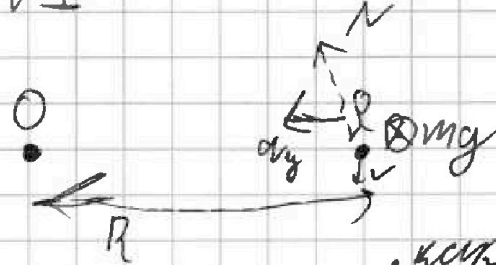
$$g = 10 \text{ м/с}^2$$

$$k = \frac{N}{mg} \text{ ?}$$

$$v \text{ ?}$$

1)

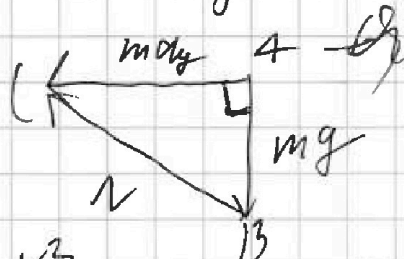
N1



N имеет ком. бие $v_0 - v$ рисунка, так и в $m - m$ рисунка.

\vec{N} и \vec{mg} для иллюстр.

$$m \vec{a}_g = \vec{N} + m \vec{g}$$



Тогда для ΔABC : $N = m \sqrt{a_g^2 + g^2}$

$$a_g = \frac{v^2}{R} = 7 \text{ м/с}^2 \text{ вычисляется по др.}$$

$$k = \frac{N}{mg} = \sqrt{\left(\frac{v^2}{gR}\right)^2 + 1} = \sqrt{1 + \left(\frac{v^2}{gR}\right)^2} =$$

$$= \sqrt{1 + \frac{100 \cdot 10^3}{25 \cdot 10^6}} = \sqrt{1 + \frac{100}{25}} = \sqrt{5}$$

2) $\vec{v}_{\text{ид}} = \vec{v}_{\text{отн}} + \vec{v}_0 + [\vec{\omega} \times \vec{r}]$

$\vec{v} = \vec{v}_{\text{ид}}$ — скорость в лад. С.О.

$\vec{v}_{\text{отн}} = \vec{v}$ — отн. скорость

$\vec{\omega}$ — угл. скорость браса С.О.



На одной странице можно оформлять **только одну** задачу. Отметьте крестиком номер задачи, решение которой представлено на странице. Также укажите номер страницы и суммарное количество страниц в решении каждой задачи отдельно.

1 2 3 4 5 6 7

СТРАНИЦА
2 из 2

Если отмечено более одной задачи или не отмечено ни одной задачи, страница считается черновиком и не проверяется. Страницы по каждой из задач нумеруются отдельно. Порча QR-кода недопустима!

\vec{v}_0 - скорость центра C.O.
 \vec{r} - радиус вектор точки, в которой
 мы хотим найти ускорение



$$|\vec{r}| = L + R$$

В C.O. ω (или ω_1):

$$|\vec{v}_0| = 0 \quad \text{т.к. т.о. - неподвижна}$$

$$\begin{aligned} & \uparrow [\vec{\omega} \times \vec{r}] \text{ т.к. } (-1) \\ & \downarrow v \end{aligned}$$

$$v = v_{\text{точк}} = v \cdot \omega (R+L) = v \cdot \omega \left(1 + \frac{L}{R}\right) = -v \frac{R}{L} =$$

$$= -100 \left(\frac{54}{4 \cdot 95}\right) \text{ м/с} = -250 \text{ м/с} \Rightarrow \text{не угадан}$$

направление.

ответ: $\frac{v}{\text{мг}} = \sqrt{5}$; $v = 250 \text{ м/с}$ - не м/с
 было $\frac{v}{\text{мг}}$ ось x и y не стороны



На одной странице можно оформлять **только одну** задачу. Отметьте крестиком номер задачи, решение которой представлено на странице. Также укажите номер страницы и суммарное количество страниц в решении каждой задачи отдельно.

1 2 3 4 5 6 7

СТРАНИЦА
1 из 4

Если отмечено более одной задачи или не отмечено ни одной задачи, страница считается черновиком и не проверяется. Страницы по каждой из задач нумеруются отдельно. Порча QR-кода недопустима!

Дано:

$g = 10 \text{ м/с}^2$
 $T = 5 \text{ с}$
 $S = 100 \text{ м}$
 $T = 5 \text{ с}$

$v_0 = ?$
 $d = ?$

$v_{\text{max}} = \frac{v_0}{g} \sin(2\beta) \Rightarrow v_{\text{max}} \rightarrow \text{max}$
 при $\beta = 45^\circ$, тогда

~~$v_{\text{max}} = v_0 \cos \beta$~~
 ~~$v_{\text{max}} = \frac{v_0}{\cos \beta} \Rightarrow 20\sqrt{2} \text{ м/с}$~~

и $y(t_{\text{max}}) = 0$ — упр. на $y = 0$
 $v_0 \sin(\beta) T - g \frac{T^2}{2} = 0$ и $T \neq 0$
 $T = \frac{2v_0 \sin \beta}{g} \Rightarrow v_0 = \frac{gT}{2 \sin \beta} = \frac{10 \cdot 5}{2 \sin \beta} = \frac{25}{\sin \beta}$
 $= 25\sqrt{2} \text{ м/с}$

$\vec{\frac{S}{t}} = \vec{v_0} + \frac{g\vec{t}}{2}$

$\alpha + \alpha - \beta + 90^\circ = 180^\circ$
 $\alpha = \beta - \alpha - \alpha - \alpha \Rightarrow \sum \text{угл } \triangle ABC = 180^\circ$

$S_{\triangle ABC} = \frac{1}{2} \frac{S}{t} \cdot \frac{gt}{2} \cdot \sin(90^\circ + \alpha) = \frac{1}{2} v_0^2 \frac{\sin(90^\circ - \beta) \cdot \sin(\alpha)}{\sin(\alpha - \beta)}$
 $\frac{gS}{2} = v_0^2 \cdot \frac{\cos \beta}{\cos \alpha} (\sin \beta \cos \alpha - \cos \beta \sin \alpha)$



На одной странице можно оформлять только одну задачу. Отметьте крестиком номер задачи, решение которой представлено на странице. Также укажите номер страницы и суммарное количество страниц в решении каждой задачи отдельно.

1 2 3 4 5 6 7

СТРАНИЦА
2 из 4

Если отмечено более одной задачи или не отмечено ни одной задачи, страница считается черновиком и не проверяется. Страницы по каждой из задач нумеруются отдельно. Порча QR-кода недопустима!

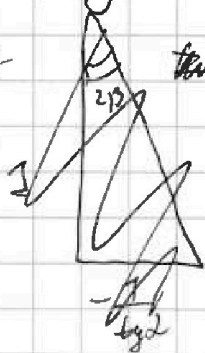
$$S = \frac{v_0^2}{g} (\sin(2\beta) - 2\cos^2\beta \operatorname{tg}\alpha)$$

$S'_\beta = 0$ — найдем экстремум

$$0 = 2\sin\beta - 2\cos(2\beta) + 4\cos\beta \operatorname{tg}\alpha \sin\beta$$

$$0 = \cos(2\beta) + \operatorname{tg}\alpha \sin(2\beta)$$

$$\operatorname{tg}(2\beta) = -\frac{1}{\operatorname{tg}\alpha} =$$



$$S''_\beta = \frac{v_0^2}{g} (-2\sin 2\beta + 2\operatorname{tg}\alpha \cos 2\beta)$$

$$\frac{S''_\beta}{\cos 2\beta} = \frac{v_0^2}{g} (-\operatorname{tg} 2\beta + 2\operatorname{tg}\alpha) \quad \text{т.к. } 2\beta \in [0; \pi]$$

и $\operatorname{tg}(2\beta) < 0$ (т.к. $2\beta \in (\pi/2; \pi)$), то

$$\cos 2\beta < 0, \text{ т.к. } \frac{S''_\beta}{\cos 2\beta} > 0, \text{ то } S''_\beta < 0 \Rightarrow$$

это максимум

$$\operatorname{tg}(2\beta) = +\left(\frac{1}{\operatorname{tg}\alpha}\right) = \frac{1 - \cos 2\beta}{\cos 2\beta}$$

$$\cos^2 2\beta \left(1 + \frac{1}{\operatorname{tg}^2 \alpha}\right) = 1 \Rightarrow \cos 2\beta = -\frac{1}{\sqrt{1 + \frac{1}{\operatorname{tg}^2 \alpha}}}$$

$$= 2\cos^2 \beta - 1 \Rightarrow \boxed{2\cos^2 \beta = 1 - \frac{1}{\sqrt{1 + \frac{1}{\operatorname{tg}^2 \alpha}}} = 1 - \sin \alpha}$$

На одной странице можно оформлять только одну задачу. Отметьте крестиком номер задачи, решение которой представлено на странице. Также укажите номер страницы и суммарное количество страниц в решении каждой задачи отдельно.



1 2 3 4 5 6 7

СТРАНИЦА

83 из 4

Если отмечено более одной задачи или не отмечено ни одной задачи, страница считается черновиком и не проверяется. Страницы по каждой из задач нумеруются отдельно. Порча QR-кода недопустима!

$$\operatorname{tg}^2 2\beta = \frac{\sin^2 2\beta}{1 - \sin^2 2\beta} \quad \left[\sin 2\beta = \frac{-\operatorname{tg} 2\beta}{\sqrt{1 + \operatorname{tg}^2 2\beta}} \right] \quad \text{т.к.}$$

$\beta \in [0; 90^\circ]$, то $\sin(2\beta) \geq 0$

$$S = \frac{v_0^2}{g} (\sin 2\beta - 2\cos^2 \beta \operatorname{tg} \alpha) = \frac{v_0^2}{g} \left(\frac{-\operatorname{tg} 2\beta}{\sqrt{1 + \operatorname{tg}^2 2\beta}} - \operatorname{tg} \alpha \left(1 - \frac{1}{\sqrt{1 + \operatorname{tg}^2 2\beta}} \right) \right) =$$

$$= \frac{v_0^2}{g} \left(\frac{+1}{\operatorname{tg} \alpha \sqrt{1 + \frac{1}{\operatorname{tg}^2 \alpha}}} - \operatorname{tg} \alpha + \frac{\operatorname{tg} \alpha}{\sqrt{1 + \frac{1}{\operatorname{tg}^2 \alpha}}} \right) =$$

$$= \frac{v_0^2}{g} \left(\cos^2 \alpha - \operatorname{tg} \alpha + \frac{\operatorname{tg} \alpha \cdot \sin \alpha}{\sin \alpha} \right) = \frac{v_0^2}{g} (2\cos^2 \alpha - \operatorname{tg} \alpha)$$

$$= \frac{v_0^2}{g} \left(\cos \alpha + \frac{\sin \alpha}{\cos \alpha} - \sin \alpha \right) = \frac{v_0^2}{g \cos \alpha}$$

$$\frac{gS}{v_0^2} = \cos \alpha + \frac{1 - \sqrt{1 - \cos^2 \alpha}}{\cos \alpha} - \cos^2 \alpha$$

$$\frac{gS}{v_0^2} \cos^2 \alpha = 1 - \sqrt{1 - \cos^2 \alpha}$$

$$1 - \cos^2 \alpha = \left(1 - \cos^2 \alpha \left(\frac{gS}{v_0^2} - 1 \right) \right)^2$$

$$- \cos^2 \alpha = -2\cos^2 \alpha \left(\frac{gS}{v_0^2} - 1 \right) + \cos^2 \alpha \left(\frac{gS}{v_0^2} - 1 \right)^2$$

т.к. $\cos^2 \alpha \neq 0$, то

$$1 + 2\left(\frac{gS}{v_0^2} - 1\right) = \cos^2 \alpha \left(\frac{gS}{v_0^2} - 1\right)^2$$

$$\cos^2 \alpha = \sqrt{\frac{2}{\frac{gS}{v_0^2} - 1}} = \sqrt{2}$$



На одной странице можно оформлять **только одну** задачу. Отметьте крестиком номер задачи, решение которой представлено на странице. Также укажите номер страницы и суммарное количество страниц в решении каждой задачи отдельно.

1 2 3 4 5 6 7

СТРАНИЦА
4 из 4

Если отмечено более одной задачи или не отмечено ни одной задачи, страница считается черновиком и не проверяется. Страницы по каждой из задач нумеруются отдельно. Порча QR-кода недопустима!

$$\cos \alpha = \frac{\sqrt{\frac{95}{v^2} - 2}}{\left(\frac{95}{v^2} - 1\right)^2} = \sqrt{\frac{\frac{10^3}{800} - 2}{\frac{10^3}{800}}}$$

$$2 \left(\frac{95}{v^2} - 1 \right) = \cos \alpha \left(\frac{95}{v^2} - 1 \right)^2 + 1$$

$$1 - \cos^2 \alpha = \left(\frac{95}{v^2} - \frac{95}{v^2} \cos \alpha + 1 \right)^2 \quad \text{верно}$$

$$-\cos^2 \alpha = \cos^4 \alpha + \left(\frac{95}{v^2} \right)^2 \cos^2 \alpha + 2 \cos^2 \alpha - \frac{2 \cos^3 \alpha 95}{v^2} - 2 \frac{95}{v^2} \cos \alpha$$

$$\cos^3 \alpha + \cos^2 \alpha \left(\frac{95}{v^2} + 3 \right) - \frac{2 \cos^2 \alpha 95}{v^2} - \frac{95}{v^2} = 0$$

$$-\cos^2 \alpha = \left(\frac{95}{v^2} \right)^2 \cos^2 \alpha - \frac{2 \cdot 95}{v^2} \cos \alpha$$

r.v. $\cos \alpha \neq 0, \neq 0$

$$\cos \alpha = \frac{2 \cdot 95}{v^2 \left(1 + \left(\frac{95}{v^2} \right)^2 \right)} = \frac{2 \cdot 10^3}{625 \cdot 2 \left(1 + \left(\frac{10^3}{1250} \right)^2 \right)}$$

$$= \frac{40}{25 \left(1 + \frac{16}{5} \right)} = \frac{8}{5 \left(1 + \frac{16}{25} \right)} = \frac{8}{5 + \frac{16}{5}} = \frac{40}{41}$$

Answer: $v_0 = 25\sqrt{2} \text{ м/с}; \alpha = \arccos\left(\frac{40}{41}\right)$



1 2 3 4 5 6 7


СТРАНИЦА
1 из 4

Если отмечено более одной задачи или не отмечено ни одной задачи, страница считается черновиком и не проверяется. Страницы по каждой из задач нумеруются отдельно. Порча QR-кода недопустима!

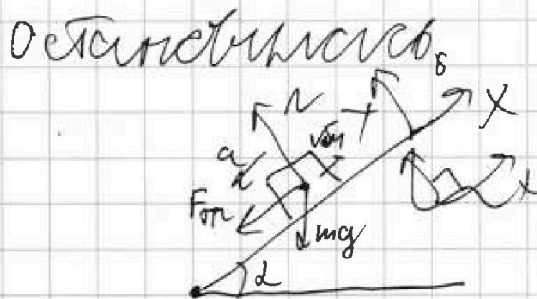
Дано:
 $g = 10 \text{ м/с}^2$
 $h = 1,5 \text{ м}$
 $\alpha = ?$

В 1^{ом} случае
 камень влетел со скоростью

а затем она уменьшилась
 под действием силы



то можно найти угловую
 т.к. точка в той момент



3 сл.

1) на 1: $N = mg \cos \alpha$

2) на 2: $ma = F_{тр} + mg \sin \alpha$

$a = \frac{v_0}{t_{остан}} = 6 \text{ м/с}^2 = \cos \alpha$ - ум. скорр. (его

можно) найти $v(t)$ до остановки,

$a = g(\sin \alpha + \mu \cos \alpha) = 6 \text{ м/с}^2$

Во втором случае $a_0 = \frac{v_0}{t_{ост}} = 2 \text{ м/с}^2$
 екорр. до остановки




На одной странице можно оформлять только одну задачу. Отметьте крестиком номер задачи, решение которой представлено на странице. Также укажите номер страницы и суммарное количество страниц в решении каждой задачи отдельно.

1 2 3 4 5 6 7

СТРАНИЦА
2 из 4

Если отмечено более одной задачи или не отмечено ни одной задачи, страница считается черновиком и не проверяется. Страницы по каждой из задач нумеруются отдельно. Порча QR-кода недопустима!



1) 3.8. на γ : $N = mg \cos \alpha$

2) 3.8. по x: $mg_0 = mg \sin \alpha - F_{tr}$

$F_{tr} = \mu N$ - сила трения

F_{tr} направлена вверх. Т.к. масса направлена сверху, значит скорость,

$$g_0 = g(\sin \alpha - \mu \cos \alpha) = 2 \text{ м/с}^2$$

$$a = g(\sin \alpha + \mu \cos \alpha) = 6 \text{ м/с}^2$$

$$\text{по } a + a_0 = 2 \sin \alpha \cdot g \quad \sin \alpha = \frac{a + a_0}{2g} = 0.4$$

$$\cos \alpha = \sqrt{1 - \sin^2 \alpha} = \frac{1}{10} \sqrt{100 - 16} = \frac{1}{10} \sqrt{84} = \frac{\sqrt{21}}{5}$$

$$\frac{dN}{da} M = \frac{a}{g} - \sin \alpha \quad \frac{92}{\cos \alpha} = \frac{92}{\cos \alpha} = \frac{\sqrt{21}}{2}$$

Вопросы о ответ:

2)



Затем 3(9):
 $mg_0 = mg \sin \alpha - F_{tr}$
 $F_{tr} = \mu mg \cos \alpha$ - аналогично пред. случаю

$F_{tr} = \mu mg \cos \alpha$ - аналогично пред. случаю

$$v = \sqrt{2gh - \mu g \cos \alpha L} = \sqrt{2gh - \mu gh} =$$

$$= \sqrt{2 \cdot 15 - \frac{2 \cdot 15}{9.4}} = \sqrt{30 - \frac{30}{9.4}} = \sqrt{\frac{30}{9.4}} = 1.5 \text{ м/с}$$

m - масса бочки с водой (всего 200 г) = $\sqrt{\frac{15}{2}}$ м/с

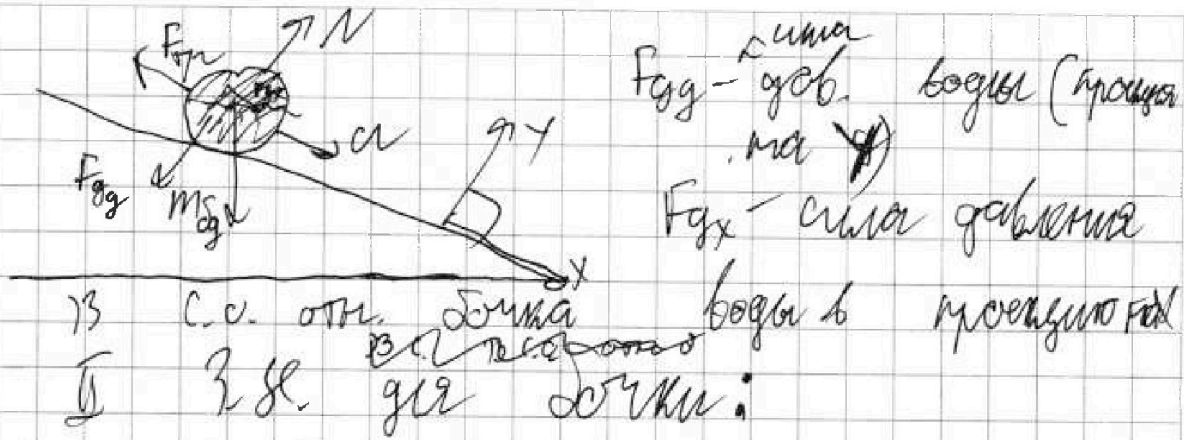


На одной странице можно оформлять только одну задачу. Отметьте крестиком номер задачи, решение которой представлено на странице. Также укажите номер страницы и суммарное количество страниц в решении каждой задачи отдельно.

1 2 3 4 5 6 7

СТРАНИЦА
3 из 4

Если отмечено более одной задачи или не отмечено ни одной задачи, страница считается черновиком и не проверяется. Страницы по каждой из задач нумеруются отдельно. Порча QR-кода недопустима!



13 с.с. отн. сумма возд. в направлении F_{gx}
 II 3 с.с. грав. сумм:

нат: $N = F_{gy} + m g \cos \alpha$

нат: $ma = m g \sin \alpha + F_{gx} - F_{Fp}$

$F_{gy} = k m m \cdot a_{app y} = k m a N \cdot m g \cos \alpha$

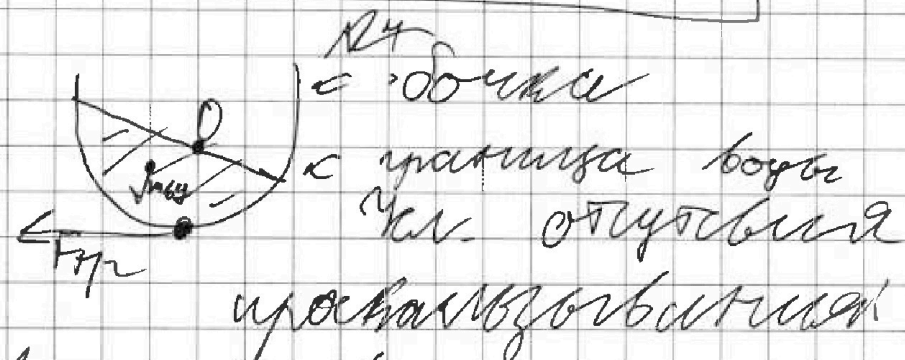
a_{app} - ускорение относительно поверхности

$F_{gx} = m m \cdot a_{app x} = n \cdot m (a + g \sin \alpha)$

$ma = (k-1) m g \sin \alpha - h m a g - (1+n) m g \cos \alpha$

$a = g (\sin \alpha - \mu \cos \alpha)$

4)



$M_{возд} = M_{Fp}$ (при $m \cdot a_{тн} = 0$)

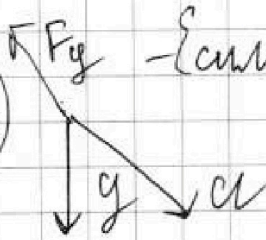
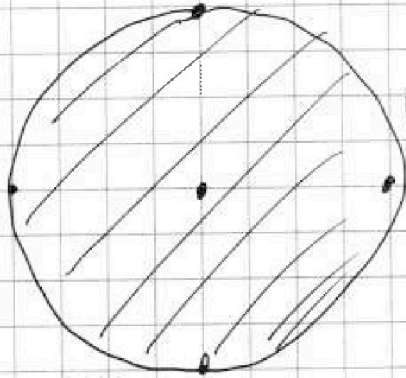


На одной странице можно оформлять только одну задачу. Отметьте крестиком номер задачи, решение которой представлено на странице. Также укажите номер страницы и суммарное количество страниц в решении каждой задачи отдельно.

- 1 2 3 4 5 6 7

СТРАНИЦА
4 из 4

Если отмечено более одной задачи или не отмечено ни одной задачи, страница считается черновиком и не проверяется. Страницы по каждой из задач нумеруются отдельно. Порча QR-кода недопустима!



- сила, направленная
вниз, гравитация
в центре
по направлению
x

$$F_g = m_b (\vec{a} \times \vec{y}) = m_b m (\vec{a} \times \vec{y})$$

$F_g = -m_b a \vec{y}$ с такой силой
действует на шар
во всех
сторонах
равномерно



На одной странице можно оформлять только одну задачу. Отметьте крестиком номер задачи, решение которой представлено на странице. Также укажите номер страницы и суммарное количество страниц в решении каждой задачи отдельно.

1 2 3 4 5 6 7

СТРАНИЦА
2 ИЗ 2

Если отмечено более одной задачи или не отмечено ни одной задачи, страница считается черновиком и не проверяется. Страницы по каждой из задач нумеруются отдельно. Порча QR-кода недопустима!

$$8314 \cdot 29 = 8314(30-1) = 249420 - 8314 = 241106$$

$$\begin{array}{r} 8314 \\ \times 30 \\ \hline 249420 \end{array}$$

$$\begin{array}{r} 241106 \\ - 18 \\ \hline 61 \\ - 54 \\ \hline 41 \end{array}$$

$$C_p = \frac{241106 \text{ Дж}}{9000 \text{ моль}} = 26.78 \text{ Дж/моль}$$

а

$$C_p = \frac{2720 \text{ Дж}}{40 \text{ К}} = 58 \frac{\text{Дж}}{\text{К}}$$

— не подходит

$$N_1 \cdot \varepsilon = N_1 + N_2 = \frac{6(\Delta T_1 - \Delta T_2)}{R \Delta T_1 \Delta T_2} N_4$$

$$3N_1 + 5N_2 = \frac{26N_4}{R \Delta T_1}$$

$$\frac{3N_1 + 5N_2}{N_1 + N_2} = \frac{2\Delta T_2}{\Delta T_1 - \Delta T_2} = \frac{3\frac{N_1}{N_2} + 5}{\frac{N_1}{N_2} + 1}$$

$$\frac{N_1}{N_2} \left(3 - \frac{2\Delta T_2}{\Delta T_1 - \Delta T_2} \right) = \frac{2\Delta T_2}{\Delta T_1 - \Delta T_2} - 5$$

$$\frac{N_1}{N_2} = \frac{5 - \frac{2\Delta T_2}{\Delta T_1 - \Delta T_2}}{\frac{2\Delta T_2}{\Delta T_1 - \Delta T_2} - 3} = \frac{5 - \frac{80}{18}}{\frac{80}{18} - 3}$$

$$= \frac{\frac{10}{18}}{\frac{16}{18}} = \frac{10}{16} = \frac{5}{8}$$

Ответ: $A_{\text{от}} = 2720 \text{ Дж}$ ($C_p = 58 \frac{\text{Дж}}{\text{К}}$);
 $C_{\text{мол}} = \frac{29}{9} R \approx \frac{241106 \text{ Дж}}{9000 \text{ моль}}$ $\frac{N_1}{N_2} = \frac{5}{8}$

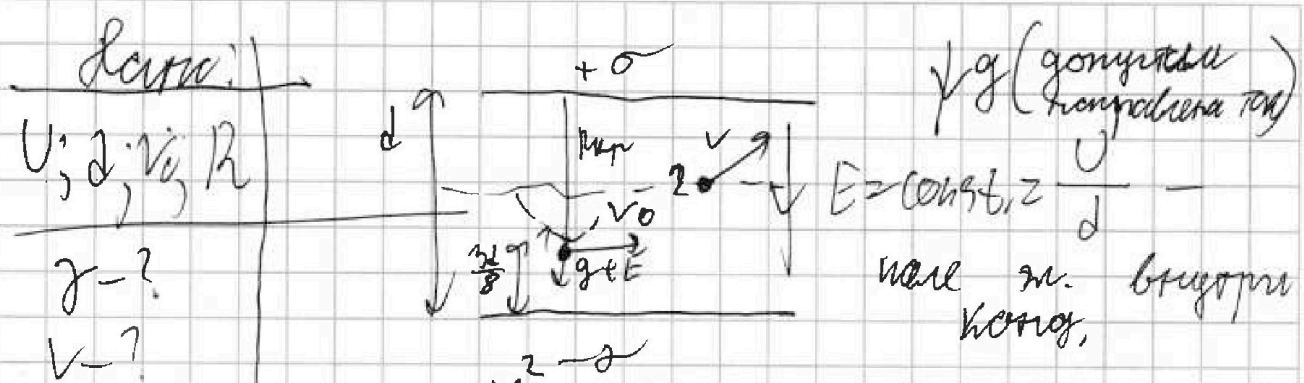


На одной странице можно оформлять только одну задачу. Отметьте крестиком номер задачи, решение которой представлено на странице. Также укажите номер страницы и суммарное количество страниц в решении каждой задачи отдельно.

1 2 3 4 5 6 7

СТРАНИЦА
1 из 2

Если отмечено более одной задачи или не отмечено ни одной задачи, страница считается черновиком и не проверяется. Страницы по каждой из задач нумеруются отдельно. Порча QR-кода недопустима!



$-R = -R_{кр} = \frac{mv_0^2}{4E} - \gamma d$ т.к. высота пересечёт

середину т.е. $m - \gamma d$ компонента v

$R_{кр} = \frac{v_0^2}{4E\gamma + g}$

$$\gamma = \frac{v_0^2 - gR_{кр}}{-E} = - \frac{(v_0^2 - gR_{кр})d}{U R_{кр}}$$

Получим $3(7) \text{ гл. сош. т.е.}$

$$\frac{mv_0^2}{2} = \frac{mv^2}{2} + (mg + qE) \frac{d}{8}$$

$$\frac{v_0^2}{2} = \frac{v^2}{2} + (2\gamma + 2g) \frac{d}{8}$$

$$v = \sqrt{v_0^2 + 2\gamma d - 2(v_0^2 + gR_{кр})}$$

$$v = \sqrt{v_0^2 - \frac{d\gamma}{4} + \frac{d}{4} \left(\frac{v_0^2 - g}{R_{кр}} - g \right)}$$

Ответ: $v = \sqrt{v_0^2 - \frac{v_0^2 d}{4R_{кр}} + \frac{gd}{2}} = \sqrt{v_0^2 \left(1 - \frac{d}{4R_{кр}} \right) + \frac{gd}{2}}$

Ответ: $\gamma = - \frac{(v_0^2 - gR_{кр})d}{U R_{кр}}$; $v = \sqrt{v_0^2 \left(1 - \frac{d}{4R_{кр}} \right) + \frac{gd}{2}}$



На одной странице можно оформить только одну задачу. Отметьте крестиком номер задачи, решение которой представлено на странице. Также укажите номер страницы и суммарное количество страниц в решении каждой задачи отдельно.

СТРАНИЦА
2 из 2

Если отмечено более одной задачи или не отмечено ни одной задачи, страница считается черновиком и не проверяется. Страницы по каждой из задач нумеруются отдельно. Порча QR-кода недопустима!

Order:
$$\gamma = - \left(\frac{v_0^2 - g \frac{d}{2R}}{v_0^2} \right) d$$

$$v = \sqrt{v_0^2 + \frac{gd}{2R} + \frac{v_0^2}{4R^2}}$$

Сам $g \ll E, v_0$
$$\gamma = - \frac{v_0^2}{v_0^2}$$

$$v = v_0 \sqrt{1 + \frac{d}{4R^2}}$$



На одной странице можно оформлять только одну задачу. Отметьте крестиком номер задачи, решение которой представлено на странице. Также укажите номер страницы и суммарное количество страниц в решении каждой задачи отдельно.

1 2 3 4 5 6 7

СТРАНИЦА
1 из 2

Если отмечено более одной задачи или не отмечено ни одной задачи, страница считается черновиком и не проверяется. Страницы по каждой из задач нумеруются отдельно. Порча QR-кода недопустима!

229 88

ВАН МУ

2320 | 29
292 | 80

Решение

$$\Delta T_1 = 58 \text{ K}$$

$$Q = 2320 \text{ Дж/с}$$

$$\Delta T_2 = 40 \text{ K}$$

A-?
Cp-?
 $\frac{N_1}{N_2}$ -?

I НТ газа

$$-Q = -R \Delta T_1 \left(\frac{3N_1}{2N_0} + \frac{5N_2}{2N_0} \right) + A_{\text{газ}}$$

$$Q = \frac{R \Delta T_1}{2N_0} (3N_1 + 5N_2) = 2320$$

I НТ газа

$$-Q = -\frac{R \Delta T_2}{2N_0} (3N_1 + 5N_2) + A_{\text{газ}}$$

$$A_{\text{ВН}} = -A_{\text{газ}} = Q - \frac{R \Delta T_2}{2N_0} (3N_1 + 5N_2) =$$

$$= Q - \frac{Q}{\Delta T_1} \cdot \Delta T_2 = Q \left(1 - \frac{\Delta T_2}{\Delta T_1} \right) =$$

$$= 2320 \left(1 - \frac{40}{58} \right) \text{ Дж/с} = \frac{2320 \cdot 9}{29} \text{ Дж/с} =$$

$$= 80 \text{ Дж/с} = 1420 \text{ Дж/с}$$

$A_{\text{ВН}} = - \int_{V_1}^{V_2} p dV = n \frac{R}{2} \Delta T_2$, где $\nu = \frac{N_1 + N_2}{N_0}$ - суммарное число молей газа

$$\nu = \frac{A_{\text{ВН}}}{R \Delta T_2} = \frac{Q (\Delta T_1 - \Delta T_2)}{R \Delta T_1 \Delta T_2}$$

$$C_p = \frac{Q}{\Delta T_2 \cdot \nu} - \text{но ср. величина (медиана)}$$

(мб в газном процессе она постоянна)

$$C_p = \frac{R \Delta T_1}{\Delta T_1 - \Delta T_2} = \frac{58}{18} R = \frac{29}{9} R$$