

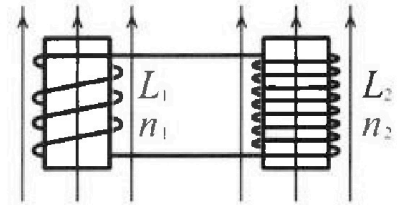
Олимпиада «Физтех» по физике,
февраль 2024

Вариант 11-02

В ответах всех задач допустимы обыкновенные дроби
и радикалы.

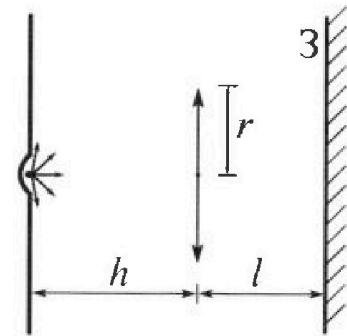


4. Две катушки с индуктивностями $L_1 = L$ и $L_2 = 9L$ и числами витков $n_1 = n$ и $n_2 = 3n$ помещены во внешние однородные магнитные поля с постоянными во времени индукциями (см. рис.). Площадь витка каждой катушки S . Индукции внешних полей направлены перпендикулярно плоскостям витков катушек. Катушки находятся достаточно далеко друг от друга. Омическое сопротивление катушек и соединительных проводов пренебрежимо мало. Вначале тока в катушках нет.



- 1) С какой скоростью (по модулю) начнет изменяться ток в катушках, если в катушке с индуктивностью L_1 индукция внешнего поля начнет уменьшаться со скоростью $\Delta B / \Delta t = -\alpha (\alpha > 0)$, а во второй катушке внешнее поле останется неизменным?
- 2) За некоторое время индукция внешнего поля в катушке с индуктивностью L_1 уменьшилась от B_0 до $2B_0/3$, не изменив направления, а в катушке с индуктивностью L_2 индукция внешнего поля уменьшилась от $B_0/3$ до $B_0/12$, не изменив направления. Внешние поля в катушках изменялись неравномерно. Найти ток (по модулю) в катушках к концу изменения внешних полей. Ответ дать с числовым коэффициентом в виде обыкновенной дроби.

5. В стене сделана небольшая выемка, внутри которой находится маленькая лампочка так, что прямой свет от лампочки на стену не попадает (см. рис.). Справа от лампочки на некотором расстоянии h расположена тонкая собирающая линза с фокусным расстоянием $F = 2h$. Главная оптическая ось линзы горизонтальна и проходит через лампочку. Радиус линзы $r = 2$ см. Справа от линзы на расстоянии $l = h$ расположено параллельно стене плоское зеркало 3. Считать, что свет, идущий мимо линзы, проходит плоскость линзы беспрепятственно. Размеры стены и зеркала намного больше размеров линзы.



- 1) Найдите площадь неосвещенной части зеркала.
- 2) Найдите площадь неосвещенной части стены.

Ответы дайте в $[см^2]$ в виде $\gamma\pi$, где γ - целое число или простая обыкновенная дробь.



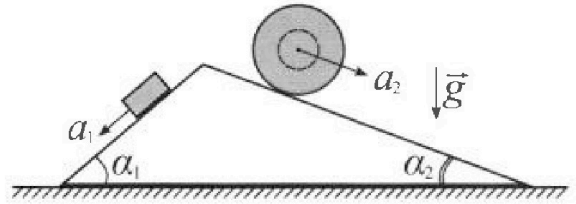
Олимпиада «Физтех» по физике, февраль 2024

Вариант 11-02



В ответах всех задач допустимы обыкновенные дроби и радикалы.

1. С клина, находящегося на шероховатом горизонтальном столе, соскальзывает брусок массой m с ускорением $a_1 = 7g/17$ и скатывается без проскальзывания полый шар массой $5m$ с ускорением $a_2 = 8g/25$ (см. рис.). Клин остается в покое. Углы наклона поверхностей клина к горизонту α_1 ($\sin \alpha_1 = 3/5$, $\cos \alpha_1 = 4/5$) и α_2 ($\sin \alpha_2 = 8/17$, $\cos \alpha_2 = 15/17$).



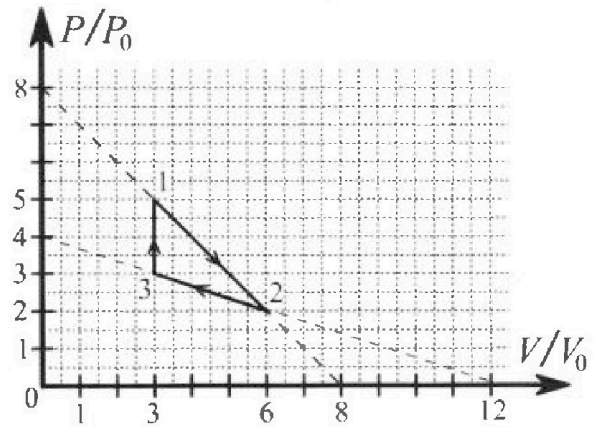
Направления всех движений лежат в одной вертикальной плоскости.

- 1) Найти силу трения F_1 между бруском и клином.
- 2) Найти силу трения F_2 между шаром и клином.
- 3) Найти силу трения F_3 между столом и клином.

Каждый ответ выразить через m и g с числовым коэффициентом в виде обыкновенной дроби.

2. С идеальным одноатомным газом совершают циклический процесс 1-2-3-1. На рисунке представлена зависимость P/P_0 от V/V_0 . Здесь V и P - объем и давление газа, V_0 и P_0 - некоторые неизвестные объем и давление.

- 1) Найдите отношение модуля приращения внутренней энергии газа в процессе 3-1 к работе газа за цикл.
- 2) Найдите отношение максимальной температуры газа в процессе 1-2 к температуре газа в состоянии 2.
- 3) Найдите КПД цикла.

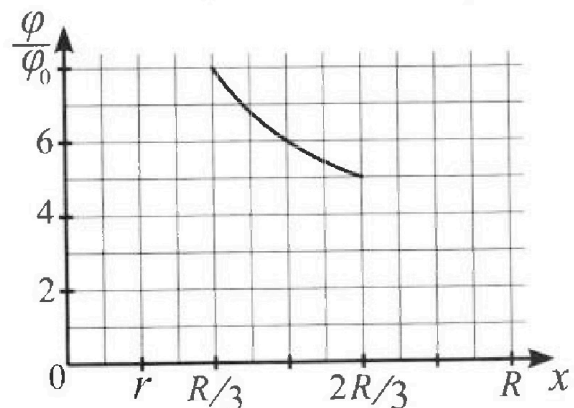
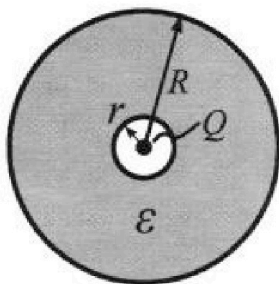


Ответы выразите числом в виде обыкновенной дроби или целого числа.

3. В центре полого шара с диэлектрической проницаемостью ϵ и радиусами поверхностей r и R находится шарик с зарядом Q (см. рис.). Известна графическая зависимость потенциала φ электрического поля внутри диэлектрика от расстояния x от центра полого шара в интервале изменений x от $R/3$ до $2R/3$ (см. рис.).

Здесь φ_0 — потенциал в некоторой точке вне шара. Потенциал в бесконечно удаленной точке принят равным нулю.

- 1) Считая известными r , R , Q , ϵ , найти аналитическое выражение (в виде формулы) для потенциала внутри диэлектрика при $x = 3R/4$.
- 2) Используя график, найти численное значение ϵ .





На одной странице можно оформлять только одну задачу. Отметьте крестиком номер задачи, решение которой представлено на странице. Также укажите номер страницы и суммарное количество страниц в решении каждой задачи отдельно.

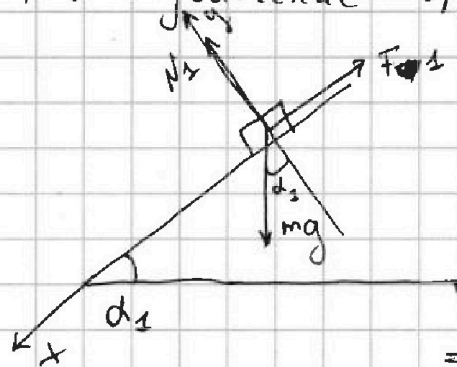
1 2 3 4 5 6 7

СТРАНИЦА
1 ИЗ 2

Если отмечено более одной задачи или не отмечено ни одной задачи, страница считается черновиком и не проверяется. Страницы по каждой из задач нумеруются отдельно. Порча QR-кода недопустима!

Задача 1.

1) Р-м движение бруска:



$$\text{ИЗМ: } y: N_1 - mg \cos \alpha_1 = 0$$

$$N_1 = mg \cos \alpha_1$$

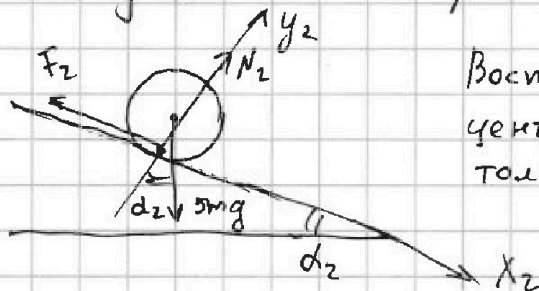
$$x: mg \sin \alpha_1 - F_{tr1} = ma_1$$

$$F_{tr1} = mg \sin \alpha_1 - ma_1$$

$$F_{tr1} = mg \cdot \frac{3}{5} - mg \cdot \frac{7}{17} =$$

$$= mg \left(\frac{3}{5} - \frac{7}{17} \right) = mg \left(\frac{51}{85} - \frac{35}{85} \right) = mg \cdot \frac{16}{85}$$

2) Р-м движение шарика:



Воспользуемся Тл. о движении центра масс и рассмотрим только центр масс шара:

$$\text{ИЗМ: } y_2: N_2 - 5mg \cos \alpha_2 = 0$$

$$N_2 = 5mg \cos \alpha_2$$

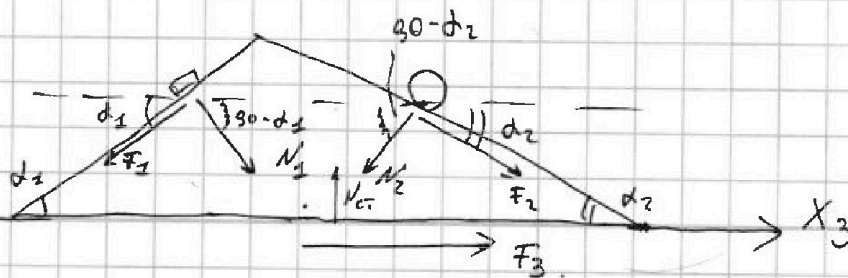
$$x_2: 5mg \sin \alpha_2 - F_2 = ma_1$$

$$F_2 = 5mg \sin \alpha_2 - ma_2$$

$$F_2 = 5mg \cdot \frac{8}{17} - m \cdot \frac{8g}{25} = \frac{40}{17} mg - \frac{8}{25} mg = mg \left(\frac{40}{17} - \frac{8}{25} \right) = mg \cdot$$

$$\cdot \left(\frac{1000}{425} - \frac{136}{425} \right) = \frac{864}{425} mg$$

3) Р-м покоящийся клин:





1 2 3 4 5 6 7

СТРАНИЦА
2 ИЗ 2

Если отмечено более одной задачи или не отмечено ни одной задачи, страница считается черновиком и не проверяется. Страницы по каждой из задач нумеруются отдельно. Порча QR-кода недопустима!

Направим вправо ось x_3 и предположим, что сила F_3 действует туда же:

ИЗН: $x_3: F_2 \cos \alpha_2 - N_2 \cos(90 - \alpha_2) + N_3 \cos(90 - \alpha_3) -$
для стола
 $- F_1 \cos \alpha_1 + F_3 = 0.$

$$F_2 \cos \alpha_2 - N_2 \sin \alpha_2 + N_3 \sin \alpha_3 - F_1 \cos \alpha_1 + F_3 = 0.$$

$$F_3 = F_1 \cos \alpha_1 - N_3 \sin \alpha_3 + N_2 \sin \alpha_2 - F_2 \cos \alpha_2$$

$$F_3 = \frac{16}{85} mg \cdot \frac{4}{5} - mg \cdot \frac{4}{5} \cdot \frac{3}{5} + 5mg \cdot \frac{15}{17} \cdot \frac{8}{17} - \frac{864}{425} mg \cdot \frac{15}{17}$$

$$F_3 = mg \left(\frac{4^3}{5^2 \cdot 17} - \frac{4 \cdot 3}{5^2} + \frac{5^2 \cdot 3 \cdot 8}{17^2} - \frac{864 \cdot 5 \cdot 3}{17 \cdot 5^2 \cdot 17} \right)$$

$$F_3 = mg \left(\frac{1088}{5^2 \cdot 17^2} - \frac{3368}{5^2 \cdot 17^2} + \frac{15000}{17^2 \cdot 5^2} - \frac{12860}{5^2 \cdot 17^2} \right) = \frac{-240}{5^2 \cdot 17^2} = -\frac{240}{7225}$$

$$F_3 = -\frac{48}{1445}$$

$F_3 < 0$, \Rightarrow мы не угадали с направлением, и в действительности сила F_3 направлена влево

Ответ: 1) $F_1 = \frac{16}{85} mg$

2) $\frac{864}{425} mg = F_2$

3) $F_3 = \frac{48}{1445} mg$



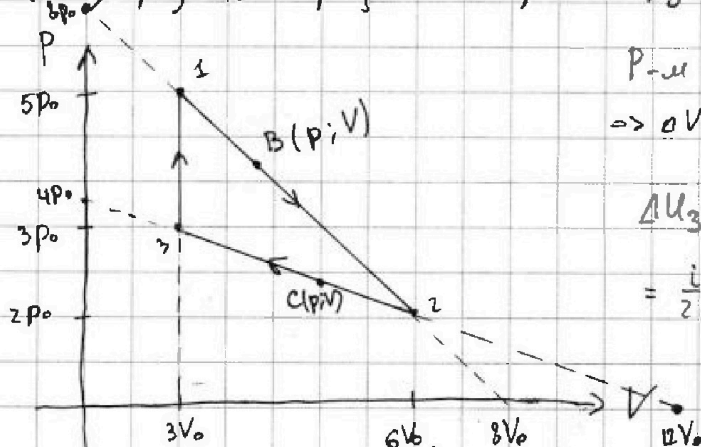
1 2 3 4 5 6 7

СТРАНИЦА
1 ИЗ 4

Если отмечено более одной задачи или не отмечено ни одной задачи, страница считается черновиком и не проверяется. Страницы по каждой из задач нумеруются отдельно. Порча QR-кода недопустима!

Задача № 2.

1) Изобразим процесс в pV -координатах.



p -и процесс 3-1. $V = \text{const}$,
 $\Rightarrow \Delta V = 0 \Rightarrow \delta A_{31} = 0 \Rightarrow A_{31} = 0$.

$$\begin{aligned} \Delta U_{31} &= \frac{i}{2} \nu R (T_3 - T_1) = \frac{i}{2} (p_1 V_1 - p_3 V_3) = \\ &= \frac{i}{2} (5p_0 \cdot 3V_0 - 3p_0 \cdot 3V_0) = \frac{i}{2} (15p_0 V_0 - 9p_0 V_0) \\ &= \frac{i}{2} \cdot 6p_0 V_0 = i \cdot 3p_0 V_0 \end{aligned}$$

$$i = 3, \Rightarrow \Delta U_{31} = 9p_0 V_0$$

$$2) A_{12} = +S_{12} = \frac{1}{2} (5p_0 + 2p_0) (6V_0 - 3V_0) = \frac{21}{2} p_0 V_0. \quad (\text{где } S - \text{площадь под графиком})$$

$$3) A_{23} = -S_{23} = -\frac{1}{2} (3p_0 + 2p_0) (6V_0 - 3V_0) = -\frac{15}{2} p_0 V_0$$

$$4) A_{\Sigma} = A_{12} + A_{23} = \frac{21}{2} p_0 V_0 - \frac{15}{2} p_0 V_0 = 3p_0 V_0$$

$$\text{Вопрос 1: } \frac{\Delta U_{31}}{A_{\Sigma}} = \frac{9p_0 V_0}{3p_0 V_0} = 3$$

5) Зададим уравнение процесса 1-2: $p(V) = kV + b$

Из гр-ка видно, что $b = 8p_0, \Rightarrow 0 = k \cdot 8V_0 + 8p_0$
 $k = -\frac{p_0}{V_0}$

Для процесса 1-2: $p(V) = -\frac{p_0}{V_0} V + 8p_0 \quad | \cdot V$

$$p(V) \cdot V = -\frac{p_0}{V_0} V^2 + 8p_0 V$$

$$\nu R T(V) = -\frac{p_0}{V_0} V^2 + 8p_0 V$$

$$T(V) = \frac{1}{\nu R} \left(-\frac{p_0}{V_0} V^2 + 8p_0 V \right)$$

$T(V)$ - квадратичная функция.



На одной странице можно оформлять только одну задачу. Отметьте крестиком номер задачи, решение которой представлено на странице. Также укажите номер страницы и суммарное количество страниц в решении каждой задачи отдельно.

1 2 3 4 5 6 7

СТРАНИЦА
2 ИЗ 4

Если отмечено более одной задачи или не отмечено ни одной задачи, страница считается черновиком и не проверяется. Страницы по каждой из задач нумеруются отдельно. Порча QR-кода недопустима!

Найдём максимум $T(V)$.

$$T'(V) = \frac{1}{\sqrt{R}} \left(-2 \frac{p_0}{V_0} V + 8p_0 \right) \quad T = T_{\max} \text{ при } T' = 0 \Rightarrow$$

$$-2 \frac{p_0}{V_0} V + 8p_0 = 0$$

$$V = 4V_0 \Rightarrow T(4V_0) = T_{\max}$$

$$T_{\max} = T(4V_0) = \frac{1}{\sqrt{R}} \left(-\frac{p_0}{V_0} \cdot 16V_0^2 + 8p_0 \cdot 4V_0 \right) = \frac{1}{\sqrt{R}} \cdot 16p_0V_0$$

$$T_2 = \frac{1}{\sqrt{R}} \cdot 2p_0 \cdot 6V_0 = \frac{1}{\sqrt{R}} \cdot 12p_0V_0$$

$$\text{Итого } \frac{T_{\max}}{T_2} = \frac{\frac{1}{\sqrt{R}} \cdot 16p_0V_0}{\frac{1}{\sqrt{R}} \cdot 12p_0V_0} = \frac{4}{3} \quad (\text{Вопрос 2: } \frac{4}{3})$$

Чтобы найти КПД цикла, надо найти все в действительности совершённые теплоты. В процессах 1-2 и 2-3 теплота как совершается, так и отводится. Чтобы найти только совершённые теплоты, для обоих процессов надо построить зависимость $Q(V)$.

Р-и процесс 1-2. Пусть из точки 1 мы перемели в точку B ($p; V$).

$$p(V) = -\frac{p_0}{V_0} V + 8p_0 \quad Q = \frac{3}{2}(pV - 15p_0V_0) + \frac{1}{2}(5p_0 + p)(V - 3V_0)$$

$$Q = \Delta U + A_2 \quad Q = \frac{1}{2}(3pV - 45p_0V_0 + 5p_0V - 15p_0V_0 + pV - 3pV_0)$$

$$Q = \frac{3}{2}(\sqrt{RT} - \sqrt{RT_1}) + S_{1p} \quad Q = \frac{1}{2}(4pV - 60p_0V_0 + 5p_0V - 3pV_0)$$

На одной странице можно оформлять только одну задачу. Отметьте крестиком номер задачи, решение которой представлено на странице. Также укажите номер страницы и суммарное количество страниц в решении каждой задачи отдельно.



1 2 3 4 5 6 7

СТРАНИЦА
3 ИЗ 4

Если отмечено более одной задачи или не отмечено ни одной задачи, страница считается черновиком и не проверяется. Страницы по каждой из задач нумеруются отдельно. Порча QR-кода недопустима!

Подставим вместо p — $p(V)$:

$$Q = \frac{1}{2} \left(4V \left(-\frac{p_0}{V_0} V + 8p_0 \right) - 60p_0 V_0 + 5p_0 V - 3V_0 \left(-\frac{p_0}{V_0} V + 8p_0 \right) \right)$$

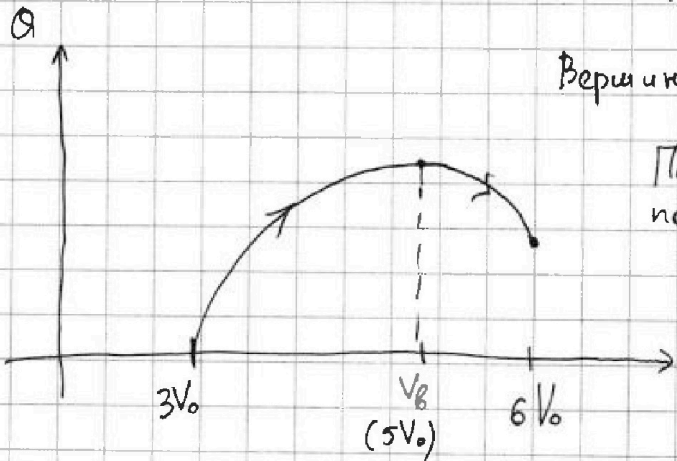
$$Q = \frac{1}{2} \left(-4 \frac{p_0}{V_0} V^2 + 32p_0 V - 60p_0 V_0 + 5p_0 V + 3p_0 V - 24p_0 V_0 \right)$$

$$Q = \frac{1}{2} \left(-4 \frac{p_0}{V_0} V^2 + 40p_0 V - 84p_0 V_0 \right)$$

$$Q = \frac{p_0}{V_0} \left(-2V^2 + 20V_0 \cdot V - 42V_0^2 \right) \quad \text{— зависимость } Q(V) \text{ квадра-}$$

тична, ветви направлены вниз.

Вершина в $V_8 = \frac{-20V_0}{2 \cdot (-2)} = 5V_0$.



Получается, искомая коэф-ва подвешенной теплоты $Q_{12} = Q(5V_0)$.

$$= \frac{p_0}{V_0} \left(-2 \cdot 25V_0^2 + 20V_0 \cdot 5V_0 - 42V_0^2 \right) =$$

$$= \frac{p_0}{V_0} \left(100V_0^2 - 92V_0^2 \right) = 8p_0 V_0.$$

Ту же операцию проведем с процессом 2-3:

Для процесса 2-3: $p(V) = kV + b$, $b = 4p_0$ (из графика).

$$Q = k \cdot 12V_0 + 4p_0 \Rightarrow k = -\frac{p_0}{3V_0}$$

$$p(V) = -\frac{p_0}{3V_0} V + 4p_0$$

Возьмем точку C(p; V)

$$Q = \Delta U + A_2$$

$$Q = \frac{3}{2} (pV - 12p_0 V_0) - \frac{1}{2} (2p_0 + p)(6V_0 - V)$$

$$Q = \frac{3}{2} (\sqrt{RT} - \sqrt{RT_2}) - S_2 p \quad Q = \frac{1}{2} (3pV - 36p_0 V_0 - 12p_0 V_0 + 2p_0 V - 6p_0 V_0 + 2p_0 V)$$

$$Q = \frac{1}{2} (3pV - 48p_0 V_0 + 4p_0 V - 6p_0 V_0)$$



На одной странице можно оформлять только одну задачу. Отметьте крестиком номер задачи, решение которой представлено на странице. Также укажите номер страницы и суммарное количество страниц в решении каждой задачи отдельно.

1 2 3 4 5 6 7

СТРАНИЦА
4 ИЗ 4

Если отмечено более одной задачи или не отмечено ни одной задачи, страница считается черновиком и не проверяется. Страницы по каждой из задач нумеруются отдельно. Порча QR-кода недопустима!

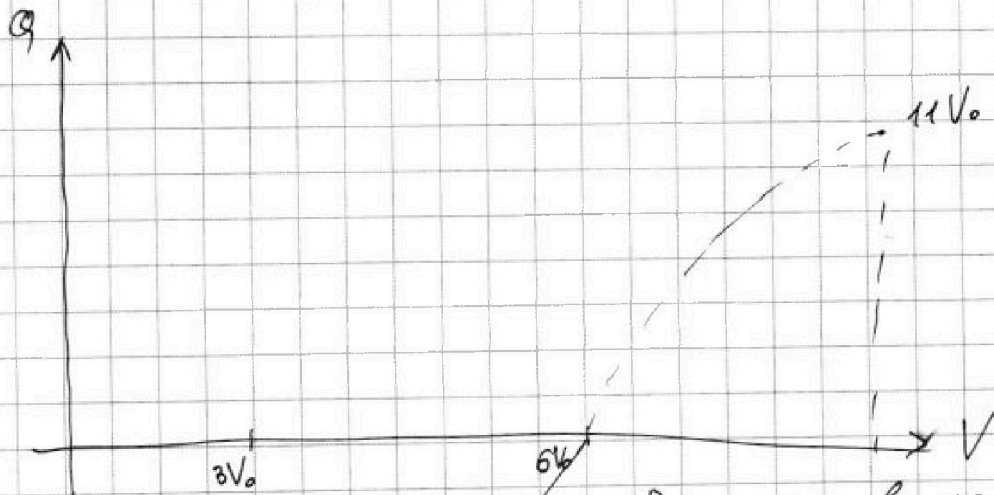
$$Q(V) = \frac{1}{2} \left(3V \left(-\frac{p_0}{3V_0} V + 4p_0 \right) - 48p_0 V_0 + 4p_0 V - 6V_0 \left(-\frac{p_0}{3V_0} V + 4p_0 \right) \right)$$

$$Q(V) = \frac{1}{2} \left(-\frac{p_0}{V_0} V^2 + 12p_0 V - 48p_0 V_0 + 4p_0 V + 6p_0 V - 24p_0 V_0 \right)$$

$$Q(V) = \frac{1}{2} \left(-\frac{p_0}{V_0} V^2 + 22p_0 V - 72p_0 V_0 \right)$$

~~Видно~~ $Q(V) = \frac{p_0}{V_0 \cdot 2} \left(-V^2 + 22V_0 \cdot V - 72V_0^2 \right)$ *увядр. 3-й вис. ветвями вниз.*

$$V_8 = \frac{-22V_0}{2 \cdot (-1)} = 11V_0.$$



Видно, что в этом процессе теплота только отводится.

$$\Delta U_{31} = Q_{31} \text{ — теплота подведена.}$$

$$Q_{\Sigma} = Q_{31} + Q_{12} = 9p_0 V_0 + 8p_0 V_0 = 17p_0 V_0.$$

$$A_{\Sigma} = 3p_0 V_0$$

$$KTPD = \frac{A_{\Sigma}}{Q_{\Sigma}} = \frac{3p_0 V_0}{17p_0 V_0} = \frac{3}{17}.$$

Ответ: 1) $\frac{\Delta U_{31}}{A_{\Sigma}} = 3$

2) $\frac{T_{\max 12}}{T_2} = \frac{4}{3}$

3) $KTPD = \frac{3}{17}$



На одной странице можно оформлять только одну задачу. Отметьте крестиком номер задачи, решение которой представлено на странице. Также укажите номер страницы и суммарное количество страниц в решении каждой задачи отдельно.

1 2 3 4 5 6 7

СТРАНИЦА
1 ИЗ 1

Если отмечено более одной задачи или не отмечено ни одной задачи, страница считается черновиком и не проверяется. Страницы по каждой из задач нумеруются отдельно. Порча QR-кода недопустима!

Задача 4.

Магнитный поток через левую катушку $\Phi_0 = BS \cdot \cos \theta^\circ$
 $= BS$.

ЭДС индукции, возникающее в одном витке левой

катушки: $\mathcal{E}_{i0} = -\dot{\Phi}_0 = -(BS)' = -S \cdot B' = -S \frac{\Delta B}{\Delta t} = S \alpha$

В катушке n витков, $\Rightarrow \mathcal{E}_{i\pi} = n \mathcal{E}_i = \alpha n S$

Из-за возникшей индукции, разность потенциалов

на катушке $\Delta \varphi = \alpha n S$ ($\mathcal{E}_{i\pi}$)

$$\Delta \varphi = L I', \Rightarrow I' = \frac{\Delta \varphi}{L} = \frac{\alpha n S}{L}$$

$$\text{Ответ: } I' = \frac{\alpha n S}{L}$$



На одной странице можно оформлять только одну задачу. Отметьте крестиком номер задачи, решение которой представлено на странице. Также укажите номер страницы и суммарное количество страниц в решении каждой задачи отдельно.

1 2 3 4 5 6 7

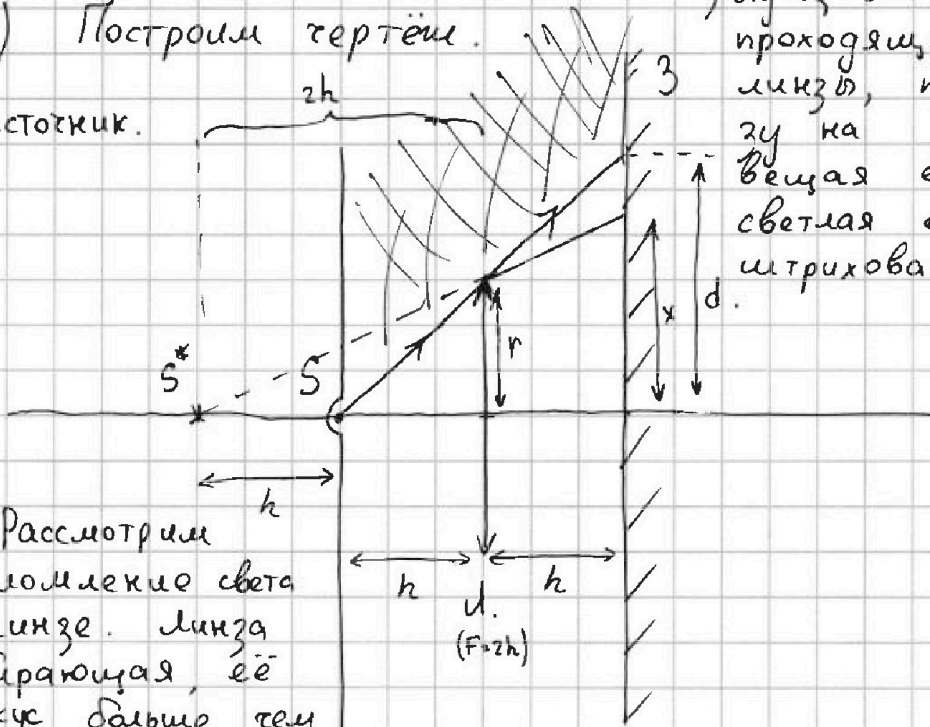
СТРАНИЦА
1 ИЗ 4

Если отмечено более одной задачи или не отмечено ни одной задачи, страница считается черновиком и не проверяется. Страницы по каждой из задач нумеруются отдельно. Порча QR-кода недопустима!

Задача № 5. Вопрос 1.

1) Построим чертёж.

S-источник.



2) Лучи, от источника S, проходящие мимо линзы, попадают сразу на зеркало, освещая его. Эта светлая область заштрихована.

3) Рассмотрим преломление света в линзе. Линза собирающая, её фокус больше, чем расстояние до источника S ($2h > h$).

⇒ Лучи, идущие через линзу от S, дадут мнимое изображение слева от линзы (S^*).

$$\frac{1}{d} - \frac{1}{f} = \frac{1}{F}, \Rightarrow F = \frac{dF}{-(d-F)}, \text{ где } d = h, F = 2h.$$

$$F = \frac{h \cdot 2h}{2h - h} = \frac{2h^2}{h} = 2h.$$

4) Построим луч, падающий от S на край линзы и преломляющийся в ней. Он преломится так, чтобы его продолжение ~~продолжение~~ пошло в S^* .



На одной странице можно оформлять только одну задачу. Отметьте крестиком номер задачи, решение которой представлено на странице. Также укажите номер страницы и суммарное количество страниц в решении каждой задачи отдельно.

1 2 3 4 5 6 7

СТРАНИЦА
2 ИЗ 4

Если отмечено более одной задачи или не отмечено ни одной задачи, страница считается черновиком и не проверяется. Страницы по каждой из задач нумеруются отдельно. Порча QR-кода недопустима!

Область, оказавшаяся ниже крайнего преломленного луча, будет освещена. Итого, неосвещённым останется кольцо, ограниченное двумя построениями на чертеже лучами. Отмеченное расстояние d и x найдем через подобие треугольников:

$$\frac{d}{2h} = \frac{r}{h} \Rightarrow d = 2r \quad \frac{x}{3h} = \frac{r}{2h} \Rightarrow x = \frac{3r}{2}$$

Неосвещённая площадь:

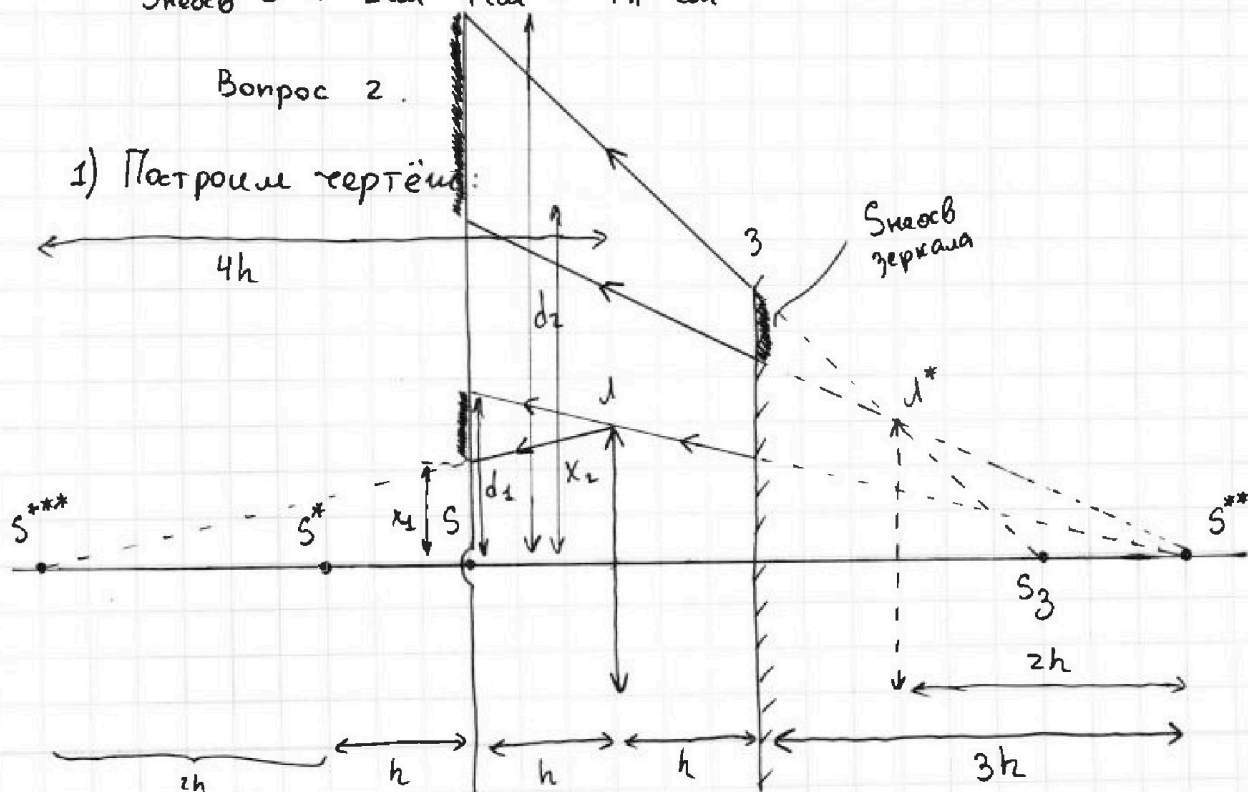
$$S_{\text{неосв}} = \pi d^2 - \pi x^2 = \pi(d-x)(d+x) = \pi \cdot \frac{r}{2} \cdot \frac{7r}{2} = \pi \frac{7r^2}{4}$$

Подставив численные значения $r = 2 \text{ см}$: $d = 4 \text{ см}$; $x = 3 \text{ см}$.

$$S_{\text{неосв}} = \pi \cdot 1 \text{ см} \cdot 7 \text{ см} = 7\pi \text{ см}^2$$

Вопрос 2.

1) Патрули чертёж:





На одной странице можно оформлять только одну задачу. Отметьте крестиком номер задачи, решение которой представлено на странице. Также укажите номер страницы и суммарное количество страниц в решении каждой задачи отдельно.

1 2 3 4 5 6 7

СТРАНИЦА
3 ИЗ 4

Если отмечено более одной задачи или не отмечено ни одной задачи, страница считается черновиком и не проверяется. Страницы по каждой из задач нумеруются отдельно. Порча QR-кода недопустима!

Мнимое изображение S^* предмета S будет действительным предметом для зеркала, и будет создавать своё собственное мнимое изображение S^{**} .

S^* находится на расстоянии $3h$ от зеркала, $\rightarrow S^{**}$ находится на том же расстоянии по другую сторону зеркала. То есть, на стекле от зеркала падает свет, создаваемый мнимым изображением S^{**} . Некоторые из этих лучей будут вновь преломляться в линзе. Построим луч от S^{**} , проходящий через край линзы (либо линзы) и луч, преломляющийся в линзе (тоже через край).

Предмет S^{**} - действительный для линзы, находится на расстоянии $4h$ от неё. $4h = 2F$, $\Rightarrow S^{**}$ даст в линзе действительное изображение S^{***} . Мы видим, что из-за повторного преломления на стекле образуется тёмное пятно (кольцо)

S^{***} находится на расстоянии $2F = 4h$ слева от линзы.



На одной странице можно оформлять только одну задачу. Отметьте крестиком номер задачи, решение которой представлено на странице. Также укажите номер страницы и суммарное количество страниц в решении каждой задачи отдельно.

1 2 3 4 5 6 7

СТРАНИЦА

4 ИЗ 4

Если отмечено более одной задачи или не отмечено ни одной задачи, страница считается черновиком и не проверяется. Страницы по каждой из задач нумеруются отдельно. Порча QR-кода недопустима!

По тому же принципу как и в вопросе 1:

$$\frac{r}{4h} = \frac{x_1}{3h} \Rightarrow x_1 = \frac{3}{4}r \quad \frac{d_1}{5h} = \frac{r}{4h} \Rightarrow d_1 = \frac{5}{4}r$$

$$S_{\text{неосв стень 1}} = \pi(d_1^2 - x_1^2) = \pi(d_1 - x_1)(d_1 + x_1) = \pi \cdot \frac{r}{2} \cdot 2r = \pi r^2.$$

Но, на стене будет ещё одно тёмное кольцо, которое создается из-за тёмного кольца на зеркале.

Пусть S_3 - изображение источника S в зеркале, а M^* - изображение линзы в зеркале. Пусть лучи из S_3 и S^{**} на ~~фигура~~ край линзы и продолжим за зеркало на стену. Это и будет тёмное кольцо на стене, созданное тёмным кольцом на зеркале.

По тому же принципу как выше:

$$\frac{d_2}{4h} = \frac{r}{h} \Rightarrow d_2 = 4r \quad \frac{x_2}{5h} = \frac{r}{2h} \Rightarrow x_2 = \frac{5}{2}r.$$

$$S_{\text{неосв стень 2}} = \pi(d_2 - x_2)(d_2 + x_2) = \pi\left(4r - \frac{5}{2}r\right)\left(4r + \frac{5}{2}r\right) = \pi \cdot \frac{3}{2}r \cdot \frac{13}{2}r = \frac{39}{4}\pi r^2.$$

$$S_{\text{неосв стень}} = S_{\text{неосв стень 1}} + S_{\text{неосв стень 2}} = \pi r^2 + \frac{39}{4}\pi r^2 = \frac{43}{4}\pi r^2 = 43\pi \text{ см}^2.$$

Ответ: 1) $7\pi \text{ см}^2$ 2) $43\pi \text{ см}^2$




На одной странице можно оформлять **только одну** задачу. Отметьте **крестиком** номер задачи, решение которой представлено на странице. Также укажите номер страницы и суммарное количество страниц в решении каждой задачи отдельно.

1	2	3	4	5	6	7
<input type="checkbox"/>	<input type="checkbox"/>	<input type="checkbox"/>	<input type="checkbox"/>	<input type="checkbox"/>	<input type="checkbox"/>	<input type="checkbox"/>

СТРАНИЦА
__ ИЗ __

Если отмечено более одной задачи или не отмечено ни одной задачи, страница считается черновиком и не проверяется. Страницы по каждой из задач нумеруются отдельно. Порча QR-кода недопустима!



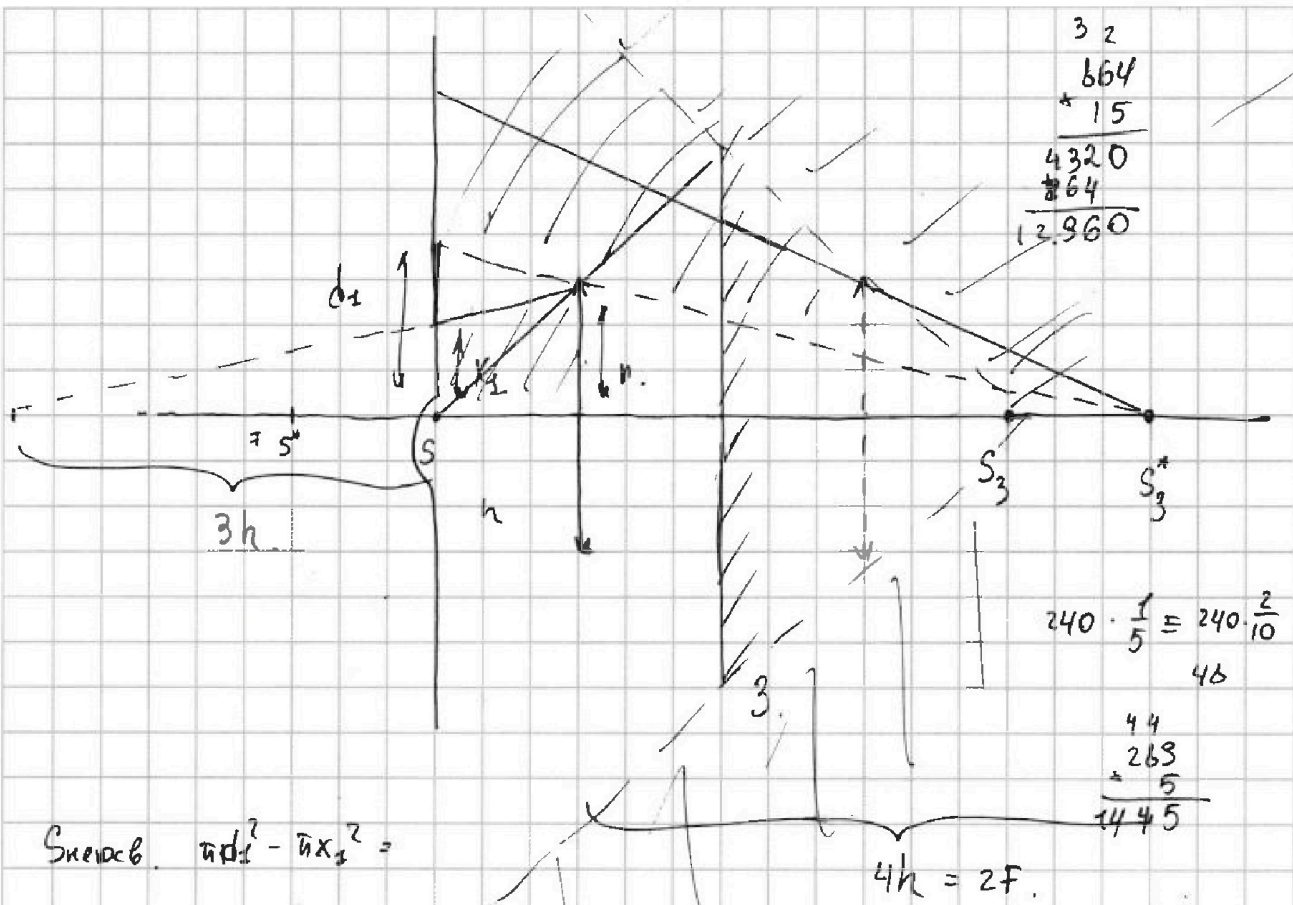
На одной странице можно оформлять только одну задачу. Отметьте крестиком номер задачи, решение которой представлено на странице. Также укажите номер страницы и суммарное количество страниц в решении каждой задачи отдельно.



1 2 3 4 5 6 7

СТРАНИЦА
__ ИЗ __

Если отмечено более одной задачи или не отмечено ни одной задачи, страница считается черновиком и не проверяется. Страницы по каждой из задач нумеруются отдельно. Порча QR-кода недопустима!



$$\text{Сноска } \pi d_1^2 - \pi x_1^2 =$$

$$= \pi (d_1 - x_1)(d_1 + x_1)$$

$$\pi \left(\frac{5r - 3r}{4} \right) \left(\frac{5r}{4} + \frac{3r}{4} \right)$$

$$\pi \left(\frac{r}{2} \right) (2r) = \pi r^2$$

$$x_1^2$$

$$\frac{r}{4h} = \frac{x_1}{3h}$$

$$x_1 = \frac{3}{4}r$$

$$2) 4r - \frac{5}{2}r = \frac{3}{2}r$$

$$2) 4r + \frac{5}{2}r = \frac{13}{2}r$$

$$\begin{array}{r} 25 \cdot 24 \cdot 25 \\ \underline{25} \\ 25 \\ \underline{25} \\ 125 \\ \underline{50} \\ 825 \\ \underline{24} \\ 2500 \\ \underline{1250} \\ 15000 \end{array}$$

$$\begin{array}{r} 2 \\ 64 \\ \underline{17} \\ 448 \\ \underline{64} \\ 1086 \end{array}$$

$$\begin{array}{r} 4 \\ 17 \\ \underline{17} \\ 119 \\ \underline{17} \\ 289 \\ \underline{12} \\ 478 \\ \underline{289} \\ 3368 \end{array}$$

$$\begin{array}{r} 41 \\ 288 \\ \underline{\times 25} \\ 1445 \\ \underline{+ 578} \\ 7225 \end{array}$$



На одной странице можно оформлять только одну задачу. Отметьте крестиком номер задачи, решение которой представлено на странице. Также укажите номер страницы и суммарное количество страниц в решении каждой задачи отдельно.

1 2 3 4 5 6 7

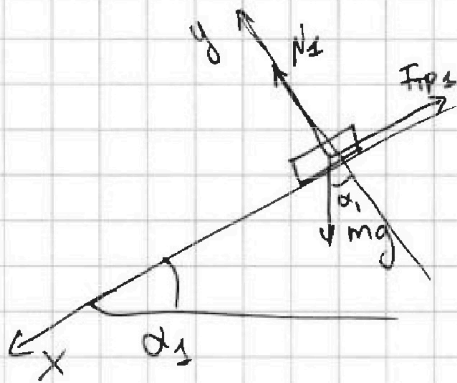
СТРАНИЦА
__ ИЗ __

Если отмечено более одной задачи или не отмечено ни одной задачи, страница считается черновиком и не проверяется. Страницы по каждой из задач нумеруются отдельно. Порча QR-кода недопустима!

1-2: $A_{12} = \frac{21}{2} p_0 V_0$

$\rho_0 V_0 \cdot 3V_0 = \sqrt{RT_1}$, $\sqrt{RT_1} = 15 p_0 V_0$

$\sqrt{RT_2} = 12 p_0 V_0$



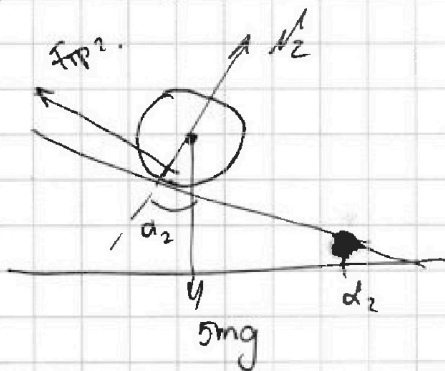
$\Sigma ZH: y: N_1 - mg \cos \alpha_1 = 0$

$x: mg \sin \alpha_1 - F_{TP1} = ma_x$

$F_{TP1} = mg \sin \alpha_1 - ma_x$

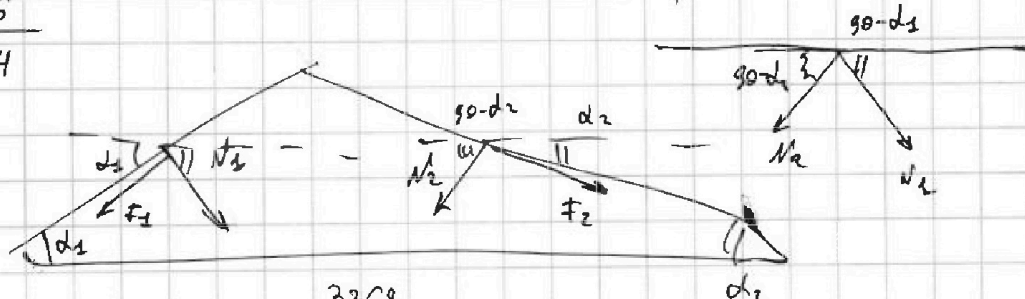
$F_1 = mg \cdot \frac{3}{5} - m \cdot \frac{7g}{17} = mg \left(\frac{3}{5} - \frac{7}{17} \right)$

$\frac{51 - 35}{5 \cdot 17} = \frac{16}{85} \quad \frac{16}{85} mg$



25	5
40	17
1000.	8
	136
	15000
	12860
	2040
	+ 1088
	3128
	3368
	0
3	
25	
17	
+ 175	
25	
425	

$\frac{1000}{136}$
864



$\frac{3368}{3128}$
240

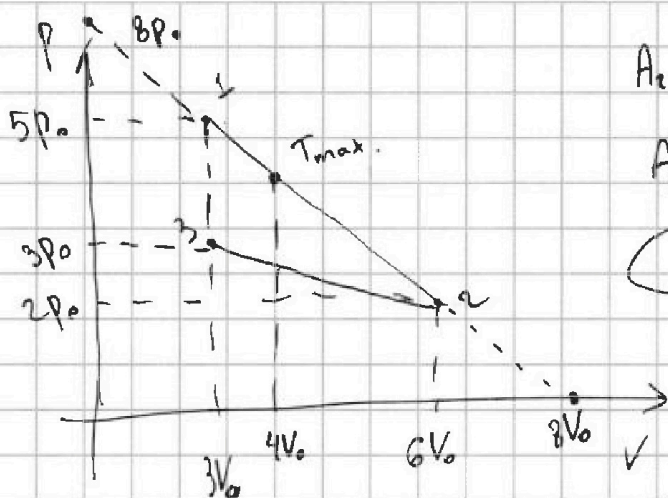
На одной странице можно оформлять только одну задачу. Отметьте крестиком номер задачи, решение которой представлено на странице. Также укажите номер страницы и суммарное количество страниц в решении каждой задачи отдельно.



1 2 3 4 5 6 7

СТРАНИЦА
___ ИЗ ___

Если отмечено более одной задачи или не отмечено ни одной задачи, страница считается черновиком и не проверяется. Страницы по каждой из задач нумеруются отдельно. Порча QR-кода недопустима!



$$A_{21} = S_{2p}$$

$$A_{12} = \frac{1}{2}(5p_0 + 8p_0)(6V_0 - 3V_0)$$

$$A_{12} = \frac{1}{2} \cdot 8p_0 \cdot 3V_0 = \frac{21}{2} p_0 V_0$$

$$A_{23} = -S_{2p}$$

$$A_{23} = -\frac{1}{2}(3p_0 + 2p_0)(6V_0 - 3V_0)$$

$$A_{23} = -\frac{1}{2} \cdot 5p_0 \cdot 3V_0 = -\frac{15}{2} p_0 V_0$$

$$A_{13} = \frac{21}{2} p_0 V_0 - \frac{15}{2} p_0 V_0 = 3p_0 V_0$$

$$3-1: \Delta U = \frac{i}{2} \nu R \Delta T = \frac{i}{2} (\nu R T_1 - \nu R T_3) = \frac{i}{2} \left(\frac{5p_0 \cdot 3V_0}{15p_0 V_0} - \frac{3p_0 \cdot 3V_0}{9p_0 V_0} \right) = \frac{3}{2} \cdot 6p_0 V_0 = 9p_0 V_0$$

$$\textcircled{1} \frac{|\Delta U_{31}|}{A_{13}} = \frac{9p_0 V_0}{3p_0 V_0} = 3$$

$$1-2: p = kV + b \quad 1) 0 = k \cdot 8V_0 + b \quad 2) 8p_0 = b$$

$$b = -8kV_0$$

$$8p_0 = -8kV_0 \quad k = -\frac{p_0}{V_0}$$

$$1-2: p = -\frac{p_0}{V_0} V + 8p_0 \quad -\frac{p_0}{V_0} V + 8\frac{p_0}{V_0} V = \frac{7p_0}{V_0} V$$

$$pV = -\frac{p_0}{V_0} V^2 + 8p_0 \cdot V$$

$$\nu R T = -\frac{p_0}{V_0} V^2 + 8p_0 V$$

$$T = \frac{1}{\nu R} \left(-\frac{p_0}{V_0} V^2 + 8p_0 V \right)$$

$$T'_{12} = \frac{1}{\nu R} \left(-\frac{p_0}{V_0} \cdot 2V + 8p_0 \right)$$

На одной странице можно оформлять только одну задачу. Отметьте крестиком номер задачи, решение которой представлено на странице. Также укажите номер страницы и суммарное количество страниц в решении каждой задачи отдельно.



1 2 3 4 5 6 7

СТРАНИЦА
__ ИЗ __

Если отмечено более одной задачи или не отмечено ни одной задачи, страница считается черновиком и не проверяется. Страницы по каждой из задач нумеруются отдельно. Порча QR-кода недопустима!

$$T'(V) = \frac{1}{2R} \left(-2 \frac{p_0}{V_0} V + 8p_0 \right)$$

$$T' = 0 :$$

$$-2 \frac{p_0}{V_0} V + 8p_0 = 0$$

$$V \cdot \frac{2p_0}{V_0} = 8p_0$$

$$V = 4V_0$$

$$p = -\frac{p_0}{V_0} V + 8p_0$$

$$p(4V_0) = -\frac{p_0}{V_0} \cdot 4V_0 + 8p_0$$

$$p(4V_0) = 4p_0$$

$$\sqrt{RT_{\max}} = 4p_0 \cdot 4V_0 = 16p_0 V_0$$

$$\sqrt{RT_2} = 2p_0 \cdot 6V_0 = 12p_0 V_0$$

②

$$\frac{T_{\max}}{T_2} = \frac{4}{3}$$

$$\left(\frac{4V - 3V}{2} \right) \left(\frac{4V}{2} + \frac{3V}{2} \right)$$

$$\Delta\varphi = Ed$$

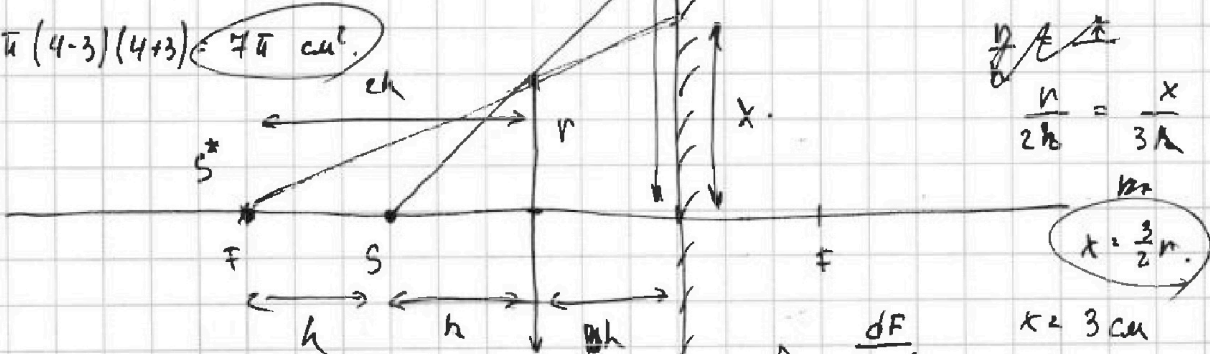
$$\varphi_3 = k \frac{q}{r}$$

$$\frac{V \cdot 7V}{2} = \frac{7V^2}{4}$$

$$S_{\text{сеч}} = \pi d^2 - \pi r^2 = \pi (d-r)(d+r)$$

$$\frac{h \cdot 2h}{2h \cdot h} = \frac{2h^2}{h^2} = 2h$$

$$\pi (4-3)(4+3) = 7\pi \text{ см}^2$$



$$\frac{h}{2h} = \frac{x}{3h}$$

$$x = \frac{3}{2}r$$

$$x = 3 \text{ см}$$

$$f_2 = \frac{dF}{F-d}$$

$$\frac{1}{d} - \frac{1}{f} = \frac{1}{F}$$

$$\frac{1}{f} - \frac{1}{d} = \frac{1}{F}$$

$$\frac{h}{h} = \frac{d}{2h}$$

$$d = 2r$$

$$d = 4 \text{ см}$$

На одной странице можно оформлять только одну задачу. Отметьте крестиком номер задачи, решение которой представлено на странице. Также укажите номер страницы и суммарное количество страниц в решении каждой задачи отдельно.

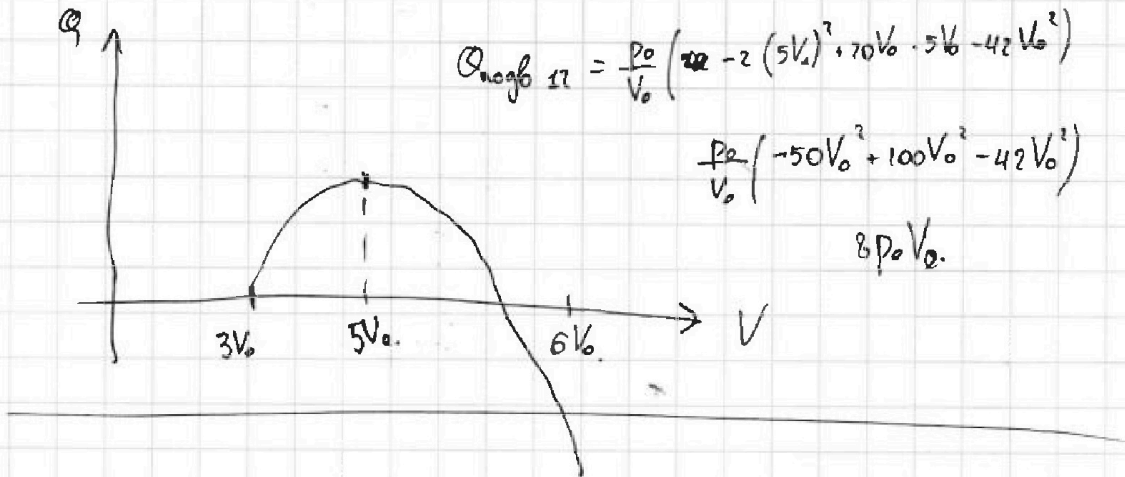


1 2 3 4 5 6 7

СТРАНИЦА
__ ИЗ __

Если отмечено более одной задачи или не отмечено ни одной задачи, страница считается черновиком и не проверяется. Страницы по каждой из задач нумеруются отдельно. Порча QR-кода недопустима!

$$Q_{\Omega} = \frac{P_0}{V_0} (-2V^2 + 20V_0V - 42V_0^2) \quad \text{верши} = \frac{-20V_0}{2 \cdot (-2)} = 5V_0.$$



$$Q = \frac{1}{2} (3P_0V - 418P_0V_0 + 41P_0V - 6P_0V_0)$$

$$p(V) = -\frac{P_0}{3V_0} V + 41P_0$$

На одной странице можно оформлять только одну задачу. Отметьте крестиком номер задачи, решение которой представлено на странице. Также укажите номер страницы и суммарное количество страниц в решении каждой задачи отдельно.



1 2 3 4 5 6 7

СТРАНИЦА
— ИЗ —

Если отмечено более одной задачи или не отмечено ни одной задачи, страница считается черновиком и не проверяется. Страницы по каждой из задач нумеруются отдельно. Порча QR-кода недопустима!

$$\varphi: BS \cos \alpha = BS.$$

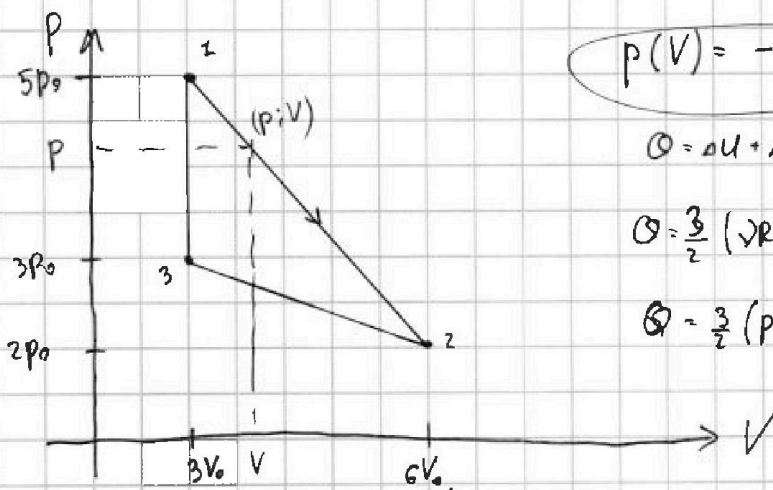
$$B' \cdot \frac{\Delta B}{\Delta t} = -\alpha$$

$$E_{i\varphi} = -\varphi' = -(BS)' = -B'S = \alpha S$$

$$L \cdot \frac{dI}{dt} = \frac{\mu^2}{c} \cdot S$$

$$\Delta \varphi = E_{i\varphi} \cdot h = dnS$$

$$\Delta \varphi = LI' \Rightarrow I' = \frac{\Delta \varphi}{L} = \frac{dnS}{L} \quad \checkmark$$



$$p(V) = -\frac{p_0}{V_0}V + 8p_0.$$

$$Q = \Delta U + A_{12}$$

$$Q = \frac{3}{2}(\sqrt{RT} - \sqrt{RT_2}) + S_{12}$$

$$Q = \frac{3}{2}(pV - 15p_0V_0) +$$

$$S_{12} = \frac{1}{2}(5p_0 + p)(V - 3V_0) = \quad Q = \frac{1}{2}(3pV - 45p_0V_0 + 5p_0V - 15p_0V_0 + pV - 3pV_0)$$

$$Q = \frac{1}{2}(4pV - 60p_0V_0 + 5p_0V - 3pV_0)$$

$$p = -\frac{p_0}{V_0}V + 8p_0.$$

$$Q = \frac{1}{2}\left(4\left(-\frac{p_0}{V_0}V + 8p_0\right)V - 60p_0V_0 + 5p_0V - 3V\left(-\frac{p_0}{V_0}V + 8p_0\right)\right)$$

$$Q = \frac{1}{2}\left(-4\frac{p_0}{V_0}V^2 + 32p_0V - 60p_0V_0 + 5p_0V + 3\frac{p_0}{V_0}V^2 - 24p_0V_0\right)$$

$$Q = \frac{1}{2}\left(-\frac{p_0}{V_0}V^2 + 8p_0V\right) \quad Q = \frac{1}{2}\left(4V\left(-\frac{p_0}{V_0}V + 8p_0\right) - 60p_0V_0 + 5p_0V - 3V_0\left(-\frac{p_0}{V_0}V + 8p_0\right)\right)$$

$$Q = \frac{1}{2}\left(-4\frac{p_0}{V_0}V^2 + 32p_0V - 60p_0V_0 + 5p_0V + 3p_0V - 24p_0V_0\right)$$

$$Q = \frac{1}{2}\left(-4\frac{p_0}{V_0}V^2 + 40p_0V - 84p_0V_0\right) \quad Q = \frac{p_0}{V_0}\left(-2V^2 + 20V_0 \cdot V - 42V_0^2\right)$$