



МОСКОВСКИЙ
ФИЗИКО-ТЕХНИЧЕСКИЙ
ИНСТИТУТ

ОЛИМПИАДА "ФИЗТЕХ"
ПО МАТЕМАТИКЕ

10 КЛАСС. Вариант 5



1. [3 балла] Третий член арифметической прогрессии равен $3x + 3$, пятый член равен $(x^2 + 2x)^2$, а девятый равен $3x^2$. Найдите x .
2. [4 балла] Найдите наибольшее значение выражения $4y + 8x$ при условии

$$\begin{cases} |x - 3y| \leq 3, \\ |3x - y| \leq 1. \end{cases}$$

3. [5 баллов] Найдите все пары (m, n) натуральных чисел, для которых одно из чисел $A = m^2 + 2mn + n^2 - 9m - 9n$ и $B = m^2n + mn^2 - 3mn$ равно $13p^2$, а другое равно $75q^2$, где p и q - простые числа.
4. [5 баллов] Прямая, параллельная биссектрисе AX треугольника ABC , проходящая через середину M его стороны BC , пересекает сторону AB и продолжение стороны AC в точках Z и Y соответственно. Найдите BC , если $AC = 18$, $AZ = 6$, $YZ = 8$.
5. [4 балла] Решите систему уравнений

$$\begin{cases} \sqrt{x+1} - \sqrt{6-y} + 5 = 2\sqrt{6+5x-y^2}, \\ x^4 + 5x^2 - \sqrt{y} = y^4 - \sqrt{x} + 5y^2. \end{cases}$$

6. [4 балла] На тетрадном листе нарисован квадрат 8×8 клеток (стороны квадрата идут вдоль границ клеток), а все узлы сетки внутри квадрата или на его границе покрашены в чёрный цвет. Найдите количество способов перекрасить два узла в белый цвет, если раскраски, получающиеся друг из друга поворотом, считаются одинаковыми.
7. [6 баллов] В треугольнике ABC на медиане AM и биссектрисе CL как на диаметрах построены окружности Ω и ω соответственно, пересекающиеся в точках P и Q . Отрезок PQ параллелен высоте треугольника ABC , проведённой из вершины B . Окружность Ω пересекает сторону AC повторно в точке N . Найдите длины сторон AC и BC , если $AB = 10$, $AN = 8$.



На одной странице можно оформлять только одну задачу. Отметьте крестиком номер задачи, решение которой представлено на странице. Также укажите номер страницы и суммарное количество страниц в решении каждой задачи отдельно.

1 2 3 4 5 6 7

СТРАНИЦА
1 ИЗ 1

Если отмечено более одной задачи или не отмечено ни одной задачи, страница считается черновиком и не проверяется. Страницы по каждой из задач нумеруются отдельно. Порча QR-кода недопустима!

Задача 1 По данному прогрессии ищем $\log \{a_i\}, i=1, 2, \dots$

$$\text{Полагаем } \begin{cases} a_3 = 3x+3 \\ a_5 = (x^2+2x)^2 \\ a_9 = 3x^2 \end{cases}$$

Пусть разность данной прогрессии - d

$$\begin{aligned} a_5 &= a_3 + 2d = 3x+3 + 2d \\ a_9 &= a_3 + 6d = 3x+3 + 6d \end{aligned}$$

Заменим по-прежнему:

$$\begin{cases} (x^2+2x)^2 + 3x+3 = 2d \\ 3x^2 - 3x - 3 = 6d \end{cases} \quad /: 3 \quad \begin{cases} (x^2+2x)^2 - 3x - 3 = 2d \\ x^2 - x - 1 = 2d \end{cases} \Leftrightarrow (x^2+2x)^2 - 3x - 3 = x^2 - x - 1$$

$$x^4 + 4x^3 + 4x^2 - 2x - 2 - x^2 = 0$$

$$x^4 + 4x^3 + 3x^2 - 2x - 2 = 0$$

$$x^4 + 4x^3 + 3x^2 - 2x - 2 = (x+1)^2 (x^2 + 2x - 2) = 0$$

$$\begin{aligned} \Delta &= 4+8=12 \\ x &= \frac{-2 \pm 2\sqrt{3}}{2} = -1 \pm \sqrt{3} \end{aligned}$$

$$\begin{cases} x = -1 \\ x = -1 - \sqrt{3} \\ x = -1 + \sqrt{3} \end{cases}$$

Проверим каждый из вариантов:

1) $x = -1$

$$a_3 = -3 + 3 = 0 \Rightarrow d = \frac{1}{2}$$

$$a_5 = (1-2)^2 = 1$$

$$a_9 = 3$$

$$a_9 = a_3 + 6d = 0 + 3 = 3$$

2) $x = -1 + \sqrt{3}$

$$a_3 = -3 + 3\sqrt{3} + 3 = 3\sqrt{3}$$

$$a_5 = x^2(x+2)^2 = (1+\sqrt{3})^2(1+\sqrt{3})^2 = 5(4) \Rightarrow d = \frac{4-3\sqrt{3}}{2}$$

$$a_9 = 3(-1+\sqrt{3})^2 = 3(4-2\sqrt{3}) = 12-6\sqrt{3}$$

$$a_9 = 3\sqrt{3} + \frac{6(4-3\sqrt{3})}{2} = 3\sqrt{3} + 12 - 9\sqrt{3} = 12 - 6\sqrt{3}$$

3) $x = -1 - \sqrt{3}$

$$a_3 = -3 - 3\sqrt{3} + 3 = -3\sqrt{3}$$

$$a_5 = x^2(x+2)^2 = (-1-\sqrt{3})^2(-\sqrt{3}+1)^2 = (1+\sqrt{3})^2(1-\sqrt{3})^2 = 4$$

$$a_9 = 3x^2 = 3(-1-\sqrt{3})^2 = 3(4+2\sqrt{3}) = 12+6\sqrt{3}$$

$$a_9 = a_3 + 6d = -3\sqrt{3} + 3(4+3\sqrt{3}) = -3\sqrt{3} + 12 + 9\sqrt{3} = 12 + 6\sqrt{3}$$

Ответ: ~~1; 2; 3; 4; 5; 6; 7~~ $-1 - \sqrt{3}; -1; -1 + \sqrt{3}$



На одной странице можно оформлять только одну задачу. Отметьте крестиком номер задачи, решение которой представлено на странице. Также укажите номер страницы и суммарное количество страниц в решении каждой задачи отдельно.

1 2 3 4 5 6 7

СТРАНИЦА
1 из 1

Если отмечено более одной задачи или не отмечено ни одной задачи, страница считается черновиком и не проверяется. Страницы по каждой из задач нумеруются отдельно. Порча QR-кода недопустима!

Задача 2 $\max(4y+8x) = ?$

$$\begin{cases} |x-3y| \leq 3 \\ |3x-y| \leq 1 \end{cases}$$

т.к. обе части обеих неравенств неотрицательны, можем сделать равносильный переход:

$$\begin{cases} (x-3y)^2 \leq 3^2 \\ (3x-y)^2 \leq 1 \end{cases} \Leftrightarrow \begin{cases} (x-3y-3)(x-3y+3) \leq 0 \\ (3x-y-1)(3x-y+1) \leq 0 \end{cases} \begin{matrix} * \\ ** \end{matrix}$$

$$* : \begin{cases} 1) x-3y-3 \leq 0 \\ x-3y+3 \geq 0 \end{cases}$$

$$2) x-3y-3 \geq 0 \\ x-3y+3 \leq 0$$

$$\begin{cases} x-3y \leq 3 \\ x-3y \geq -3 \end{cases}$$

$$\begin{cases} x-3y \geq 3 \\ x-3y \leq -3 \end{cases}$$

-такого быть не может

$$\boxed{-3 \leq x-3y \leq 3}$$

$$** : \begin{cases} 1) \begin{cases} 3x-y-1 \leq 0 \\ 3x-y+1 \geq 0 \end{cases} \\ \begin{cases} 3x-y \leq 1 \\ 3x-y \geq -1 \end{cases} \end{cases}$$

$$2) \begin{cases} 3x-y \geq 1 \\ 3x-y \leq -1 \end{cases} \text{ - такою быть не может}$$

$$\boxed{-1 \leq 3x-y \leq 1}$$

\Downarrow

$$\begin{cases} -3 \leq x-3y \leq 3 \\ -1 \leq 3x-y \leq 1 \end{cases}$$

Алгебраически ограничим x и y :

$$1) x: \begin{cases} -3 \leq x-3y \leq 3 \\ -1 \leq 3x-y \leq 1 \end{cases} \begin{matrix} * \\ ** \end{matrix} \Leftrightarrow \begin{cases} -3 \leq x-3y \leq 3 \\ -3 \leq 3y-9x \leq 3 \end{cases}$$

сложим:

$$\begin{cases} -6 \leq -8x \leq 6 \\ \boxed{-6 \leq 8x \leq 6} \end{cases}$$

$$2) y: \begin{cases} -3 \leq x-3y \leq 3 \quad | \cdot (-3) \\ -1 \leq 3x-y \leq 1 \end{cases} \begin{matrix} * \\ ** \end{matrix}$$

$$\begin{cases} -9 \leq -3x+9y \leq 9 \\ -1 \leq 3x-y \leq 1 \end{cases} \text{ сложим}$$

$$\begin{cases} -10 \leq 8y \leq 10 \\ \boxed{-5 \leq 4y \leq 5} \end{cases}$$

$$\begin{cases} -6 \leq 8x \leq 6 \\ -5 \leq 4y \leq 5 \end{cases}$$

$$-11 \leq 8x+4y \leq 11 \Rightarrow \max(8x+4y) = 11$$

Докажем, что такое значение действительно достигается:

например, при $x = \frac{3}{4}$; $y = \frac{5}{4}$ в-первых: $8x+4y = \frac{8 \cdot 3}{4} + \frac{4 \cdot 5}{4} = 6+5=11$

$|x-3y| = |\frac{3}{4} - \frac{15}{4}| = |-\frac{12}{4}| = 3$ - верно, удовлетворяет

$|3x-y| = |\frac{9}{4} - \frac{5}{4}| = |\frac{4}{4}| = 1$ - верно, удовлетворяет. (ответ) 11, пример: $x = \frac{3}{4}$; $y = \frac{5}{4}$



На одной странице можно оформлять только одну задачу. Отметьте крестиком номер задачи, решение которой представлено на странице. Также укажите номер страницы и суммарное количество страниц в решении каждой задачи отдельно.

1 2 3 4 5 6 7

СТРАНИЦА
1 ИЗ 2

Если отмечено более одной задачи или не отмечено ни одной задачи, страница считается черновиком и не проверяется. Страницы по каждой из задач нумеруются отдельно. Порча QR-кода недопустима!

Задача 3
$$\begin{cases} A = m^2 + 2mn + n^2 - 9m - 9n \\ B = m^2n + mn^2 - 3mn \end{cases} \quad \begin{cases} A = (m+n)^2 - 9(m+n) = (m+n)(m+n-9) \\ B = mn(m+n-3) \end{cases}$$

Рассмотрим разные случаи парности m и n :

1) $\begin{cases} m - \text{чет} \\ n - \text{чет} \end{cases} \Rightarrow \begin{cases} (m+n) - \text{чет} \Rightarrow A - \text{чет} \\ m \cdot n - \text{чет} \Rightarrow B - \text{чет} \end{cases}$

2) $\begin{cases} m - \text{чет} \\ n - \text{нечет} \end{cases} \Rightarrow \begin{cases} (m+n-9) - \text{чет} \Rightarrow A - \text{чет} \\ m \cdot n - \text{чет} \Rightarrow B - \text{чет} \end{cases}$

3) $\begin{cases} m - \text{нечет} \\ n - \text{чет} \end{cases}$ Аналогично с 2) A и B четные

4) $\begin{cases} m - \text{нечет} \\ n - \text{нечет} \end{cases} \begin{cases} (m+n) - \text{чет} \Rightarrow A - \text{чет} \\ m \cdot n (m+n-3) - \text{нечет} \Rightarrow B - \text{нечет} \end{cases}$

Обозначим: $t = m+n, v = mn, \begin{cases} t > 0 \\ v > 0 \end{cases}$

Тогда получим данные случаи на 2 группы:

а) это 1), 2), 3)
б) это 4)

приведен в обоих группах A -чет, а $m \cdot k$

$\begin{cases} A = 13p^2 \\ A = 75q^2 \end{cases} \Rightarrow A$ содержит в себе столько же пятёрок

$\begin{cases} A = 13p^2 \Rightarrow p = 2 \\ A = 75q^2 \Rightarrow q = 2 \end{cases}$

а) 1) $A = 13p^2$, примем $B:2 \Rightarrow q:2 \Rightarrow q=2$

$\begin{cases} (m+n)(m+n-9) = 13 \cdot 4 \\ mn(m+n-3) = 45 \cdot 4 \end{cases}$

$\begin{cases} t^2 - 9t - 52 = 0 \\ v(t-3) = 5^2 \cdot 3 \cdot 2^2 \end{cases} \Leftrightarrow \begin{cases} t = 13 \\ v(t-3) = 2^2 \cdot 5^2 \cdot 3 \end{cases} \Leftrightarrow \begin{cases} t = 13 \\ v \cdot 10 = 2^2 \cdot 5^2 \cdot 3 \end{cases}$

$\begin{cases} t = 13 \\ v = 30 \end{cases} \Rightarrow \begin{cases} m+n = 13 \\ mn = 30 \end{cases} \Rightarrow \begin{cases} (m,n) = (3,10) \\ (m,n) = (10,3) \end{cases}$

Проверим, что эти случаи возможны:

1) $m=3, n=10$

$\begin{cases} A = 13 \cdot 4 = 52 = 13 \cdot 2^2 \\ B = 3 \cdot 10 \cdot 10 = 45 \cdot 2^2 \end{cases}$ верно ✓

2) $m=10, n=3$

$\begin{cases} A = 13 \cdot 4 = 52 = 13 \cdot 2^2 \\ B = 3 \cdot 10 \cdot 10 = 45 \cdot 2^2 \end{cases}$ верно ✓

2) $A = 75q^2$, примем $B:2 \Rightarrow p:2 \Rightarrow q=2$

$\begin{cases} t(t-9) = 45 \cdot 4 \\ (t-3) \cdot v = 52 \end{cases} \Leftrightarrow \begin{cases} t^2 - 9t - 300 = 0 \\ D = 81 + 300 \cdot 4 = 3(27 + 400) = 3 \cdot 427 \end{cases}$

$\nexists \Rightarrow D$ не является полным квадратом

м.к. $t^2 - 9t - 300 = 0$ решений не имеет \Rightarrow 2-нечетно

Итак случаи невозможны

На одной странице можно оформлять только одну задачу. Отметьте крестиком номер задачи, решение которой представлено на странице. Также укажите номер страницы и суммарное количество страниц в решении каждой задачи отдельно.



1 2 3 4 5 6 7

СТРАНИЦА
2 ИЗ 2

Если отмечено более одной задачи или не отмечено ни одной задачи, страница считается черновиком и не проверяется. Страницы по каждой из задач нумеруются отдельно. Порча QR-кода недопустима!

б) 1) $\Delta = 13^2$ аналогично с а) 1) $\begin{cases} t = 13 \\ Lt = -4 \end{cases}$
 $q \neq 2, q/2$

$$\begin{cases} m+n=13 \\ mn=10=75 \cdot q^2 \end{cases}$$

↑
целые корни: 2 а правых нет $\Rightarrow \emptyset$

2) $\Delta = 75q^2 = 75 \cdot 4$ аналогично с а) 2) $t^2 - 9t - 75 \cdot 4 = 0$
Этот случай невыполним

Рассмотрим все случаи: ответ $(3, 10); (10, 3)$
ответы $(3, 10); (10, 3)$



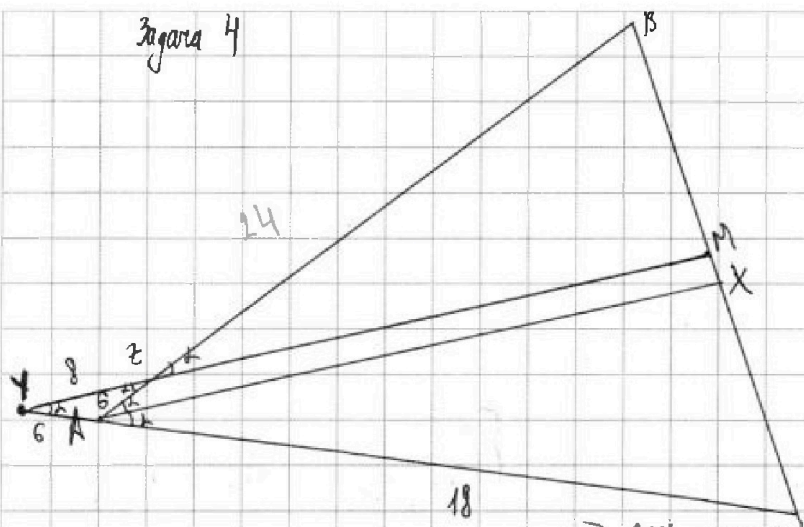
На одной странице можно оформлять только одну задачу. Отметьте крестиком номер задачи, решение которой представлено на странице. Также укажите номер страницы и суммарное количество страниц в решении каждой задачи отдельно.

1 2 3 4 5 6 7

СТРАНИЦА
1 ИЗ 1

Если отмечено более одной задачи или не отмечено ни одной задачи, страница считается черновиком и не проверяется. Страницы по каждой из задач нумеруются отдельно. Порча QR-кода недопустима!

Задача 4



1) По теореме Менелая для $\triangle ABC$ и прямой XM , $XM \parallel AB \Rightarrow Z$

$$\frac{CM}{MB} \cdot \frac{BZ}{AZ} \cdot \frac{YA}{YA+AC} = 1$$

$$\frac{BZ}{6} \cdot \frac{YA}{YA+18} = 1$$

2) Пусть $\angle A = 2h \Rightarrow \angle BAX = \angle CAZ = h$
т.к. $XM \parallel AC$ (по условию) \Rightarrow

$\Rightarrow \angle BAX = \angle BZM$ - соответственные

$\angle BZM = \angle AZY = h$ - вертикальные

$\angle BAC + \angle BAY = 180^\circ$ - смежные $\Rightarrow \angle BAY = 180^\circ - 2h$

По теореме о сумме углов $\triangle YAZ$: $\angle YZ = 180^\circ - \angle BAY - \angle AZX = 180^\circ - 180^\circ + 2h - h = h$
 $\Rightarrow \triangle YAZ$ - равнобедренный ($\angle YZ = \angle AZX = h$) $\Rightarrow AZ = AY = 6$

3) Вернемся к 1) $\frac{BZ}{8} \cdot \frac{6}{24} = 1$

$$BZ = 24 \Rightarrow AB = 30$$

4) По теореме косинусов для $\triangle YAZ$:

$$\frac{AY}{\sin h} = \frac{YZ}{\sin(180^\circ - 2h)}$$

$$\sin(180^\circ - 2h) = \sin 2h = 2 \sin h \cos h$$

$$\frac{6}{\sin h} = \frac{6}{2 \sin h \cos h}$$

$$6 = \frac{4}{\cos h}$$

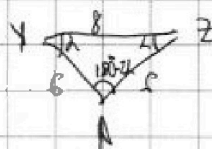
$$\cos h = \frac{2}{3} \Rightarrow \cos 2h = 2 \cos^2 h - 1 = 2 \cdot \frac{4}{9} - 1 = -\frac{1}{9}$$

5) Запишем теорему косинусов для $\triangle ABC$: $BC^2 = AC^2 + AB^2 - 2 \cdot AC \cdot AB \cdot \cos 2h \Rightarrow$

$$BC^2 = 30^2 + 18^2 + 2 \cdot \frac{1}{2} \cdot 30 \cdot 18 = 30^2 + 18^2 + 4 \cdot 30 = 30 \cdot 34 + 18^2 = 3(10 \cdot 34 + 18 \cdot 6) = 6(10 \cdot 17 + 18 \cdot 3) = 6(170 + 54) = 6 \cdot 224 = 6 \cdot 2^5 \cdot 7 = 3 \cdot 2^6 \cdot 7 \Rightarrow 8\sqrt{21}$$

$$BC = 8\sqrt{21}$$

$$\text{Ответ: } BC = 8\sqrt{21}$$



На одной странице можно оформлять только одну задачу. Отметьте крестиком номер задачи, решение которой представлено на странице. Также укажите номер страницы и суммарное количество страниц в решении каждой задачи отдельно.



1 2 3 4 5 6 7

СТРАНИЦА
1 ИЗ 1

Если отмечено более одной задачи или не отмечено ни одной задачи, страница считается черновиком и не проверяется. Страницы по каждой из задач нумеруются отдельно. Порча QR-кода недопустима!

Задача 5
$$\begin{cases} \sqrt{x+1} - \sqrt{6-y} + 5 = 2\sqrt{6+5x-y^2} & 1) \\ x^4 + 5x^2 - \sqrt{y} = y^4 - \sqrt{x} + 5y^2 & 2) \end{cases}$$

Рассмотрим 2):
$$(y^4 - x^4) + 5(y^2 - x^2) + (\sqrt{y} - \sqrt{x}) = 0$$

$$(\sqrt{y} - \sqrt{x})(\sqrt{y} + \sqrt{x})(x+y)(x^2+y^2) + 5(\sqrt{y} - \sqrt{x})(\sqrt{y} + \sqrt{x})(x+y) + (\sqrt{y} - \sqrt{x}) = 0$$

$$(\sqrt{y} - \sqrt{x})(\sqrt{y} + \sqrt{x})(x+y)(x^2+y^2) + 5(\sqrt{y} + \sqrt{x})(x+y) + 1 = 0$$

$$\begin{cases} \sqrt{y} - \sqrt{x} = 0 \\ (\sqrt{y} + \sqrt{x})(x+y)(x^2+y^2) + 5(\sqrt{y} + \sqrt{x})(x+y) + 1 = 0 \end{cases}$$

Заметим что н.к.
$$\begin{cases} \sqrt{x} \geq 0 \\ \sqrt{y} \geq 0 \end{cases} \Rightarrow \begin{cases} x \geq 0 \\ y \geq 0 \end{cases}$$

$$\begin{cases} \sqrt{x} + \sqrt{y} \geq 0 \\ x+y \geq 0 \\ x^2+y^2 \geq 0 \end{cases}$$

$$(\sqrt{y} + \sqrt{x})(x+y)(x^2+y^2) + 5(\sqrt{y} + \sqrt{x})(x+y) + 1 \geq 1 \neq 0$$

$$\begin{cases} \sqrt{y} - \sqrt{x} = 0 \\ \sqrt{y} = \sqrt{x} \Leftrightarrow x=y \end{cases}$$

Подставим $y=x$ в 1):
$$\sqrt{x+1} - \sqrt{6-x} + 5 = 2\sqrt{6+5x-x^2}$$

 Заметим что
$$\sqrt{(x+1)} \cdot \sqrt{6-x} = \sqrt{6x-x^2+6-x} = \sqrt{6+5x-x^2}$$

Пусть
$$\sqrt{(x+1)} = a, a \geq 0, \sqrt{6-x} = b, b \geq 0$$

Заметим что
$$a^2 + b^2 = x+1 + 6-x = 7$$

Заметим систему:
$$\begin{cases} a^2 + b^2 = 7 \\ a \mp b + 5 = 2ab \end{cases} \quad \begin{cases} (a-b)^2 + 2ab = 7 \\ (a-b) + 5 = 2ab \end{cases} \quad \begin{cases} (a-b)^2 + (a-b) - 2 = 0 \\ (a-b) + 5 = 2ab \end{cases}$$

$$\begin{cases} a-b = -2 & a) \\ a-b = 1 & b) \\ (a-b) + 5 = 2ab \end{cases}$$



На одной странице можно оформлять только одну задачу. Отметьте крестиком номер задачи, решение которой представлено на странице. Также укажите номер страницы и суммарное количество страниц в решении каждой задачи отдельно.

1 2 3 4 5 6 7

СТРАНИЦА
2 ИЗ 2

Если отмечено более одной задачи или не отмечено ни одной задачи, страница считается черновиком и не проверяется. Страницы по каждой из задач нумеруются отдельно. Порча QR-кода недопустима!

Продолжение задачи 5
Рассмотрим а)

$$\begin{cases} a-b=-2 \\ -2+5=2ab \end{cases}$$

$$\begin{cases} a-b=-2 \\ 3=2ab \end{cases}$$

$$\begin{cases} a=b-2 \\ 3=2b(b-2) \end{cases}$$

$$\begin{cases} a=b-2 \\ 2b^2-4b-3=0 \end{cases}$$

$$D=16+6\cdot4=40$$

$$b = \frac{4 \pm 2\sqrt{10}}{4} = 1 \pm \frac{\sqrt{10}}{2}$$

$$\begin{cases} b_1 = 1 - \frac{\sqrt{10}}{2} < 0 \\ b_2 = 1 + \frac{\sqrt{10}}{2} \end{cases} \quad \phi$$

$$\sqrt{6-x} = 1 + \frac{\sqrt{10}}{2}$$

$$6-x = 1 + \frac{10}{4} + \sqrt{10}$$

$$6-x = \frac{14}{4} + \sqrt{10}$$

$$x = \frac{5}{2} - \sqrt{10}$$

еще подставить, чтобы проверить:

$$\sqrt{\frac{7}{2} - \sqrt{10}} - \sqrt{\frac{7}{2} + \sqrt{10}} + 5 \stackrel{?}{=} 2 \sqrt{\frac{49-10}{4}}$$

$$\sqrt{\frac{7}{2} - \sqrt{10}} - \sqrt{\frac{7}{2} + \sqrt{10}} + 5 \stackrel{?}{=} 3$$

$$\sqrt{\frac{7}{2} - \sqrt{10}} - \sqrt{\frac{7}{2} + \sqrt{10}} \stackrel{?}{=} -2$$

$$\sqrt{\frac{7}{2} + \sqrt{10}} - \sqrt{\frac{7}{2} - \sqrt{10}} \stackrel{?}{=} 2$$

← а это в свою очередь верно

Или так, что $\sqrt{6-x} \geq 0$

$$\sqrt{6-x} \geq 0$$

$$6-x \geq 0$$

$$x \leq 6$$

Итак $x = \frac{5}{2} - \sqrt{10}$

Проверяем, что $\frac{5}{2} - \sqrt{10} < 6 \Rightarrow$

$$x = \frac{5}{2} - \sqrt{10} \text{ - подходит.}$$

Рассмотрим б)

$$\begin{cases} a-b=1 \\ -1+5=2ab \end{cases}$$

$$\begin{cases} a-b=+1 \\ ab=3 \end{cases}$$

$$\begin{cases} a=b+1 \\ b^2+b-3=0 \end{cases}$$

$$D=1+12=13$$

$$b = \frac{-1 \pm \sqrt{13}}{2}$$

$$\begin{cases} b_1 = \frac{-1 + \sqrt{13}}{2} > 0 \\ b_2 = \frac{-1 - \sqrt{13}}{2} < 0 \end{cases} \quad \phi$$

$$\Rightarrow \sqrt{6-x} = \frac{1+3-2\sqrt{13}}{4} = \frac{4-\sqrt{13}}{2}$$

$$6-x = \frac{16}{4} - \frac{\sqrt{13}}{2}$$

$$x = \frac{5+\sqrt{13}}{2} = 2,5 + \frac{\sqrt{13}}{2} \leftarrow 2,5 + 2 = 4,5 < 6$$

проверить подходит.

Ответ: $\left(\frac{5}{2} - \sqrt{10}; \frac{5}{2} - \sqrt{10}\right); \left(\frac{5+\sqrt{13}}{2}; \frac{5+\sqrt{13}}{2}\right)$



На одной странице можно оформлять только одну задачу. Отметьте крестиком номер задачи, решение которой представлено на странице. Также укажите номер страницы и суммарное количество страниц в решении каждой задачи отдельно.

1 2 3 4 5 6 7

СТРАНИЦА
ИЗ

Если отмечено более одной задачи или не отмечено ни одной задачи, страница считается черновиком и не проверяется. Страницы по каждой из задач нумеруются отдельно. Порча QR-кода недопустима!

Задача 5

$$\begin{cases} \sqrt{x+1} - \sqrt{6-y} + 5 = 2\sqrt{6+5x-y^2} & 1) \\ x^4 + 5x^2 - \sqrt{y} = y^4 - \sqrt{x} + 5y^2 & 2) \end{cases}$$

Заметим 2): $(y^4 - x^4) + 5(y^2 - x^2) + (\sqrt{y} - \sqrt{x}) = 0$

$$(\sqrt{y} - \sqrt{x})(\sqrt{y} + \sqrt{x})(x+y)(x^2+y^2) + 5(\sqrt{y} - \sqrt{x})(\sqrt{y} + \sqrt{x})(x+y) + (\sqrt{y} - \sqrt{x}) = 0$$

$$(\sqrt{y} - \sqrt{x}) \left((\sqrt{y} + \sqrt{x})(x+y)(x^2+y^2) + 5(\sqrt{y} + \sqrt{x})(x+y) + 1 \right) = 0$$

Заметим, что $\begin{cases} y \geq 0 \\ x \geq 0 \end{cases}$ $\Rightarrow \sqrt{y} \geq 0, \sqrt{x} \geq 0$

$$\begin{cases} -\sqrt{x} + \sqrt{y} = 0 \\ (\sqrt{x} + \sqrt{y})(x+y)(x^2+y^2) + 5(\sqrt{x} + \sqrt{y})(x+y) + 1 = 0 \end{cases}$$

$$\sqrt{\frac{x}{y}} \geq 0$$

$$2) \ x+y \geq 0$$

$$3) \ x^2 + y^2 \geq 0$$

$$\Rightarrow (\sqrt{x} + \sqrt{y})(x+y)(x^2+y^2) + 5(\sqrt{x} + \sqrt{y})(x+y) + 1 \geq 1 \neq 0$$

$$\sqrt{x} = \sqrt{y} \Leftrightarrow x = y \Rightarrow \text{подставим в 1)}$$

подставим 1) $\sqrt{x+1} - \sqrt{6-x} + 5 = 2\sqrt{6+5x-x^2}$

$y=x$

Заметим, что $\sqrt{x+1}\sqrt{6-x} = \sqrt{x-x^2+6-x} = \sqrt{6+5x-x^2}$

Пусть $\sqrt{x+1} = a, \sqrt{6-x} = b$
 $a \geq 0, b \geq 0$

Заметим, что $x+6-x = 6$

$$\begin{cases} a - b + 5 = 2ab \\ a^2 + b^2 = 6 \end{cases}$$

$$\Leftrightarrow \begin{cases} (a-b) + 5 = 2ab \\ (a-b)^2 + 2ab = 6 \end{cases}$$

$$\Leftrightarrow \begin{cases} (a-b) + 5 = 2ab \\ (a-b)^2 + (a-b) = 6 \end{cases}$$

$$\Leftrightarrow \begin{cases} (a-b) + 5 = 2ab \\ (a-b)^2 - (a-b) = 0 \end{cases}$$

$$\Leftrightarrow \begin{cases} (a-b) + 5 = 2ab \\ (a-b)(a-b-1) = 0 \end{cases}$$

$$\Leftrightarrow \begin{cases} (a-b) + 5 = 2ab \\ a = b \end{cases}$$

$$a) \ a = b$$

$$\begin{cases} 0 + 5 = 2a^2 \\ x+1 = \frac{5}{2} \\ x = \frac{3}{2} \end{cases}$$

$$b) \ a = b$$

$$2a \neq 5$$

$$c) \ a \neq b$$

$$a^2 = \frac{5}{2}$$

$$\begin{cases} a = b - 2 \\ 3 = 2ab \end{cases}$$

$$\begin{cases} a = b - 2 \\ 3 = 2(b-2)b \end{cases}$$

$$\begin{cases} (a-b)^2 + (a-b) - 2 = 0 \\ (a-b) + 5 = 2ab \end{cases}$$

$$\begin{cases} a = b - 2 \\ 3 = 2b^2 - 4b \end{cases}$$

$$\begin{cases} a - b = -2 & a) \\ a - b = 1 & b) \\ (a-b) + 5 = 2ab \end{cases}$$

$$\begin{cases} a = b - 2 \\ 2b^2 - 4b - 3 = 0 \end{cases}$$

$$2b^2 - 4b - 3 = 0 \Rightarrow b = \frac{4 \pm \sqrt{16 + 24}}{4} = \frac{4 \pm \sqrt{40}}{4} = \frac{4 \pm 2\sqrt{10}}{4} = \frac{2 \pm \sqrt{10}}{2}$$

$$b = \frac{2 + \sqrt{10}}{2}$$



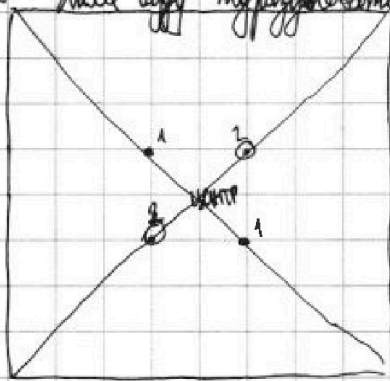
На одной странице можно оформлять только одну задачу. Отметьте крестиком номер задачи, решение которой представлено на странице. Также укажите номер страницы и суммарное количество страниц в решении каждой задачи отдельно.

1 2 3 4 5 6 7

СТРАНИЦА
1 из 1

Если отмечено более одной задачи или не отмечено ни одной задачи, страница считается черновиком и не проверяется. Страницы по каждой из задач нумеруются отдельно. Порча QR-кода недопустима!

Задача 6
либо в 1 группу. Заметим, что при повороте рисунка может перейти либо в 3 группы, либо в 1 группу. Всего узлов $9 \cdot 9 = 81$ Далее будем рассуждать так



под "диагональю" только левую диагональ. Это происходит, когда мы выбираем два узла так, что они лежат на одной диагонали или на разных сторонах от центра. Например, как на картинке $1 \rightarrow 2$. Центральные узлы тоже не входят, потому что $3+3=17$ узлов. Итого способов $\frac{(7-1) \cdot 4}{2} = \frac{8 \cdot 4}{2} = 16$

Почему так? Сначала мы выбираем первый узел: при этом мы можем расст. только одну из 2 диагоналей: способов $\frac{6}{2} = 3$. Вторую точку выбираем на другой стороне или точке 4. И т.д. как не важен порядок выбора делить на 2. Итого: 16

в 3 группы: 1) одна из точек на диагонали (но не в центре): 16 способов выбрать первую точку, вторая точка или не на диагонали (может быть в центре): $81 - 16 = 65$. Итого: $\frac{65 \cdot 16}{2} = 65 \cdot 8 = 520$

2) ни одна из точек не на диагонали: первую точку выбираем $81 - 16 = 65$ способами, вторую 64 способами: итого $\frac{65 \cdot 64}{2} = 65 \cdot 32 = 2080$

значит всего $2080 + 520 + 16 = 2616$ способов



На одной странице можно оформлять только одну задачу. Отметьте крестиком номер задачи, решение которой представлено на странице. Также укажите номер страницы и суммарное количество страниц в решении каждой задачи отдельно.

1 2 3 4 5 6 7

СТРАНИЦА
ИЗ

Если отмечено более одной задачи или не отмечено ни одной задачи, страница считается черновиком и не проверяется. Страницы по каждой из задач нумеруются отдельно. Порча QR-кода недопустима!

$$\begin{array}{r} 2 \\ \times 65 \\ 40 \\ \hline 2600 \end{array}$$

$$\begin{array}{r} 1 \\ \times 65 \\ 32 \\ \hline 130 \\ + 195 \\ \hline 2080 \end{array}$$

$$\begin{array}{r} + 2080 \\ 520 \\ \hline + 2600 \\ 16 \\ \hline 2616 \end{array}$$

65:40

$$\begin{array}{l} \sqrt{\frac{4+\sqrt{13}}{2}} - \sqrt{\frac{7-\sqrt{13}}{2}} = 1 \\ 7 - 2\sqrt{6} = 1 \end{array}$$

$$b = \frac{-1 \pm \sqrt{13}}{2}$$

$$a = \frac{-1 + \sqrt{13} + 2}{2} = \frac{1 + \sqrt{13}}{2}$$

$$x+1 = \frac{1+\sqrt{13}}{2}$$

$$x+1 = \frac{1+13+2\sqrt{13}}{4} = \frac{14+2\sqrt{13}}{4} = \frac{7+\sqrt{13}}{2}$$

$$x = \frac{5+\sqrt{13}}{2}$$

$$\sqrt{\frac{4+\sqrt{13}}{2}} - \sqrt{\frac{12-5-\sqrt{13}}{2}} + 5 =$$

$$= \sqrt{\frac{4+\sqrt{13}}{2}} - \sqrt{\frac{7-\sqrt{13}}{2}} + 5$$

$$2\sqrt{\frac{49-13}{24}} = 6$$

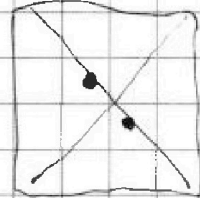

$$\begin{array}{l} \sqrt{\frac{4+\sqrt{13}}{2}} - \sqrt{\frac{7-\sqrt{13}}{2}} = 1 \\ 7 - 2\sqrt{6} = 1 \end{array}$$

$$\begin{cases} a-b+S=2ab \\ a^2+b^2=7 \end{cases}$$

$$\begin{cases} a-b+S=2ab \\ (a-b)^2+2ab=7 \end{cases}$$

$$\begin{cases} (a-b)^2+(a-b)-2=0 \\ ab=3 \end{cases}$$

$$\begin{cases} a-b=1 \\ a-b=-2 \end{cases}$$



$$a=b+1$$

$$\sqrt{x+1} - \sqrt{6-x} + 5 = 2\sqrt{6}$$

$$\begin{cases} a-b+S=2ab \\ a^2+b^2=4 \end{cases}$$

$$\begin{cases} (a-b)^2+2ab=7 \\ \sqrt{3} \end{cases}$$

$$(a-b)^2+(a-b)+S=7$$

$$(a-b)^2+(a-b)-2=0$$

$$\sqrt{3} = 7$$



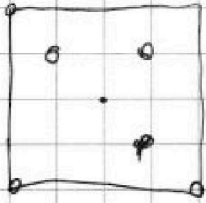
На одной странице можно оформлять только одну задачу. Отметьте крестиком номер задачи, решение которой представлено на странице. Также укажите номер страницы и суммарное количество страниц в решении каждой задачи отдельно.

1 2 3 4 5 6 7

СТРАНИЦА
__ ИЗ __

Если отмечено более одной задачи или не отмечено ни одной задачи, страница считается черновиком и не проверяется. Страницы по каждой из задач нумеруются отдельно. Порча QR-кода недопустима!

Продолжение задачи 5



2+

$$1 - \frac{\sqrt{10}}{2} \approx 0$$

$$2 \sqrt{10}$$

$$a) \begin{cases} a=b-2 \\ 3=2ab \end{cases}$$

$$\begin{cases} a=b-2 \\ 2b^2-4b-3=0 \end{cases}$$

$$D=16+64=80$$

$$b = \frac{4 \pm 2\sqrt{10}}{4}$$

$$6-x = \left(1 - \frac{\sqrt{10}}{2}\right)^2$$

$$6-x = 1 + \frac{10}{4} - \sqrt{10}$$

$$6-x = \frac{17}{2} - \sqrt{10}$$

$$x = \frac{5}{2} + \sqrt{10}$$

1
x 63
16
378
63
1008

$$b_1 = 2$$

$$b_2 = -1$$

$$\sqrt{6-x} = 4$$

$$x = 2$$

16.64

$\sqrt{3}$

+ 1024
74
1098

$$b = -1$$

$$a = -2$$

$$b = -2$$

$$a = -3$$

$$\begin{array}{r} 2032 \\ 72 \\ \hline 2104 \end{array}$$

$$4 = 2ab$$

$$ab = 2$$

$$b(b-1) = 2$$

$$b^2 - b - 2 = 0$$

$$\sqrt{\frac{17}{2} + \sqrt{10}} - \sqrt{\frac{17}{2} - \sqrt{10}} + 5 = 2 \sqrt{\frac{49}{4} - 10}$$

$$\sqrt{\frac{17}{2} + \sqrt{10}} - \sqrt{\frac{17}{2} - \sqrt{10}} = -2$$

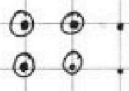
$$2 \sqrt{\frac{9}{4}}$$

$$\frac{17}{2} - \sqrt{10} + \frac{17}{2} - \sqrt{10} = 4$$


$$\frac{17}{2} - \sqrt{10} + \frac{17}{2} + \sqrt{10} - 2 \sqrt{\frac{49}{4} - 10}$$



$$\begin{array}{r} 2032 \\ + 72 \\ \hline 2104 \end{array}$$



3.3



~~2~~

1096
3008
3004

$$\begin{array}{r} 14 \\ 122 \\ 16 \\ \hline 152 \end{array}$$

9.9

81.80

$$16(1+106) \cdot 127$$

$$\begin{array}{r} 2032 \\ \hline 2032 \end{array}$$



На одной странице можно оформлять только одну задачу. Отметьте крестиком номер задачи, решение которой представлено на странице. Также укажите номер страницы и суммарное количество страниц в решении каждой задачи отдельно.

1 2 3 4 5 6 7

СТРАНИЦА
_ _ ИЗ _ _

Если отмечено более одной задачи или не отмечено ни одной задачи, страница считается черновиком и не проверяется. Страницы по каждой из задач нумеруются отдельно. Порча QR-кода недопустима!

$$3 = 9a^2 - 4$$

$$7 = \frac{6-x}{2}$$

$$x = \frac{5}{2}$$

$$\frac{-2}{3} - 3 = -\frac{(2-9)}{3} = -\frac{7}{3}$$

$$\left| -\frac{7}{3} \right| = \frac{7}{3} < 3$$

$$3 \cdot 2 \cdot 3 \cdot 2$$

$$|x-3y| \leq 3$$

$$|3x-y| \leq 1$$

$$\max(4y+8x)$$

$$\begin{cases} (x-3y)^2 = 9 \\ |x-y| \leq 1 \end{cases} \quad \begin{cases} (x-3y-3)(x-3y+3) \leq 0 \\ (3x-y-1)(3x-y+1) \leq 0 \end{cases}$$

$$x^2+2x+1)(x^2+2x-2)$$

$$a(a-3) = a^2 - 3a = 4 + 4x^2 + 1 + 4x^3 + 2x^2 + 4x - 3x^2 - 6x - 3 = x^4 + 4x^3 + 3x^2 - 2x - 2$$

$$\begin{cases} x-3y \leq 3 \\ x-3y \geq 3 \end{cases}$$

$$\begin{cases} 3x-y \leq 1 \\ 3x-y \geq -1 \end{cases}$$

$$x+1 = 6-x$$

$$2x = 5$$

$$x = \frac{5}{2}$$

$$x-3y = 3 \quad | \cdot 3$$

$$3x-y = -1$$

$$\begin{cases} -3 \leq x-3y \leq 3 \\ -1 \leq 3x-y \leq 1 \end{cases} \quad | -3$$

$$\begin{cases} -9 \leq 9y-3x \leq 9 \\ -1 \leq 3x-y \leq 1 \end{cases}$$

$$\begin{cases} -8y = 8 \\ y = -1 \end{cases}$$

$$x = y = \frac{-1+4}{3} = \frac{2}{3}$$

$$\frac{11^6}{2} - \frac{11}{12} =$$

$$-6 \leq 8x \leq 6$$

$$-11 \leq 8x+4y \leq 11$$

$$8x+4y = 11$$

$$4(2x+y) = 11$$

$$2x+y = \frac{11}{4}$$

$$y = \frac{11}{12}$$

$$2x = \frac{11}{4} - \frac{11}{12} = \frac{33}{12} - \frac{11}{12} = \frac{22}{12} = \frac{11}{6}$$

$$x = \frac{11}{6}$$

$$\frac{11}{12} + \frac{11}{6} = \frac{33}{12} + \frac{22}{12} = \frac{55}{12}$$

$$\frac{11}{12}$$

$$\frac{11}{12}$$

$$\frac{33}{12} = \frac{11}{4}$$

$$x+1 = 6-x$$

$$2x = 5$$

$$x = \frac{5}{2}$$



На одной странице можно оформлять только одну задачу. Отметьте крестиком номер задачи, решение которой представлено на странице. Также укажите номер страницы и суммарное количество страниц в решении каждой задачи отдельно.

1 2 3 4 5 6 7

СТРАНИЦА
из

Если отмечено более одной задачи или не отмечено ни одной задачи, страница считается черновиком и не проверяется. Страницы по каждой из задач нумеруются отдельно. Порча QR-кода недопустима!

$$\begin{aligned} a_3 = a_1 &= 3x+3 \\ a_5 = a_3 &= (x^2+2x)^2 = 3x+3+2d \\ a_9 = a_7 &= 3x^2 = 3x+3+6d \end{aligned}$$

$$\begin{cases} 3x^2 - (x^2+2x)^2 = 4d \\ 3x^2 - 3x - 3 = 6d \end{cases}$$

$$\begin{cases} 3x^2 - (x^2+2x)^2 = 4d \\ x^2 - x - 1 = 2d \quad | \cdot 2 \end{cases}$$

$$\begin{aligned} 3x^2 - (x^2+2x)^2 &= 2x^2 - 2x - 2 \\ x^2 - x^4 - 4x^3 - 4x^2 + 2x + 2 &= 0 \\ x^4 - 4x^3 - 3x^2 + 2x + 2 &= 0 \end{aligned}$$

$$x^4 - 4x^3 - 3x^2 + 2x + 2$$

$$\begin{aligned} & -3\sqrt{3} \\ & 12+6\sqrt{3} \end{aligned}$$

$$\begin{cases} 3x^2 - 3x - 3 = 6d \\ (x^2+2x)^2 - 3x - 3 = 2d \quad | \cdot 3 \end{cases}$$

$$\begin{cases} x^2 - x - 1 = 2d \\ (x^2+2x)^2 - 3x - 3 = 2d \end{cases}$$

$$\begin{aligned} x^2 - x - 1 &= (x^2+2x)^2 - 3x - 3 \\ x^4 + 4x^3 + 4x^2 - 2x - 2 - x^2 &= 0 \\ x^4 + 4x^3 + 3x^2 - 2x - 2 &= 0 \end{aligned}$$

$$\begin{array}{c|ccc|cc} x^4 & 4 & 3 & -2 & -2 \\ -1 & 1 & 3 & 0 & -2 & 0 \\ -1 & 1 & 2 & -2 & 0 & \end{array}$$

$$x^2 + 2x - 2 = 0$$

$$16 + 16 + 3\sqrt{3}$$

$$\begin{aligned} D &= 4 + 8 = 12 \\ x &= \frac{-2 \pm 2\sqrt{3}}{2} = -1 \pm \sqrt{3} \end{aligned}$$

$$\begin{aligned} D &= \frac{16+3\sqrt{3}}{4} \\ &= \frac{-3\sqrt{3}}{4} \end{aligned}$$

$$\begin{aligned} D &= \frac{16+3\sqrt{3}}{4} \\ &= \frac{-3\sqrt{3}}{4} \end{aligned}$$

$$a_3 = -1 - \sqrt{5} + 3 = -3\sqrt{5}$$

$$a_9 = 3(1+\sqrt{5})^2 = 3 + 6\sqrt{5} + 15 = 18 + 6\sqrt{5}$$

$$a_5 = (x(x+2))^2 = (1+\sqrt{5})^2(-\sqrt{5}+1)^2 =$$

$$= (1-5)^2 = 16$$

$$\begin{aligned} \sqrt{x+1} - \sqrt{6-x} + S &= 2\sqrt{6+5x-x^2} \\ x^4 + 5x^2 - \sqrt{y} &= y^4 - \sqrt{x+5y^2} \end{aligned}$$

$$x^4 - y^4 = S(y^2 - x^2) + (\sqrt{y} - \sqrt{x})$$

$$\begin{aligned} (x^2 - y^2)(x^2 + y^2) &= S(y^2 - x^2) + (\sqrt{y} - \sqrt{x}) \\ 0 &= (\sqrt{y} - \sqrt{x})(\sqrt{y} + \sqrt{x})(x+y)(x^2+y^2) + S(x+y)(\sqrt{y} - \sqrt{x})(\sqrt{y} + \sqrt{x}) \end{aligned}$$

$$0 = (\sqrt{y} - \sqrt{x})(\sqrt{y} + \sqrt{x})(x+y)(x^2+y^2) - S(x+y)(\sqrt{x} + \sqrt{y}) + 1$$

$$\sqrt{y} = \sqrt{x} \quad (\sqrt{x} + \sqrt{y})(x+y)(x^2+y^2) = -1$$

$$\sqrt{x+1} + \sqrt{6-x} + S = 2\sqrt{6+5x-x^2}$$

$$(x+1)(6-x) = 6x - x^2 + 6 - x$$

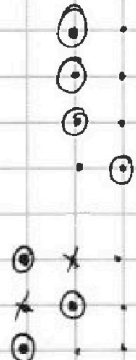
$$\begin{cases} a+b+S = 2ab \\ a^2+b^2 = S \end{cases}$$

$$(a+b)^2 - a - b - S = S$$

$$(a+b)^2 - (a+b) = 10 - 1 - \sqrt{3}$$

$$(a+b)(a+b-1) = 10$$

$$D^2 - 0 - 10 = 0$$



$$\begin{aligned} & (-1-\sqrt{5})(-1+\sqrt{5}) = \\ & = (-1-\sqrt{5})(\sqrt{5}+1) = \\ & = -2\sqrt{5} \end{aligned}$$

$$\begin{aligned} (1+\sqrt{5})^4 &= (6+2\sqrt{5})^2 = \\ &= 36 + 24\sqrt{5} + 20 = 56 + 24\sqrt{5} \end{aligned}$$

$$-1 - \sqrt{5}$$

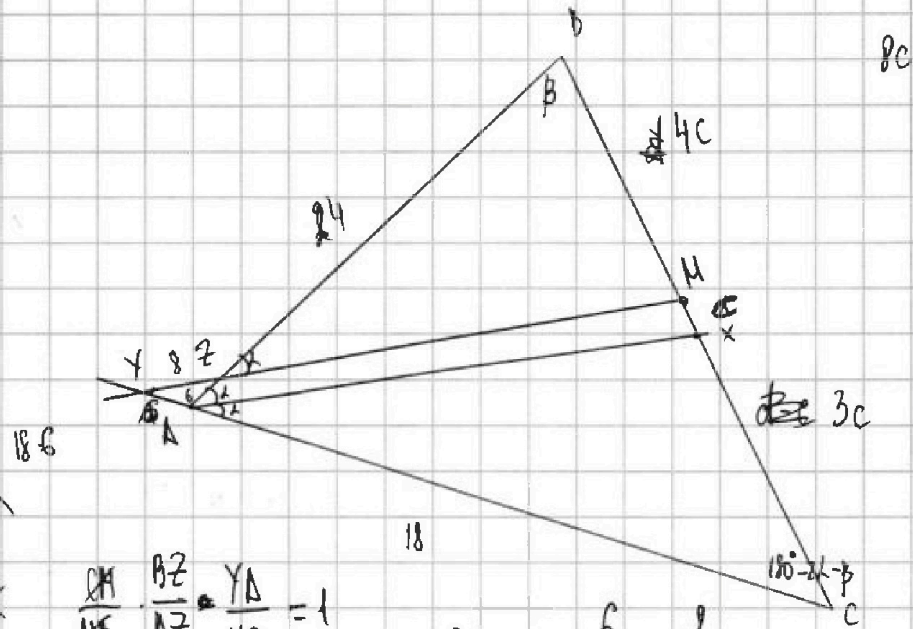
На одной странице можно оформлять только одну задачу. Отметьте крестиком номер задачи, решение которой представлено на странице. Также укажите номер страницы и суммарное количество страниц в решении каждой задачи отдельно.



- 1 2 3 4 5 6 7

СТРАНИЦА
из

Если отмечено более одной задачи или не отмечено ни одной задачи, страница считается черновиком и не проверяется. Страницы по каждой из задач нумеруются отдельно. Порча QR-кода недопустима!



$$(\sqrt{y-x})(\sqrt{y+x})(x+y)(x^2+y^2) + 5(\sqrt{y+x})(x+y) = 0$$

$$\frac{BM}{AB} \cdot \frac{BZ}{AZ} = \frac{YA}{YC} = 1$$

$$\frac{6}{18-d} = 1$$

$$\frac{6}{8} \cdot \frac{6}{18-d} = 1$$

$d = 24$

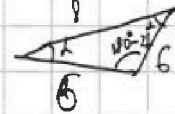
$$24^2 + 18^2 + 4 \cdot 24$$

$$24 \cdot 18 + 18^2$$

$$3 \cdot 2^3 \cdot 2^2 \cdot 7 \quad 3^4 \cdot 2^2$$

$$2^5 \cdot 3 \cdot 7 + 2^2 \cdot 3^4 = 576 + 216 = 792$$

$$2^2 \cdot 3 \cdot (8 \cdot 7 + 27) = 4 \cdot 3 \cdot 83$$



$$\frac{30}{d+c} = \frac{18}{d-c}$$

$$30d - 30c = 18d + 18c$$

$$12d = 48c$$

$$d = 4c$$

$$\frac{6}{6} = \frac{9}{2 \cosh k}$$

$$2 \cosh k = 8$$

$$3 \cosh k = 2$$

$$\cosh k = \frac{2}{3}$$

$$\cos 2k = 2 \cdot \frac{4}{9} - 1 = -\frac{1}{9}$$

$$\cos 2k = \frac{4}{9} - \frac{5}{9} = -\frac{1}{9}$$

$$24^2 + 18^2 + 2 \cdot \frac{1}{9} \cdot 24 \cdot 18 = 792$$

$$\begin{array}{r} +576 \\ +216 \\ \hline 792 \end{array}$$

$$111 \cdot 8 = 888$$



На одной странице можно оформлять только одну задачу. Отметьте крестиком номер задачи, решение которой представлено на странице. Также укажите номер страницы и суммарное количество страниц в решении каждой задачи отдельно.

1 2 3 4 5 6 7

СТРАНИЦА
__ ИЗ __

Если отмечено более одной задачи или не отмечено ни одной задачи, страница считается черновиком и не проверяется. Страницы по каждой из задач нумеруются отдельно. Порча QR-кода недопустима!

$$\Delta = (m+n)^2 - 9(m+n) = (m+n)(m+n-9)$$

$$1) \frac{(m+n)(m+n-9)}{mn(m+n-3)} = \frac{13p^2}{5^2 \cdot 3 \cdot q^2}$$

$$m+n = \frac{m-2}{n-2} \cdot \frac{m-4}{n-2}$$

$$\frac{m-2}{n-2} \cdot \frac{m-4}{n-2} = \frac{mn-2}{(m+n)-2}$$

$$\frac{m-2}{n-2} \cdot \frac{m-4}{n-2} = \frac{mn-2}{m+n-2}$$

$$1) \frac{(m+n)(m+n-9)}{mn(m+n-3)} = \frac{13 \cdot 4}{5^2 \cdot 3 \cdot 4}$$

$$2) \frac{m-4}{n-4} = \frac{(m+n)-2}{mn(m+n-3)}$$

$$a(a-9) = 2^2 \cdot 13$$

$$b(a-3) = 2^2 \cdot 3 \cdot 5^2$$

$$a(a-9) = 13 \cdot 4$$

$$a_1 = 13 \quad b \cdot 10 = 5^2 \cdot 3 \cdot q^2$$

$$a_2 = -4 \quad -7mn = 5^2 \cdot 3 \cdot q^2$$

$$a^2 - 9a - 52 = 0$$

$$10b = 2^2 \cdot 5^2 \cdot 3$$

$$a_1 = 13 \rightarrow b = 30$$

$$a_2 = -4 \rightarrow -7mn = 2^2 \cdot 3 \cdot 5^2$$

$$m+n=13$$

$$mn=30$$

m=3	m=10
n=10	n=3

$$\begin{array}{r} 3 \\ \times 25 \\ \hline 150 \\ \hline 225 \\ \hline 750 \end{array}$$

$$(m+n)(m+n-9) = 45 \cdot 4$$

$$a^2 - 9a - 45 \cdot 4 = 0$$

$$D = 81 + 45 \cdot 16 = 3(27 + 95 \cdot 16) = 3 \cdot 427$$



На одной странице можно оформлять **только одну** задачу. Отметьте крестиком номер задачи, решение которой представлено на странице. Также укажите номер страницы и суммарное количество страниц в решении каждой задачи отдельно.

1 2 3 4 5 6 7

СТРАНИЦА
__ ИЗ __

Если отмечено более одной задачи или не отмечено ни одной задачи, страница считается черновиком и не проверяется. Страницы по каждой из задач нумеруются отдельно. Порча QR-кода недопустима!

$$\begin{aligned} x - 3y &= 3 \\ -3x + y &= 1 \\ -2x - 2y &= 4 \\ x + y &= -2 \end{aligned}$$

$$\begin{aligned} 4(2x + y) &= 11 \\ 2x + y &= \frac{11}{4} \end{aligned}$$

$$x = \frac{11}{4} + 2 = \frac{19}{4}$$

$$\begin{cases} x + y = -2 \\ 2x - y = 3 \end{cases}$$

$$\begin{aligned} 3x - y &= 1 \\ x - 3y &= 3 \end{aligned}$$

$$\begin{aligned} 3x - y &= 1 \\ 3x - 9y &= 9 \end{aligned}$$

$$4y = -5$$

$$y = -\frac{5}{4}$$

$$x = -2 + \frac{5}{4} = -\frac{3}{4}$$

$$-\frac{3}{4} + \frac{15}{4} = \frac{12}{4} = 3$$

$$-\frac{9}{4} + \frac{5}{4} = 1$$

$$\begin{aligned} 2y &= 8 \\ y &= 4 \end{aligned}$$

$$\frac{5}{4} \cdot 8 = \frac{3}{4} \cdot x$$

$$\frac{9}{4} - \frac{5}{4} = \frac{4}{4}$$

$$\frac{3}{4} - \frac{15}{4} =$$

$$\begin{array}{r} 6 \\ +18 \\ \hline 144 \\ 18 \\ \hline 324 \end{array}$$

$$900 + 324 + 120$$

$$30 \cdot 34$$

$$\frac{421}{16} \cdot \frac{1}{6}$$

$$\frac{4 \cdot 56}{224}$$

$$\begin{array}{r} 1344 \\ -128 \\ \hline 164 \end{array} \Bigg| \frac{64}{24}$$

$$\begin{array}{r} 1020 \\ +324 \\ \hline 1344 \end{array}$$

$$\begin{array}{r} 12 \\ 224 \\ +6 \\ \hline 1344 \end{array}$$

$$\begin{array}{r} 224 \\ -20 \\ \hline 24 \end{array} \Bigg| \frac{14}{152}$$

$$4 \cdot 8 \cdot 7$$

$$18$$

