



МОСКОВСКИЙ
ФИЗИКО-ТЕХНИЧЕСКИЙ
ИНСТИТУТ

ОЛИМПИАДА "ФИЗТЕХ"
ПО МАТЕМАТИКЕ

10 КЛАСС. Вариант 6



1. [3 балла] Второй член арифметической прогрессии равен $12 - 12x$, четвёртый член равен $(x^2 + 4x)^2$, а восьмой равен $(-6x^2)$. Найдите x .

2. [4 балла] Найдите наименьшее значение выражения $10x + 5y$ при условии

$$\begin{cases} |2x - 3y| \leq 6, \\ |3x - 2y| \leq 4. \end{cases}$$

3. [5 баллов] Найдите все пары (m, n) натуральных чисел, для которых одно из чисел $A = m^2 - 4mn + 4n^2 + 13m - 26n$ и $B = m^2n - 2mn^2 - 2mn$ равно $17p^2$, а другое равно $15q^2$, где p и q — простые числа.

4. [5 баллов] Прямая, параллельная биссектрисе AH треугольника ABC , проходящая через середину M его стороны BC , пересекает сторону AC и продолжение стороны AB в точках Z и Y соответственно. Найдите BC , если $AC = 18$, $AZ = 6$, $YZ = 8$.

5. [4 балла] Решите систему уравнений

$$\begin{cases} \sqrt{x+4} - \sqrt{3-y} + 5 = 2\sqrt{12-x-y^2}, \\ 2x^5 + 4x^2 - \sqrt[3]{3y} = 2y^5 - \sqrt[3]{3x+4y^2}. \end{cases}$$

6. [4 балла] На тетрадном листе нарисован квадрат 7×7 клеток (стороны квадрата идут вдоль границ клеток), а все узлы сетки внутри квадрата или на его границе покрашены в чёрный цвет. Найдите количество способов перекрасить два узла в белый цвет, если раскраски, получающиеся друг из друга поворотом, считаются одинаковыми.

7. [6 баллов] В треугольнике ABC на медиане AM и биссектрисе CL как на диаметрах построены окружности Ω и ω соответственно, пересекающиеся в точках P и Q . Отрезок PQ параллелен высоте треугольника ABC , проведённой из вершины B . Окружность Ω пересекает сторону AC повторно в точке N . Найдите длины сторон AC и BC , если $AB = 6$, $AN = 5$.

На одной странице можно оформлять только одну задачу. Отметьте крестиком номер задачи, решение которой представлено на странице. Также укажите номер страницы и суммарное количество страниц в решении каждой задачи отдельно.

1 2 3 4 5 6 7

СТРАНИЦА
1 ИЗ 1

Если отмечено более одной задачи или не отмечено ни одной задачи, страница считается черновиком и не проверяется. Страницы по каждой из задач нумеруются отдельно. Порча QR-кода недопустима!



№ 2

$$\begin{cases} |2x - 3y| \leq 6 \\ |3x - 2y| \leq 4 \end{cases}$$

\Leftrightarrow

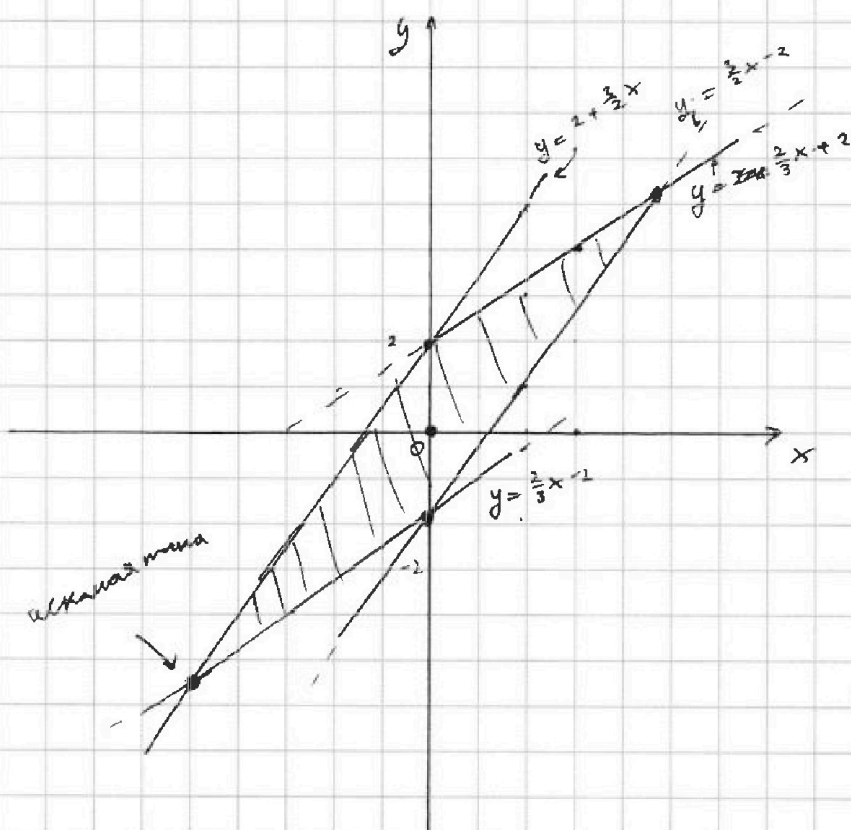
$$\begin{cases} 3y \leq 2x \\ 3y \leq 6 - 2x \\ 3y \geq 2x - 6 \\ 3y \geq 2x - 6 \end{cases}$$

$$\begin{cases} 2x - 3y \leq 6 & (1) \\ 2x - 3y \geq -6 & (2) \\ 3x - 2y \leq 4 & (3) \\ 3x - 2y \geq -4 & (4) \end{cases}$$

$$(1) \quad \begin{cases} 3y \geq 6 - 2x \\ y \geq \frac{2}{3}x - 2 \end{cases} \quad (3) \quad y \geq \frac{2}{3}x - 2$$

$$(2) \quad \begin{cases} 3y \leq 2x + 6 \\ y \leq \frac{2}{3}x + 2 \end{cases} \quad (4) \quad y \leq \frac{2}{3}x + 2$$

Изобразим точки, задан. системе на XOY



$$\min(10x + 5y) =$$

данный задачу

или можем по

отг. $\min x$ и $\min y$,

т.к. в закрашенной

области (x, y) в какой-то

точке системы есть

точка с наименьшим x

и наим. y :

наименьший $y = \frac{2}{3}x - 2$

и $y = \frac{2}{3}x + 2$:

$$\frac{2}{3}x - 2 = \frac{2}{3}x + 2$$

$$-4 = \frac{5}{3}x$$

$$x = \frac{-24}{5} \quad y = \frac{2}{3}x + 2 = \frac{-26}{5}$$

$$\text{тогда } \min(10x + 5y) =$$

$$= 10 \cdot \frac{-24}{5} + 5 \cdot \frac{-26}{5} =$$

$$= -48 - 26 = -74$$

Ответ: -74 .



На одной странице можно оформлять только одну задачу. Отметьте крестиком номер задачи, решение которой представлено на странице. Также укажите номер страницы и суммарное количество страниц в решении каждой задачи отдельно.

1 2 3 4 5 6 7

СТРАНИЦА
1 ИЗ 1

Если отмечено более одной задачи или не отмечено ни одной задачи, страница считается черновиком и не проверяется. Страницы по каждой из задач нумеруются отдельно. Порча QR-кода недопустима!

№ 4

Решение

$$AC = 12$$

$$AZ = 6$$

$$YZ = 6$$

AX - биссектриса $\triangle ABC$

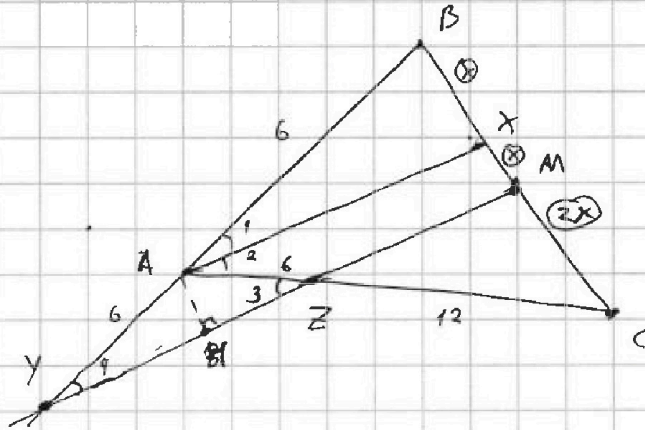
$$YM \parallel AX$$

$$BM = MC$$

$$Z \in AC$$

$$Y \in (AB)$$

$$BE = ?$$



(1) $\angle 3 = \angle 2$ (напр.-лежа)

(2) $\angle 1 = \angle 4$ (свойств \angle биссектрисы $AX \parallel YM$)

(3) $\angle YAZ = \pi/2$ по 2 $\angle 2 = \angle 4 = \angle 3$

(4) $\Rightarrow YA = AZ = 6$

(5) $ZC = AC - AZ = 12$

(8) M - середина $BC \Rightarrow BM = MC$
 $MX = X$

(9) по т. Понсева при $\angle YBC$

$AX \parallel ZM$

$$\frac{YA}{AB} = \frac{BX}{XM} = 1 \Rightarrow AB = 6$$

(10) гон. построение $AX \perp YZ$

(11) AM - высота в $\pi/2$ $\triangle AME$

$$\Rightarrow \pi Z = YM = \frac{1}{2} YZ = 4$$

$$\cos \angle 3 = \frac{4}{6} = \frac{2}{3}$$

$\angle 3 < 180^\circ$, тогда

$$\sin \angle 3 = \sqrt{1 - \left(\frac{2}{3}\right)^2} = \frac{\sqrt{5}}{3}$$

(6) по т. Понсева при $\angle ACB$ и

$AX \parallel ZM$

$$\frac{ZC}{AZ} = \frac{MC}{XM}$$

"2

(7) $\Rightarrow XM = X$, тогда $MC = 2X$

(12) $\cos \angle BAC = \cos 2 \cdot \angle 2 =$
 $= \cos 2 \cdot \angle 3 = \cos^2 \angle 3 - \sin^2 \angle 3 =$
 $= \frac{4}{9} - \frac{5}{9} = -\frac{1}{9}$

(13) по т. кос для $\triangle ABC$:

$$BC^2 = AB^2 + AC^2 - 2 \cos \angle BAC \cdot AB \cdot AC$$

$$BC = \sqrt{36 + 144 + 2 \cdot \frac{1}{9} \cdot 12 \cdot 6} = \sqrt{36 + 324 + 24}$$

$$= \sqrt{384} = \sqrt{4 \cdot 9 \cdot 4 \cdot 6} = 8\sqrt{6}$$

Ответ: $8\sqrt{6}$



На одной странице можно оформлять только одну задачу. Отметьте крестиком номер задачи, решение которой представлено на странице. Также укажите номер страницы и суммарное количество страниц в решении каждой задачи отдельно.

1 2 3 4 5 6 7

СТРАНИЦА
1 ИЗ 2

Если отмечено более одной задачи или не отмечено ни одной задачи, страница считается черновиком и не проверяется. Страницы по каждой из задач нумеруются отдельно. Порча QR-кода недопустима!

$n=5$

$$\begin{cases} \sqrt{x+4} - \sqrt{3-y} + 5 = 2\sqrt{12-xy} & (1) \\ 2x^5 + 9x^2 - \sqrt[4]{3y} = 2y^5 - \sqrt[4]{3x} + 4y^2 & (2) \end{cases}$$

$$(2): 2x^5 + 9x^2 - \sqrt[4]{3x} = 2y^5 + 4y^2 + \sqrt[4]{3y}$$

Возьмем $f(x)$

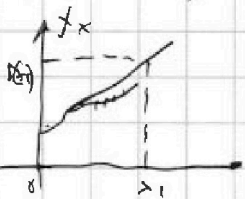
$$(2): f(x) = f(y) \quad D_f: x \geq 0 \quad \text{на всей } D:$$

$$2x^5 - \sqrt[4]{3x} \uparrow \text{ f-функция (на } D)$$

$(1) x^2 - \sqrt[4]{3x} \uparrow \text{ f-функция (на } D) \Rightarrow$ функция возрастающих - f-функция возрастающая

$$9\sqrt{3x} - \sqrt[4]{3x} \uparrow \text{ f-функция (на } D_f)$$

\Rightarrow на D_f значения функций принимают только при \pm значении аргумента, т.е. единоразу. Значит из (2) $\Rightarrow x=y$ и $\text{гор. прямая на } x$



$$D_f: \begin{cases} x+4 \geq 0 \\ 3-x \geq 0 \\ x \geq 0 \end{cases} \rightarrow \begin{cases} x \geq -4 \\ x \leq 3 \\ x \geq 0 \end{cases} \quad x \in [0; 3]$$

$$(1): \sqrt{x+4} - \sqrt{3-x} + 5 = 2\sqrt{12-xy} \quad \text{при } x=y$$

$$\sqrt{x+4} - \sqrt{3-x} + 5 = 2\sqrt{12-x-x^2} - 5 \quad |^2$$

$$f \neq 2\sqrt{(x+4)(3-x)} = 4(3-x)(x+4) - 20\sqrt{(3-x)(x+4)} + 25$$

$$18\sqrt{(3-x)(x+4)} = 4(3-x)(x+4) + 18 \quad | :2$$

замена: $9\sqrt{(3-x)(x+4)} = 2(3-x)(x+4) + 9$

$$Jf = \sqrt{(3-x)(x+4)} \quad t \geq 0$$

$$9t = 2t^2 + 9$$

$$2t^2 - 9t + 9 = 0$$

$$D = 81 - 72 = 9 \quad t_1 = \frac{9+3}{4} \quad t_2 = \frac{9-3}{4}$$

$$t_1 = 3 \quad t_2 = \frac{3}{2}$$

Одр. зам.

$$\begin{aligned} \sqrt{(3-x)(x+4)} &= 3 \\ 12-x-x^2 &= 9 \\ x^2+x+24 &= 0 \\ D &= 1+12=13 \\ x &= \frac{-1 \pm \sqrt{13}}{2} \end{aligned}$$

$$\begin{aligned} \sqrt{x+4} - \sqrt{3-x} &> 0 \\ \sqrt{x+4} &> \sqrt{3-x} \\ \min \sqrt{x+4} &= 2 \text{ (на } D) \\ \max \sqrt{3-x} &= \sqrt{3} \text{ (на } D) \\ \Rightarrow \sqrt{x+4} &> \sqrt{3-x} \\ \text{при } \text{люб. } x \in D \end{aligned}$$

$$\begin{aligned} 2\sqrt{12-x-x^2} &\geq 5 \\ 12-x-x^2 &\geq \frac{25}{4} \\ x^2+x-23 &\geq 0 \\ x &\leq -6 \end{aligned}$$

Решения



На одной странице можно оформлять только одну задачу. Отметьте крестиком номер задачи, решение которой представлено на странице. Также укажите номер страницы и суммарное количество страниц в решении каждой задачи отдельно.

1 2 3 4 5 6 7

СТРАНИЦА
2 ИЗ 2

Если отмечено более одной задачи или не отмечено ни одной задачи, страница считается черновиком и не проверяется. Страницы по каждой из задач нумеруются отдельно. Порча QR-кода недопустима!

Отв. записи

$$\sqrt{(3-x)(x+4)} = 3$$

$$12 - x - x^2 = 9$$

$$x^2 + x - 3 = 0$$

$$D = 13$$

$$x_1 = \frac{-1 - \sqrt{13}}{2} < 0 \text{ ПК}$$

$$x_2 = \frac{-1 + \sqrt{13}}{2} \oplus$$

$$\sqrt{(3-x)(x+4)} = \frac{3}{2}$$

$$\text{Решение: } 12 - x - x^2 = \frac{9}{4} \quad | \cdot 4$$

$$4x^2 + 4x - 39 = 0$$

$$D = 16 + 16 \cdot 39 = 16 \cdot 40 = (8\sqrt{10})^2$$

$$x_1 = \frac{-4 - 8\sqrt{10}}{8} < 0 \text{ ПК}$$

$$x_2 = \frac{-4 + 8\sqrt{10}}{8} = -\frac{1}{2} + \sqrt{10} \oplus \text{ ПК}$$

Проверка

$$\sqrt{2,96} < \sqrt{13} < \sqrt{3,69}$$

$$3,6 < \sqrt{13} < 3,7 \quad | -2$$

$$2,6 < \sqrt{13} - 1 < \sqrt{3,7} \quad | /2$$

$$1,3 < \frac{\sqrt{13} - 1}{2} < 1,35 \oplus$$

$$\sqrt{9,61} < \sqrt{10} < \sqrt{10,24}$$

$$3,1 < \sqrt{10} < 3,2 \quad | -0,5$$

$$2,6 < \sqrt{10} - \frac{1}{2} < 2,7 \oplus$$

Проверка р-оси: *

$$\text{① } 2\sqrt{12-x-x^2} - 5 = 1 > 0$$

$$\sqrt{x+4} - \sqrt{3-x} > 0$$

Проверка р-оси *

$$\text{① } 2\sqrt{12-x-x^2} - 5 = 1 > 0$$

при $t=3$

Ответ: $x = \frac{-1 + \sqrt{13}}{2}$

$$\text{② } 3 - 5 < 0$$

$$2\sqrt{12-x-x^2} - 5 < 0$$

$$\sqrt{x+4} - \sqrt{3-x}$$

$$\text{② } 2\sqrt{12-x-x^2} - 5 < 0$$

при $t = \frac{3}{2}$



На одной странице можно оформлять **только одну** задачу. Отметьте крестиком номер задачи, решение которой представлено на странице. Также укажите номер страницы и суммарное количество страниц в решении каждой задачи отдельно.

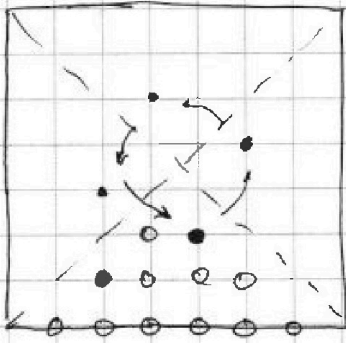
1 2 3 4 5 6 7

СТРАНИЦА
1 ИЗ 1

Если отмечено более одной задачи или не отмечено ни одной задачи, страница считается черновиком и не проверяется. Страницы по каждой из задач нумеруются отдельно. Порча QR-кода недопустима!

№ 6

Рассмотрим 1 сектор диаграммы:



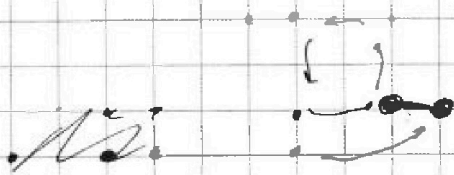
Введем 2 узла из 12 в этом секторе. Каждый такую вариацию соответствует еще 4 варианта без возврата.
(Вариант одного узла вокруг центра)



2 узла зафиксированы, а мы


также будем его поворачивать у нас получится вар-ты, переходящие друг в друга поворотом.

$$\frac{12 \cdot 11}{2} = 4$$



(допустим только 2-го типа. можно получить пов. пов.)


Рассмотрим диагонали:



для каждой (1) на диаг. введем ее внутри сектора, зафиксируем (1) поворот. 2 и получим 4 вар.

$$12 \cdot 8 = 4$$

Возьмем 2 точки с диагонали.



Окажется

$$C_2^8 \cdot 4 = \frac{8 \cdot 7}{2} \cdot 4$$

Суммируем

$$\frac{12 \cdot 11}{2} \cdot 4 + \text{или } 12 \cdot 8 \cdot 4 + \frac{8 \cdot 7}{2} \cdot 4 = 744$$

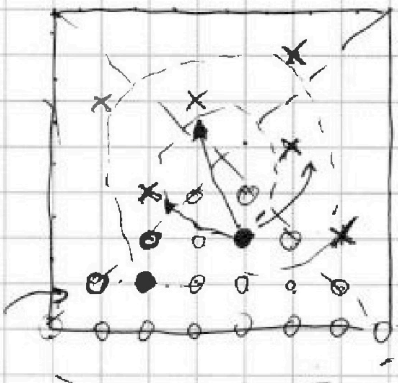


На одной странице можно оформлять только одну задачу. Отметьте крестиком номер задачи, решение которой представлено на странице. Также укажите номер страницы и суммарное количество страниц в решении каждой задачи отдельно.

1 2 3 4 5 6 7

СТРАНИЦА
из

Если отмечено более одной задачи или не отмечено ни одной задачи, страница считается черновиком и не проверяется. Страницы по каждой из задач нумеруются отдельно. Порча QR-кода недопустима!



$$\sqrt{x+9} + 5 = 10 + \frac{1}{2} - \frac{1}{4}$$

$$9 - 4 + 5 + 2 + 3 = 14$$

$$16$$

$$20 \cdot 19 = \frac{20 \cdot 19}{2} \cdot 4 \cdot 3$$

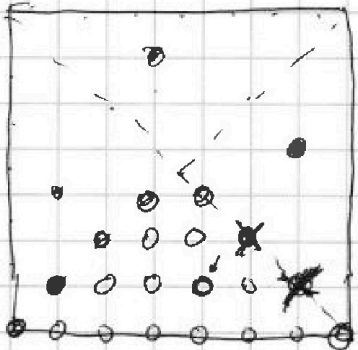
$$4 \cdot 12 \cdot 8 = 4 \cdot 4 \cdot 4 \cdot 6$$

$$4 \cdot 3$$

$$4 \cdot 3 \cdot 2 \cdot 1 = 24$$

$$6 \cdot 11 \cdot 4 + 12 \cdot 8 \cdot 4 + 6 \cdot 4 = 324 + 36 + 24 = 384$$

$$B = 384$$



$$C_{20}^2 = \frac{20 \cdot 19}{2} \cdot 4 \cdot 3$$

$$C_{12}^2 \cdot 4 = 6 \cdot 4 (11 + 16 + 4)$$

$$C_4^2 \cdot 4 = 4 \cdot 4 = 16$$

$$\sin \alpha = \frac{5}{3}$$

$$\cos \alpha = \frac{4}{3} = \frac{2}{3}$$

$$12 - x - x^2 = 10$$

$$x^2 + x - 2 = 0$$

$$D = 1 + 8 = 9$$

$$x = \frac{-1 \pm 3}{2}$$

$$x = 1$$

$$\sqrt{36 + 144 - 2 \cos 2\alpha}$$

$$\cos 2\alpha = \cos^2 \alpha - \sin^2 \alpha = \frac{4}{9} - \frac{5}{9} = -\frac{1}{9}$$

$$\sqrt{136} = 18$$

$$180 + 2 \cdot \frac{1}{9} \cdot 18$$

$$180 + 4 = 184$$

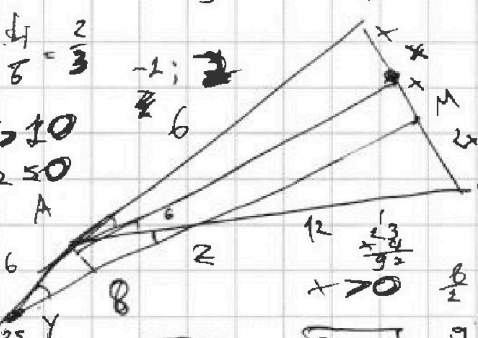
$$12 - x - x^2 = 25$$

$$48 - x - x^2 = 25$$

$$x^2 + x - 23 = 0$$

$$D = 1 + 92 = 93$$

$$x = \frac{-1 \pm \sqrt{93}}{2}$$



$$12 - x - x^2 = 25$$

$$x^2 + x - 23 = 0$$

$$D = 1 + 92 = 93$$

$$x = \frac{-1 \pm \sqrt{93}}{2}$$



На одной странице можно оформлять только одну задачу. Отметьте крестиком номер задачи, решение которой представлено на странице. Также укажите номер страницы и суммарное количество страниц в решении каждой задачи отдельно.

- 1 2 3 4 5 6 7

СТРАНИЦА
ИЗ

Если отмечено более одной задачи или не отмечено ни одной задачи, страница считается черновиком и не проверяется. Страницы по каждой из задач нумеруются отдельно. Порча QR-кода недопустима!

$$2x^5 + 4x^2 + 4\sqrt{3}x^4 = 2y^5 + 4y^2 + 4\sqrt{3}y^4 \quad x > 0$$

(12) - максим. при равенстве x и y из a, b x и y максим. \neq зная

$$\Rightarrow x = y$$

$$\sqrt{x+4} - 8\sqrt{3} + 5 = 2\sqrt{12-x-x^2}$$

$$a - b + 5 = 2ab$$

$$a^2 - 2ab + b^2 = 4ab^2 - 20ab + 25$$

$$a^2 + b^2 = 4ab^2 - 18ab + 25$$

$$a^2 - 2ab - b^2 = -5$$

$$a^2 + b^2 - 4a^2b^2 + 25 = -18ab$$

$$a^2(1-4b^2) + b^2(1-a^2) +$$

$$a^2 - 2ab + b^2 - 4a^2b^2 + 18ab - 25$$


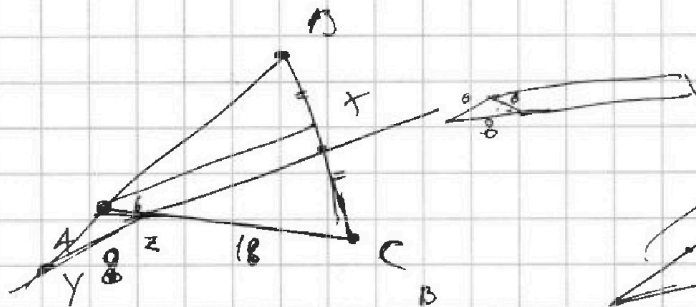
$$a^2(1-4b^2) + a(18b) - 25 + b^2$$

$$256b^2 - 4(b^2-25)(1-4b^2) = 256b^2 - 4b^2 + 16b^2 + 100 - 900b^4$$

$$232b^2 + 100$$

$$-1000b^4 + 268b^2 + 100$$

$$\begin{array}{r} 1000 \\ -256 \\ \hline 744 \\ -12 \\ \hline 732 \end{array}$$



BC-2

$$\frac{AC}{AB} = \frac{CX}{BX}$$

$$\frac{18}{AB} = \frac{CX}{BX}$$


$$\frac{AB}{AX} = \frac{BX}{XM}$$

$$\frac{AB}{6} = \frac{BX}{XM}$$

$$\frac{AB}{18} = \frac{BX}{MX}$$

$$3 = \frac{CX}{XM}$$

OS = (2/3)



$$\frac{8-4}{3y} = 2$$

$$8-y=6y$$

$$y = \frac{2}{5}$$



На одной странице можно оформлять только одну задачу. Отметьте крестиком номер задачи, решение которой представлено на странице. Также укажите номер страницы и суммарное количество страниц в решении каждой задачи отдельно.

1 2 3 4 5 6 7

СТРАНИЦА
_ ИЗ _

Если отмечено более одной задачи или не отмечено ни одной задачи, страница считается черновиком и не проверяется. Страницы по каждой из задач нумеруются отдельно. Порча QR-кода недопустима!

C_1
 C_2

$2x - 3y \leq 6$
 $2x - 3y \geq -6$
 $3x - 2y \leq 4$
 $3x - 2y \geq -4$

$3y \geq 2x - 6$
 $3y \geq -6 + 2x$
 $2y \geq 3x - 4$
 $2y \geq 3x - 4$

$5y - 5x \geq 10$
 $x + y \leq -2$
 $10x \leq -20$
 $x \leq -2$

$5x - 5y \leq -10$
 $5x + 5y \leq -10$
 $10x \leq -20$
 $x \leq -2$

$2x - 3y \leq 6$
 $3y - 2x \geq -6$
 $3x - 2y \leq 4$
 $2y - 3x \geq -4$

$3y \geq 2x - 6$
 $3y \geq 2x - 6$
 $2y \geq 3x - 4$
 $2y \geq 3x - 4$

$x = -2$
 $x = -\frac{12}{5}$
 $y = -\frac{16}{5}$

$\frac{2}{3}x - 2 = \frac{3}{2}x + 2$
 $-4 = \frac{3}{8}x$
 $x = -\frac{24}{8} = -3$
 $y = -\frac{2 \cdot 24 + 16}{2 \cdot 5} = -\frac{48 + 16}{10} = -\frac{64}{10} = -\frac{32}{5}$

На одной странице можно оформлять только одну задачу. Отметьте крестиком номер задачи, решение которой представлено на странице. Также укажите номер страницы и суммарное количество страниц в решении каждой задачи отдельно.



1 2 3 4 5 6 7

СТРАНИЦА
ИЗ

Если отмечено более одной задачи или не отмечено ни одной задачи, страница считается черновиком и не проверяется. Страницы по каждой из задач нумеруются отдельно. Порча QR-кода недопустима!

$$\begin{aligned} & \downarrow a \quad \begin{matrix} a+2d \\ (x^2+4x)^2 \\ a+6d \end{matrix} \quad \begin{matrix} a+6d \\ -6x^2 \end{matrix} \quad \text{NSY} \\ & 12-12x \\ & -6x^2+12x-12=6d \quad | : -6 \\ & x^2-2x+2 = d \end{aligned}$$

$$\begin{aligned} & (12-12x) + 2(x^2-2x+2) = (x^2+4x)^2 \\ & x^4 + 8x^3 + 16x^2 + 2x^2 - 4x + 4 + 12x - 12 = 0 \\ & x^4 + 8x^3 + 20x^2 + 8x - 12 = 0 \end{aligned}$$

1	8	18	8	-12
-1	1	7	-11	19
-3	1	5	3	-1
-1	1	13	6	-16
-6	1	12	6	-32

$$\begin{aligned} & -6x^2 - 12 + 12x = 6d \\ & 6x^2 - 12x + 12 = 6d \\ & x^2 - 2x + 2 = d \end{aligned}$$

$$(x^2+4x)^2 + 2(x^2-2x+2) = 12-12x$$

$$\begin{aligned} & x^4 + 8x^3 + 16x^2 + 2x^2 - 4x + 4 \\ & - 12 + 12x \\ & x^4 + 8x^3 + 18x^2 + 8x - 8 = 0 \end{aligned}$$

1	8	18	8	-8
-1	1	7	11	-3
1	1	6	6	-4

$$\begin{aligned} & (x+2)(x^3+6x^2+6x-4) \\ & 1 \quad 6 \quad 6 \quad -4 \end{aligned}$$

$$(x+2)(x^2+4x-2) = 0$$

$$\begin{aligned} & (x+2)(x^2+4x-2) = 0 \\ & x^2+4x-2 = 0 \\ & x = \frac{-4 \pm \sqrt{16+8}}{2} = \frac{-4 \pm \sqrt{24}}{2} \\ & x = -2 \end{aligned}$$

N^o 2

$$|2x-3y| \leq 6$$

$$|3x-2y| \leq 4$$

$$x \geq \frac{2}{3}y$$

$$y \leq \frac{23}{3}x$$

$$y \leq \frac{23}{3}x$$

$$2x-6 \leq 3y$$

$$y \geq \frac{2}{3}x - 2$$

$$y \leq \frac{2}{3}x - 2$$

$$y \leq 2 - \frac{2}{3}x$$

$$\begin{aligned} & 2x-3y=6 \\ & 3y-2x=6 \end{aligned}$$

$$\frac{4}{3}x - 4 = 0$$

$$\frac{1}{3}x = 1$$

$$x = 3$$

$$3x = 4$$

$$x = \frac{4}{3}$$

$$10x+5y$$

$$\min(10x+5y)$$

$$y = \frac{3}{2}x - 2$$

$$y = -2x + \frac{4}{5}$$

$$10x + \frac{15x}{2} - 2$$

$$\frac{35x}{2} - 2$$

$$\begin{aligned} & -24 \cdot \frac{2}{5} \\ & -\frac{24}{5} \cdot 2 \\ & -\frac{48}{5} = 10 \end{aligned}$$

$$\frac{46}{24}$$



На одной странице можно оформлять только одну задачу. Отметьте крестиком номер задачи, решение которой представлено на странице. Также укажите номер страницы и суммарное количество страниц в решении каждой задачи отдельно.

1 2 3 4 5 6 7

СТРАНИЦА
1 ИЗ 1

Если отмечено более одной задачи или не отмечено ни одной задачи, страница считается черновиком и не проверяется. Страницы по каждой из задач нумеруются отдельно. Порча QR-кода недопустима!

№ 1

$$\left. \begin{aligned} a_1 &= 12 - 12x \\ a_4 &= (x^2 + 4x)^2 \\ a_8 &= (-6x^2) \end{aligned} \right\} \{a_n\}$$

$x = ?$

$$\begin{aligned} a_2 &= a_1 + d \\ a_4 &= (a_1 + d) + 2d \\ a_8 &= (a_1 + d) + 6d \end{aligned}$$

$$\begin{cases} a_1 + d = a & (1) \\ 12 - 12x = a & (2) \\ (x^2 + 4x)^2 = a + 2d & (2) \\ -6x^2 = a + 6d & (3) \end{cases}$$

$$\begin{aligned} (3) - (2) &\rightarrow 6d \\ -6x^2 - 12 + 12x &= 6d : -6 \\ x^2 - 2x + 2 &= -d \quad (4) \end{aligned}$$

$$\begin{aligned} (2) \cdot 2 &\rightarrow (2) \\ (x^2 + 4x)^2 + 2(x^2 - 2x + 2) &= 12 - 12x \\ x^4 + 8x^3 + 16x^2 + 2x^2 - 4x + 4 + 12x - 12 &= 0 \end{aligned}$$

$$P(x) = x^4 + 8x^3 + 18x^2 + 8x - 8 = 0$$

по $0x$. Теорема:

$$\begin{array}{l|l|l|l|l|l} 1 & 1 & 8 & 18 & 8 & -8 \\ -2 & 1 & 6 & 6 & -4 & 0 \\ -2 & 1 & 4 & -2 & 0 & 1 \end{array} \quad \begin{aligned} x &= -2 - \text{корень} \\ x &= -2 - \text{корень 2-ой кратности} \end{aligned}$$

$$P(x) = (x+2)^2 (x^2 + 4x - 2) = 0$$

Обрезаем все решения

$$\begin{aligned} (1): \quad x^2 + 4x - 2 &= 0 \\ D &= 16 + 8 = 24 = (2\sqrt{6})^2 \\ x &= \frac{-4 \pm 2\sqrt{6}}{2} \\ \begin{cases} x = \sqrt{6} - 2 \\ x = -\sqrt{6} - 2 \end{cases} \end{aligned}$$

$$\begin{cases} x = 2 \\ x = \sqrt{6} - 2 \\ x = -\sqrt{6} - 2 \end{cases}$$

и.к. Все преобразования были
математич., а ограничений на x
нет

Ответ: $x = 2$
 $x = \sqrt{6} - 2$
 $x = -\sqrt{6} - 2$



На одной странице можно оформлять только одну задачу. Отметьте крестиком номер задачи, решение которой представлено на странице. Также укажите номер страницы и суммарное количество страниц в решении каждой задачи отдельно.

1 2 3 4 5 6 7

СТРАНИЦА
ИЗ

Если отмечено более одной задачи или не отмечено ни одной задачи, страница считается черновиком и не проверяется. Страницы по каждой из задач нумеруются отдельно. Порча QR-кода недопустима!

№108

$$\sqrt{x+4} - \sqrt{3-x} + 5 = 2\sqrt{(3-x)(x+4)}$$

$$7 - 2\sqrt{(3-x)(x+4)} = 4(3-x)(x+4) - 20\sqrt{(3-x)(x+4)} + 25$$

$$16\sqrt{(3-x)(x+4)} = 4(3-x)(x+4) + 18$$

$$81(3-x)(x+4) = 4(3-x)^2(x+4)^2 + 36(3-x)(x+4) + 81$$

$$4(3-x)^2(x+4)^2 - 45(3-x)(x+4) + 81 = 0$$

$$4t^2 - 45t + 81 = 0$$

$$t_1 = \frac{45 \pm 27}{8}$$

$$t_1 = 9$$

$$t_2 = \frac{9}{4}$$

$$-x^2 - x + 12 = 9$$

$$x^2 + x - 3 = 0$$

$$1 + 12 = 93$$

$$\frac{-1 \pm \sqrt{13}}{2}$$

$$-4x^2 - 4x + 48 = 9$$

$$4x^2 + 4x - 39 = 0$$

$$16 + 624 = 640 = 8\sqrt{10}$$


$$\frac{-4 \pm 8\sqrt{10}}{8} = \frac{-1 \pm \sqrt{10}}{2}$$

$$\sqrt{x+4} \geq \sqrt{3-x} \quad x \leq 3$$

$$x+4 \geq 3-x$$

$$2x \geq -1$$

$$x \geq -\frac{1}{2}$$



$$-x^2 - x + 12$$

$$-\frac{1}{2} \quad -\frac{1}{4} + \frac{1}{2} + 12$$

$$\frac{15}{2} \quad \frac{25}{8}$$

$$\begin{array}{r} 45 \\ \times 27 \\ \hline 1225 \\ 1800 \\ \hline 1225 \\ 729 \end{array}$$

$$\begin{array}{r} 81 \\ \times 16 \\ \hline 486 \\ 81 \\ \hline 1296 \end{array}$$

$$\frac{225}{9} \quad \frac{9 \cdot 3}{(27)^2}$$

$$\frac{81}{4} - \frac{459}{4} + 81$$

$$4 \cdot 81 - 81 \cdot 5 + 81$$

$$\frac{81}{4} - \frac{61 \cdot 5}{4} + 81$$

$$1300$$

$$\sqrt{10} < \sqrt{13} < \sqrt{16}$$

$$-1 - \sqrt{13} < \sqrt{10} < \sqrt{16}$$

$$3,6 < \sqrt{10} < 3,7$$

$$-4,6 > \sqrt{13} > -4,7$$

$$-2,3 > \sqrt{3} > -2,35$$

$$-3,1 < \sqrt{10} < 3,2$$

$$-3,1 > \sqrt{10} > -3,2$$

$$\begin{array}{r} 3,1 \\ \times 3,1 \\ \hline 31 \\ 93 \\ \hline 961 \end{array}$$



На одной странице можно оформлять **только одну задачу**. Отметьте крестиком номер задачи, решение которой представлено на странице. Также укажите номер страницы и суммарное количество страниц в решении каждой задачи отдельно.

1

2

3

4

5

6

7

СТРАНИЦА
__ ИЗ __

Если отмечено более одной задачи или не отмечено ни одной задачи, страница считается черновиком и не проверяется. Страницы по каждой из задач нумеруются **отдельно**. Порча QR-кода недопустима!

