

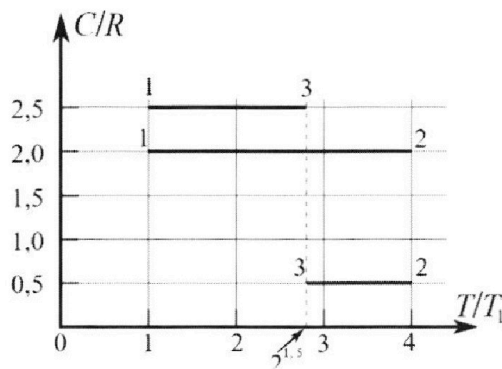
Олимпиада «Физтех» по физике,
февраль 2023

Вариант 10-01

Во всех задачах, в ответах допустимы обыкновенные дроби и радикалы.



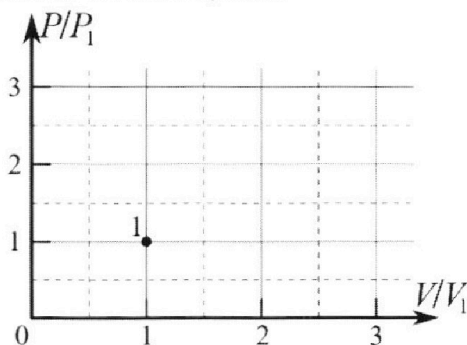
4. Тепловой двигатель работает по циклу 1-2-3-1. Рабочее вещество – один моль одноатомного идеального газа. Для вычисления КПД цикла ученик десятого класса построил график зависимости молярной теплоемкости C газа (в единицах универсальной газовой постоянной R) от температуры в процессах: 1-2, 2-3, 3-1 (см. рис.). Температура газа в состоянии 1 $T_1 = 400$ К, универсальная газовая постоянная $R = 8,31$ Дж/(моль·К).



1) Найдите работу A_{12} газа в процессе 1-2.

2) Найдите КПД η цикла.

3) Постройте график цикла в координатах $(P/P_1, V/V_1)$, где P_1 и V_1 давление и объём в состоянии 1. Для построения графика перенесите шаблон (см. ниже) в чистовик своей работы. Точка 1 на графике соответствует состоянию 1 газа в цикле.



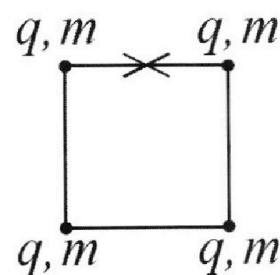
5. Четыре заряженных шарика связаны легкими нерастяжимыми нитями так, что шарики находятся в вершинах квадрата со стороной b (см. рис.). Масса каждого шарика m , заряд q .

1) Найдите силу T натяжения нитей.

Одну нить пережигают.

2) Найдите скорость V любого, выбранного Вами шарика, в тот момент, когда шарики будут находиться на одной прямой.

3) На каком расстоянии d от точки старта будет находиться в этот момент любой из двух шариков, изначально расположенных сверху (на рисунке)?



Коэффициент пропорциональности в законе Кулона k . Действие сил тяжести считайте пренебрежимо малым.



Олимпиада «Физтех» по физике, февраль 2023

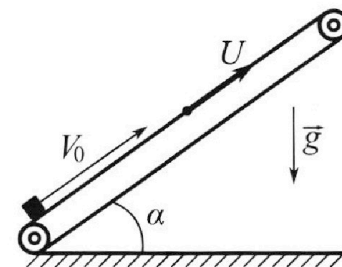
Вариант 10-01



Во всех задачах, в ответах допустимы обыкновенные дроби и радикалы.

1. Мяч, посланный теннисистом вертикально вверх, поднимается на максимальную высоту за $T = 2$ с.
- 1) Найдите начальную скорость V_0 мяча.
 - 2) Теннисист посылает мяч с начальной скоростью V_0 под различными углами к горизонту в направлении высокой вертикальной стенки, находящейся на расстоянии $S = 20$ м от места броска. На какой максимальной высоте мяч ударяется о стенку?
- Ускорение свободного падения $g = 10$ м/с². Мяч движется в плоскости перпендикулярной стенке. Сопротивление воздуха считайте пренебрежимо малым. Все высоты отсчитываются от точки старта.

2. Лента транспортера, предназначенного для подъема грузов, образует с горизонтальной плоскостью угол α такой, что $\sin \alpha = 0,8$ (см. рис.).
- В первом опыте небольшую коробку ставят на покоящуюся ленту транспортера и сообщают коробке начальную скорость $V_0 = 4$ м/с. Коэффициент трения скольжения коробки по ленте $\mu = \frac{1}{3}$. Движение коробки прямолинейное.



- 1) За какое время T после старта коробка пройдет в первом опыте путь $S = 1$ м?

Во втором опыте коробку ставят на ленту транспортера, движущуюся со скоростью $U = 2$ м/с, и сообщают коробке скорость $V_0 = 4$ м/с.

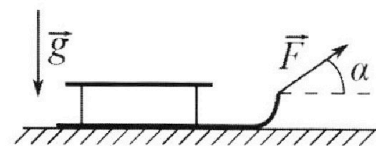
2) На каком расстоянии L от точки старта скорость коробки во втором опыте будет равна $U = 2$ м/с?

3) На какой высоте H , отсчитанной от точки старта, скорость коробки во втором опыте станет равной нулю? Ускорение свободного падения $g = 10$ м/с². Все кинематические величины измерены в лабораторной системе отсчета.

3. Санки дважды разгоняют из состояния покоя до одной и той же скорости V_0 за одинаковое время.

В первом случае санки тянут, действуя постоянной по модулю силой, направленной под углом α к горизонту (см. рис.).

Во втором случае такая же по модулю сила, приложенная к санкам, направлена горизонтально. После достижения скорости V_0 действие внешней силы прекращается.



- 1) Найдите коэффициент μ трения скольжения санок по горизонтальной поверхности.
- 2) Через какое время T после прекращения действия силы санки остановятся? Ускорение свободного падения g .

Санки находятся на горизонтальной поверхности. Движение санок прямолинейное.

1 2 3 4 5 6 7

Если отмечено более одной задачи или не отмечено ни одной задачи,
страница считается черновиком и не проверяется. Порча QR-кода недопустима!




Задача № 1

Дано: $T = 2\text{с}$, $S = 20\text{м}$, $g = 10 \frac{\text{м}}{\text{с}^2}$

Найти: 1) $v_0 = ?$, 2) $H = ?$

Решение: 1) Мяч брошен вертикально вверх с какой-то скоростью v_0 , тогда:

$$v(t) = v_0 - g t$$



2) Когда мяч достигнет максимальной высоты, его скорость будет равна 0, следовательно:

$$v(T) = 0 = v_0 - g T \Rightarrow v_0 = g T = 10 \cdot 2 = 20 \frac{\text{м}}{\text{с}}$$

3) Пусть: H - максимальная высота места удара
~~горизонтальной~~ α - угол броска к горизонту
Тогда: запишем уравнение движения мяча:

$$x = v_0 \cos \alpha t \quad y = v_0 \sin \alpha t - \frac{g t^2}{2}$$

4) Найдем α для максимальной высоты:

$$S = v_0 \cos \alpha t \Rightarrow t = \frac{S}{v_0 \cos \alpha}$$

$$H = v_0 \sin \alpha \frac{S}{v_0 \cos \alpha} - \frac{g}{2} \frac{S^2}{v_0^2 \cos^2 \alpha}$$

$$H = S \operatorname{tg} \alpha - \frac{g S^2}{2 v_0^2 \cos^2 \alpha}$$

$$\operatorname{tg} \alpha = \frac{\sin \alpha}{\cos \alpha} \Rightarrow \operatorname{tg}^2 \alpha = \frac{\sin^2 \alpha}{\cos^2 \alpha} \Rightarrow \operatorname{tg}^2 \alpha + 1 = \frac{\sin^2 \alpha + \cos^2 \alpha}{\cos^2 \alpha}$$

$$\operatorname{tg}^2 \alpha + 1 = \frac{1}{\cos^2 \alpha}$$

$$H = S \operatorname{tg} \alpha - \frac{g S^2}{2 v_0^2} (1 + \operatorname{tg}^2 \alpha)$$

$$H = S \operatorname{tg} \alpha - \frac{g S^2}{2 v_0^2} - \operatorname{tg}^2 \alpha \frac{g S^2}{2 v_0^2}$$

На одной странице можно оформлять **только одну** задачу.

Отметьте крестиком номер задачи,
решение которой представлено на странице:

1 2 3 4 5 6 7

МФТИ

Если отмечено более одной задачи или не отмечено ни одной задачи,
страница считается черновиком и не проверяется. Порча QR-кода недопустима!



Задача № 1 (прод.)

$$4. \text{ прод.}) H = S \operatorname{tg} \alpha - \frac{gS^2}{2v_0^2} - \operatorname{tg}^2 \alpha \frac{gS^2}{2v_0^2}$$

Заметим, что это квадратное уравнение относительно $\operatorname{tg} \alpha$.

Это парабола с ветвями "вниз" ($-\operatorname{tg}^2 \alpha$), следовательно "максимальное значение H " будет в вершине этой параболы.

$$\text{Тогда: } \operatorname{tg} \alpha = \frac{-S}{\frac{gS^2}{v_0^2}} = \frac{S}{\frac{gS^2}{v_0^2}} = \frac{v_0^2 S}{gS^2}$$

$$\operatorname{tg} \alpha = \frac{v_0^2}{gS}$$

$$\text{Тогда: } H = S \frac{v_0^2}{gS} - \frac{gS^2}{2v_0^2} - \frac{gS^2}{2v_0^2} \frac{v_0^4}{g^2 S^2}$$

$$H = \frac{v_0^2}{g} - \frac{gS^2}{2v_0^2} - \frac{v_0^2}{2g}$$

$$H = \frac{v_0^2}{2g} - \frac{gS^2}{2v_0^2}$$

$$H = \frac{20^2}{2 \cdot 10} - \frac{10 \cdot 20^2}{2 \cdot 20^2} = \frac{400}{20} - \frac{10}{2} = 20 - 5 = 15 \text{ м}$$

$$\text{Ответ: } 1) v_0 = 20 \frac{\text{м}}{\text{с}}$$

$$2) H = 15 \text{ м}$$

На одной странице можно оформлять **только одну** задачу.

Отметьте крестиком номер задачи,
решение которой представлено на странице:

1	2	3	4	5	6	7
<input type="checkbox"/>	<input checked="" type="checkbox"/>	<input type="checkbox"/>	<input type="checkbox"/>	<input type="checkbox"/>	<input type="checkbox"/>	<input type="checkbox"/>

МФТИ

Если отмечено более одной задачи или не отмечено ни одной задачи,
страница считается черновиком и не проверяется. Порча QR-кода недопустима!



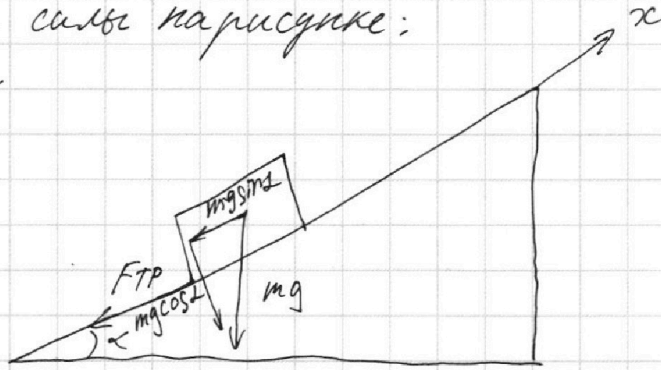
Задача № 2

Дано: $\sin \alpha = 0,8$; $v_0 = 4 \frac{m}{c}$; $\mu = \frac{1}{3}$; $k = 2 \frac{m}{c}$; $g = 10 \frac{m}{c^2}$; $S = 1 \mu$
Найти: 1) $T = ?$ 2) $L = ?$ 3) $H = ?$

Решение:

1) Рассмотрим силы на рисунке:

$F_{TP} = \mu N$
(тело едет)



2) Запишем II закон Ньютона в проекции на ось x :

$$ma = -mg \sin \alpha - \mu mg \cos \alpha$$
$$a = -g(\sin \alpha + \mu \cos \alpha) \quad (a = \text{const})$$

3) Найдем момент, когда скорость обратится в 0:

$$v_0 - g(\sin \alpha + \mu \cos \alpha)t_1 = 0 \quad t_1 = \frac{v_0}{g(\sin \alpha + \mu \cos \alpha)}$$

$$S(t_1) = \frac{v_0^2}{2g(\sin \alpha + \mu \cos \alpha)}$$

$$S(t_1) = \frac{16}{2 \cdot 10(0,8 + \frac{1}{3} \cdot 0,6)}$$

$$S(t_1) = \frac{16}{20(0,8 + 0,2)} = \frac{16}{20} = \frac{4}{5} = \frac{8}{10} = 0,8 \mu$$

4) Запишем II закон Ньютона в проекции на ось x , когда тело ползет вниз: $a = g(\sin \alpha - \mu \cos \alpha)$

$$ma = mg \sin \alpha - \mu mg \cos \alpha$$

На одной странице можно оформлять **только одну** задачу.

Отметьте крестиком номер задачи,
решение которой представлено на странице:

1	2	3	4	5	6	7
<input type="checkbox"/>	<input checked="" type="checkbox"/>	<input type="checkbox"/>	<input type="checkbox"/>	<input type="checkbox"/>	<input type="checkbox"/>	<input type="checkbox"/>

МФТИ

Если отмечено более одной задачи или не отмечено ни одной задачи,
страница считается черновиком и не проверяется. Порча QR-кода недопустима!

задача №2 (прод.)

4. прод.) $a = g(\sin \alpha - \mu \cos \alpha) = 10 \left(0,8 - \frac{1}{3} \cdot 0,6 \right)$
 $a = 10 \left(\overset{0,8}{\cancel{0,8}} - 0,2 \right) = 10 \cdot 0,6 = 6 \frac{\text{м}}{\text{с}^2}$

5) Запишем ур. гвм.:

$$S(t) = \frac{a t^2}{2} \Rightarrow t_2 = \sqrt{\frac{2 S_2}{a}}$$

$$t_2 = \sqrt{\frac{2 \cdot (1 - 0,8)}{6}} = \sqrt{\frac{2 \cdot 0,2}{6}} = \sqrt{\frac{0,4}{6}}$$

$$t_2 = \sqrt{\frac{4}{60}} = \sqrt{\frac{1}{15}} = \frac{1}{\sqrt{15}} = \frac{\sqrt{15}}{15} \text{ с}$$

6) $T = t_1 + t_2 = \frac{\sqrt{15}}{15} + 0,4 \text{ с}$

$$t_1 = \frac{4}{10 \left(0,8 + \frac{1}{3} \cdot 0,6 \right)} = \frac{4}{10 \left(0,8 + 0,2 \right)} = \frac{4}{10 \text{ с}}$$

$$t_1 = 0,4 \text{ с}$$

7) Коробку поставили в) Во втором окне
коробку поставили на ленту транспортера,
тем самым она приобрела скорость u .
После этого ей сообщили ещё v_0 тем
самым доведя её скорость до $(v_0 + u)$
в лев. со.

8) Возьмём a из пункта 3. Таким образом:

$$u = u + v_0 - g(\sin \alpha + \mu \cos \alpha) t_3$$

$$S(t_3) = \frac{(u + v_0)^2 - u^2}{2g(\sin \alpha + \mu \cos \alpha)} = \frac{36 - 4}{2 \cdot 10 \cdot 1} = \frac{32}{20} \text{ м}$$

$$S(t_3) = L = \frac{32}{20} \text{ м} = \frac{16}{10} = 1,6 \text{ м}$$

9) $S(t_4) = \frac{(u + v_0)^2}{2g(\sin \alpha + \mu \cos \alpha)} = \frac{36}{20} = \frac{18}{10} = 1,8 \text{ м}$

$$H = S(t_4) \sin \alpha = 1,8 \cdot 0,8 = 1,44 \text{ м}$$

На одной странице можно оформлять **только одну** задачу.

Отметьте крестиком номер задачи,
решение которой представлено на странице:

1 2 3 4 5 6 7

МФТИ

Если отмечено более одной задачи или не отмечено ни одной задачи,
страница считается черновиком и не проверяется. Порча QR-кода недопустима!

Задача № 3

Дано: $v_0, \alpha, g;$

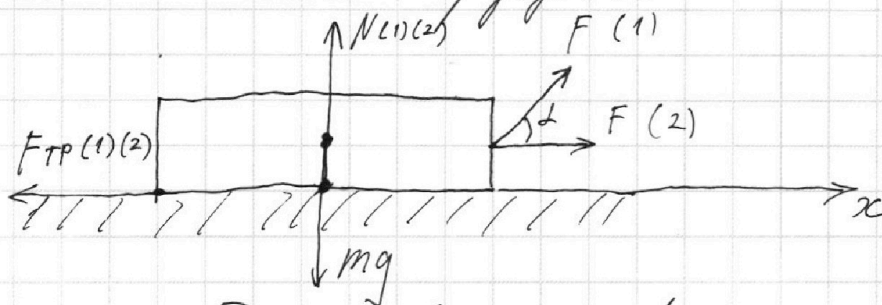
Найти: 1) $m = ?$ 2) $T = ?$

Решение: На санки действуют постоянные по модулю силы \Rightarrow санки движутся равноускоренно.

Пусть a_1 - уск. в первом случае; a_2 - уск. во втором случ.

Тогда по усл.: $t = \frac{v_0}{a_1} = \frac{v_0}{a_2} \Rightarrow a_1 = a_2 = a$

2) Разставим силы на рисунке:



3) Запишем II закон Ньютона в проекции на ось x для обоих случаев:

$$\begin{cases} ma = F \cos \alpha - FTP_1 \\ ma = F - FTP_2 \end{cases}$$

4) $FTP_1 = \mu N_1$ $FTP_2 = \mu N_2$ (так как санки едут)

$$N_1 = mg - F \sin \alpha \quad N_2 = mg$$

5) Найдем m :

$$\begin{cases} ma = F \cos \alpha - FTP_1 = F - FTP_2 \\ FTP_1 = \mu (mg - F \sin \alpha) \\ FTP_2 = \mu mg \end{cases}$$

$$F \cos \alpha - \mu mg + \mu F \sin \alpha = F - \mu mg$$

$$F \cos \alpha + \mu F \sin \alpha = F \quad \cos \alpha + \mu \sin \alpha = 1$$

$$\mu = \frac{1 - \cos \alpha}{\sin \alpha}$$

На одной странице можно оформлять **только одну** задачу.

Отметьте крестиком номер задачи,
решение которой представлено на странице:

1	2	3	4	5	6	7
<input type="checkbox"/>	<input type="checkbox"/>	<input checked="" type="checkbox"/>	<input type="checkbox"/>	<input type="checkbox"/>	<input type="checkbox"/>	<input type="checkbox"/>

МФТИ

Если отмечено более одной задачи или не отмечено ни одной задачи,
страница считается черновиком и не проверяется. Порча QR-кода недопустима!

Задача № 3 (прод.)

б) После достижения v_0 действие внешней силы прекратится в обоих случаях, следовательно:

$$N_1 = N_2 = mg \implies F_{TP1} = F_{TP2} = F_{TP} = \mu mg$$

в) Запишем II закон Ньютона: $ma = -F_{TP} = -\mu mg$

$$a = -\mu g$$

г) Движение будет равноускоренное, следовательно:

$$v(t) = v_0 - \mu g t ; \quad v(T) = 0$$

~~Когда: $v(t) = v_0 - \mu g t = 0 \implies t = \frac{v_0}{\mu g}$~~

Когда: $v(T) = 0 = v_0 - \mu g T \quad T = \frac{v_0}{\mu g}$

г) $T = \frac{v_0}{\mu g} \quad \mu = \frac{1 - \cos \alpha}{\sin \alpha}$

$$T = \frac{v_0}{g} \frac{\sin \alpha}{(1 - \cos \alpha)}$$

Ответ: 1) $\mu = \frac{1 - \cos \alpha}{\sin \alpha}$

2) $T = \frac{v_0 \sin \alpha}{g (1 - \cos \alpha)}$

„Ответ“ имеет смысл только при $\mu > 0 \implies$

$$\implies \frac{1 - \cos \alpha}{\sin \alpha} > 0$$

На одной странице можно оформлять только одну задачу.

Отметьте крестиком номер задачи,
решение которой представлено на странице:

1	2	3	4	5	6	7
<input type="checkbox"/>	<input type="checkbox"/>	<input type="checkbox"/>	<input checked="" type="checkbox"/>	<input type="checkbox"/>	<input type="checkbox"/>	<input type="checkbox"/>

МФТИ

Если отмечено более одной задачи или не отмечено ни одной задачи,
страница считается черновиком и не проверяется. Порча QR-кода недопустима!



Задача № 4

Дано: $\nu = 1$ моль, $K = 8,31 \frac{\text{Дж}}{\text{моль} \cdot \text{К}}$; $T_1 = 400 \text{ К}$; градусик; $i = 3$

Найти: 1) $A_{12} = ?$ 2) $\eta = ?$ 3) градусик

Решение:

1) В процессе 1-2: $C_{12} = 2R \Rightarrow Q = 2R \Delta T_{12}$

$$\Delta T_{12} = 4T_1 - T_1 = 3T_1$$

$$Q = 2R \cdot 3T_1 = \underbrace{\frac{3}{2} R \cdot 3T_1}_{\Delta U_{12}} + A_{12}$$

$$6RT_1 = \frac{9}{2} RT_1 + A_{12} \Rightarrow A_{12} = RT_1 \left(6 - \frac{9}{2}\right)$$

$$A_{12} = RT_1 \left(\frac{12-9}{2}\right) = \frac{3}{2} RT_1 = 1,5 RT_1$$

2) Тем же способом найдем работу A_{23} , A_{31}

В цикле 1-2 подается тепло ($Q_{12} > 0$)

В циклах 2-3 и 3-1 тепло отводится ($Q < 0$)
(температура падает)

Погда: ~~$Q_{31} = 2,5K(2T_1 - 2^{1,5}T_1)$~~

$$Q_{31} = 2,5K(T_1 - 2^{1,5}T_1)$$

$$Q_{31} = 2,5K T_1 (1 - 2^{1,5})$$

$$2,5K T_1 (1 - 2^{1,5}) = A_{31} + \frac{3}{2}K(T_1 - 2^{1,5}T_1)$$

$$2,5K T_1 (1 - 2^{1,5}) = A_{31} + 1,5K T_1 (1 - 2^{1,5})$$

$$A_{31} = K T_1 (1 - 2^{1,5})$$

На одной странице можно оформлять **только одну** задачу.

Отметьте крестиком номер задачи, решение которой представлено на странице:

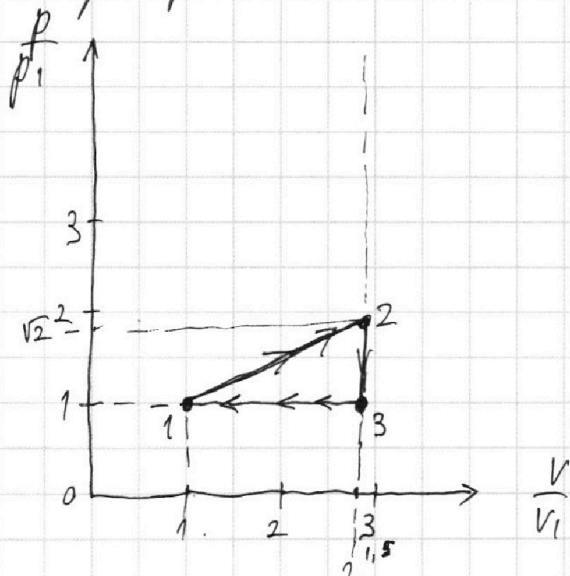
1 2 3 4 5 6 7

МФТИ

Если отмечено более одной задачи или не отмечено ни одной задачи, страница считается черновиком и не проверяется. Порча QR-кода недопустима!

Задача № 4 (прод.)

График цикла:



Процессы 1-2 } линейные
2-3 }

$$\frac{p_2}{p_1} = \frac{4}{2^{1,5}} = \sqrt{2}$$

$$2,5 = \frac{1+2}{2} = \frac{3+2}{2} = \frac{5}{2} \Rightarrow (3-1) - \text{изобара}$$

$$\Rightarrow p_1 = p_3$$

Тогда: $p_1 V_1 = RT_1$

$$p_1 V_3 = RT_1 \cdot 2^{1,5}$$

$$\frac{V_1}{V_3} = \frac{1}{2^{1,5}}$$

$$\frac{V_3}{V_1} = 2^{1,5}$$

$$4RT_1 = p_2 V_3$$

~~RT1~~

$$RT_1 = p_1 \frac{V_3}{2^{1,5}}$$

$$4 = \frac{p_2 2^{1,5}}{p_1}$$

$$p_2 = \frac{4 p_1}{2^{1,5}}$$

Ответ: 1) $A_{12} = 4986 \text{ Дж}$

2) $\eta = \frac{6,5 - 2^{2,5}}{6} = \frac{13}{12} - \frac{2\sqrt{2}}{3} = \frac{13-8\sqrt{2}}{12}$

3) больше на ~~сам~~ стр.

На одной странице можно оформлять **только одну** задачу.

Отметьте крестиком номер задачи,
решение которой представлено на странице:

1	2	3	4	5	6	7
<input type="checkbox"/>	<input type="checkbox"/>	<input type="checkbox"/>	<input type="checkbox"/>	<input checked="" type="checkbox"/>	<input type="checkbox"/>	<input type="checkbox"/>

МФТИ

Если отмечено более одной задачи или не отмечено ни одной задачи,
страница считается черновиком и не проверяется. Порча QR-кода недопустима!



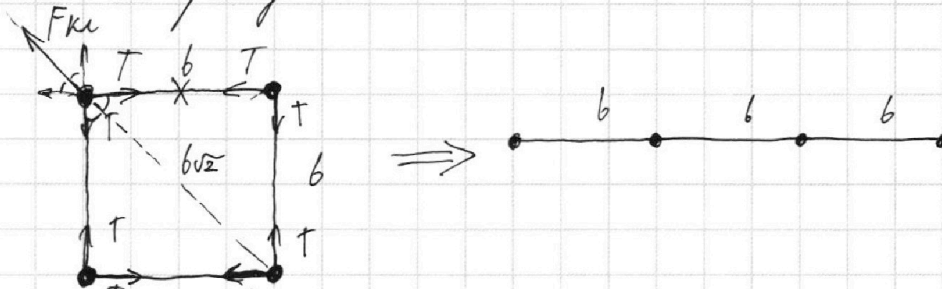
Задача № 5

Дано: $m; q; b$

Найти: 1) T 2) $v = ?$ 3) $d = ?$

Решение:

1) Распишем силы на рисунке:



(Для удобства будем считать все заряды положительными)

2) Запишем условие равновесия для **левого верхнего** шарика:

$$T \frac{\sqrt{2}}{2} + T \frac{\sqrt{2}}{2} = k \frac{q^2}{(b\sqrt{2})^2} + k \frac{q^2}{b^2} \frac{\sqrt{2}}{2} + k \frac{q^2}{b^2} \frac{\sqrt{2}}{2}$$

$$2T \frac{\sqrt{2}}{2} = k \frac{q^2}{2b^2} + 2k \frac{q^2}{b^2} \frac{\sqrt{2}}{2}$$

$$T \sqrt{2} = k \frac{q^2}{b^2} \left(\frac{1}{2} + \sqrt{2} \right) = k \frac{q^2}{b^2} \left(\frac{1 + 2\sqrt{2}}{2} \right)$$

$$T = k \frac{q^2}{b^2} \left(\frac{1 + 2\sqrt{2}}{2\sqrt{2}} \right) = k \frac{q^2}{b^2} \left(1 + \frac{1}{2\sqrt{2}} \right)$$

$$T = k \frac{q^2}{b^2} \left(1 + \frac{\sqrt{2}}{4} \right)$$

3) Найдем скорость v **левого верхнего** шарика:

Запишем для него ЗСЭ:

$$k \frac{q^2}{b} + k \frac{q^2}{b} + k \frac{q^2}{b\sqrt{2}} = k \frac{q^2}{b} + k \frac{q^2}{2b} + k \frac{q^2}{3b} + \frac{mv^2}{2}$$

$$\frac{mv^2}{2} = k \frac{q^2}{b} \left(1 + 1 + \frac{1}{\sqrt{2}} - 1 - \frac{1}{2} - \frac{1}{3} \right)$$

$$\frac{mv^2}{2} = k \frac{q^2}{b} \left(1 + \frac{1}{\sqrt{2}} - \frac{1}{2} - \frac{1}{3} \right)$$

$$mv^2 = k \frac{q^2}{b} \left(2 + \frac{2}{\sqrt{2}} - 1 - \frac{2}{3} \right)$$



На одной странице можно оформлять **только одну** задачу.

Отметьте крестиком номер задачи,

решение которой представлено на странице:

1	2	3	4	5	6	7
<input type="checkbox"/>	<input type="checkbox"/>	<input type="checkbox"/>	<input type="checkbox"/>	<input checked="" type="checkbox"/>	<input type="checkbox"/>	<input type="checkbox"/>

МФТИ

Если отмечено более одной задачи или не отмечено ни одной задачи, страница считается черновиком и не проверяется. Порча QR-кода недопустима!

~~4. прог.)~~ *Задача № 5 (прог.)*

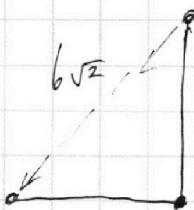
$$m v^2 = k \frac{q^2}{6} \left(1 + \frac{2}{\sqrt{2}} - \frac{2}{3} \right)$$
$$m v^2 = k \frac{q^2}{6} \left(\sqrt{2} + \frac{1}{3} \right)$$
$$v^2 = \frac{k}{m} \frac{q^2}{6} \left(\sqrt{2} + \frac{1}{3} \right)$$
$$v = q \sqrt{\frac{k}{m6} \left(\sqrt{2} + \frac{1}{3} \right)}$$

Ответ: 1) $T = k \frac{q^2}{6^2} \left(1 + \frac{\sqrt{2}}{4} \right)$

2) $v = q \sqrt{\frac{k}{m6} \left(\frac{1}{3} + \sqrt{2} \right)}$

~~3) $d = 6\sqrt{2}$~~

3) $d = 6\sqrt{2}$



На одной странице можно оформлять **только одну** задачу.

Отметьте крестиком номер задачи,
решение которой представлено на странице:

1 2 3 4 5 6 7

МФТИ

Если отмечено более одной задачи или не отмечено ни одной задачи,
страница считается черновиком и не проверяется. Порча QR-кода недопустима!



~~3. прог.)~~ $T = \frac{4 - \sqrt{16 - 2 \cdot 10 \cdot 1 (0,8 + 0,6 \cdot \frac{1}{3})}}{10 (0,8 + 0,6 \cdot \frac{1}{3})}$

~~Анализ~~ $T = 4 - \sqrt{16 - 20(0,8 + 0,2)}$

~~4R~~ $T_1 = p_2 v_3$


$Q = 2kI =$

$2kI = A_{12} +$

$\frac{13 - \sqrt{2}}{12}$

Черновик

$3 \cdot 4 =$



~~QAD~~ $\frac{13}{12} - \frac{2^{2,8}}{2 \cdot 3} = \frac{13}{12} - \frac{2^{1,6 \cdot \frac{5}{2}}}{3} =$

$\frac{13}{12} - \frac{2^{1,9}}{3} = \frac{2^{\frac{5}{2}}}{3} = \frac{\sqrt{2^3}}{3} = \frac{\sqrt{8}}{3}$

$\sqrt{8} = \sqrt{4 \cdot 2} = 2\sqrt{2}$

1 2 3 4 5 6 7

Если отмечено более одной задачи или не отмечено ни одной задачи,
страница считается черновиком и не проверяется. Порча QR-кода недопустима!

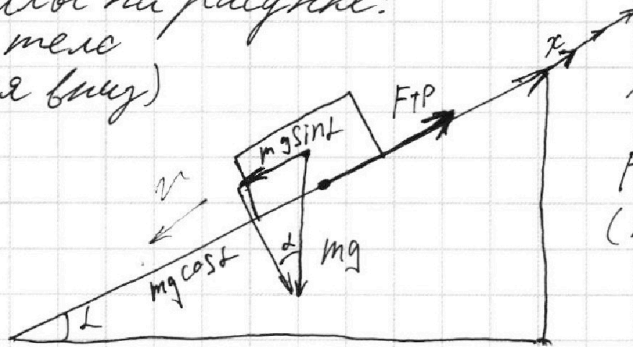


Задача №2

Дано: $\sin \alpha = 0,8$; $v_0 = 4 \frac{m}{c}$; $\mu = \frac{1}{3}$; $U = 2 \frac{m}{c}$; $g = 10 \frac{m}{c^2}$;
Найти: 1) $T = ?$; 2) $L = ?$; 3) $H = ?$;
; $S = 1 m$;

Решение:

1) Распишем силы на рисунке:
(на рисунке тело
скользит вниз)



$$N = mg \cos \alpha$$

$$FTP = \mu N$$

(тело движется)

2) Найдем скорость тела после прохождения S
с помощью ЗСЭ:

Меридиан

$$\frac{m v_0^2}{2} = \frac{m v_1^2}{2} + mg S \sin \alpha + \mu mg S \cos \alpha$$

$$v_0^2 = v_1^2 + 2gS \sin \alpha + 2gS \mu \cos \alpha$$

$$v_0^2 = v_1^2 + 2gS(\sin \alpha + \mu \cos \alpha)$$

$$v_1 = \sqrt{v_0^2 - 2gS(\sin \alpha + \mu \cos \alpha)}$$

3) Запишем II закон Ньютона в проекции на ось x :

$$ma = -mg \sin \alpha - \mu mg \cos \alpha$$

$$a = -g(\sin \alpha + \mu \cos \alpha) \Rightarrow \text{движение равноускоренное}$$

$$\text{Погда: } \begin{cases} v(t) = v_0 + at \\ v(T) = v_1 \end{cases} \Rightarrow v_1 = v_0 + aT$$

$$v_1 = v_0 - g(\sin \alpha + \mu \cos \alpha) T$$

$$\sqrt{v_0^2 - 2gS(\sin \alpha + \mu \cos \alpha)} = v_0 - g(\sin \alpha + \mu \cos \alpha) T$$

$$T = \frac{v_0 - \sqrt{v_0^2 - 2gS(\sin \alpha + \mu \cos \alpha)}}{g(\sin \alpha + \mu \cos \alpha)}$$

На одной странице можно оформлять **только одну** задачу.

Отметьте крестиком номер задачи, решение которой представлено на странице:

- 1
 2
 3
 4
 5
 6
 7

МФТИ

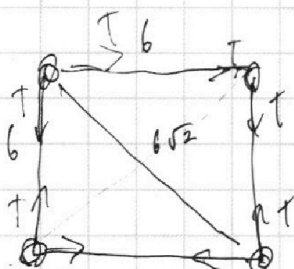
Если отмечено более одной задачи или не отмечено ни одной задачи, страница считается черновиком и не проверяется. Порча QR-кода недопустима!



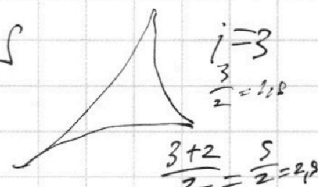
Черновик

$$\frac{mv_0^2}{2} = \frac{mv^2}{2} + mgS \sin \alpha + \mu mg \cos \alpha S$$

$$\frac{i}{2} + 1 = \frac{i+2}{2} \quad \frac{i}{2}$$



$$\frac{C}{R} \left(\frac{T}{T_1} \right)$$



1,5 T₁ $\frac{i+2}{2}$
1-3 - удара

$$T \frac{\sqrt{2}}{2} + T \frac{\sqrt{2}}{2} = k \frac{99}{(6\sqrt{2})^2} + k \frac{99}{6^2} \frac{\sqrt{2}}{2} + k \frac{99}{6^2} \frac{\sqrt{2}}{2}$$

$$2T \frac{\sqrt{2}}{2} = k \frac{99}{2 \cdot 6^2} + k \frac{99}{6^2} \frac{\sqrt{2}}{2}$$

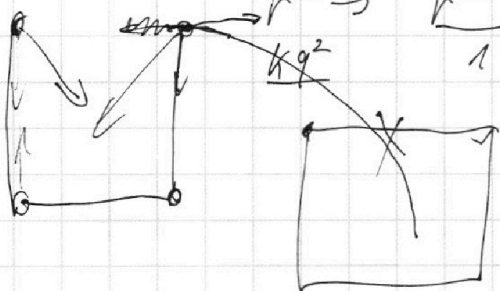
$$T \sqrt{2} = k \frac{99}{6^2} \left(\frac{1}{2} + \sqrt{2} \right)$$

$$C = 2R$$

$$\int \frac{k q^2}{r^2} dr = \frac{k q^2}{r}$$

$$1 - \frac{2}{3} = \frac{1}{3}$$

$$r^{-2} \rightarrow \frac{k q^2 \cdot 1-2}{1-2} = -r^{-1}$$



$$1 + \frac{2}{\sqrt{2}} - \frac{2}{3} = 1 + \frac{2\sqrt{2}}{2} - \frac{2}{3} =$$

$$= 1 + \sqrt{2} - \frac{2}{3} =$$

$$0,8^2 = 0,64 \quad \sqrt{2} + \frac{1}{3} = \frac{3\sqrt{2} + 1}{3}$$

$$1 - 0,64 = 0,36 = 0,6$$

На одной странице можно оформлять **только одну** задачу.

Отметьте крестиком номер задачи, решение которой представлено на странице:

- 1 2 3 4 5 6 7

МФТИ

Если отмечено более одной задачи или не отмечено ни одной задачи, страница считается черновиком и не проверяется. Порча QR-кода недопустима!



Черновик

~~задача №3~~

Дано: v_0 α

$$\frac{1}{\cos^2 \alpha} = \tan^2 \alpha + 1$$

$$T = ? \quad 1) S = \tan \alpha \frac{g S^2}{v_0^2}$$

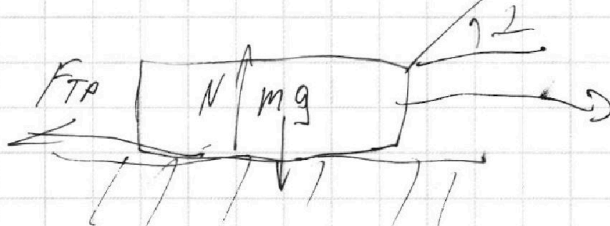
$m = ?$

$$\frac{20^2}{20} - \frac{10 \cdot 20^2}{2 \cdot 20^2}$$

F_1

$$\frac{m v_0^2}{2} = mgH + \frac{m v^2}{2}$$

$$t = \frac{S}{v_0 \cos \alpha} \quad \tan \alpha = \frac{v_0^2}{g S}$$



F_2

$$y = v_0 \sin \alpha t - \frac{g t^2}{2}$$

$$H = S \tan \alpha - \frac{g S^2}{2 v_0^2} - \tan^2 \alpha \frac{g S^2}{2 v_0^2}$$

$$N_1 = mg - F \sin \alpha$$

$$F_{TP1} = \mu (mg - F \sin \alpha)$$

$$N_2 = mg$$

$$F_{TP2} = \mu mg$$

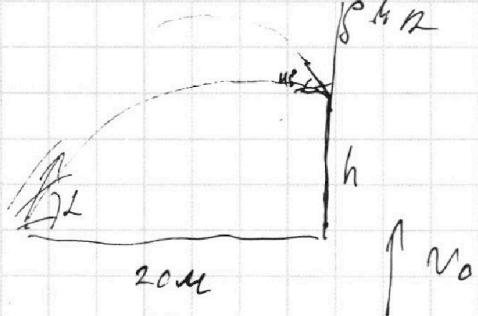
$$0 = S \tan \alpha - \frac{g S^2}{2 v_0^2}$$

$$m a = m a_0 = F - \mu mg = F \cos \alpha - \mu (mg - F \sin \alpha)$$

$$1) \mu mg = F \cos \alpha + \mu mg \mu \sin \alpha$$

$$H = S \tan \alpha - \frac{g}{2} \frac{S^2}{v_0^2} \frac{1}{\cos^2 \alpha}$$

$$\frac{1 - \cos \alpha}{\sin \alpha} = \mu$$



$$v_0 - g t = c$$

$$T = \frac{v_0}{g}$$

$$g t = v_0$$

$$v_0 = g T$$

~~$$h = \frac{v_0^2}{2g} = \frac{v_0^2}{2g}$$~~

$$h = \frac{g t^2}{2} = \frac{g}{2} \frac{v_0^2}{g^2} = \frac{v_0^2}{2g}$$

$$h = \frac{g T^2}{2g} = \frac{g T^2}{2}$$

$$x = v_0 \cos \alpha t$$

$$S = v_0 \cos \alpha t$$

$$\dot{x} = v_0 \cos \alpha$$

$$y = v_0 \sin \alpha t - g t^2$$

$$v^2 = \dot{x}^2 + \dot{y}^2$$

$$H = v_0 \sin \alpha \frac{S}{v_0 \cos \alpha} - \frac{g}{2} \frac{S^2}{v_0^2 \cos^2 \alpha}$$